



让我们携手前行

RANG WOMEN



X I E S H O U Q I A N X I N G

初中生活如山间小溪

载着希望 乘着梦想

从远山涓涓而来

迎着初升的朝阳

迎着暴雨的洗礼

洒一路欢歌笑语

散一地困苦惆怅

向着心中的目标

迎难而上

不做无语的旁观者

不做无情的嘲讽者

无论何时何地


我们都与你一起前行

分享你的快乐


化解你的烦恼

为你的成长助力导航！

别把它攥手里。
勇敢放飞梦想！




梦想 ·




· 拼搏

坚持 ::



别人停下来你仍在走，
再慢的脚步也会冲在前头

:: 收获



湖南教育出版社

图书亮点

理念先进 方向引领

以最新课改理念为指导，通过精心设置的问题、习题，把培养学生的自学能力、探究意识、质疑精神，有机地融合在一起。

体例创新 科学严谨

结合各地教学差异，借鉴导学理念但不照搬，内容设置与教学环节同步，课时划分与教学进度同步，栏目设置与学生的认知规律同步。

剖析透彻 训练分层

突出课时规律总结，点明方法使用注意事项，授之以鱼更授之以渔；针对学生实际，习题分层设置，梯度明显，按需所取，因材施教。

课前导引区

【课前预习】

丰盈经典的助学链接
明晰准确的知识梳理

重点栏目介绍

课堂研讨区

【课堂探究】

整体感知宏观把握文本
局部揣摩微观深钻细研

演练检测区

【课堂训练】

随堂即时 温故而知新
迁移提升 触类而旁通

能力提升区

【课后提升】

巩固基础 提升能力
掌握技巧 赢得高分



目录

CONTENTS



第六章 认识大洲

第一节 亚洲及欧洲	1
第 1 课时	1
第 2 课时	4
第二节 非洲	9
第 1 课时	9
第 2 课时	12
第三节 美洲	16
第 1 课时	16
第 2 课时	19
章末整合	23
第六章 基础巩固与训练	25

第七章 了解地区

第一节 东南亚	28
第 1 课时	28
第 2 课时	32
第二节 南亚	35
第三节 西亚	41
第 1 课时	41
第 2 课时	44
第四节 欧洲西部	48





目录

CONTENTS

第五节 北极地区和南极地区	53
章末整合	57
第七章 基础巩固与训练	59
综合训练一 第六章和第七章	62

第八章 走近国家

第一节 日本	66
第 1 课时	66
第 2 课时	70
第二节 埃及	73
第三节 俄罗斯	76
第四节 法国	81
第五节 美国	84
第 1 课时	84
第 2 课时	88
第六节 巴西	93
第七节 澳大利亚	97
章末整合	102
第八章 基础巩固与训练	104
综合训练二 第六章至第八章	108
参考答案	111





第一节 亚洲及欧洲

第 1 课时

课时目标

1. 能结合地图描述亚洲及欧洲的半球位置、纬度位置和海陆位置。
2. 通过分析亚洲的地形特征,掌握分析大洲地形特征的方法,并在阅读、分析地图和材料的基础上,总结出欧洲地形的特点。
3. 通过认识标准时间和国际日期变更线,学会并掌握简单的时区计算和日期换算方法。



课前预习

一、“亚细亚”和“欧罗巴”

- 名称由来 { “①_____”意为“东方日出之地”
“②_____”意为“西方日落之地”
- 亚洲的地理位置 { 半球位置: 主要位于③_____半球和北半球
纬度位置: 北部深入北极圈内, 南部延伸到④_____以南。地跨寒、温、热三带, 大部分位于⑤_____带
海陆位置: 东、北、南三面分别濒临⑥_____、北冰洋和⑦_____, 西与欧洲相连, 西南与⑧_____为邻, 东北隔⑨_____海峡与北美洲相望
- 欧洲的地 理位置 { 纬度位置: 大部分位于⑩_____带, 小部分位于北寒带
海陆位置: 北、西、南三面分别濒临北冰洋、⑪_____洋、地中海, 东与亚洲相连, 南隔地中海与⑫_____洲相望

二、高原、山地为主的亚洲地形

- 地形类型: 以①_____为主, 约占全洲面积的②_____
- 海拔: 是除③_____洲以外平均海拔最高的大洲
- 地势起伏 { 地面起伏④_____, 高低悬殊, 既有世界陆地表面的最低点——⑤_____, 又有世界陆地表面的最高点——珠穆朗玛峰(8 844. 43 米)。地势中部⑥_____, 四周⑦_____
- 特色地形: 大陆东侧和东南侧有世界上规模最大、最典型的呈⑧_____排列的群岛

三、学会换算不同地点的时间

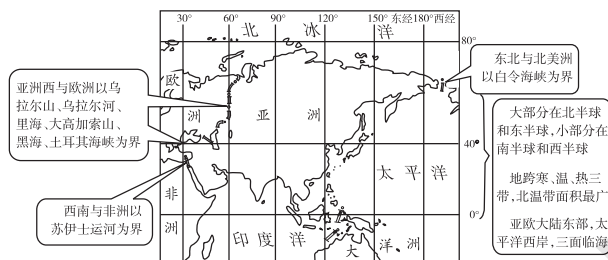
- 时区划分: 地球自转一周 360° , 经度每①_____划为一个时区, 全球共划分为②_____个时区
- 区时计算: 各时区中央经线上的地方时间, 即区时
相邻的时区时间相差③_____个小时, 时间东早西晚
- 国际日期变更线 { 大致与 180° 经线重合, 在国际日期变更线的东西两侧分别是④_____和⑤_____
自西向东越过国际日期变更线, 日期要⑥_____一天



课堂探究

探究一 如何描述大洲的地理位置

【问题探究】



亚洲的地理位置与分界线

阅读后, 请你用类似的方法描述欧洲的地理位置。

点拨: 描述一个大洲的地理位置: (1) 描述经纬度位置时, 应查找穿过此大洲最东和最西的经线、最南和最北的纬线。(2) 描述海陆位置时, 应查找此大洲濒临的大洋及相对位置、相邻的大洲及分界线。

【教材典图解读】

教材 P₂ 图 6-1 亚欧大陆轮廓

一个大洲的地理位置可以从半球位置、纬度位置和海陆位置来分析。

(1)半球位置:东、西半球的划分是以 20°W 和 160°E 组成的经线圈为界。20°W~0°~160°E 为东半球,160°E~180°~20°W 为西半球。亚洲主要位于东半球,小部分位于西半球。赤道是划分南、北半球的界线,赤道以北为北半球,赤道以南为南半球。

(2)纬度位置:南、北回归线之间为热带,北回归线与北极圈之间为北温带,北极圈以北为北寒带。亚洲北部深入到北极圈内,南部延伸到赤道以南,地跨寒、温、热三带,主要位于北温带。

(3)海陆位置:亚洲东、北、南三面分别濒临太平洋、北冰洋和印度洋;西与欧洲相连,其分界线为乌拉尔山脉—乌拉尔河—里海—大高加索山脉—黑海—土耳其海峡;西南与非洲为邻,以苏伊士运河为界;东北隔白令海峡与北美洲相望。

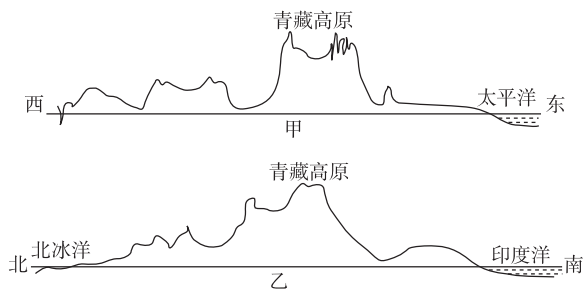
探究二 亚洲的地势特征

【问题探究】

1. 读教材图 6-3 亚洲和欧洲地形分布。根据分层设色地形图的颜色变化说明亚洲的地势特征。

2. 亚洲的高原和山地主要分布在哪里? 平原主要分布在哪里?

3. 图甲为亚洲大陆沿 30°N 线地形剖面示意图,图乙为亚洲大陆沿 80°E 线地形剖面示意图。据此分析亚洲的地势特征。



点拨: 阅读分层设色地形图是学习地形图的核心,首先要明确不同的颜色分别代表不同的地形类型;其次,在地图上找出主要的地形区,观察其分布位置和海拔,归纳地形地势的特征;还可以阅读亚洲东西方向、南北方向的地形剖面图,进一步验证已得出的亚洲地势特征的结论。

【典例研析】

(2018·大庆)亚洲的地势特点是 ()

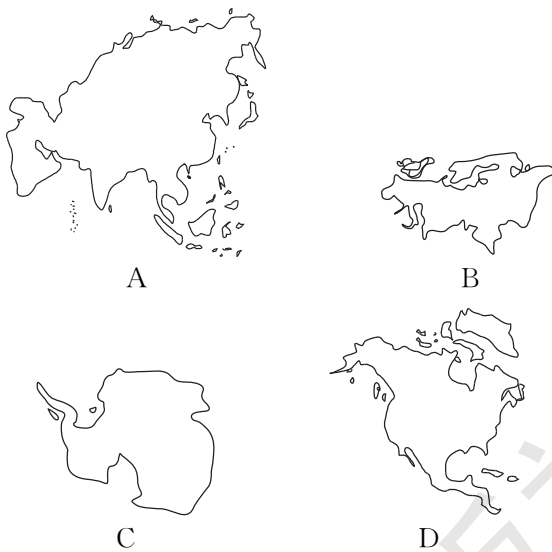
- A. 西高东低
- B. 东南高,西北低
- C. 中部高,四周低
- D. 东西高,中部低

答案: C

解析: 本题考查亚洲的地势特点。亚洲的地势中部高,四周低。

课堂训练

1. 意为“东方日出之地”的大洲是 ()



2. 下列关于亚洲地理位置的说法中,正确的是 ()

- A. 全部位于东半球和北半球
- B. 跨寒、温、热三带,主要位于热带
- C. 濒临三大洋,西与欧洲相连
- D. 东北隔白令海峡与南美洲相望

3. (2017·湘西)“亚洲珠穆朗玛峰和死海的相对高度达到 9 295.43 米。”这句话说明了亚洲地形的什么特征 ()

- A. 地形以高原、山地为主
- B. 地面起伏大,高低悬殊
- C. 地势中部高,四周低
- D. 地形复杂多样

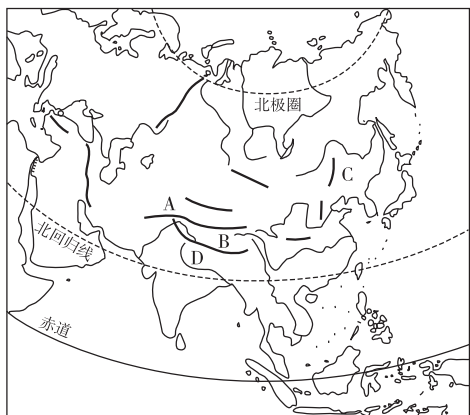
4. (2018·宜昌)第21届世界杯足球赛冠亚军决赛,于当地时间2018年7月15日18时在俄罗斯首都莫斯科(东三区)打响,中国球迷观看现场直播应选择在北京时间 ()

- A. 7月15日18时 B. 7月15日13时
C. 7月15日23时 D. 7月16日18时

5. (2018·赤峰)下列有关亚洲的说法,正确的是 ()

- A. 东临太平洋,西临大西洋
B. 跨纬度最广的大洲
C. 跨经度最广的大洲
D. 地势中部低,四周高

6. 读下图,回答下列问题。



(1)写出图中字母所代表的地理事物名称。

A _____ 高原 B _____ 高原 C _____ 平原

(2)D是_____山脉,主峰是_____,是世界最_____的山峰,号称“地球之巅”。

(3)亚洲的山脉以_____高原为中心,向四周延伸。平原多分布在_____。

(4)归纳亚洲地形地势的主要特征。

(5)根据图中的纬线,描述亚洲的纬度位置。

课后提升

一、单项选择题

1. “亚细亚”和“欧罗巴”的原意是 ()

- A. 东方、西方
B. “东方日出之地”、“西方日落之地”
C. 南方、北方
D. 东岸、西岸

2. 下列关于亚洲位置的叙述,正确的是 ()

- A. 东北以土耳其海峡与北美洲为界
B. 西南以苏伊士运河与欧洲为界
C. 主要位于北半球、东半球
D. 亚洲被太平洋、印度洋、大西洋和北冰洋包围

3. (2018·湘西)下列关于亚洲所跨温度带的叙述,正确的是 ()

- A. 跨热、温、寒三带
B. 跨热、温两带
C. 跨寒、温两带
D. 以上说法都不正确

4. (2018·益阳)下列关于亚洲的叙述,正确的是 ()

- A. 世界上跨纬度和经度最广,面积最大的大洲
B. 季风气候显著,温带大陆性气候分布广
C. 地势西高东低,大多数河流自西向东流
D. 湖泊众多,拥有世界上面积最大的淡水湖

5. (2018·福建改编)亚洲和非洲的分界线是 ()

- A. 白令海峡
B. 苏伊士运河
C. 巴拿马运河
D. 土耳其海峡

6. 下列有关欧洲的地理现象中,不属于冰川活动的是 ()

- A. 阿尔卑斯山脉挺拔的峰峦
B. 亚平宁山脉南部多火山
C. 东欧平原波状起伏的低丘
D. 挪威沿海幽深曲折的峡湾

7. (2017·聊城)右图中位于亚、欧两洲分界线上的山脉和湖泊有 ()

- A. 乌拉尔山脉、红海
- B. 乌拉尔山脉、里海
- C. 阿尔卑斯山脉、黑海
- D. 大高加索山脉、地中海



8. (2017·德州)2017年5月15日上午10时(北京时间),“一带一路”国际合作高峰论坛在北京开幕,纽约大学(西五区)的中国留学生收看电视直播的时间是 ()

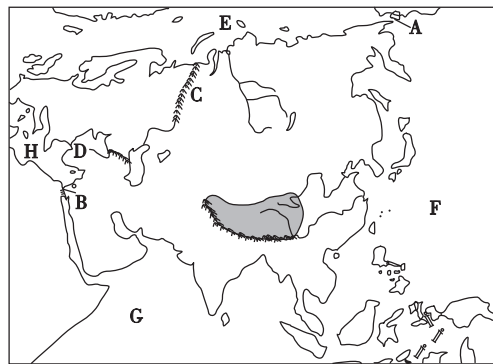
- A. 14日21时
- B. 14日23时
- C. 15日21时
- D. 15日23时

9. 下列关于日界线的叙述,正确的是 ()

- A. 就是指180°经线
- B. 与180°经线完全重合
- C. 自西向东穿越该线,日期要减去一天
- D. 自西向东穿越该线,日期要加上一天

二、综合题

10. 读亚洲图,回答下列问题。



(1)亚洲东北以 A _____ 海峡与北美洲为界,西南以 B _____ 运河与非洲为界。

(2)亚洲与欧洲的分界线是图中的 C _____ 山脉、乌拉尔河、里海、大高加索山脉、黑海、D _____ 海峡。

(3)写出图中字母代表的地理事物名称。

E _____ 洋 F _____ 洋
G _____ 洋 H _____ 海

第2课时



扫码观看
本节精彩微课

课时目标

- 根据亚洲和欧洲气候类型分布图分析、归纳亚洲气候类型复杂多样的表现及成因,学会分析欧洲的气候特点及成因。
- 了解亚洲和欧洲著名的河流和湖泊,学会分析亚洲和欧洲的地形、气候、水系之间的关系。
- 通过阅读亚洲和欧洲人口分布图,归纳亚洲和欧洲的人口分布特点及成因,初步树立科学的人口观。

课前预习

一、复杂多样的亚洲气候

复杂多样 { 亚洲面积广大,地跨① _____ 三带,除② _____ 气候外,其他主要气候类型都有分布
气候的大陆性特征显著:亚洲各地③ _____ 差异显著
东部和南部的季风气候典型:亚洲地处世界最大的大陆的东部,濒临世界最大的海洋,④ _____ 特别显著

二、大河众多的亚洲

水系特点 { 水系结构呈① _____,形成从中部高原山地流向周围海洋的外流水系
② _____ 流域面积广大
③ _____:长度和流量都居亚洲首位、世界第三位

主要河流 { 湄公河:在中国境内称澜沧江,是亚洲流经国家④ _____ 的一条国际河流
⑤ _____ 河和锡尔河:是世界著名的内流河

主要湖泊 { 世界上最深的淡水湖:⑥ _____
世界上面积最大的咸水湖:⑦ _____
世界上湖面海拔最低、含盐度很高的咸水湖:⑧ _____
一半咸水一半淡水的湖泊:巴尔喀什湖

三、亚洲的人口与国家

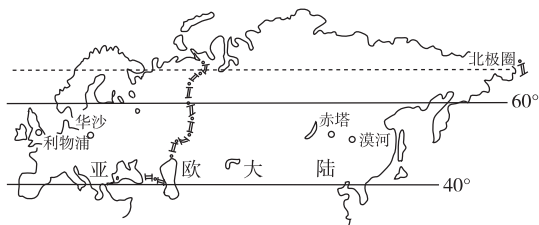
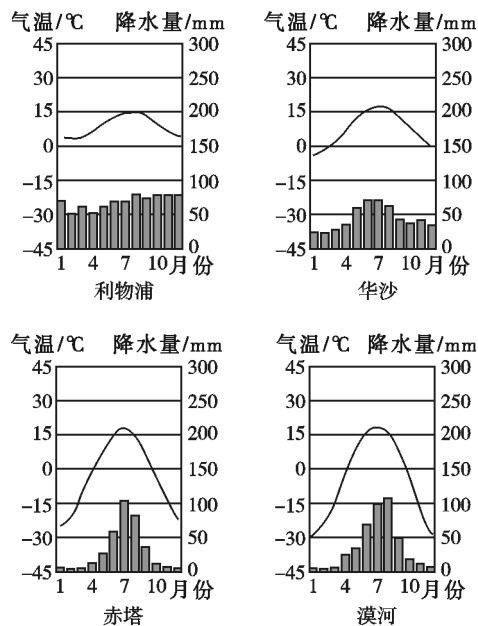
人口数量 { 总人口达43亿(2008年),约占世界总人口的63%,是世界上人口最多的大洲。世界上人口超过1亿的国家,大多数在① _____

人口分布 { 亚洲的② _____ 部和③ _____ 部、欧洲人口稠密
亚欧大陆④ _____ 和亚洲⑤ _____ 部人口稀疏

课堂探究

探究一 亚欧大陆同纬度地带气温和降水比较

【问题探究】



1. 读图分析,亚欧大陆同纬度地带,由西向东,气温的年较差有什么变化?

2. 读图分析,亚欧大陆同纬度地带,由沿海向内陆年降水量有什么变化?

3. 通过分析以上气温和降水的变化规律,你认为亚欧大陆同纬度地带由沿海向内陆,气候特征有什么变化?

拓展归纳 (1) 欧洲的气候特点

- ① 以温带气候类型为主。
- ② 气候的海洋性特征显著。
- ③ 温带海洋性气候、地中海气候分布典型。

(2) 成因

影响因素	形成原因
纬度因素	欧洲大部分地处 $40^{\circ}\text{N}\sim 60^{\circ}\text{N}$, 属于北温带
海陆分布	濒临大西洋, 受西风影响。大陆海岸线十分曲折, 各地距海近, 使海洋影响深入内陆
地形因素	中部为平原, 阿尔卑斯山脉东西延伸, 有利于大西洋上的暖湿气流深入内地
洋流因素	北大西洋暖流经过, 对沿岸地区的气候起到增温和增湿的作用

【典例研析】

(2017·株洲) 中南半岛和印度半岛是热带季风气候的主要分布地区。下列关于这两个地区夏季风的描述, 正确的是 ()

- A. 都盛行东南风
- B. 来源地都是太平洋
- C. 强度都很稳定
- D. 常造成水旱灾害

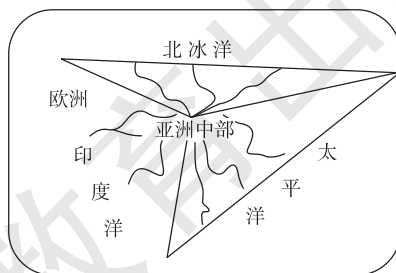
答案: D

解析: 本题主要考查热带季风气候的特点。热带季风气候降水季节分配不均, 常造成水旱灾害。

探究二 亚洲水系的特点与地形地势的关系

【问题探究】

1. 下图为亚洲主要河流发源示意简图。读图可知, 亚洲的大江大河分别流入哪几个大洋?



2. 从总体上看,亚洲水系的特点与地形地势有什么关系?

拓展归纳 欧洲的自然环境与水系特征

(1) 欧洲河流的水系特征: 河网稠密, 水流平缓; 河流短小, 水量丰富; 航运价值高。

(2) 欧洲的自然环境与水系特征的关系: 要根据河流受地形、气候、海陆位置和轮廓等因素的影响来分析欧洲河流的特点。受平原地形的影响, 欧洲河网密布, 水流平缓; 受海洋性气候的影响, 欧洲的河流水量丰富, 径流量季节变化小, 有利于航运; 欧洲多半岛、岛屿, 大陆轮廓支离破碎, 因此欧洲的河流短小, 绝大部分是外流河。

【典例研析】

(2018·沈阳) 亚洲的地势中部高, 四周低, 大河多发源于中部的高原、山地。受地形的影响, 大多数河流 ()

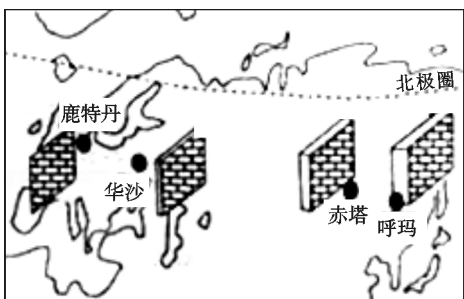
- A. 自北向南流向海洋
- B. 自东向西流向海洋
- C. 呈辐射状流向海洋
- D. 自南向北流向海洋

答案: C

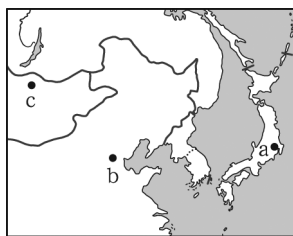
解析: 本题考查亚洲河流的流向。亚洲的河流受地势中部高、四周低的影响, 呈辐射状从中部的高原山地流向周围的海洋。

课堂训练

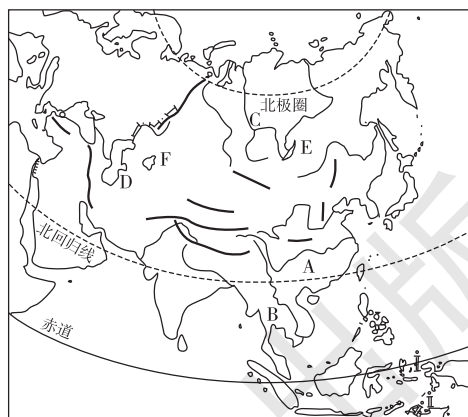
下面为亚洲和欧洲地区传统民居的墙体厚度示意图。据图回答 1~2 题。



1. 图中所示传统民居墙体厚度变化的原因是 ()
 - A. 经济的差异
 - B. 宗教信仰的差异
 - C. 气温的差异
 - D. 生活习惯的差异
2. 图中四个城市, 年降水量最多的是 ()
 - A. 鹿特丹
 - B. 华沙
 - C. 赤塔
 - D. 呼玛
3. 下图中三地的气候特征存在显著的差异, 最主要的原因是 ()



- A. 纬度位置和太阳辐射不同
 - B. 海陆位置不同
 - C. 地形条件不同
 - D. 植被状况不同
4. (2018·北碚区) 亚洲众多的河流呈辐射状流向周边的海洋, 其影响因素是 ()
 - A. 亚洲的气候
 - B. 亚洲的形状
 - C. 亚洲的人口
 - D. 亚洲的地势
 5. (2018·济南) 亚洲分布最广的气候类型是 ()
 - A. 温带大陆性气候
 - B. 热带雨林气候
 - C. 热带沙漠气候
 - D. 温带海洋性气候
 6. 读亚洲河流、湖泊分布图, 回答下列问题。



- (1) 写出图中字母代表的河流、湖泊名称。
 河流: A _____ B _____
 C _____
 湖泊: D _____ E _____
- (2) A、B、C 三条河流中, _____ 是亚洲最长的河流, _____ 流经国家最多, _____ 注入北冰洋。(填写字母)

(3) 亚洲中部最著名的两条内流河是_____河和_____河,它们最终注入F_____。

(4) 受地势的影响,亚洲的河流呈_____状向四周奔流入海。

课后提升

一、单项选择题

1. (2018·哈尔滨) 下列关于亚洲的叙述,错误的是 ()
- A. 世界上面积最大的大洲
B. 世界上人口最多的大洲
C. 地势中部低,四周高
D. 河流呈辐射状流向周边的海洋
2. 下列有关欧洲地理现象的叙述,正确的是 ()
- A. 东欧平原上波状起伏的低丘是冰川活动造成的
B. 欧洲一年四季降水分配均匀,气温差别显著
C. 欧洲河网密布,莱茵河是流经国家最多的国际性河流
D. 欧洲是除南极洲以外人口最少的大洲
- 读亚洲气候类型分布图,回答3~4题。



3. 亚洲的气候复杂多样,其中亚洲没有分布的气候类型是 ()
- A. 温带季风气候 B. 热带季风气候
C. 温带海洋性气候 D. 热带雨林气候
4. P大洲位于亚洲的西面,该大洲是 ()
- A. 非洲 B. 欧洲
C. 大洋洲 D. 北美洲
5. 下列有关亚洲的说法,正确的是 ()
- A. 拥有世界上面积最大的季风气候区
B. 是跨经度最广的大洲

C. 具备世界上所有的气候类型

D. 拥有世界上面积最大的热带草原

6. 下图中的阴影表示亚欧大陆的人口密集区。下列关于其分布的描述,正确的是 ()



- A. 都分布在中高纬度地区
B. 都分布在河流稀少的地方
C. 都分布在平原地区
D. 都分布在气候比较湿润的地区
7. (2018·黑龙江) 下列亚洲的河流中,注入印度洋的是 ()
- A. 长江 B. 印度河
C. 叶尼塞河 D. 湄公河

二、综合题

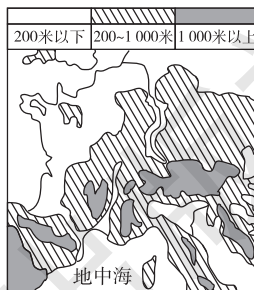
8. 某学校研究性学习小组收集了以下图文资料,来研究欧洲西部莱茵河的航运价值。请你帮助他们回答下列问题。

材料一 一般来说,河流的通航里程与河流总长度的比值,可以用来衡量河流通航能力的大小。莱茵河长1 320千米,通航里程为885千米。


材料二 图甲、乙、丙、丁分别为欧洲西部地区局部国家图、地形图、气候类型分布图和人口分布图。



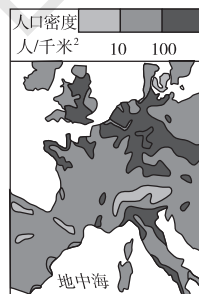
甲 欧洲西部国家图



乙 欧洲西部地形图



丙 欧洲西部气候类型分布图



丁 欧洲西部人口分布图

(1)从甲、丙两图可知,莱茵河流经地区气候的主要特征是_____。

受其影响,莱茵河的水文特征是_____。

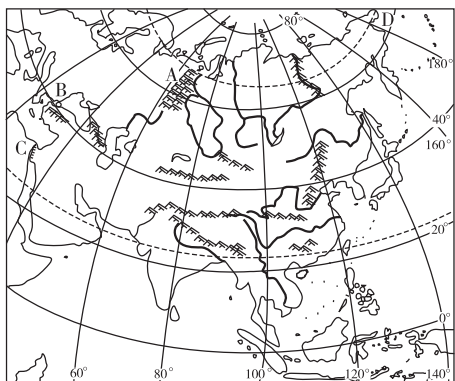
(2)从乙图可知,欧洲西部(莱茵河干流流经地区)的地形特点是_____。

受其影响,莱茵河的水文特征是_____。

(3)莱茵河流经国家多为_____ (填“发达”或“不发达”)国家,人口分布_____ (填“稠密”或“稀疏”)。

(4)结论:莱茵河的航运价值_____。

9. 亚洲是世界上面积最大、人口最多的大洲。读亚洲简图,回答问题。



(1)写出亚洲与其他大洲的分界线名称。

A _____ 山脉 B _____ 海峡

C _____ 运河 D _____ 海峡

(2)亚洲的地势特征是_____。

该特征对亚洲河流的影响是_____。

(3)亚洲东部、东南部地区主要分布着_____人种,亚洲南部、西部主要分布着_____人种。

(4)请简要分析亚洲东部和南部地区季风气候显著的原因。

(5)请你从地理位置方面分析亚洲西部人口稀疏的原因。



第二节 非洲

第 1 课时



扫码观看
本节精彩微课

课时目标

- 运用地图等资料描述非洲的地理位置,了解非洲政治地图的演变。
- 运用地形图,归纳非洲的地形特征和海陆轮廓特征,了解非洲极具特色的地形区。



课前预习

一、位置与国家

- 地理位置 { 纬度位置:地跨赤道南北
海陆位置:非洲东濒①____洋,西临②____洋,北隔地中海及直布罗陀海峡与欧洲相望,东北与亚洲之间隔着狭长的红海,并以③____为陆上分界
- 国家 { 到第二次世界大战前夕,非洲只有④____、埃塞俄比亚和⑤____ 3 个独立国家
目前,非洲共有 60 个国家和地区,是世界上国家和地区最多的大洲

二、高原为主的地形

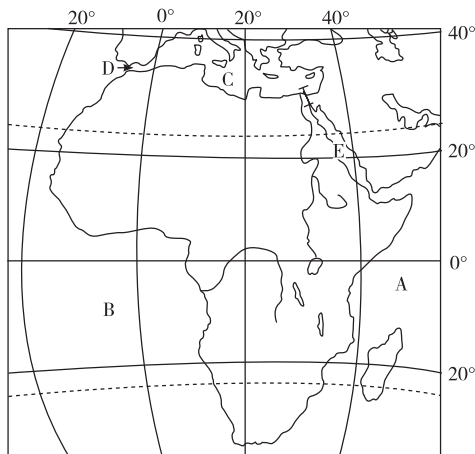
- 地形特征 { 非洲大陆高原面积广大,被称为“①____”
非洲的地势:②____高,③____低
“非洲屋脊”:④____
- 特色地形 { 非洲最高峰:⑤____
世界面积最大的盆地:⑥____
世界陆地上最大的断裂带:东非大裂谷
世界面积最大的沙漠:⑦____



课堂探究

探究一 非洲的地理位置

【问题探究】



1. 在图中描出 20°W 经线,描述非洲的经度位置。

2. 在图中描出赤道、北回归线、南回归线,描述非洲的纬度位置。

3. 写出图中各字母表示的地理事物名称,描述非洲的海陆位置。

点拨:非洲的经度位置决定了它所在的东、西半球,纬度位置决定了它所在的南、北半球;根据与非洲相邻的大洲、濒临的海洋,描述其海陆位置。

【典例研析】

(2018·衡阳)下列大洲中,被赤道、北回归线、南回归线同时穿过的大洲是 ()

- A. 非洲 B. 亚洲
C. 北美洲 D. 南美洲

答案:A

解析:本题考查大洲的纬度位置。由所学知识可知,赤道穿过非洲中部,南、北回归线分别穿过非洲南部和北部。故该题的正确选项是 A。

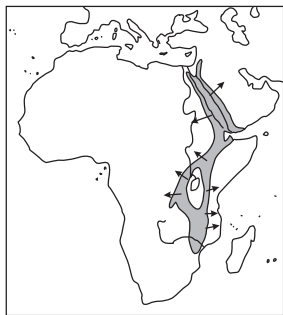
探究二 高原为主的地形

【问题探究】

1. 非洲为什么被称为“高原大陆”?地势有什么特点?

2. 非洲的海岸线有什么特点?

3. 根据板块构造学说并结合下图,说明东非大裂谷的成因。推断一下:数百万年之后,非洲会是什么样子? 红海会有什么变化?



东非大裂谷及扩张方向

拓展归纳 非洲之最与非洲的世界之最

非洲之最	名称	世界之最	名称
最大的岛屿	马达加斯加岛	最大的沙漠	撒哈拉沙漠
最大的海湾	几内亚湾	最长的河流	尼罗河
最大的半岛	索马里半岛	最大的盆地	刚果盆地
最大的湖泊	维多利亚湖	陆地最大的断裂带	东非大裂谷
最深的湖泊	坦噶尼喀湖	—	—
最高的山峰	乞力马扎罗山	—	—

【教材典图精析】

教材 P₁₄ 图 6-17 非洲地形分布

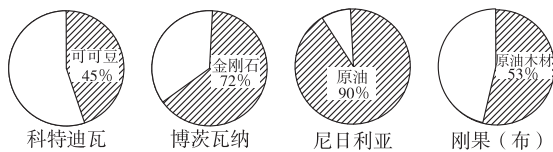
判读方法:第一步,读图名。这是一幅“非洲地形分布”图。第二步,读图例。图示左下角的“陆高与海深”称为高度表。读懂高度表,明确不同颜色表示的海拔不同。一般来说,绿色表示平原,蓝色表示海洋,不同深浅的黄色表示丘陵、高原、山地,白色表示雪线,褐色表示高山。第三步,读内容。一个大洲的地形特征可以从以下几个方面归纳:平均海拔、地形起伏状况、主要地形类型、地形分布格局和特色地形等。具体到本图的阅读,可按以下步骤进行分析:(1)观察海陆轮廓。与欧洲相比,非洲海岸线平直。这样的海陆轮廓往往缺少半岛、岛屿、海湾。(2)对照高度表找出非洲主要的地形类型和地形区。从图中可以看出,海拔在 500~1 000 米的高原所占比例较大,故非洲高原面积广大,被称为“高原大陆”。(3)读图判断非洲的地势特征。颜色较深部分主要分布在非洲的东南部,说明非洲的地势东南高,西北低。综上所述,非洲海岸线平直,地形以高原为主,地势东南高、西北低。

课堂训练

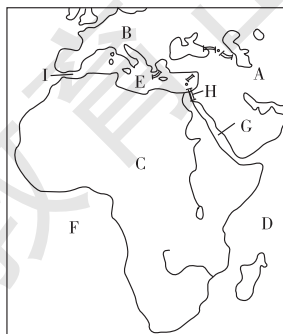
(2018·怀化)蒙内铁路是中国帮助东非国家肯尼亚修建的一条铁路,连接肯尼亚首都内罗毕和东非第一大港蒙巴萨港,于 2017 年 5 月 31 日建成通车。根据材料回答 1~2 题。

- 我国援建工程师在肯尼亚见到的当地居民以 _____ 人种为主。 ()
 A. 白色人种 B. 黑色人种
 C. 黄色人种 D. 混血人种
- 从蒙巴萨港开往中国的货轮最有可能装载的是 ()
 A. 稻米 B. 咖啡 C. 小麦 D. 苹果

(2017·莱芜)撒哈拉以南的非洲是充满希望的土地,近年来经济发展迅速。读部分国家主要出口商品示意图,回答 3~4 题。



- 四个国家共同的经济特点是 ()
 A. 以出口加工型经济为主
 B. 以出口初级产品为主
 C. 工矿业发达
 D. 农业发达
- 为促进当地经济与环境协调发展,下列措施合理的是 ()
 ①控制人口增长,提高人口素质 ②开垦草原,扩大耕地,解决食物短缺问题
 ③依托资源和劳动力,发展加工工业 ④保护生态环境,减轻自然灾害
 A. ①②③ B. ②③④
 C. ①③④ D. ①②④
- 下列关于非洲自然地理现象的说法,正确的是 ()
 A. 非洲最高的山峰是乞力马扎罗山
 B. 非洲的地势西北高,东南低
 C. 非洲的地形以平原、山地为主
 D. 非洲最长的河流为刚果河
- 读下图,回答下列问题。



(1)写出图中字母代表的大洲名称。

A _____ B _____ C _____

(2)写出图中字母代表的海洋名称。

D _____ E _____

F _____ G _____

(3)图中字母 H 表示 _____ 运河, I 表示 _____ 海峡。

课后提升

一、单项选择题

1. (2018·云南)下列地理事物中,不是位于非洲大陆的是 ()

- A. 乞力马扎罗山 B. 尼罗河
C. 阿尔卑斯山脉 D. 东非大裂谷


2. (2018·哈尔滨)下列关于非洲的叙述,错误的是 ()

- A. 高原大陆
B. 热带大陆
C. 以白色人种为主
D. 尼罗河是世界第一长河

3. (2018·长沙)央视记者在东非高原上拍摄到野生动物大规模越过赤道向北迁徙,根据热带草原气候的特点推断,该现象最有可能出现的月份是 ()

- A. 1—2月 B. 2—3月
C. 4—5月 D. 11—12月

4. 下面是世界四大河流长度比较图。据此判断,下列河流中流程最长的是 ()



- A. 亚马孙河 B. 长江
C. 尼罗河 D. 密西西比河

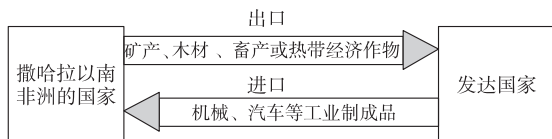
5. 非洲大陆有“高原大陆”之称,其东南部的高原自南向北排列,正确的是 ()

- A. 南非高原、埃塞俄比亚高原、东非高原
B. 南非高原、东非高原、埃塞俄比亚高原
C. 埃塞俄比亚高原、东非高原、南非高原
D. 东非高原、南非高原、埃塞俄比亚高原

6. 下列关于非洲世界之最的叙述,不正确的是 ()

- A. 世界上最长的河流——尼罗河,直接注入大西洋
B. 世界上面积最大的沙漠——撒哈拉沙漠
C. 陆地上最大的断裂带——东非大裂谷
D. 世界上面积最大的盆地——刚果盆地

7. 在国际经济秩序中,发达国家与发展中国家的经济合作并不是平等的。根据图中所示判断,下列说法正确的是 ()



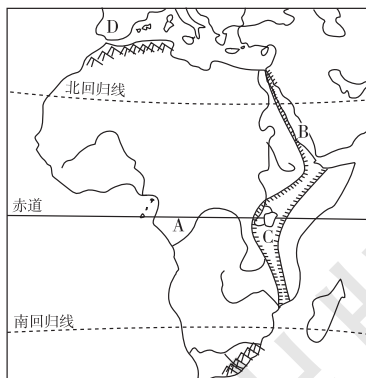
- A. 撒哈拉以南非洲的国家在国际贸易中处于有利地位
B. 发达国家主要出口工业制成品,价格高,赚的钱多,使富国更富
C. 撒哈拉以南非洲的国家大量出口矿产、农畜产品,经济发展水平高
D. 发展中国家和发达国家之间的政治、经济商谈被称为“南南合作”

8. 如图所示的茅草屋是撒哈拉以南非洲的典型民居,结构十分简陋;撒哈拉以南非洲国家的医疗卫生状况也非常糟糕。造成该地区经济发展水平低的根本原因是 ()



- A. 长期受殖民统治和掠夺
B. 教育水平高
C. 制造业发达
D. 生物资源丰富

下面是非洲地理轮廓图。读图,回答9~10题。



9. 下列关于图中地理事物的说法,不正确的是 ()

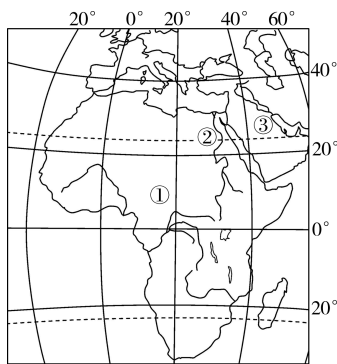
- A. A 河为刚果河,两次穿过赤道
B. B 水域为红海,位于欧洲与非洲之间
C. 非洲海岸线较平直
D. C 裂谷为东非大裂谷,是世界陆地上最长的裂谷带

10. 一艘小型油轮从 B 处沿最短线路到达 D 地,途经 ()

- A. 马六甲海峡 B. 好望角
C. 巴拿马运河 D. 苏伊士运河

二、综合题

11. 读图,回答下列问题。



- (1) 数码①代表的大洲是_____洲,该大洲西临_____洋。
- (2) 数码①代表的大洲气候类型南北对称分布的主要原因是_____。
- (3) 数码②代表的河流的流向大致是_____,该河流注入_____海。
- (4) 数码③代表的地区最丰富的能源矿产是_____。

第 2 课时



扫码观看
本节精彩微课

课时目标

1. 运用非洲 1 月平均气温、7 月平均气温、年降水量、气候类型等分布图,归纳非洲的气候特征,掌握阅读气温和年降水量分布图的方法,并了解非洲的气候与农业生产的关系。
2. 能简要分析尼罗河和刚果河流域的地形特征、气候特征、水系特征之间的相互关系。
3. 通过阅读、分析地图和文字资料,了解非洲丰饶的物产。

课前预习

一、炎热的气候

气候特征	气候普遍炎热,被称为“①_____”
	降水地区分布很不均衡,是世界上②_____面积最大的一个洲
气候与农业	气候类型以赤道为中心,③_____分布
	热带草原气候区:除发展④_____业外,水热条件较好的地方多已开垦为⑤_____
	热带沙漠气候区:灌溉农业分布在大河两岸的谷地和有水源的⑥_____
	地中海气候区适于栽培⑦_____、葡萄和油橄榄等

二、丰饶的资源

矿产资源	种类多,储量大。①_____、②_____、铬铁矿、磷酸盐等储量和产量都居世界前列
	动植物资源
动植物资源	桃花心木、檀木、花梨木等都是热带雨林地区的名贵树种
	非洲③_____动物的种类和数量均居世界各洲之冠

课堂探究

探究一 炎热的气候

【问题探究】

1. 非洲的气候类型分布有什么规律?

2. 为什么非洲成为世界上干旱区面积最大的一个洲?
3. 乞力马扎罗山位于赤道附近,为什么山顶却终年被积雪覆盖,成为“赤道雪峰”? 自然景观从山下至山顶发生了哪些变化?

点拨:一个地区的气候湿润或干旱,取决于该地区降水量的多少和蒸发量的大小。一般情况下,海拔高的地方,气温低。

【典例研析】

(2018·黑龙江)非洲分布最广的气候类型是 ()

- | | |
|-----------|-----------|
| A. 热带草原气候 | B. 热带雨林气候 |
| C. 地中海气候 | D. 热带沙漠气候 |

答案:A

解析:非洲的气候以赤道为中心,呈南北对称分布,以热带草原气候和热带沙漠气候为主。非洲分布最广的气候类型是热带草原气候。故选 A。

探究二 尼罗河与刚果河的比较

【问题探究】

一部名为《非洲大河恋》的影片介绍:非洲的水系主要由尼罗河(由赤道向北)和刚果河(中非)流域主宰,总计灌溉非洲近 1/4 的土地面积。

1. 比较尼罗河与刚果河的流向及注入的海域。河流的流向反映了非洲的地势特征是什么?

2. 刚果河河口年平均流量比尼罗河河口年平均流量大得多。根据地形、气候等因素,分析其主要原因。

点拨:非洲大陆由东南向西北倾斜的地势特征,决定其河流多向西、向北流入海洋。地区降水差异悬殊决定了非洲水系的分布格局。河流流经的地形区及气候区的不同会影响河流的水文特征。

拓展归纳

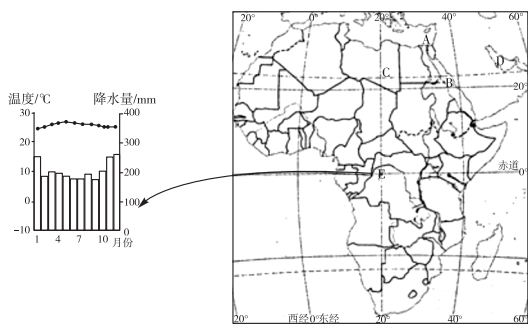
河流名称	流向	注入海域	流经的主要地形区	流经的主要气候区	支流数量	水位变化	河口年平均流量
尼罗河	自南向北	地中海	撒哈拉沙漠	热带草原气候、热带沙漠气候	少	大	小
刚果河	自东向西	大西洋	刚果盆地	热带雨林气候	多	小	大

【典例研析】

(2017·衡阳)读图文材料,回答下列问题。

材料一 近些年,中国企业在非洲大量修建铁路。至今,中国援建的非洲铁路硕果累累:如2016年10月,由我国承建并运营的非洲第一条现代电气化铁路亚吉铁路(埃塞俄比亚的首都亚的斯亚贝巴—吉布提港)正式通车;2017年6月,肯尼亚蒙内铁路(蒙巴萨港—首都内罗毕)正式通车。

材料二 非洲及西亚局部简图。



(1) A _____ 运河, B _____ 海, C _____ 沙漠。

(2) D 地区盛产的矿产资源是 _____, 盆地 E 属于 _____ 气候。

(3) 乞力马扎罗山位于赤道附近,由于 _____ 高,山顶终年被积雪覆盖,被称为“赤道雪峰”。

(4) 亚吉铁路的通车对埃塞俄比亚有何积极意义? _____。(至少答出一点)

(5) 马达加斯加岛上的一些动物古老而独特。请解释其原因。

答案:(1) 苏伊士 红 撒哈拉 (2) 石油 热带雨林 (3) 海拔 (4) 埃塞俄比亚是内陆国,亚吉铁路的通车使埃塞俄比亚有了出海口,可以带动埃塞俄比亚经济的发展 (5) 马达加斯加岛远离非洲大陆,海洋阻断其与非洲大陆的物种交流,导致生物进化缓慢,多古老而独特的动物

解析:本题考查非洲。第(1)题,据图可知,A位于非洲东北部,是苏伊士运河。B海位于非洲和亚洲之间,是红海。C是非洲最大的沙漠——撒哈拉沙漠。第(2)题,据图可知,D地区位于波斯湾,故石油资源丰富。E地位于赤道附近,为刚果盆地,属于热带雨林气候。第(3)题,乞力马扎罗山是非洲最高峰,由于海拔高,气温低,山顶终年被积雪覆盖,被称为“赤道雪峰”。第(4)题,埃塞俄比亚是内陆国,亚吉铁路的通车使埃塞俄比亚有了出海口,可以带动埃塞俄比亚经济的发展。第(5)题,马达加斯加岛远离非洲大陆,海洋阻断其与非洲大陆的物种交流,导致生物进化缓慢,多古老而独特的动物。

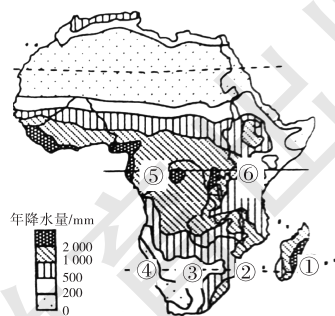
课堂训练

1. (2018·云南)下列关于非洲的叙述,错误的是

()

- A. 非洲大陆的海岸线平直
- B. 非洲是黑色人种的故乡
- C. 非洲被称为“热带大陆”
- D. 非洲与亚洲的分界线是巴拿马运河

读非洲部分地区年降水量分布图,回答2~3题。



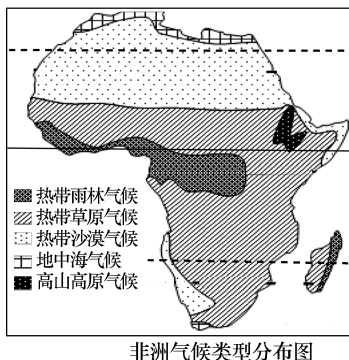
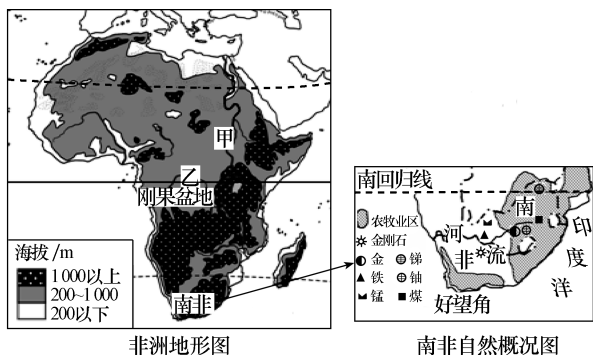
2. 图中①②③④四个地区中,年降水量最多的是

()

- A. ①地
- B. ②地
- C. ③地
- D. ④地

3. 图中⑥地与⑤地相比,年降水量较少的主要影响因素是 ()
- A. 纬度因素 B. 海陆因素
C. 地形因素 D. 人类活动
4. (2018·娄底)非洲生长着一种“复活草”,种子可以流浪数十年,只要有一丝水汽就可以生根,有一点微雨就可以快速生长、开花、结出种子。“复活草”最可能生长在哪个区域 ()
- A. 尼罗河三角洲 B. 刚果盆地
C. 东非高原 D. 撒哈拉沙漠
5. 下列关于非洲物产的叙述,不正确的是 ()
- A. 金刚石、黄金等矿产的储量和产量居世界前列
B. 大型野生动物的种类和数量居世界各洲之冠
C. 是咖啡、油棕等作物的原产地
D. 干旱区面积广,动植物资源比较贫乏
6. 读非洲地形图、南非自然概况图及非洲气候类型分布图,结合材料,完成下列问题。

材料 南非矿产资源丰富,是世界五大矿产资源国之一,也是非洲经济最发达的国家之一。



- (1) 读非洲气候类型分布图,非洲南北对称、东西延伸面积最大的气候类型是_____气候,而热带雨林气候没有沿赤道向东延伸到海岸的主要影响因素是_____。
- (2) 读非洲地形图和非洲气候类型分布图,甲、乙两河中,水量较大的河流是_____。从地形和气候两个方面说明理由:①_____;

②_____。

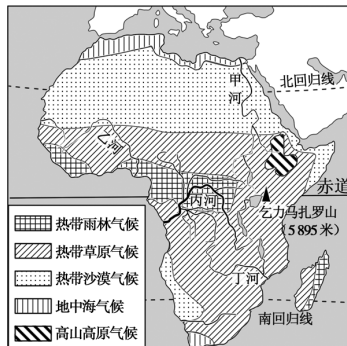
(3) 读非洲地形图,描述南非的海陆位置。

- (4) 读南非自然概况图,分析南非经济发展的有利条件:_____。
- (至少写出两点)

课后提升

一、单项选择题

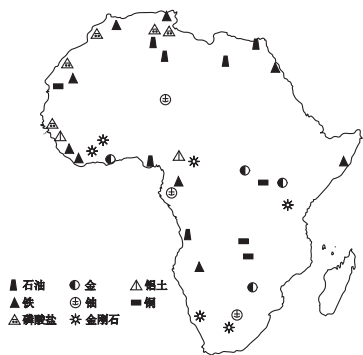
读非洲气候类型分布图,完成1~2题。



1. 下列关于非洲气候类型分布特点的描述,最恰当的是 ()
- A. 以赤道为中心,呈南北对称分布
B. 从大陆中心向沿海四周更替
C. 南北延伸,东西更替
D. 东西延伸,南北更替
2. 大多数河流的流量与流经地区的降水量密切相关。据此推断,图中四条河流中,流量最大的是 ()
- A. 甲河 B. 乙河
C. 丙河 D. 丁河
3. (2018·天津)内罗毕所在的撒哈拉以南非洲的人种多为 ()
- A. 白色人种 B. 黄色人种
C. 黑色人种 D. 棕色人种

4. 东山书院的小明从非洲旅游回来,向同学们描述的情景中,可能错误的是 ()
- A. 看到了犀牛、大象、长颈鹿等大量的野生动物
B. 在赤道地区看到了白雪皑皑的山顶
C. 非洲北部地区有一望无际的大草原
D. 在撒哈拉沙漠看到厚厚的泥墙,窗户很小的民居
5. (2018·潍坊)非洲热带草原上的动物周期性迁徙的主要原因是 ()
- A. 躲避天敌
B. 追逐水源和食物
C. 躲避炎热天气
D. 保护草原生态环境
6. (2018·潍坊)一般不参与大迁徙的非洲野生动物是 ()
- A. 斑马
B. 角马
C. 狮子
D. 大猩猩
7. 非洲东部近 30 年来,至少每平均 10 年会出现一次饥荒。最近一次是 2011 年,受灾人数多达 1 240 万。除了人为因素外,还与当地哪一气候的特征关系密切 ()
- A. 气候复杂
B. 全年炎热
C. 降水年际变化大
D. 降水地区分布不平衡

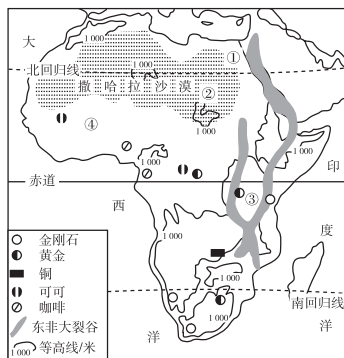
正确阅读地理事物的分布特征,并进行简要分析是地理学习的基本技能之一。如图所示大洲是世界上最贫困的地区。世界上每天生活费用低于 1 美元的人群中,该大洲人口的比重最大。目前,该大洲 30% 的人口被归为极度贫困人口,且贫困人口主要为农业人口。读该大洲矿产资源分布示意图,回答 8~9 题。



8. 该大洲是 ()
- A. 欧洲
B. 北美洲
C. 大洋洲
D. 非洲
9. 该大洲的石油资源主要分布在 ()
- A. 东部、西部沿海或近海地区
B. 西部、北部沿海或近海地区
C. 南部、北部沿海或近海地区
D. 中部、北部地区或近海地区

二、综合题

10. 【放眼世界】成非是中央电视台派往非洲的摄制组成员,他在与家人的电子邮件中提到了他们到过的四个地方(图中用数字①~④表示)。根据地图和资料,回答问题。



(1)“这里商船云集,是两个大洲的分界线,地理位置十分重要。”“这里”是指_____ (填写数字代号及名称)。

(2)图中照片拍摄的地点是_____ (用图中数字填空)。请用所学知识说明这里多火山、地震的原因。

(3)“湿季时,成群的狮子、斑马和长颈鹿在这里生活,远处的几棵猴面包树显得格格外高大;干季时,则是另一番景象。当地国家 90% 的外汇依靠出口咖啡、可可和仅有的几种矿产。”成非这段话描述的地点是_____ (用图中数字填空)。归纳该地区的经济特点:_____。

(4)成非在电子邮件中称非洲为“热带大陆”“高原大陆”“资源大陆”。请根据图中的信息加以说明。

(5)最后,成非写道:非洲大部分地区人民生活水平低下,粮食供应紧张,“人口、粮食、环境”三大问题普遍存在。请你利用所学的知识,给当地人提出几点对策或建议。



第三节 美洲

第 1 课时



扫码观看
本节精彩微课

课时目标

1. 运用地图等资料描述美洲的地理位置,了解“地理大发现”与“新大陆”的联系,了解北美洲、南美洲、拉丁美洲的界线和范围。
2. 运用地图,归纳南、北美洲的地形特征,并比较南、北美洲的地形差异,学会运用比较法了解地理事物的异同。



课前预习

一、“新大陆”

- 美洲的位置
 - 纬度位置:地跨五带中的北寒带、①_____、热带、南温带
 - 海陆位置:西临太平洋,东临大西洋,北临北冰洋,西北隔②_____海峡与亚洲相邻
- 白令海峡
 - 北冰洋与③_____之间的唯一通道
 - 白令海峡中部有“三线”穿过:④_____的洲界线、⑤_____的国界线、国际日期变更线
- 巴拿马运河
 - 位置:位于中美地峡南部
 - 交通地位:著名的国际航运水道
 - 意义:北美洲和南美洲的分界线,大大缩短了太平洋与大西洋之间的航程,具有重要的经济和战略意义
- 中美地峡
 - 范围:⑥_____以南、哥伦比亚以北的狭长陆地,又称中美洲
 - 地形:以高原和山地为主,多火山、地震
 - 经济:重要的经济部门是农业,主要种植⑦_____作物,香蕉的产量和出口量居世界重要地位
 - 国家、居民:包括巴拿马等 7 个国家,大部分居民为印欧混血人种
- 西印度群岛:在加勒比海和大西洋之间,⑧_____是其中最大的岛屿
- 国家和语言
 - 北美洲:主要包括加拿大和美国两国,通行⑨_____ ,加拿大有一部分居民讲法语
 - 拉丁美洲:指⑩_____以南的美洲地区,目前主要通行西班牙语和葡萄牙语

二、南北各异的自然环境

- 北美洲
 - 平均海拔较高,地势起伏①_____ ,地形分为三大南北纵列带:西部是高大的山系——科迪勒拉山系,中部是广阔的平原——②_____ ,东部是低缓的山地和高原——③_____ 山脉和拉布拉多高原
 - 世界第一大岛——④_____ 岛,是除南极洲以外冰川分布最广的地区
 - 苏必利尔湖等五大湖是世界上最大的淡水湖群,素有“北美地中海”之称
- 南美洲
 - 西部高大的山脉——⑤_____ (世界上最长的山脉)
 - 东部平原和高原相间分布——⑥_____ (世界上最大的平原)、⑦_____ (世界上最大的高原)



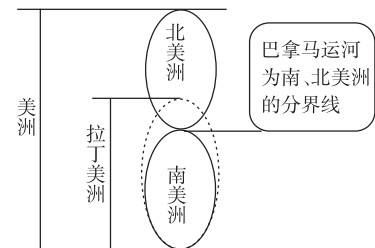
课堂探究

探究一 美洲的划分

【问题探究】

1. 南、北美洲的分界线是什么?
2. 拉丁美洲是指哪里? 北美与拉丁美洲的分界线在哪里?
3. 请描述北美和北美洲、拉丁美洲和南美洲的范围大小关系。

拓展归纳 北美洲和南美洲合称美洲，以巴拿马运河为界；拉丁美洲是指美国以南的美洲地区，包括南美洲、北美洲的墨西哥、中美地峡、西印度群岛；中美洲是指墨西哥以南、哥伦比亚以北的狭长陆地，又称中美地峡(如下图所示)。



【典例研析】

(2017·甘肃)下列关于北美洲地形的叙述,正确的是 ()

- A. 地势东西高,中部低
- B. 北美的地形以盆地为主
- C. 山地主要集中在东部
- D. 东高西低,呈阶梯状分布

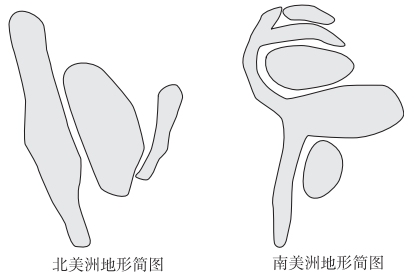
答案:A

解析:北美洲平均海拔高,地势起伏大;西部是高大的山系,中部是广阔的平原,东部是低缓的高地,其地势特点是东西高,中间低。故A正确。

探究二 南、北美洲的地形

【问题探究】

1. 观察玲玲、贝贝绘制的北美洲和南美洲地形简图,写出地形简图所表示的主要地形区名称。



2. 北美洲与南美洲的地形分布格局有哪些异同?

点拨: 绘制某大洲的地形简图,先要掌握该大洲的大陆轮廓特点,再找出该大洲的主要地形区,将这些地形区的基本轮廓用几何图形(如近圆形、梯形、三角形等)或概括图形绘出,要注意地形区之间的相对位置。

【教材典图精析】

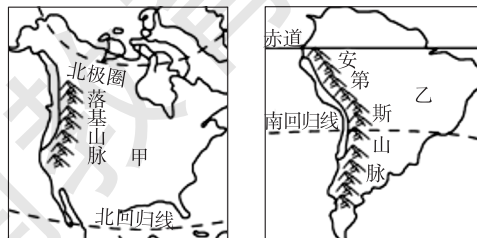
教材 P₂₃ 图 6-32 北美洲地形分布

图中左下方有高度表,不同颜色表示不同的海拔。一般绿色表示平原,蓝色表示海洋,不同深浅的黄色表示丘陵、高原、山地,白色表示雪线,褐色表示高山。具体读图,可按以下步骤进行分析:

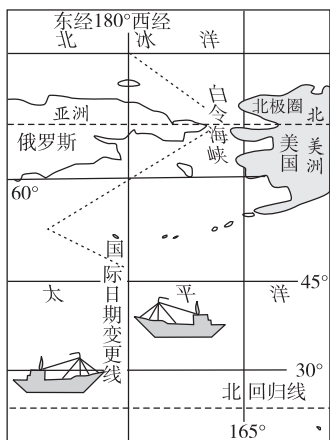
- (1) 根据图中的颜色判读地势起伏状况。北美洲大部分地区颜色较深,中部颜色较浅,说明平均海拔较高,地势起伏大。
- (2) 西部是高大的落基山脉,中部是大平原,东部是阿巴拉契亚山脉和拉布拉多高原。北美洲的地形分为南北纵列的三大地形区。
- (3) 格陵兰岛是世界第一大岛,是除南极洲以外冰川分布最广的地区。苏必利尔湖等五大湖是世界最大的淡水湖群。北美洲的地形特点是:平均海拔高,地势起伏较大;地形分为三大南北纵列带;冰川地貌广布。

课堂训练

1. (2018·海南)南回归线穿过的大洲是 ()
 - A. 非洲、大洋洲、南美洲
 - B. 亚洲、非洲、北美洲
 - C. 非洲、亚洲、南美洲
 - D. 欧洲、亚洲、北美洲
2. 读右图,关于下列区域范围的描述,正确的是 ()
 - A. 美洲地区由北美洲和拉丁美洲组成
 - B. 拉丁美洲是指巴拿马运河以南的美洲地区
 - C. 北美洲的一些地区也属于拉丁美洲
 - D. 南美洲的区域范围要远大于拉丁美洲
3. (2018·揭西模拟)除南极洲以外,冰川分布最广的地区是 ()
 - A. 马达加斯加岛
 - B. 格陵兰岛
 - C. 冰岛
 - D. 台湾岛
4. 据图判断,下列说法正确的是 ()



- A. 甲地区经济最发达的国家是加拿大
 - B. 乙地区为北美洲
 - C. 乙地区是人口自然增长率最高的地区
 - D. 甲、乙两地区的西部为科迪勒拉山系
5. 读图,回答下列问题。

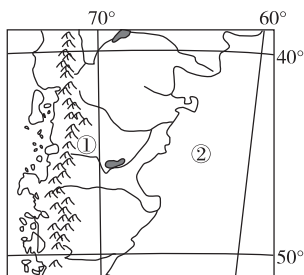


- (1) 白令海峡是_____与太平洋之间的唯一通道。
- (2) 白令海峡被“三线”穿越,“三线”分别为:
- ① _____;
 - ② _____;
 - ③ _____。
- (3) 麦哲伦船队环球航行返回西班牙时,船员的航海日记上写着“1522年9月5日”,而此时西班牙的日期却是1522年9月6日。这些船员至死也不明白怎么会丢失了一天。你能帮他们找回这一天吗?

课后提升

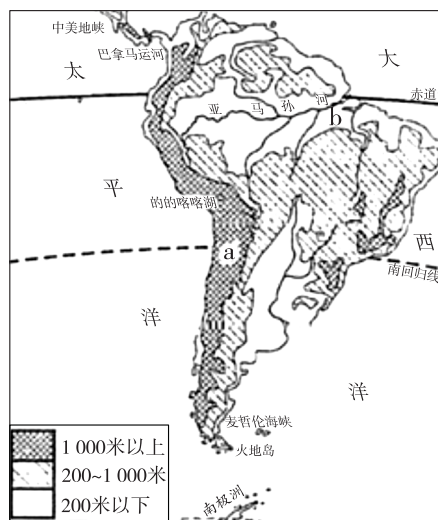
一、单项选择题

读图,回答1~2题。



1. 图中数码表示正确的是 ()
- A. ①安第斯山脉 ②太平洋
 - B. ①安第斯山脉 ②大西洋

- C. ①落基山脉 ②印度洋
 - D. ①落基山脉 ②北冰洋
2. 根据图示提供的哪种信息,能判断出该地区的地势是西高东低 ()
- A. 濒临的海洋
 - B. 山脉的走向
 - C. 曲折的海岸线
 - D. 河流的流向
3. (2017·永州)读某大洲地形图,下列叙述正确的是 ()

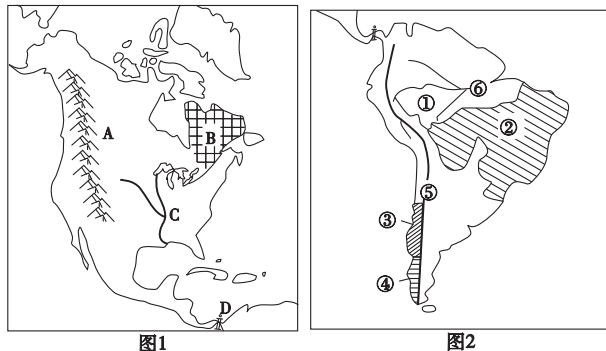


- A. 该大洲东临太平洋,西临大西洋
 - B. 该大洲大部分位于北温带
 - C. a地区的地形以山地为主
 - D. b地区的地形以高原为主
4. (2017·湘西)下列关于南、北美洲的比较,正确的是 ()
- A. 西部地区都分布有高大的山系
 - B. 两洲都有大面积的温带大陆性气候
 - C. 两洲的地形都呈现三大南北纵列带
 - D. 两大洲的气候都具有湿热的特点
5. (2018·黑龙江)世界上面积最大的淡水湖是 ()
- A. 贝加尔湖
 - B. 里海
 - C. 苏必利尔湖
 - D. 密歇根湖
6. 拉丁美洲通用的语言是 ()
- A. 法语
 - B. 英语
 - C. 西班牙语和葡萄牙语
 - D. 阿拉伯语
7. (2018·长沙改编)下列河流中,冬季有结冰现象的是 ()
- A. 长江
 - B. 密西西比河
 - C. 亚马孙河
 - D. 刚果河

8. (2018·莘县三模) 下列关于北美洲自然环境的叙述, 错误的是 ()
- 地跨热带、北温带和北寒带, 北临北冰洋, 西临太平洋, 东临大西洋
 - 地形分为三大南北纵列带, 地势北高南低
 - 苏必利尔湖是世界上面积最大的淡水湖
 - 中部平原对冷暖气流阻挡作用小, 密西西比河自北向南注入墨西哥湾

二、综合题

9. 读南、北美洲图, 回答下列问题。



- (1) 图 1 中字母 A 是_____山脉, B 是_____高原, D 是_____运河。字母 C 代表_____河, 该河流注入_____湾。
- (2) 由图中可以看出, 北美洲的地势特点是_____。
- (3) 图 2 中 ① 是_____ (地形区); ② 是_____ (地形区)。
- (4) 图中世界最长的山脉是_____, 图中数字的代号是_____。

第 2 课时



扫码观看
本节精彩微课

课时目标

- 运用地图, 归纳南、北美洲的气候特征, 并比较南、北美洲的气候差异, 学会运用比较法了解地理事物的异同。
- 运用地图, 分析地形对美洲气候的影响, 并进一步理解影响气候的主要因素。
- 运用气温、降水等相关资料, 学会判断气候类型。

课前预习

一、南北各异的自然环境

北美洲的气候	气候特征: 地跨寒、温、热三带, 气候类型复杂多样, 以①_____气候为主
	地形对气候的影响: 由于山脉多为南北走向, 来自太平洋的湿润空气仅能到达②_____地区。从北冰洋南下的冷空气和从③_____北上的暖空气在北美大陆中部畅行无阻
南美洲的气候	冬温夏凉, 降水充沛, 是世界上最④_____的大洲 气候类型以⑤_____气候和⑥_____气候为主

二、居民与经济

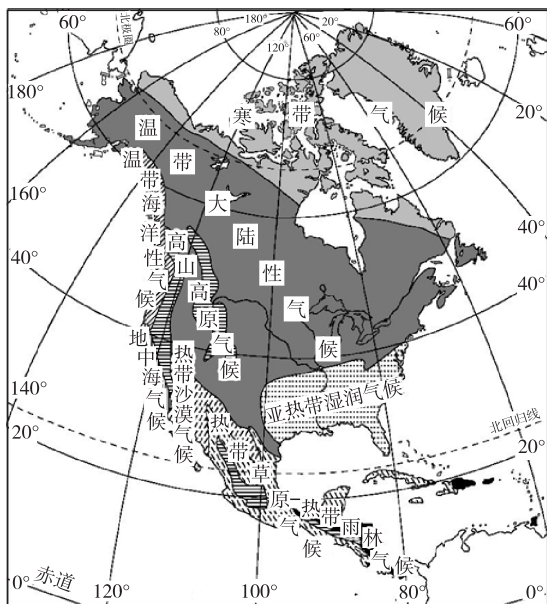
居民	原住民: 绝大部分是⑦_____人, 北冰洋沿岸有一部分是因纽特人, 他们都属于⑧_____人种
	北美洲: ⑨_____是世界典型的移民国家, 以⑩_____人种为主
	南美洲: 种族成分非常复杂, 号称“⑪_____”。由于不同人种之间长期通婚, 形成了混血人种
经济	北美: 美国、⑫_____两国都是发达国家
	墨西哥: 已形成以石油工业为支柱的工业体系, 是粮食作物——⑬_____的原产地, 首都墨西哥城是全国最大的政治、经济中心, 是世界特大城市之一
	拉丁美洲: 都属于发展中国家 ⑭_____是南美洲工农业最发达的国家 ⑮_____为重要的小麦出口国, 牛肉、羊毛等畜产品在国际市场上占有突出地位 农矿产品是主要的出口商品

课堂探究

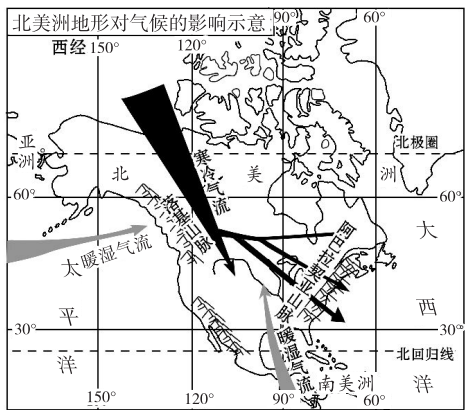
探究一 南、北美洲的气候

【问题探究】

1. 读北美洲气候类型分布图，北美洲的热带沙漠气候、地中海气候和温带海洋性气候在地区分布上有什么特点？想一想，这一分布特点主要与哪一因素有关？

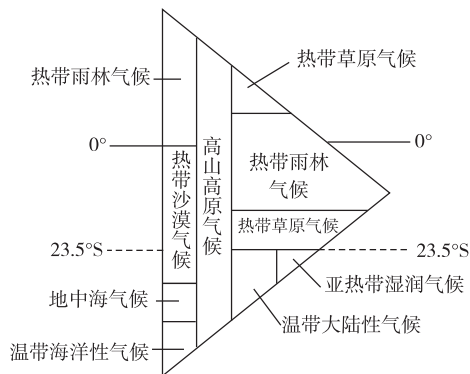


2. 读图，在北美洲中部，冬季寒冷气流可到达墨西哥湾沿岸；春夏季节，来自墨西哥湾的暖湿气流也能长驱北上，到达哈得孙湾附近。这些现象可能产生哪些影响？

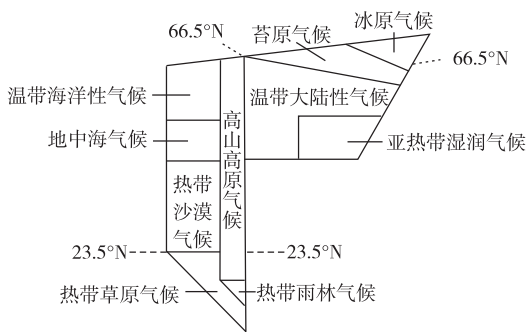


3. 为什么南美洲不少国家的首都和大城市建在高山、高原上？

拓展归纳 图解南、北美洲的气候类型分布



南美洲气候类型分布示意图

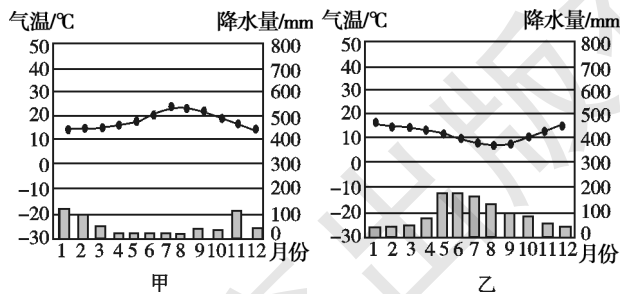


北美洲气候类型分布示意图

探究二 根据气候要素的统计资料判断气候类型

【问题探究】

读甲、乙两地的气温年变化曲线和逐月降水量柱状图，回答下列问题。



1. 根据最热月出现的月份，判断甲、乙两地所属的南、北半球。

2. 根据最冷月均温判断,甲、乙两地位于热带、亚热带、温带、寒带中的哪一个地带?

3. 结合气温、降水状况,归纳甲、乙两地的气候特征,进而判断所属的气候类型。

点拨:根据气候要素的统计资料判断气候类型的方法,一般分三步进行:

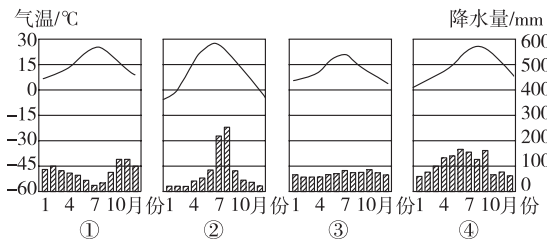
第一步,根据最热月出现的月份判断南、北半球。

第二步,根据最热月和最冷月平均气温判断热带、温带和寒带。最冷月平均气温高于 15°C ,一般为热带;最冷月平均气温高于 0°C ,一般为亚热带;最冷月平均气温低于 0°C ,最热月气温较高,一般为温带;最热月平均气温在 0°C 左右,一般为寒带。

第三步,根据降水多少及分配状况判断气候类型。

【典例研析】

(2017·呼和浩特)读气温年变化曲线和降水量柱状图,完成(1)~(2)题。



(1)图中气温和降水季节变化最小的气候类型是 ()

A. ① B. ② C. ③ D. ④

(2)图中欧洲西部和北美洲都有分布的气候类型是 ()

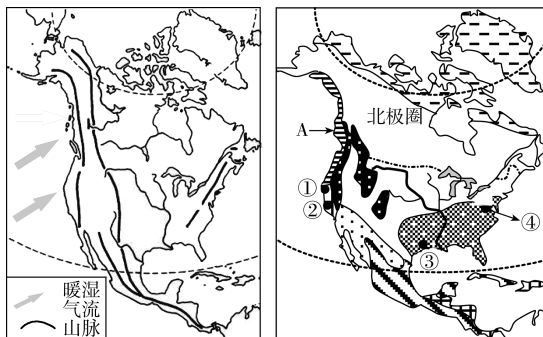
A. ①② B. ①③ C. ②④ D. ③④

答案:(1)C (2)B

解析:第(1)题,由气温年变化曲线和降水量柱状图可以看出,①②③④分别是地中海气候、温带季风气候、温带海洋性气候、亚热带季风气候,气温和降水季节变化最小的是温带海洋性气候。第(2)题,欧洲西部和北美洲都具有的气候是分布在大陆西岸的地中海气候和温带海洋性气候。

课堂训练

读北美洲地形分布图和北美洲气候类型分布图,完成1~3题。



1. 图中数码①②③④中,表示美国首都华盛顿的是 ()

A. ① B. ② C. ③ D. ④

2. 右图中A气候类型是 ()

A. 地中海气候 B. 温带海洋性气候
C. 热带沙漠气候 D. 温带大陆性气候

3. 图中A气候类型在太平洋沿岸呈南北狭长的带状分布,其主要原因是 ()

A. 远离大西洋
B. 地处北温带
C. 受山地的阻挡
D. 北冰洋的寒冷气流容易到达

4. (2018·昭平模拟)下列湖泊中,全部位于美国境内的是 ()

A. 苏必利尔湖 B. 伊利湖
C. 密歇根湖 D. 安大略湖

5. (2018·大庆)巴西最显著的人口特征是 ()

A. 以大和民族为主
B. 混血人种的数量多
C. 黑色人种的故乡
D. 世界第一人口大国

6. 图1是北美洲地形图,图2是北美洲气候类型分布图。读图,回答问题。

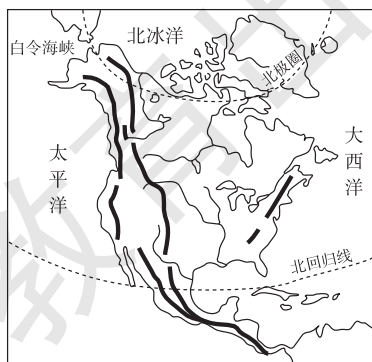


图1

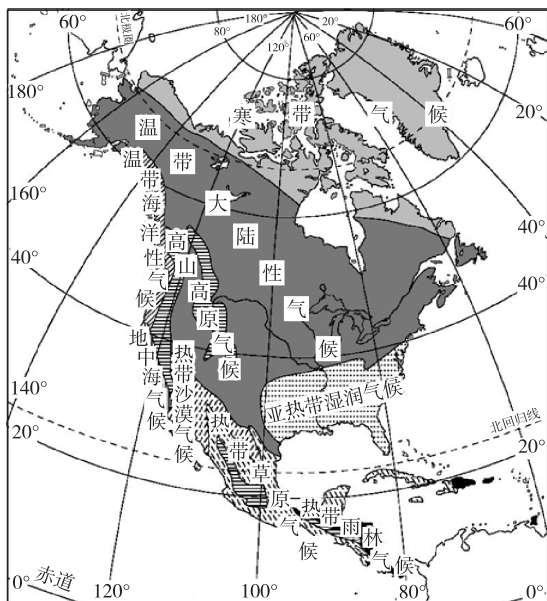


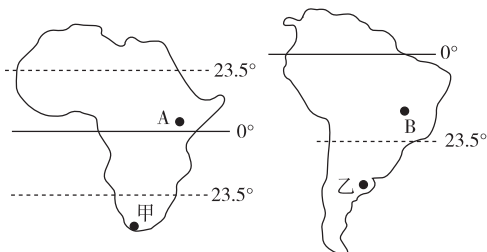
图2

- (1)北美洲大部分地区位于五带中的_____带。该洲东临_____洋,西北以_____海峡与亚洲为界。
- (2)北美洲的地形呈南北纵列分布,西部的地形类型主要是_____、高原,中部的地形类型主要是_____,东部主要是高原、山地。因此,其地势特点是_____。
- (3)北美洲分布最广的气候类型是_____。该洲大陆西岸温带海洋性气候分布狭窄,主要是受_____因素的影响。

课后提升

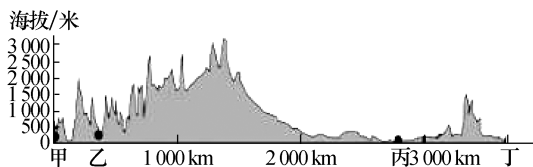
一、单项选择题

1. (2018·湘西)下列世界之最与所在的大洲搭配错误的是 ()
- A. 世界最高的高原青藏高原——亚洲
 B. 世界最大的群岛马来群岛——大洋洲
 C. 世界最大的裂谷东非大裂谷——非洲
 D. 世界最大的平原亚马孙平原——南美洲
2. 读图,下列叙述正确的是 ()



- A. 两个大陆的地形均以高原和平原为主
 B. A、B两地的热带草原景观完全一致

- C. 甲、乙两国均为发展中国家
 D. 两个大陆的居民均以黑色人种为主
3. 下图是北美洲沿35°N的地形剖面图,图上甲、乙、丙、丁四处中,降水量最少的是 ()



- A. 甲
 B. 乙
 C. 丙
 D. 丁
4. 小李同学学习《众多的河湖》一课时,在世界主要河流图中的亚马孙河旁边标注了“热带雨林气候”。从这一正确标注中可以看出,该河流具有的特点是 ()

- A. 河段长
 B. 水量大
 C. 流速快
 D. 含沙量大

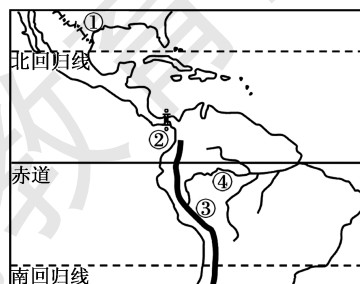
第31届夏季奥林匹克运动会于2016年8月5日至21日在巴西的里约热内卢举行。里约热内卢成为奥运史上首个主办奥运会的南美洲城市。阅读材料,结合所学知识,回答第5题。

5. 下列关于南美洲的叙述,正确的是 ()
- A. 亚马孙河是南美洲最长的河流,也是世界最长的河流
 B. 安第斯山脉是世界最长的山脉
 C. 巴西高原是世界最高的高原
 D. “炎热干燥”是南美洲的气候特征
6. (2018·峨山县校级模拟)巴西高原的气候类型是 ()

- A. 热带草原气候
 B. 热带雨林气候
 C. 热带季风气候
 D. 亚热带季风气候

7. (2018·甘州区校级模拟)拉丁美洲是指 ()
- A. 美国以南的美洲地区
 B. 巴拿马运河以南的美洲地区
 C. 墨西哥以南的美洲地区
 D. 巴拿马以南的美洲地区

8. 读美洲部分区域示意图并判断,下列说法正确的是 ()



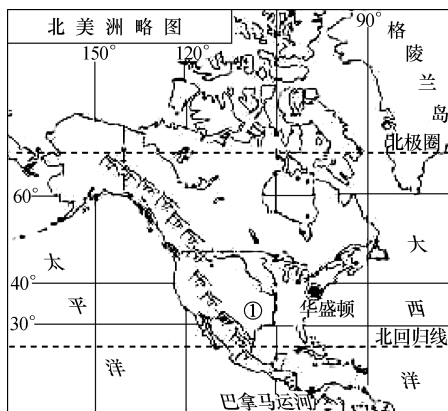
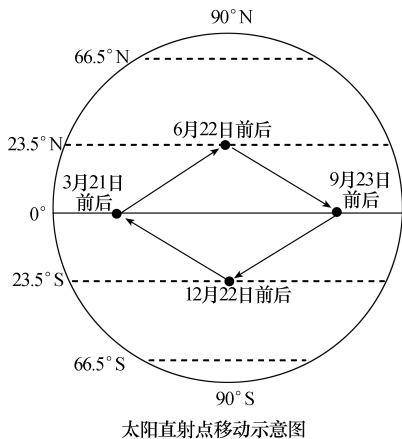
- A. ①国家是美国,该国的高新技术中心“硅谷”位于纽约
- B. ②界线是巴拿马运河,它是南、北美洲的分界线
- C. ③山脉是落基山脉,它是世界最长的山脉
- D. ④河流是尼罗河,它是世界第一大河

9. (2017·怀化)下列关于大洲地形的描述,错误的是 ()

- A. 亚洲地面起伏大,高低悬殊
- B. 南美洲的地形呈南北纵列分布的三个部分
- C. 非洲的地形以高原为主
- D. 欧洲的地形以平原为主,是世界平均海拔最低的大洲

二、综合题

10. 读图,完成下列问题。

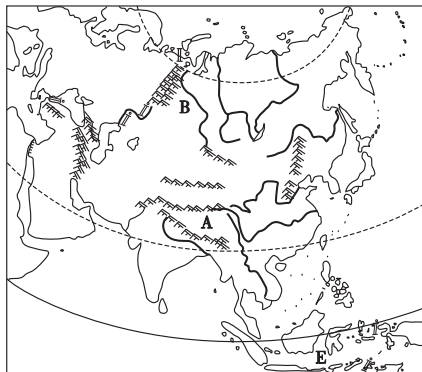


- (1) 太阳直射点总是在_____ (纬度范围)之间来回移动。夏至日,华盛顿的昼夜长短情况是_____。
- (2) 回归线与极圈之间____(填“有”或“无”)太阳直射现象,属于地球“五带”中的_____带。
- (3) 12月22日前后,格陵兰岛北部地区处在漫长的_____(填“极昼”或“极夜”)中。此时,①国的河流处于_____(汛期或枯水期)。
- (4) 习惯上,人们把_____运河作为划分南、北美洲的界线。①国是世界农业大国,生产区域_____化和机械化是其最突出的特点。

章末整合

图释地理

典图一 亚洲的地形与水系



1. 亚洲的地形特征

(1) 地形以高原、山地为主,平均海拔高。全洲平均海拔 950 米,是除南极洲以外平均海拔最高的大洲。

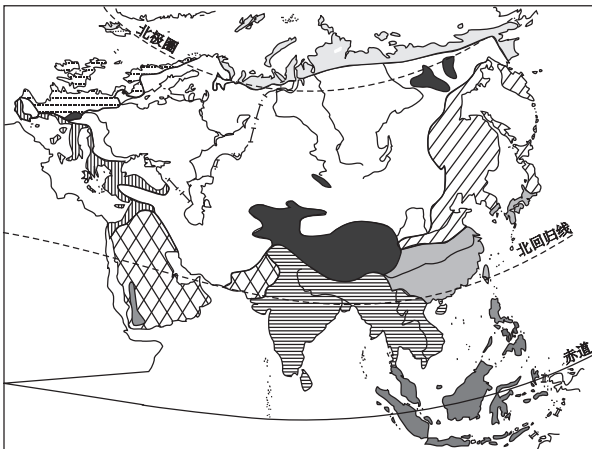
(2) 地面起伏大,高低悬殊。亚洲有世界上最高的高原 A 青藏高原,也有地势低平的平原 B 西西伯利亚平原。喜马拉雅山的主峰是珠穆朗玛峰,号称“地球之巅”;世界陆地表面最低处是死海。

(3) 地势中部高,四周低。

(4) 大陆东侧和东南侧有世界上规模最大、最典型的呈弧形排列的群岛,岛上地形崎岖,群岛外侧紧邻很深的海沟。这里的地壳不稳定,为环太平洋火山地震带的组成部分。

2. 地势决定河流的流向。同样,根据河流的流向也可以判断出某地的地势特点。受亚洲地势中部高、四周低的影响,亚洲的水系结构呈放射状,形成从中部高原山地流向周围海洋的外流水系。

典图二 亚洲气候类型分布

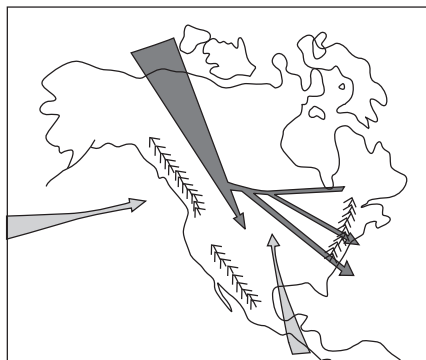


1. 各种世界气候类型中,亚洲只缺少**温带海洋性气候**。亚洲气候复杂多样的原因有:
 - (1)纬度位置:亚洲是跨**纬度**最广的大洲,地跨**寒、温、热**三带,南北气温差异大,气候复杂多样。
 - (2)经度位置:东西跨**经度**广,东西降水量差异大。
 - (3)海陆位置:东临**太平洋**,背靠亚欧大陆,**季风**气候显著。
2. 图解亚洲气候类型及分布

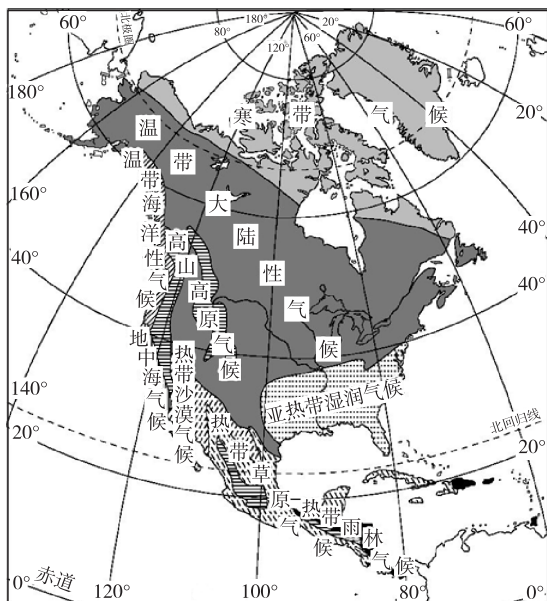


3. 亚洲几种特殊气候类型的记忆
分布面积最广的是**温带大陆性气候**;亚洲东部自南向北依次为**热带季风气候**、**亚热带季风气候**、**温带季风气候**;北冰洋沿岸为**苔原气候**;被赤道穿过的附近地区是**热带雨林气候**;地中海沿岸为**地中海气候**;北回归线自东向西依次穿过**亚热带季风气候**、**热带季风气候**、**热带沙漠气候**。

典图三 北美洲的地形对气候的影响



北美洲地形对气候的影响示意图



北美洲气候类型分布图

1. 北美洲的地理位置
 - (1)从纬度位置看,北美洲大部分地区位于地球五带中的**北温带**。
 - (2)从海陆位置看,北美洲东临**大西洋**,西临**太平洋**,北临**北冰洋**。
2. 北美洲的地形特征:西部是高大的山系,中部是广阔的平原,东部是低缓的山地和高原。
3. 北美洲的气候及影响因素
 - (1)北美洲的气候类型以**温带大陆性气候**为主。
 - (2)北美洲的地形对气候的影响

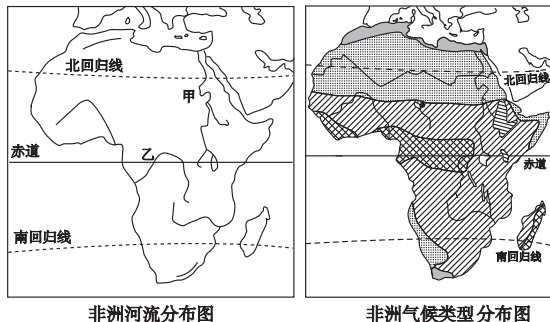
地形区	西部高山区	中部大平原	东部低缓的高原、山地
影响	对来自太平洋的湿润气流有明显的阻挡作用,西部迎风坡降水多,山间高原、盆地降水少	冬季极地寒冷空气长驱南下,夏季墨西哥湾暖湿气流顺利北上,气温年较差大	对大西洋湿润气流阻挡作用不明显,降水由沿海向内陆逐渐减少

第六章 基础巩固与训练

一、单项选择题

1. (2018·广安)下列关于亚洲的叙述,正确的是 ()
- A. 西南以直布罗陀海峡与北美洲为界
B. 亚洲人口超过1亿的国家有11个
C. 主要位于北半球、东半球
D. 老挝是靠石油资源获得高收入的国家

读非洲河流分布图和非洲气候类型分布图,回答2~3题。

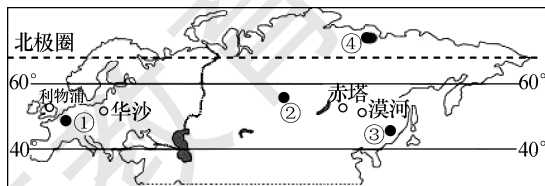


2. 下列关于非洲气候的叙述,正确的是 ()
- A. 以温带气候类型为主
B. 刚果盆地以热带沙漠气候为主
C. 东非高原以热带雨林气候为主
D. 气候类型大致呈南北对称分布
3. 对甲、乙两河的描述,正确的是 ()
- A. 甲河注入红海
B. 乙河是世界第一长河
C. 甲河主要发源于热带草原气候区,下游定期泛滥
D. 乙河流经热带雨林气候区,水量居世界第一位
4. (2018·孝感)我国某企业拟将一批通信设备通过海运从上海运送至非洲南端好望角,最短航线需经过 ()
- A. 土耳其海峡 B. 苏伊士运河
C. 马六甲海峡 D. 白令海峡
5. (2018·哈尔滨)夏季炎热干燥、冬季温和多雨的气候类型是 ()
- A. 温带季风气候 B. 温带海洋性气候
C. 地中海气候 D. 热带草原气候
6. (2018·湘西)亚洲的水系呈辐射状流入海洋,说明亚洲地势的特点是 ()
- A. 中部高,四周低 B. 四周高,中部低
C. 北高南低 D. 西高东低

瑞士的 Toblerone 巧克力设计灵感来自阿尔卑斯角峰。它有新颖的造型和极佳的口感,是很多“吃货”们的最爱。据此回答7~8题。



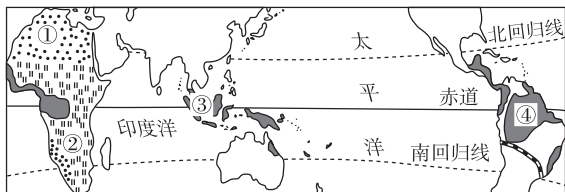
7. 阿尔卑斯角峰是哪种大自然力量作用的产物 ()
- A. 流水 B. 冰川
C. 风力 D. 海浪
8. 生产巧克力的主要原料是可可,它是一种热带经济作物。Toblerone 巧克力生产厂家所需要的可可豆最有可能来自 ()
- A. 欧洲 B. 亚洲
C. 北美洲 D. 南美洲
9. (2018·岳阳)下列关于协调撒哈拉以南非洲人地关系的建议,不可取的是 ()
- A. 控制人口数量,提高人口素质
B. 砍伐森林,开垦草原,扩大耕地面积
C. 发展粮食生产,解决食物短缺问题
D. 保持生态环境,减轻自然灾害
10. (2018·湘西)2018年5月14日,美国把驻以色列大使馆迁到三大宗教的“圣城”。三大宗教的“圣城”指的是 ()
- A. 巴格达 B. 耶路撒冷
C. 麦加 D. 开罗
11. (2018·湘西)西亚地区一直冲突不断。2018年6月4日,美英联军轰炸叙利亚。若想知道叙利亚的位置,应选择的地图是 ()
- A. 西亚气候图 B. 西亚地形图
C. 西亚政区图 D. 西亚人口密度图
- 读图并获取信息,回答12~13题。



12. 图中数码表示的阴影区域,人口稠密的是 ()
- A. ②③ B. ①③ C. ②④ D. ①④

13. 从利物浦→华沙→赤塔,降水量的变化 ()
 A. 逐渐减少 B. 逐渐增多
 C. 先少后多 D. 先多后少

读世界典型自然景观分布示意略图,结合有关知识,回答 14~15 题。



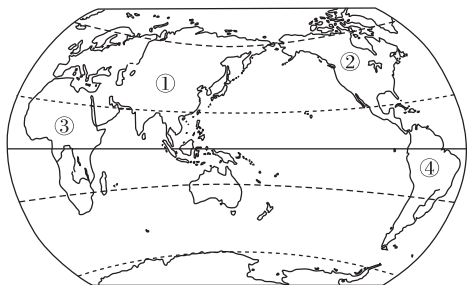
—— 拟议中的“两洋”铁路

14. 某旅游者在游记中写道:“烈日下,成群的斑马在草原上奔走,不远处有几只幼狮在母狮周围嬉戏。”该游记记述的地区可能在图中的哪个自然景观区 ()
 A. ① B. ② C. ③ D. ④
15. 2015 年 5 月,中国、巴西、秘鲁三方工作组启动了“两洋铁路”(连接巴西和秘鲁、大西洋和太平洋)可行性基础研究工作。拟议中的“两洋铁路”将穿越世界著名的 ()
 A. 喜马拉雅山脉 B. 落基山脉
 C. 安第斯山脉 D. 阿尔卑斯山脉

16. 下列关于非洲地形、地势特点的说法,正确的是 ()
 A. 非洲北部的撒哈拉沙漠,是世界上最大的沙漠
 B. 非洲的地势西北高,东南低
 C. 非洲西部有世界陆地最长的峡谷——东非裂谷带
 D. 非洲大陆山地面积广大
17. (2017·通辽)密西西比河流域,平原广阔,有利于发展 ()
 A. 农业 B. 服务业
 C. 工业 D. 旅游业

18. 下面是几位同学对美洲地理特征的描述,其中错误的是 ()
 A. 小明:人们在美洲大陆中部开凿了巴拿马运河,习惯上以它作为划分南、北美洲的界线
 B. 小玲:科迪勒拉山系纵贯美洲大陆西部
 C. 小兰:南美洲以温带大陆性气候为主,热带气候缺失
 D. 小华:经济发展不平衡,美国、加拿大为发达国家,其余均为发展中国家

读世界海陆分布图,回答 19~20 题。

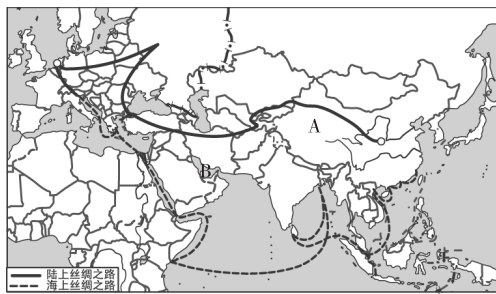


19. 图示序号代表的大洲与其气候特征对应错误的是 ()

- A. ①——气候复杂多样,季风气候显著
 B. ②——温带大陆性气候纵贯南北
 C. ③——气候类型南北对称分布
 D. ④——世界上最湿润的大洲
20. 下列关于各大洲之最的描述,正确的是 ()
 A. 大洲①有世界最大的珊瑚礁区
 B. 大洲②有世界最大的岛屿
 C. 大洲③有世界面积最大的平原
 D. 大洲④有世界最长的裂谷带

二、综合题

21. (2017·黄冈)“一带一路”是“丝绸之路经济带”和“21 世纪海上丝绸之路”的简称。“一带一路”是中国梦与世界梦的交会桥梁,也是中国与世界各国共同构建人类命运共同体的新长征。阅读下图,完成问题。



(1)字母 A 所在大洲的地势特点:_____。
 字母 B 所指的海湾是:_____。

(2)“一带”指的是“丝绸之路经济带”,主要是指从中国出发,经中亚、西亚、俄罗斯到达欧洲。它最初主要以运销中国出产的_____而闻名于世。某考察团从西安到杜伊斯堡,看到自然景观的变化是森林→草原→荒漠→_____→森林。

(3)“一路”指的是“21 世纪海上丝绸之路”。某同学将“21 世纪海上丝绸之路”设计成如下线路,请你帮助完成。中国沿海港口→太平洋→_____洋→阿拉伯海→_____海→苏伊士运河→地中海→欧洲西部。

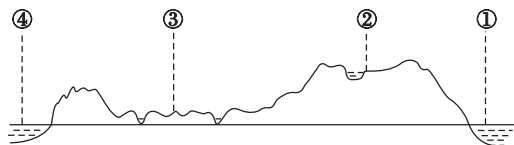
(4)欧洲西部大部分地区属于典型的_____气候。

(5)多年来, B 所在地区成为世界关注的热点地区,其主要原因有哪些? 请列举两条。

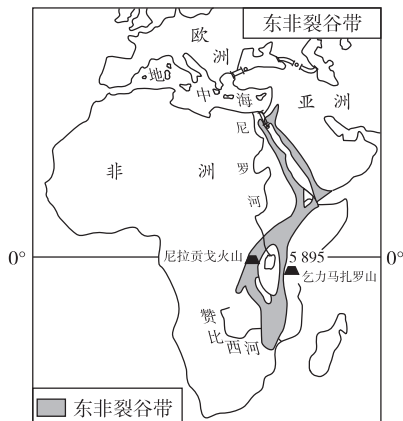
22. 阅读下列材料,回答问题。

材料一 某地理科考队对非洲大陆的地形、气候、热带草原区的农牧业生产和环境等方面进行了科学考察。

材料二 非洲沿赤道地形剖面图和东非裂谷带图。



非洲沿赤道地形剖面图



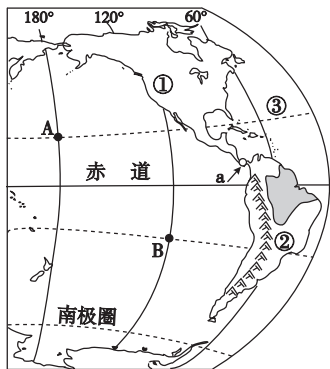
(1)读非洲沿赤道地形剖面图,写出图中数字序号代表的地理事物名称。

①_____洋 ②_____高原
③_____盆地 ④_____洋

(2)考察队员发现非洲裂谷带底部有狭长而深陷的谷地和湖泊,附近火山、地震活动频繁。该裂谷带的成因是_____。

(3)考察队员站在乞力马扎罗山山麓地带,测得海拔是1 000米,气温是20℃。该山顶部的的气温约为_____℃。

23. 读美洲地区图,回答下列问题。



(1)写出图中大洲及濒临的大洋的名称。

①_____洲 ②_____洲
③_____洋

(2)A、B两点按东西半球划分,都位于_____半球;按低、中、高纬度划分,都位于_____纬度地区。

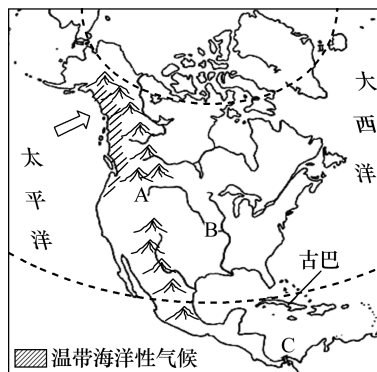
(3)图中①②两个大洲的分界线是a_____运河。

(4)美国以南的美洲地区,历史上长期受西班牙和葡萄牙的殖民统治,目前主要通用西班牙语和葡萄牙语。这两种语言都源于拉丁语,所以人们通常把美国以南的美洲地区称为_____洲。

24. 读图文材料,回答下列问题。

材料一 古巴当地时间2017年3月20日,奥巴马乘坐专机抵达古巴首都哈瓦那,开启“融冰”之旅。这是美国总统88年来首次访问这个隔海相望的近邻,访问时间持续3天。

材料二 北美洲简图。



(1)字母A是_____山脉,字母B是_____河,C处是_____运河。

(2)该大洲的居民主要使用的语言是_____,分布在北美五大湖附近的美国农业带是_____带。

(3)此次“融冰”之旅,美古两国首脑举行的会议可称为_____ (填“南南合作”或“南北对话”)。

(4)温带海洋性气候在太平洋沿岸分布狭长(如图所示),试分析其形成原因。

(5)美国和古巴在“融冰”之旅后,可在经济和文化方面加强哪些合作?



第一节 东南亚

第 1 课时

课时目标

1. 了解东南亚的范围、自然环境及其重要的地理位置。
2. 了解东南亚的气候特征及其对农业生产的影响。
3. 通过分析东南亚重要的位置,归纳并掌握马六甲海峡的重要运输地位。
4. 了解自然环境对人类生产生活的影响,树立人地协调发展的科学发展观。

课前预习

一、中南半岛与马来群岛

位置与范围	纬度位置:大部分位于①_____和 10°S 之间的热带地区
	海陆位置:位于亚洲的东南部,处在亚洲与②_____洲、印度洋与太平洋的“③_____”
自然环境	范围:包括中南半岛和④_____群岛的大部分
	地形:中南半岛的地势大致北高南低,地表形态为⑤_____、纵列分布;马来群岛地势崎岖,山岭很多,平原较少
	河流:中南半岛上的河流上游蕴藏着丰富的水力资源,下游形成⑥_____ ,是东南亚重要的农业地区;马来群岛的河流短小湍急
人口分布	气候:中南半岛大部分为⑦_____气候,每年 6 月到 10 月盛行西南风,为雨季;11 月到次年 5 月盛行东北风,为旱季;马来群岛大部分地区属于⑧_____气候,终年高温多雨,农作物可以随时播种,一年到头都有收获
	人口集中分布在大河的⑨_____、河口三角洲以及沿海地带,山区和岛屿上的热带雨林中人口稀少

二、马六甲海峡

位置及重要性	位于①_____半岛与②_____岛之间,沟通③_____洋与④_____洋的天然水道,也是联结欧洲、印度洋沿岸港口与⑤_____港口的重要航道
	呈西北宽、东南窄的喇叭形,大部分时间风平浪静。该海峡东南端的⑥_____港,是世界著名的海港

课堂探究

探究一 中南半岛与马来群岛的地形

【问题探究】

1. 为什么中南半岛会形成山河相间、纵列分布的地表形态?你认为用哪些方法可以判断中南半岛的地势特征?
2. 马来群岛多火山、地震。你能运用板块构造学说解释这里多火山、地震的原因吗?
3. 探究马来群岛中一些岛屿的火山口附近仍有很多人居住的原因。

点拨:通过分析中南半岛上山脉与河流分布的关系,总结其分布特点;火山、地震多发的地区,一般位于板块交界处,地壳比较活跃;火山喷发既能给人类带来灾难,又能为人类造福。

【教材典图精析】

教材 P₃₂ 图 7-1 东南亚地形分布

东南亚的范围:东南亚包括中南半岛和马来群岛的大部分。其中,中南半岛位于中国以南,马来群岛散布在太平洋和印度洋之间。

东南亚的纬度位置:东南亚的大部分地区位于 10°S~23.5°N 之间,地处热带。

东南亚的海陆位置:中南半岛东临南海,西临孟加拉湾;马来群岛东临太平洋,西临印度洋。

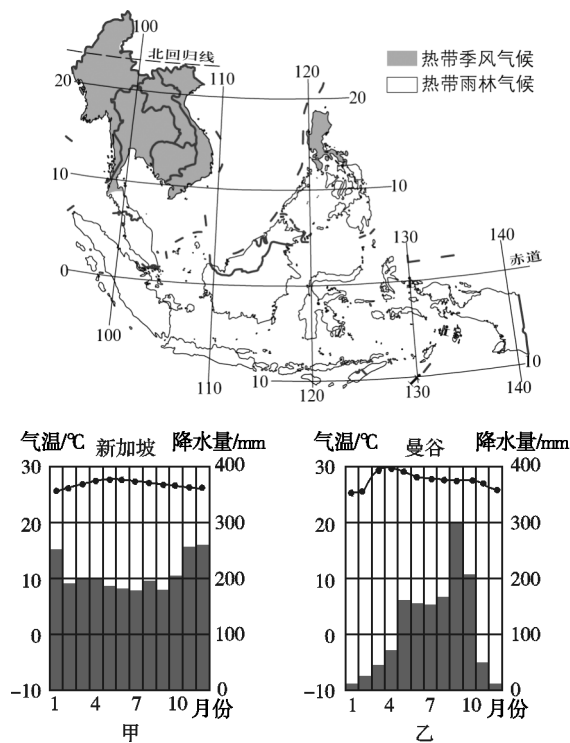
东南亚的相对位置:东南亚北连中国大陆,南邻大洋洲,处于亚洲与大洋洲、太平洋与印度洋的“十字路口”,交通位置十分重要。

中南半岛的地势与河流:在地形分布图中,中南半岛自北向南的颜色由深变浅,说明地势北高南低。河流顺地势自北向南流入海洋。中南半岛上的高山和大河由北向南延伸,形成山河相间、纵列分布的地表形态。

马来群岛的主要岛屿、地形与河流:新几内亚岛(伊里安岛)不全部属于亚洲(亚洲与大洋洲的分界线经过该岛),其他岛均属于亚洲。加里曼丹岛的地形以山地和丘陵为主,平原分布在沿海地区,河流短小湍急。

探究二 东南亚的两种热带气候

【问题探究】

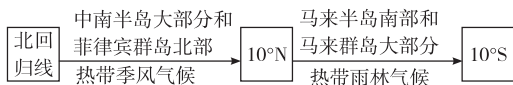


1. 热带雨林气候和热带季风气候各分布在哪里?

2. 比较热带雨林气候和热带季风气候的异同。

点拨:读东南亚气候类型分布图,根据气候类型的图例,查找两种热带气候的分布地区;从气温、降水两个方面比较热带雨林气候和热带季风气候的异同。

拓展归纳 东南亚热带季风气候和热带雨林气候的分布



【典例研析】

(2018·长沙)马六甲海峡是“海上丝绸之路”的重要通道,小明在此海峡的见闻不可信的是 ()

- A. 香蕉、椰子等热带水果味美而价廉
- B. 当地华人华侨众多
- C. 众多船只穿梭于大西洋和太平洋之间
- D. 当地午后多对流雨

答案:C

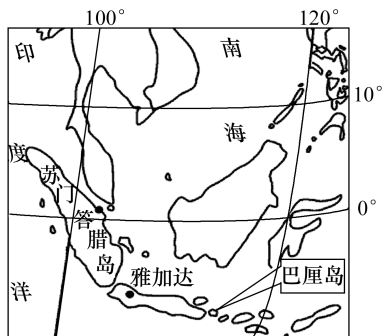
解析:马六甲海峡位于热带,当地多热带水果;马六甲海峡位于东南亚,该区域是著名的华人、华侨集中分布区;马六甲海峡位于苏门答腊岛与马来半岛之间,其西侧是印度洋,东侧是太平洋;马六甲海峡位于赤道附近,午后气温高,多对流雨。故选C。

课堂训练

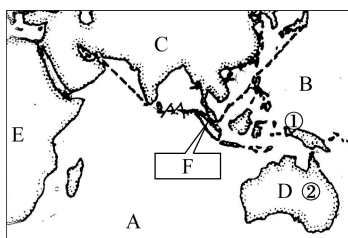
1. (2017·衡阳)下列关于东南亚中南半岛的描述,正确的是 ()

- A. 地形以平原、高原为主
- B. 大部分地区是热带雨林气候
- C. 地势大致南高北低
- D. 山河相间,纵列分布

读东南亚局部图,回答 2~3 题。



2. 苏门答腊岛地震活动频繁,原因是 ()
 - A. 处于欧亚板块和太平洋板块交界处
 - B. 台风活动多
 - C. 频繁的火山爆发
 - D. 处于欧亚板块和印度洋板块交界处
3. 巴厘岛的气候类型是 ()
 - A. 热带雨林气候
 - B. 热带季风气候
 - C. 热带草原气候
 - D. 亚热带湿润气候
4. (2018·天津) 马六甲海峡是“海上丝绸之路”的重要通道,它连接的两个大洋是 ()
 - A. 太平洋和印度洋
 - B. 太平洋和北冰洋
 - C. 北冰洋和印度洋
 - D. 大西洋和北冰洋
5. (2018·北京) 下列东南亚国家中,与我国接壤,但不临南海的是 ()
 - A. 菲律宾
 - B. 越南
 - C. 老挝
 - D. 马来西亚
6. 读图,完成下列问题。



- (1) 写出图中字母所代表的地理事物名称。
大洲: E _____ 洲、C _____ 洲、D _____ 洲。
大洋: A _____ 洋、B _____ 洋。
- (2) 大洲 C 的地形以 _____ 为主,中部有“世界屋脊”之称的 _____ 高原。
- (3) F 处是世界著名的 _____ 海峡,是沟通大洋 A 与大洋 B 的天然水道。
- (4) 图中虚线一带火山、地震活动频繁,主要原因是该地区位于欧亚板块、_____ 板块和 _____ 板块交界地带。图中①是有“火山国”之称的东南亚国家 _____。

- (5) 图中有世界上唯一独占一块大陆的国家② _____。该国矿产资源丰富,我国要进口该国的铁、煤等矿产资源,最适宜的运输方式是 _____。该运输方式与其他运输方式相比较,最大的优点是 _____。

课后提升

一、单项选择题

1. (2018·大庆) 马六甲海峡位于 ()
 - A. 欧洲西部
 - B. 西亚
 - C. 东南亚
 - D. 撒哈拉以南非洲
2. (2018·贵港) 东南亚旅游资源丰富。下列旅游景点位于新加坡的是 ()
 - A. 婆罗浮屠塔
 - B. 吴哥窟
 - C. 鱼尾狮公园
 - D. 水上市场
3. 从纬度位置看,东南亚大部分地区位于 ()
 - A. 北温带
 - B. 亚热带
 - C. 南温带
 - D. 热带
4. (2017·邵阳) 如下图所示的世界风景名胜,属于东南亚著名旅游景点的是 ()



A. 富士山



B. 罗浮宫



C. 天坛



D. 大金塔

5. “金三角”地区是目前世界上毒品的主要产地之一。结合下图判断,“金三角”地区所在地的气候类型是 ()

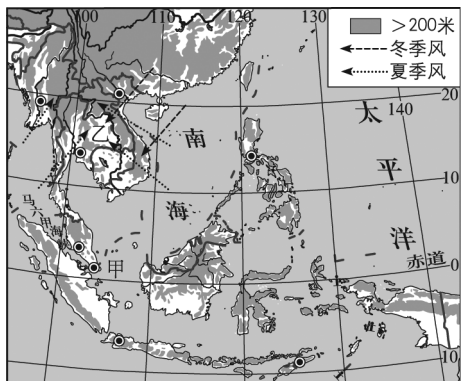


“金三角”地区图

- A. 热带季风气候 B. 热带雨林气候
C. 温带季风气候 D. 热带沙漠气候
6. 下列有关中南半岛的叙述,正确的是 ()
- A. 山河南北纵列分布,自西向东有伊洛瓦底江、湄南河、湄公河和萨尔温江
B. 河流都自北向南流,流入太平洋
C. 地处低纬度地区,属于热带雨林气候
D. 湄公河平原是重要的农业区
7. (2018·绥化)位于马来半岛和苏门答腊岛之间,被称为“海上生命线”的海峡是 ()
- A. 英吉利海峡 B. 马六甲海峡
C. 麦哲伦海峡 D. 霍尔木兹海峡
8. (2017·益阳)东南亚的城市大多分布在河流沿岸附近,其不利条件是 ()
- A. 临近河流,为城市提供水源
B. 城市位于河流沿岸,水运交通便利
C. 河流沿岸地势平坦,为城市提供建设用地
D. 丰水季节容易产生洪涝,对人民的生命与财产造成影响

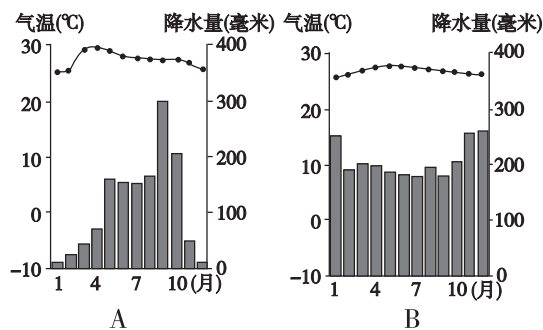
二、综合题

9. 下图为东南亚地形和城市分布图。读图,回答下列问题。



- (1) 东南亚包括 _____ 半岛和 _____ 群岛的大部分。
- (2) 图中城市分布的特点是沿 _____ 或沿河分布。
- (3) 甲国是新加坡,该国位于 _____ (特殊纬线) 附近、_____ 海峡的东端。
- (4) 乙半岛冬季盛行 _____ (风向) 季风,夏季盛行 _____ (风向) 季风和西南季风。

10. 读两类气候各月气温和降水量的分配图,回答下列问题。



- (1) A 图表示 _____ 气候,B 图表示 _____ 气候。
- (2) 东南亚地区,A 类气候主要分布在 _____, B 类气候主要分布在 _____。
- (3) A 类气候分布区内农作物多在 _____ 季播种, _____ 季收获; B 类气候分布区内农作物可以随时播种,一年到头都有收获。
- (4) B 类气候的特点是 _____。这类气候分布区内的降雨类型多是 _____ 雨。

第 2 课时



扫码观看
本节精彩微课

课时目标

1. 知道东南亚占世界前列的热带作物和矿产及其分布状况。
2. 了解东南亚国家和首都的分布,能举例说明河流对城市分布的影响。
3. 了解华人、华侨对东南亚的开发和繁荣所做出的巨大贡献。

课前预习

一、富饶的物产

经济作物:①_____、棕油、②_____、椰油、
③_____等的产量及出口量均居世界前列
主要粮食作物:④_____。泰国、越南、缅甸是
世界上重要的⑤_____出口国
矿产品:⑥_____、天然气和⑦_____在东南
亚的矿业中占据突出地位。印度尼西亚是重要
的⑧_____输出国,泰国、马来西亚等国的
⑨_____产量居世界前列

二、中国的近邻

国家 { 与中国大陆接壤的国家:缅甸、老挝和①_____
与中国隔海相望的国家:马来西亚、②_____
文莱、菲律宾

河流 { 湄公河在我国境内称为③_____,流经缅甸、
老挝、泰国、柬埔寨,在④_____注入南海
(属于太平洋)

居民 { 特点:东南亚是世界上⑤_____最集中的地
区。祖籍主要是⑥_____、福建两省
华人、华侨:他们中的多数人及其后代取得了
所在国的国籍,被称为⑦_____;还有少
数人保留了中国国籍,属于⑧_____

课堂探究

探究一 东南亚的农业生产

【问题探究】

1. 为什么东南亚能成为世界上重要的热带作物生产基地?

2. 东南亚成为世界主要稻米产区的原因有哪些?

规律总结 可以从气候、地形、劳动力状况、生活习惯等方面来分析东南亚成为世界主要稻米产区的原因。

【典例研析】

(2018·潍坊)中南半岛各国与中国经济联系密切,该地区大量输往中国的物产是 ()

- A. 石油、煤炭 B. 天然橡胶、棕油
C. 棉花、小麦 D. 先进机械、电子产品

答案:B

解析:东南亚绝大部分位于热带,是世界上天然橡胶、棕油、椰子、椰油和蕉麻的重要产地,出口量居世界前列。石油、天然气和锡资源较为丰富,大量出口。故该地区大量输往中国的物产是天然橡胶、棕油。故选 B。

探究二 中南半岛城市的分布

【问题探究】

读图,回答下列问题。



1. 写出字母所代表的城市名称,并分析中南半岛城市的分布规律。

2. 讨论城市分布在沿河地区的利与弊。

点拨:从图中明显可以看出,中南半岛的城市主要分布在河流沿岸和河口三角洲。城市沿河分布的有利条件可以从交通和水源等方面考虑,不利条件有水灾和污染河流等。

【教材典图精析】

教材 P₃₇ 图 7-8 东南亚国家和地区分布

东南亚的国家:东南亚有 11 个国家,位于中南半岛上的有缅甸、老挝、泰国、柬埔寨、越南、新加坡和马来西亚的一部分;位于马来群岛上的有印度尼西亚、菲律宾、文莱、东帝汶和马来西亚的另一部分。其中,面积最大的是印度尼西亚,唯一的内陆国是老挝。

中国的邻国:与中国大陆接壤的有越南、老挝、缅甸,与我国隔海相望的国家有菲律宾、印度尼西亚、文莱、马来西亚。

湄公河流经的国家:湄公河流经中国、缅甸、老挝、泰国、柬埔寨、越南等 6 个国家。

城市分布:中南半岛的大城市主要分布在河流沿岸和河口三角洲地区。例如,越南的首都河内位于红河沿岸,老挝的首都万象和柬埔寨的首都金边都位于湄公河沿岸,泰国的首都曼谷位于湄南河沿岸。

课堂训练

1. 东南亚的内陆国是 ()
- A. 泰国 B. 老挝
- C. 马来西亚 D. 越南

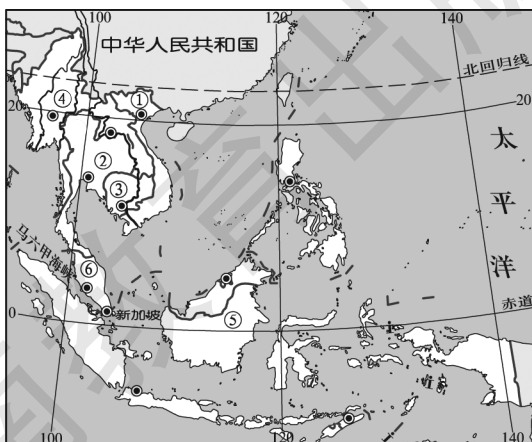
2. (2018·云南)下列关于中南半岛旅游资源丰富的叙述,错误的是 ()
- A. 迷人的热带风光
- B. 多姿多彩的民俗风情
- C. 壮阔的沙漠风光
- D. 极富宗教色彩的名胜古迹

为缓解东南亚部分国家的旱情,应越南方面请求,中国自 2016 年 3 月 15 日至 4 月 10 日,对湄公河下游实施应急补水。据此完成 3~4 题。

3. 除气候反常外,造成越南等东南亚部分国家出现严重旱情的原因主要是 ()
- A. 年降水量较小,且季节分配不均
- B. 年降水量丰富,主要集中在冬季
- C. 年降水量丰富,但季节分配不均
- D. 年降水量丰富,年蒸发量较大
4. 越南等国利用湄公河的河水灌溉的农田主要是 ()
- A. 麦田 B. 稻田
- C. 玉米田 D. 西瓜田

5. (2018·湘西)从古到今,很多中国人因经商避乱等原因走出国门,长期定居在国外,有些人还取得了所在国的国籍,这些人我们称之为华侨或华人。世界上海外华人最集中的地区是 ()
- A. 东亚 B. 东南亚
- C. 南亚 D. 西亚

6. 读东南亚图,回答下列各题。

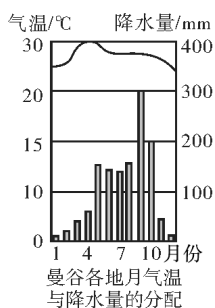


- (1) 东南亚的国家中,地跨南北半球的是_____ ,它也是东南亚面积最大、人口最多的国家,图中的代号是_____。
- (2) 世界上重要的稻米出口国有_____、_____、_____ ,其中_____、_____ 与我国陆地相邻。(填数字代号)
- (3) 被称为“花园城市”的是_____。
- (4) 重要的石油出口国是_____ ,锡产量居世界第一位的是_____。(填数字代号)
- (5) 贝贝的爸爸去东南亚唯一的内陆国出差,请你告诉贝贝,他爸爸出差国家的名称是_____。

课后提升

一、单项选择题

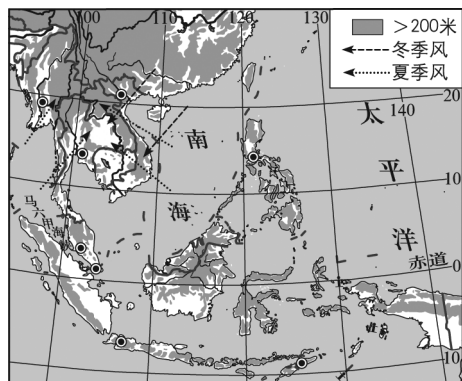
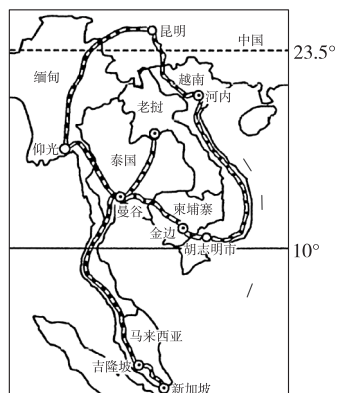
读图,回答1~2题。



- 根据资料判断,曼谷的气候类型是 ()
 - 热带雨林气候
 - 热带季风气候
 - 亚热带季风气候
 - 地中海气候
- (2018·齐齐哈尔) 东南亚的华人、华侨多来自我国的 ()
 - 粤、闽
 - 桂、琼
 - 台、蜀
 - 皖、浙
- 下列关于东南亚的叙述,正确的是 ()
 - 东南亚的稻米产量大,但人口众多,稻米出口量少
 - 东南亚的经济以初级产品输出为主
 - 东南亚大部分国家经济发达
 - 东南亚各国以“进口—加工—出口”为主要经济模式
- (2018·潍坊改编) 中南半岛的地势特征是 ()
 - 中部高,四周低
 - 地势平坦
 - 北部高,南部低
 - 东北高,西南低

5. (2018·潍坊改编) 中南半岛上大城市的分布规律是 ()
- 沿海岸线分布
 - 沿河流分布
 - 沿矿产资源分布
 - 沿国境线分布

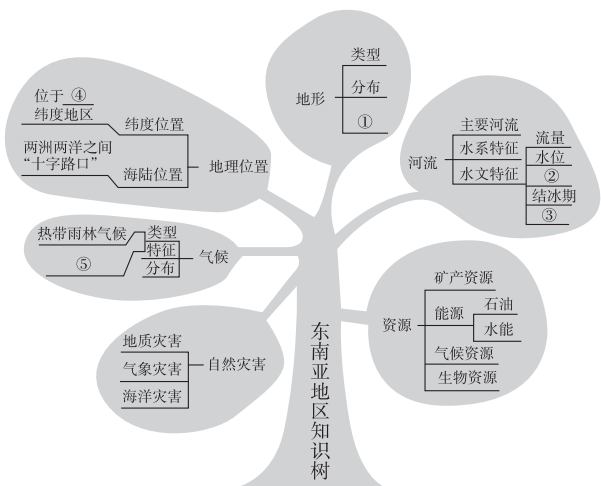
东南亚铁路线是泛亚铁路的一部分。读东南亚铁路线规划图和东南亚地形图,完成6~7题。



- 东南亚铁路线主要位于中南半岛上,半岛北部地区铁路建设的主要困难是 ()
 - 狂风暴雪,严寒冰冻
 - 高寒冻土,气候恶劣
 - 气候炎热,沙漠侵袭
 - 地形复杂,山高谷深
- 东南亚铁路建成后,通过该铁路运输出口到中国的物资是 ()
 - 羊毛、大豆
 - 天然橡胶、椰子
 - 玉米、香蕉
 - 棉花、苹果
- 上海一个经贸代表团赴东南亚的印度尼西亚开展商贸活动。活动期间,代表团成员可在该国看到的自然或人文现象是 ()
 - ①午后电闪雷鸣,大雨倾盆
 - ②饭桌上以大米为主食
 - ③泰姬陵和吴哥窟
 - ④众多的华人和华侨
 - ①②③
 - ②③④
 - ①③④
 - ①②④

二、综合题

9. 下图为贝贝所画的东南亚示意图, 根据你对区域地理知识的了解, 将图中①②③④⑤所代表的内容补充完整。



- ① _____ ② _____ ③ _____
④ _____ ⑤ _____



第二节 南亚



扫码观看
本节精彩微课

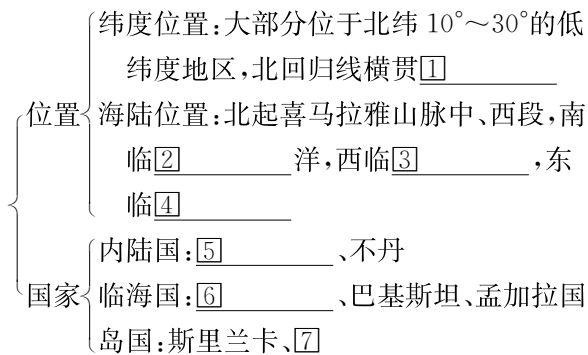
课时目标

1. 知道南亚的地理位置和范围, 能在地图上填出南亚的国家和主要城市。
2. 掌握南亚三大地形区的分布, 能分析地形与河流分布的关系。
3. 了解南亚热带季风气候的特点, 能分析西南季风对农业的影响。
4. 知道南亚是人类古代文明中心之一, 以及佛教和印度教的发源地。
5. 了解南亚的人口分布、工农业生产特点等。

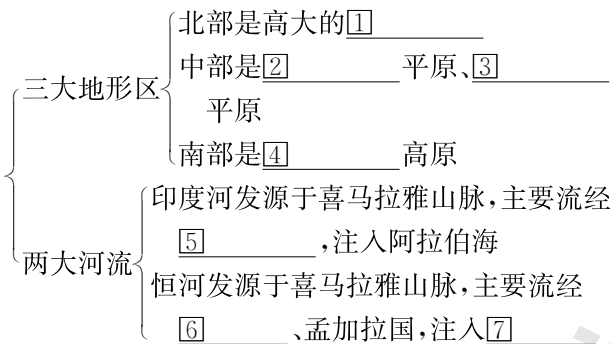


课前预习

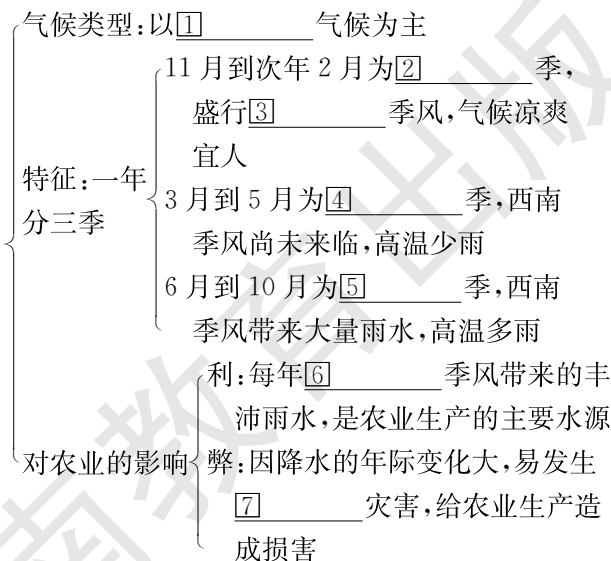
一、位置与国家



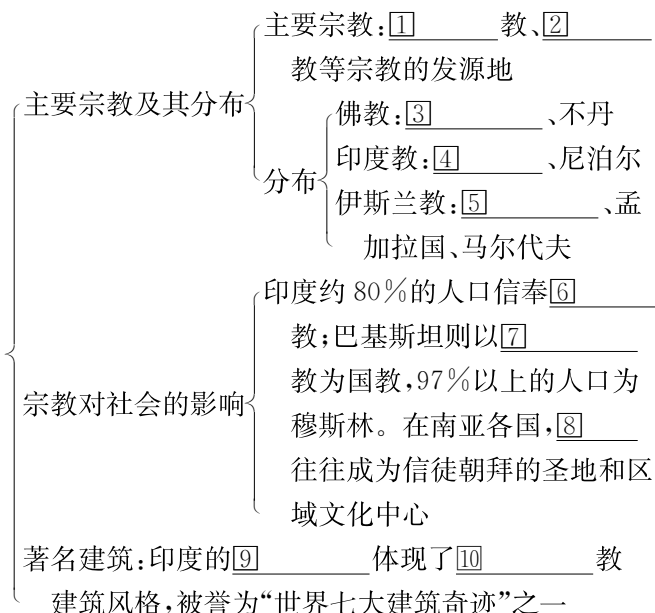
二、三大地形区



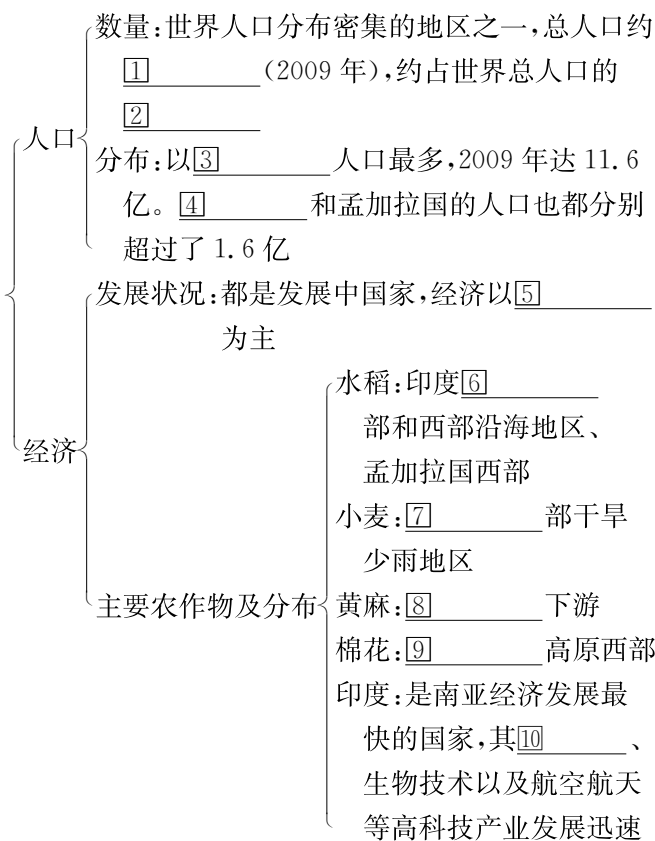
三、一年分三季



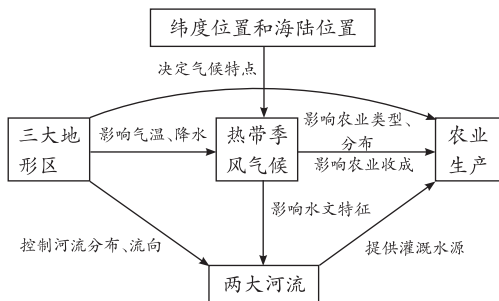
四、宗教与社会



五、人口与经济



【总结归纳】南亚地理要素之间的联系

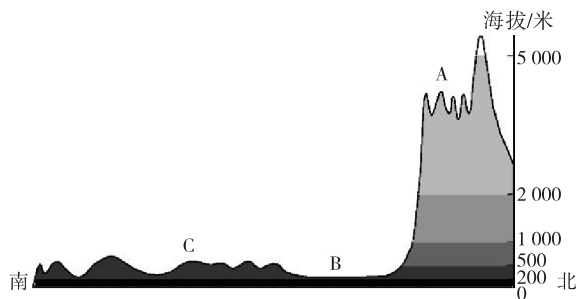


课堂探究

探究一 南亚的地形与河流

【问题探究】

1. 读沿 78°E 线南亚地形剖面图, 图中字母分别代表哪个地形区?



2. 读教材 P41 图 7-12, 南亚南部的高原东西部的地势特点如何? 判断依据是什么?

3. 巴基斯坦的灌溉水源主要来自哪条河流?

【教材典图精析】

教材 P41 图 7-12 南亚地形分布

图例剖析: 图中不同的颜色表示不同的海拔, 黄色、褐色表示高原、山地, 绿色表示平原。

主要地形区: 喜马拉雅山脉、印度河平原、恒河平原、德干高原。

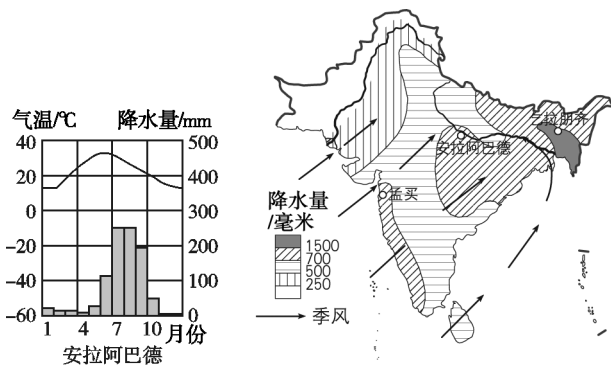
地势分析: 南亚的地势南北高, 中间低。

两大河流: 恒河发源于喜马拉雅山区, 流向东南, 注入孟加拉湾(可以画出河流的流向), 在入海口形成广阔的三角洲; 印度河发源于喜马拉雅山区, 向西南流经巴基斯坦干旱地区, 注入阿拉伯海。

地形与河流的关系分析: 南亚的河流受地形、地势制约, 由北部山地流向中部平原区; 河流的流向也能反映地势的高低; 南亚的地形受河流的影响, 在中部塑造了广阔的冲积平原。

探究二 南亚的热带季风气候

【问题探究】



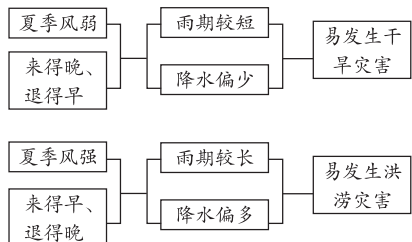
1. 读安拉阿巴德的气温年变化曲线和降水量柱状图,该市哪几个月气温较高? 哪几个月降水较丰富? 哪几个月气温较低?

2. 安拉阿巴德属于什么气候类型? 此气候类型最显著的特征是什么?

3. 1861年,位于印度东北部的乞拉朋齐,一年里雨量达到了 20 447 mm,夺得了世界“雨极”的称号。试分析乞拉朋齐成为世界“雨极”的原因。

点拨: 阅读气温年变化曲线和降水量柱状图,分析气候特征,判断气候类型;一个区域的气候受纬度位置、海陆位置和地形等因素的影响。

规律方法



【典例研析】

(2017·梧州)造成印度水旱灾害频繁的季风是

()

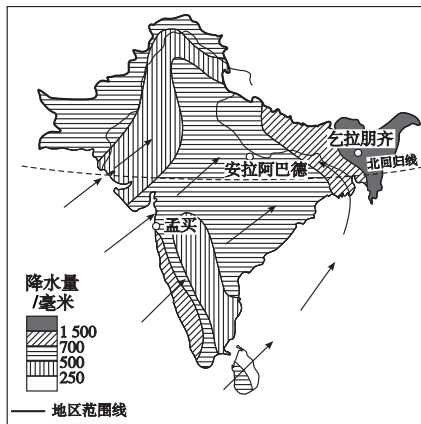
- A. 西北季风
- B. 东北季风
- C. 西南季风
- D. 东南季风

答案:C

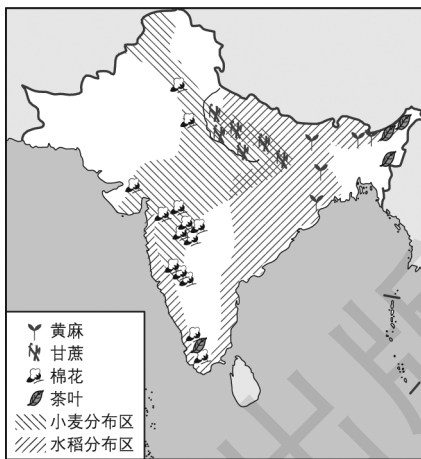
解析: 印度为南亚面积最大的国家,南亚的热带季风气候对农业有非常重要的影响。每年西南季风带来的丰沛雨水,是农业生产的主要水源。但由于西南季风的进退时间和强弱程度不一,因而降水的年际变化大,容易发生水旱灾害,给农业生产造成不同程度的损害。故选 C。

探究三 南亚农作物分布与降水的关系

【问题探究】



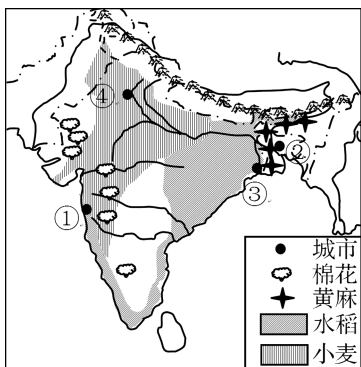
南亚雨季主要风向和降水量分布图



南亚的主要农作物有哪些? 主要分布在哪里?

【典例研析】

读南亚地区农作物分布图,完成(1)~(2)题。



(1)据图可知,下列有关南亚农作物分布的叙述,正确的是 ()

- A. 棉花分布在东北部地区
- B. 小麦分布在恒河三角洲
- C. 水稻分布在东北部和西部沿海
- D. 黄麻分布在印度河平原

(2)图中四个城市中,最适合发展棉纺织工业的是 ()

- A. ①
- B. ②
- C. ③
- D. ④

答案:(1)C (2)A

解析:第(1)题,南亚地区以热带季风气候为主,主要的粮食作物是水稻和小麦,其中水稻主要分布在印度东北部、西部沿海地区和孟加拉国的西部;小麦主要分布在西北部干旱少雨地区;黄麻主要分布在恒河下游地区;棉花主要分布在德干高原西部地区。第(2)题,读图可知,①是孟买,②是达卡,③是加尔各答,④是新德里。孟买靠近棉花产地,最适宜发展棉纺织工业,故选A。

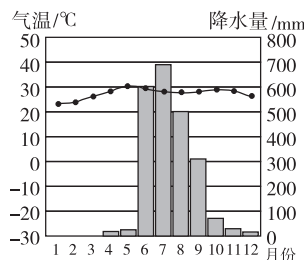
★ 课堂训练

1. (2017·娄底)在飞机起飞和降落时,逆风飞行最安全。据此判断,南亚地区修建飞机场,起降道路一般应为 ()
 - A. 东西走向
 - B. 南北走向
 - C. 东北—西南走向
 - D. 西北—东南走向
2. (2017·湘西)在印度,牛受到尊敬并且人们把牛看作是幸福吉祥的象征。下列哪种宗教将牛视为圣物,不得加以伤害 ()
 - A. 佛教
 - B. 伊斯兰教
 - C. 印度教
 - D. 犹太教

3. (2018·永州)影响印度半岛农业生产的气象灾害主要是 ()

- A. 寒潮
- B. 旱涝
- C. 暴雪
- D. 冰冻

读南亚某地气温年变化曲线和逐月降水量柱状图,回答4~5题。



4. 下列对该地降水特点的描述,正确的是 ()

- A. 各月降水均匀
- B. 降水集中在6—10月
- C. 6月降水最多
- D. 10月降水最少

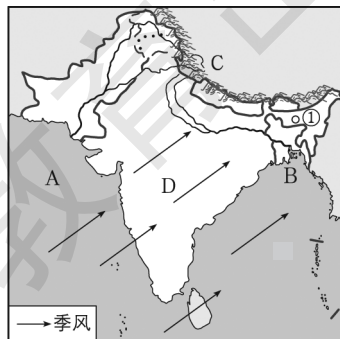
5. 某年,印度出现持续高温天气,导致数千人死亡。与印度高温天气的形成无关的是 ()

- A. 5月为全年最热月
- B. 5月,西南季风尚未来临,降水少
- C. 5月,太阳辐射强
- D. 印度人口稠密

6. 阅读图文材料,回答下列问题。

材料一 2015年4月21日,国家主席习近平出访巴基斯坦,在巴基斯坦议会发表题为《构建中巴命运共同体 开辟合作共赢新征程》的重要演讲,高度评价中国同巴基斯坦的全天候友谊和全方位合作,介绍中国和平发展理念,阐述中国对南亚睦邻友好政策,表示中国愿同南亚国家加强合作,实现互利发展、共同繁荣。

材料二 南亚略图。



(1)写出图中字母所代表的地理事物名称。

海域:A _____ 海 B _____ 湾

地形区:C _____ 山脉 D _____ 高原

(2)被誉为“世界七大建筑奇迹”之一的 _____ 位于D所在国家。

(3)巴基斯坦的居民主要信奉的宗教是 _____ ; 中巴之间的经济合作关系称为 _____ (填“南北对话”或“南南合作”)。

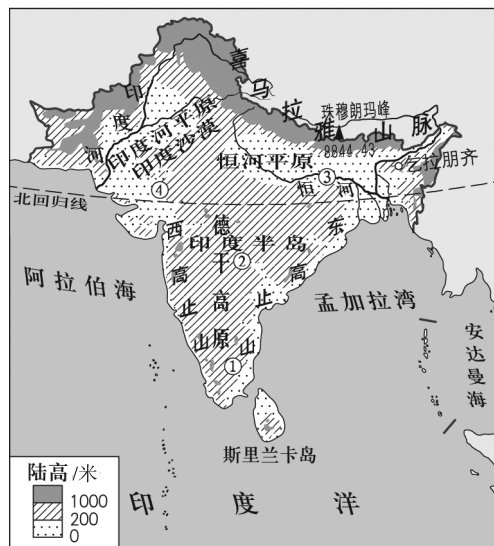
(4)①地为 _____ ,是世界降水最多的地区之一。试分析其成为“世界雨极”的原因。(回答两点即可)

5. (2018·东营)印度是世界第二人口大国,目前人口仍然以较快的速度增长。印度人口众多产生的影响有 ()

- ①劳动力充足 ②人口老龄化严重 ③资源、环境压力大 ④劳动力素质高 ⑤消费市场广阔

- A. ①③⑤ B. ②③④
- C. ①④⑤ D. ②④⑤

6. 按因地制宜发展农业的原则,在印度发展水稻种植,最佳区域应该图中的 ()



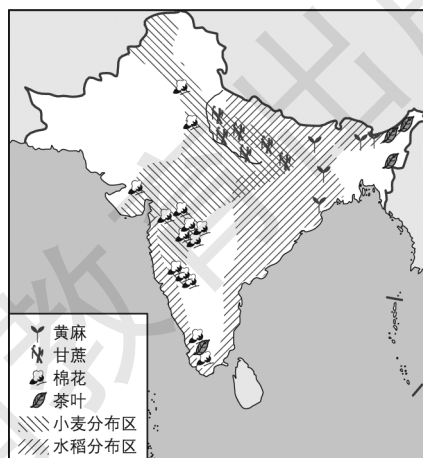
- A. ①地 B. ②地
- C. ③地 D. ④地

7. (2018·云南)下列关于东南亚和南亚的叙述,正确的是 ()

- ①两地是相邻的 ②两地都是华人、华侨集中地区
- ③两地都与我国接壤 ④两地都是天然橡胶主要产区

- A. ①② B. ②③
- C. ①③ D. ③④

读南亚农作物分布图,回答8~9题。



课后提升

一、单项选择题

1. (2018·哈尔滨)下列叙述中错误的是 ()

- A. 西亚石油主要分布在波斯湾及其沿岸地区
- B. 东南亚是华人、华侨最大的聚居地
- C. 印度是世界第一人口大国
- D. 大洋洲是陆地面积最小的大洲

2. 下列关于印度的邻国的叙述,正确的是 ()

- A. 与印度隔海相望的国家是缅甸
- B. 印度与我国的云南、西藏两个省区接壤
- C. 印度西与巴基斯坦、东与孟加拉国接壤
- D. 斯里兰卡位于我国和印度之间

(2017·怀化)2017年5月29日,斯里兰卡遭受了持续性强风和暴雨袭击,超过100万人受灾。据此回答3~4题。

3. 本次给斯里兰卡人民带来水灾的是来自印度洋的 _____ 季风。 ()

- A. 西南 B. 东南
- C. 东北 D. 西北

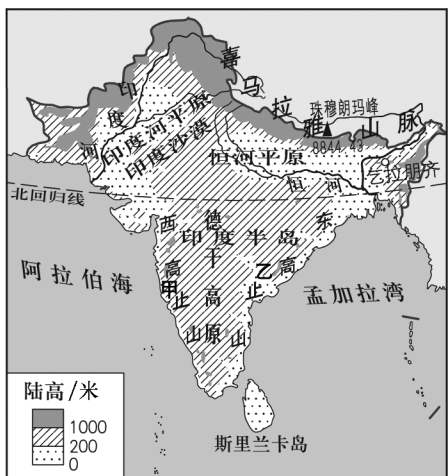
4. 斯里兰卡居民主要信仰的宗教是 ()

- A. 伊斯兰教 B. 印度教
- C. 佛教 D. 基督教

8. 印度农作物的分布具有明显的区域性,这种区域分布的主要依据是 ()
- A. 适应不同地区农民的种植习惯
B. 符合不同地区居民的消费习惯
C. 有利于实施机械化、专门化生产
D. 充分利用各地的气候、地形等自然条件
9. 印度在农业生产过程中存在的问题是 ()
- A. 降水不稳定,旱涝灾害频繁
B. 农业生产技术十分落后,现在粮食还不能自给
C. 高原面积广大,平原面积狭小,可耕种土地所占比重小
D. 软件产业的发展吸引了大量劳动力,造成农业劳动力不足

二、综合题

10. 读图,完成下列问题。



(1) 描述印度河—恒河平原以南地区地形地势的特征。

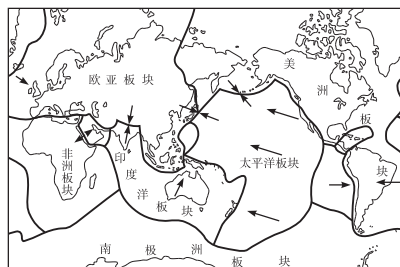
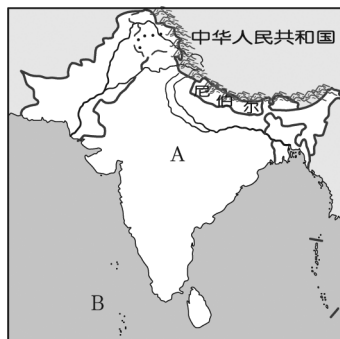
- (2) 南亚地区夏季盛行西南季风,甲、乙两地相比较,降水量较丰富的是___地。如果西南季风来得晚,退得早,雨季___(填“长”或“短”),容易造成___灾害,对农业生产不利。
- (3) 棉花主要集中分布在___(地形区)的西部,黄麻主要集中分布在___河的下游。这些农产品为发展___工业提供了丰富的原料。

11. 阅读材料,回答问题。

材料一 2015年4月25日14时11分,尼泊尔(北纬28.2°,东经84.7°)发生里氏8.1级地震,给尼泊尔人民的生命财产造成很大的损失。

世界上有两个火山与地震活动最剧烈的地带:一是环太平洋火山地震带,二是阿尔卑斯—喜马拉雅火山地震带。

材料二 南亚略图和世界板块构造图。



- (1) 尼泊尔位于___火山地震带。此次地震是由欧亚板块和___板块相互___(填“碰撞挤压”或“张裂”)造成的。该地震还导致了一些正在攀登中尼边境的世界最高山峰___的运动员被困。
- (2) 南亚是指位于亚洲南部喜马拉雅山脉中、西段与B___洋之间的广大地区。该地区面积最大的国家A是___。华华看了《西游记》后,知道了南亚是___教和印度教的发源地。
- (3) 据报道,2015年5月,南亚不少地方白天的气温超过40℃,造成2000余人死亡。此时,正值___(填“热”或“雨”或“凉”)季。每年6—10月,___(填“西南”或“东北”)季风带来丰沛的雨水。由于这种季风的进退时间和强弱程度不一,因而降水的年际变化大,容易发生里氏___灾害。



第三节 西 亚

第 1 课时



扫码观看
本节精彩微课

课时目标

1. 学会运用地图说明西亚地理位置的重要性。
2. 了解西亚干旱的自然环境特征及其对农牧业生产的影响。
3. 通过学习以色列的节水农业,树立节约水资源和保护水资源的意识。



课前预习

一、五海三洲之地

地理位置:地处亚、非、欧三大洲的交界地带,介于①_____ (内陆湖)、黑海、②_____、红海、阿拉伯海之间,被称为“五海三洲之地”

位置的重要性 { 古代:著名的陆上贸易通道“③_____”,就是从中国西安出发,沿河西走廊出新疆,经过中亚、④_____,到达欧洲
现在:除有⑤_____、公路以及国际航空线联结亚洲其他地区、⑥_____洲和非洲之外,还控制着海上交通要冲

二、干旱环境中的农牧业

气候类型及特点 { 类型:以①_____气候和②_____气候为主
特点:终年③_____,沙漠面积广大

畜牧业 { 地位:是西亚许多国家传统的经济部门
畜产品:土耳其的④_____,阿富汗的紫羊羔皮,阿富汗、伊朗等国用羊毛织成的地毯

灌溉农业 { 农业区:农业多分布在⑤_____平原和沙漠中的绿洲
成就:⑥_____大力发展节水农业,取得了令世人瞩目的成就



课堂探究

探究一 五海三洲之地

【问题探究】

1. 填写下列海峡沟通的海洋名称。

海峡	沟通的海洋
土耳其海峡	_____
霍尔木兹海峡	_____

2. 由印度洋通往大西洋的水路有几条? 如果从亚洲到欧洲,最近的水路是哪一条?

【教材典图精析】

教材 P₄₇ 图 7-21 西亚国家和地区分布

纬度位置:西亚大部分位于 15°N~45°N 之间,北回归线穿过西亚地区的南部,西亚大部分位于热带和亚热带地区。

海陆位置:西亚位于亚洲的西部,位于阿拉伯海、红海、地中海、黑海和里海之间。

地理位置的重要性:苏伊士运河和土耳其海峡,是控制海上交通要道的两个战略要地。西亚处在联系亚、欧、非三大洲,沟通大西洋和印度洋的枢纽地位。

主要国家:从图中查找西亚的主要国家——阿富汗、伊朗、伊拉克、科威特、沙特阿拉伯、叙利亚、土耳其等。可以看出,沙特阿拉伯是西亚面积最大的国家;土耳其地跨亚洲和欧洲。

探究二 干旱环境中的农牧业

【问题探究】

1. 在阿拉伯半岛上,一些国家没有河流,被称为“无流国”。你知道这是什么原因造成的吗?

2. 在西亚的很多国家,人们判断一个家庭的富裕程度,往往不是看其房子和车子,而是看其院落中树木的多少。你知道这是为什么吗?

点拨:一个国家或地区没有河流,与当地降水少有关。树木需要大量水来灌溉,在水比油贵的西亚地区,种树显然是一种奢侈的行为。

【典例研析】

(2018·黑龙江)西亚地区有“水比油贵”的说法,其主要原因是 ()

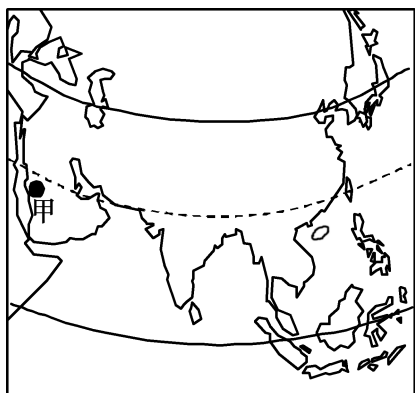
- A. 冲突不断
- B. 宗教差异
- C. 气候干燥
- D. 污染严重

答案:C

解析:西亚大部分地区属于热带沙漠气候,该气候全年炎热干燥,降水稀少;西亚地区的波斯湾及其沿岸地区是目前世界上石油储量最大、生产石油最多的地区。因此,西亚地区有“水比油贵”的说法。故选C。

课堂训练

当你徜徉在亚洲甲地古城的街头巷尾,吸引目光的是浓郁的宗教文化。读亚洲部分地区图,完成1~3题。



1. 甲地位于 ()
- A. 东南亚地区
 - B. 南亚地区
 - C. 西亚地区
 - D. 中亚地区

2. 甲地所属的国家主要的出口产品是 ()
- A. 茶叶
 - B. 锡矿
 - C. 石油
 - D. 咖啡

3. 甲地的居民主要信奉的宗教是 ()
- A. 基督教
 - B. 伊斯兰教
 - C. 佛教
 - D. 天主教

4. (2018·广东)西亚地区被称为“五海三洲之地”,“五海”不包括 ()

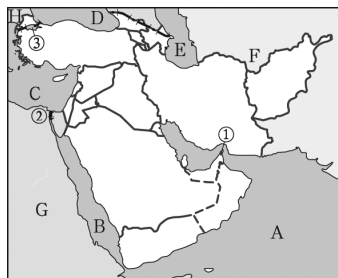
- A. 红海
- B. 波斯湾
- C. 地中海
- D. 里海

5. (2018·广东)西亚地区战争与冲突不断,主要的原因是 ()

- ①领土之争
- ②宗教之争
- ③石油之争
- ④铁矿之争

- A. ①②③
- B. ①③④
- C. ②③④
- D. ①②④

6. 读西亚地区图,回答下列问题。



(1) 西亚是“五海三洲之地”,写出五海、三洲的名称。

海域:A _____ B _____ C _____

D _____

湖泊:E _____

大洲:F _____ G _____ H _____

(2) 写出西亚地区交通地位突出的海峡或运河名称。

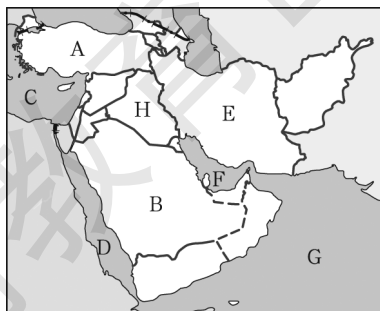
① _____ ② _____

③ _____

课后提升

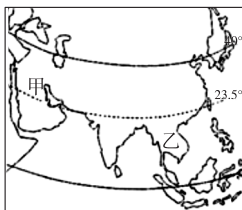
一、单项选择题

读西亚图,完成1~2题。



- 图中 A、B、E、H 分别代表的国家是 ()
 - 土耳其、沙特阿拉伯、伊朗、伊拉克
 - 伊拉克、伊朗、沙特阿拉伯、土耳其
 - 沙特阿拉伯、伊朗、科威特、叙利亚
 - 伊朗、黎巴嫩、伊拉克、沙特阿拉伯
- 图中 C、D、G、F 分别代表的海域是 ()
 - 地中海、红海、阿拉伯海、波斯湾
 - 里海、黑海、地中海、波斯湾
 - 黑海、地中海、红海、孟加拉湾
 - 地中海、亚丁湾、阿拉伯海、波斯湾
- (2018·黄冈改编) 下列关于西亚地区的描述, 正确的是 ()
 - 地处“五海三洲之地”, 地形以平原为主
 - 北回归线横穿, 沙漠广布, 河流水量大
 - 农业生产主要分布在河流沿岸
 - 海岸线漫长, 气候的海洋性强
- (2018·黄冈改编) 结合所学的地理知识判断, 西亚地区的旅店把床铺安放在屋顶的理由是 ()
 - 可以欣赏美丽的夜空
 - 当地终年炎热, 极少降雨
 - 体验一天的温度差异
 - 感受异国的地域风情

(2017·泰安) 读亚洲部分区域图, 完成5~6题。



- 下列关于图中甲、乙所在地区的叙述, 错误的是 ()
 - 甲所在地区处于“五海三洲之地”
 - 乙所在地区地处板块交界处, 多火山、地震
 - 两个地区都有石油分布
 - 两个地区的气候类型都以热带季风气候为主
- 下列关于甲、乙所在地区经济与居民的叙述, 正确的是 ()
 - 甲所在地区的农业多分布在沿海地区, 畜牧业是其主要的经济支柱
 - 乙所在地区是世界上热带经济作物的重要产区, 主要粮食作物是水稻
 - 甲所在地区以白色人种为主, 多信仰基督教
 - 乙所在地区人口稀疏, 是世界上华人最集中的地区

- 下列国家与其著名的特产的搭配, 正确的是 ()
 - 伊朗—安卡拉羊毛
 - 阿富汗—羊毛地毯
 - 阿富汗—椰枣
 - 土耳其—紫羊羔皮
- (2018·广东) 阿拉伯半岛上没有河流的原因是 ()
 - 没有山脉分布, 不易发育河流
 - 距海遥远, 水汽难以到达
 - 气候终年炎热干燥, 蒸发旺盛
 - 半岛面积狭小, 没有河流发育的空间

二、综合题

- 读西亚地区的相关地图和气候资料, 回答下列问题。

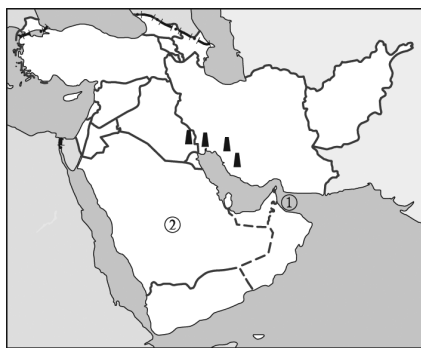


图1 西亚国家分布简图

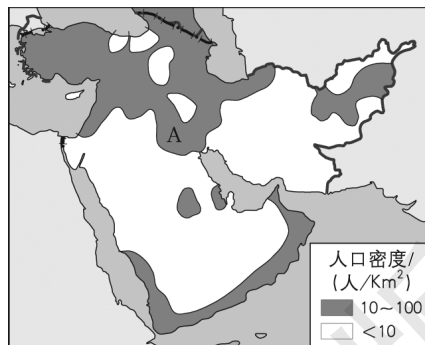


图2 西亚地区人口密度图



图3 国家B所在地区图

B 国气候资料

项目	气温/°C	降水量/mm
1 月	4	97
4 月	13	20
7 月	28	5
10 月	16	34
全年	15	307

(1)①海峡的名称_____，②国家的名称_____。

(2)西亚的地理位置非常重要,被称为“_____”。

(3)根据图中所示的信息,分析 A 地区人口密度较大的主要自然原因。

(4)根据表格资料,分析 B 国气候对农业发展的有利和不利影响。

第 2 课时

课时目标

1. 知道西亚石油资源的地位、分布、生产和出口情况,能分析石油开发对西亚社会经济的影响。
2. 了解西亚的民族和宗教特色。

课前预习

一、世界石油宝库

- 地位 { 西亚是世界上石油①_____最为丰富、石油②_____和输出量最多的地区
- 分布 { 西亚的石油主要分布在③_____及其沿岸地区,④_____、伊朗、科威特和伊拉克是世界重要的产油国
- 输出 { 主要输往西欧以及⑤_____、⑥_____等国家
- 局限性 { 石油资源是有限的,西亚主要产油国努力使经济朝⑦_____的方向发展
- 石油输出国组织 { 简称“欧佩克”,成立于 1960 年 9 月,总部设在奥地利首都⑧_____

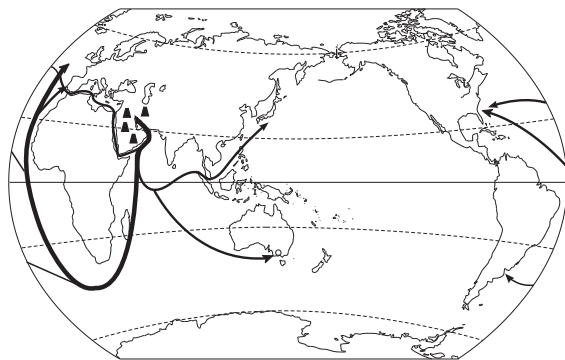
二、阿拉伯国家

- 定义 { 一般把①_____占多数的国家称为阿拉伯国家。②_____是世界上阿拉伯人的主要聚居地区之一
- 宗教文化 { 西亚是③_____、基督教和④_____的发源地,阿拉伯人普遍信仰⑤_____
- 宗教圣城 { 麦加:伊斯兰教创始人⑥_____的诞生地,是伊斯兰教圣地;麦加⑦_____是世界上规模最大的清真寺
耶路撒冷:⑧_____教、⑨_____教和犹太教的“圣城”

课堂探究

探究一 世界石油宝库

【问题探究】



1. 西亚的石油为什么会大量出口? 西亚到西欧、美国的两条海上石油运输线路中,哪一条长度要短一些? 为什么不是所有的油轮都选择这条较近的线路呢?

2. 如果你是西亚某产油国的政府首脑,当本国的石油开采殆尽后,你将怎样寻找本国的经济出路?

点拨:一个区域的经济的发展要与当地的自然环境、自然资源相协调。

【教材典图精析】

教材 P 52 图 7-29 西亚石油海上运输线路示意

石油分布: 西亚的石油主要分布在波斯湾及其沿岸地区。

海上运输线路:

(1) 东线: 波斯湾→霍尔木兹海峡→印度洋→马六甲海峡→南海→太平洋→日本。

(2) “苏伊士航线”: 波斯湾→霍尔木兹海峡→阿拉伯海→曼德海峡→红海→苏伊士运河→地中海→直布罗陀海峡→大西洋→西欧、美国。

(3) “好望角航线”: 波斯湾→霍尔木兹海峡→印度洋→好望角→大西洋→西欧、美国。

其中, “苏伊士航线” 航程较短, “好望角航线” 运量较大。

探究二 阿拉伯国家

【问题探究】

1. 西亚是世界哪个民族的主要聚居地区之一? 他们主要是什么人种? 讲哪种语言?

2. 西亚是哪些宗教的发源地? 这些宗教的共同圣城是哪个城市?

3. 阿拉伯人普遍信奉什么宗教? 该宗教的第一圣地是哪里?

【典例研析】

(2018·大庆) 西亚的石油资源主要分布在 ()

- A. 波斯湾及其沿岸 B. 里海沿岸
C. 黑海沿岸 D. 地中海沿岸

答案: A

解析: 西亚是世界上石油储量最为丰富、石油产量和输出量最多的地区。西亚的石油主要分布在波斯湾及其沿岸地区。故选 A。

 课堂训练

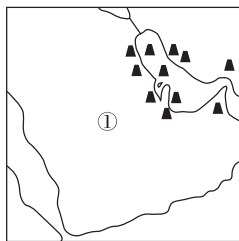
1. (2018·邵阳) 下列关于西亚地区的叙述, 组合正确的是 ()

- ①气候湿热 ②石油资源丰富 ③农业发达
④水资源匮乏 ⑤宗教文化差异大
- A. ①②③ B. ②③⑤
C. ①④⑤ D. ②④⑤

2. (2018·云南) 沙特阿拉伯的主要经济支柱是 ()

- A. 石油收入 B. 畜牧业
C. 种植业 D. 旅游业

寒假期间, 青岛的小雨参加了学校组织的学习考察团, 到下图所示地区进行考察与学习。结合下图, 回答 3~4 题。



3. 到①地区考察需要提前学习哪种语言 ()

- A. 英语 B. 阿拉伯语
C. 法语 D. 西班牙语

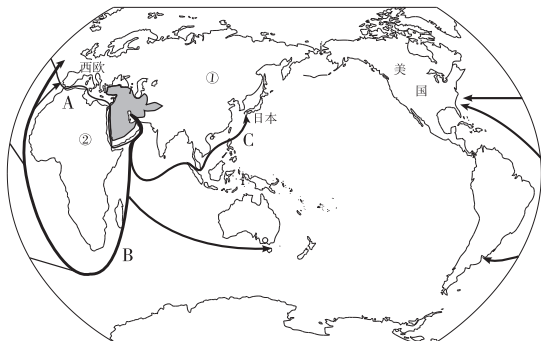
4. 下列关于①②两个半岛的有关描述, 不正确的是 ()

- A. ①沙漠广布
B. ①的耶路撒冷被视为“圣城”
C. ②此时正值雨季
D. ②所在国是世界人口大国

5. 下列有关西亚地理景象的叙述, 不可信的是 ()

- A. 当地人身穿长袍, 说着英语聊天
B. 一艘艘油轮往来穿梭于波斯湾中
C. 水果超市里, 摆着诱人的椰枣
D. 邀请数位好友, 骑着骆驼, 欣赏大漠风光

6. 读图,回答下列问题。



- (1) 西亚地处“五海三洲之地”。其中,①是_____洲,②是_____洲。
- (2) 航线 A 主要经过亚、非两洲的分界线_____运河。
- (3) 运量最大的航线是_____ (填字母)。
- (4) 被日本称为“海上生命线”的航线是_____ (填字母)。

课后提升

一、单项选择题

1. (2018·黑龙江)世界上最大的半岛是 ()
- A. 中南半岛 B. 亚平宁半岛
- C. 阿拉伯半岛 D. 印度半岛
2. (2018·广安改编)“五海三洲之地”是指 ()
- A. 东亚 B. 西亚
- C. 东南亚 D. 撒哈拉以南的非洲
3. (2018·深圳改编)下列有关西亚的称呼,正确的是 ()
- A. “西方日落之地” B. “人口大熔炉”
- C. “世界石油宝库” D. “热带大陆”
4. 下列关于西亚的叙述,正确的是 ()
- A. 西亚是亚欧“古丝绸之路”的途经地之一
- B. 水资源匮乏是西亚成为世界热点的唯一原因
- C. 西亚是基督教、伊斯兰教和佛教的发源地
- D. 西亚居民大多为阿拉伯人,属于黄色人种
5. (2017·滨州)小明的朋友哈茂德来自中东地区的发展中国家沙特阿拉伯。下列最能反映哈茂德家乡风土人情的图片是 ()



A



B

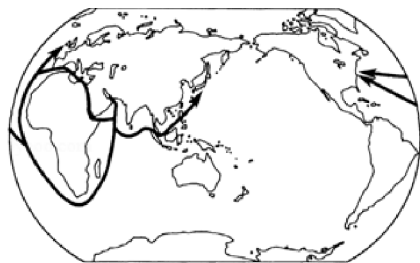


C



D

6. (2017·齐齐哈尔)被伊斯兰教、基督教和犹太教三大宗教称为“圣城”的城市是 ()
- A. 耶路撒冷 B. 开罗
- C. 麦加 D. 麦地那
7. 下列对西亚地区成为世界上长期受关注地区原因的叙述,错误的是 ()
- A. 东西方交通要道——“五海三洲之地”
- B. 为石油而战——丰富的石油资源
- C. 文化差异——宗教纷争、民族矛盾、领土争端
- D. 旅游胜地——大量的文物古迹
8. 下面是世界主要石油运输路线图。我国从波斯湾沿岸进口石油运往上海港,最近的航线依次是 ()



- A. 波斯湾→霍尔木兹海峡→印度洋→好望角→大西洋
- B. 波斯湾→直布罗陀海峡→印度洋→马六甲海峡→台湾海峡
- C. 波斯湾→霍尔木兹海峡→印度洋→苏伊士运河→直布罗陀海峡→大西洋
- D. 波斯湾→霍尔木兹海峡→印度洋→马六甲海峡→台湾海峡

二、综合题

9. 结合材料,完成下列问题。

材料一 国家主席习近平于2016年1月19日至23日对沙特阿拉伯、埃及、伊朗三国进行了国事访问。这是“十三五”开局之年中国外交的开篇之作,也是西亚北非动荡5年来,中国最高领导人首次访问这一地区。

材料二 埃及的地理位置得天独厚,是“一带一路”重要站点,多条连接埃及和其他地区市场的空中和水路通道有利于缩短贸易周期和节省运输成本。

- (1) 沙特阿拉伯、埃及、伊朗主要信奉伊斯兰教, 圣地_____位于沙特阿拉伯境内。
- (2) 埃及的地理位置得天独厚, 海上丝绸之路经过埃及的_____运河到达欧洲西部。该国以盛产长绒棉著称。请你简述埃及种植长绒棉的有利自然条件。

- (3) 伊朗北部有世界上最大内陆湖泊_____。
- (4) 西亚、北非局势动荡, 战乱不断, 一直是全世界关注的热点地区。请你运用所学知识分析其原因。(写出两条即可)

- (5) 西亚北非地区与我国同纬度的南方地区自然景观差异很大, 主要是因为我国东部地区受典型的_____的影响。

10. 下面为世界某区域图。读图, 回答下列各题。



- (1) 写出图中两个著名海峡的名称。
甲_____海峡 乙_____海峡
- (2) 本地区最丰富的能源资源是_____, 其对外的主要运输方式是_____和_____;
最短缺的自然资源是_____。

2015年3月26日, 在美国的支持下, 沙特阿拉伯展开对也门的空袭, 拉开军事介入也门冲突的序幕。“二战”以来, 这一地区冲突不断, 战事频繁。

- (3) 从地理位置、资源、民族、宗教等角度, 分析本地区冲突不断的原因。



第四节 欧洲西部



扫码观看
本节精彩微课

课时目标

1. 运用地图,找出欧洲西部的位置、范围、主要国家及首都;说出欧洲西部的地理位置及特点。
2. 了解欧洲西部的经济特征、工业发展情况和农业特色。
3. 了解欧洲西部主要的旅游资源及其分布,能分析旅游业繁荣的主要原因。



课前预习

一、位置与范围

- 位置**
- 半球位置:主要位于①_____半球,全部位于②_____半球
 - 海陆位置:位于亚欧大陆西部,北临③_____洋,西临④_____洋,南临地中海
 - 纬度位置:地跨北温带和⑤_____
- 范围**
- 欧洲的⑥_____ ,面积约⑦_____ 千米²。
 - 包括 30 多个国家。从经济发展水平上看,大多数属于⑧_____ 国家

二、雄厚的经济实力

- 经济地位**
- 是①_____ 的发源地,经济发展水平居世界前列
- 工业**
- 特点:生产规模大,工业部门较为齐全,综合实力雄厚
 - 四大工业国:②_____、法国、英国和③_____
- 农牧业**
- 特点:农业在经济中所占比重较小,但生产水平④_____ ,种植业与⑤_____ 结合较好,集约化程度高
 - 代表国家:⑥_____、英国、荷兰、丹麦
- 交通运输业**
- 现已形成庞大的⑦_____ 网络,铁路、公路、海运、内河航运和航空等都很发达
- 特色产业**
- ⑧_____ 被誉为“钟表王国”
 - 瑞典的造船业、汽车和机器制造业等在国际上享有盛誉
 - ⑨_____ 畜牧业发达、各类乳肉制品行销国际市场,素有“欧洲的牧场和食品库”之称
 - ⑩_____ 的海洋渔业发达,人均水产品产量居世界首位
 - 荷兰花卉种植业发达,尤以郁金香而驰誉世界

三、繁荣的旅游业

- 旅游资源**
- 自然资源:挪威陡峻幽深的①_____、瑞士冰雪皑皑的山峰、西班牙阳光灿烂的海滩、法国景色如画的田园,自然风光旖旎
 - 人文资源:“千年古都”②_____、“音乐之都”③_____、“艺术之都”④_____ ,城市风貌典雅;古老的城堡、庄严的教堂、为数众多的博物馆,风格各异;⑤_____ 的狂欢日、德国慕尼黑啤酒节、法国戛纳电影节,气氛热烈
- 旅游业地位及主要旅游国**
- 地位:目前,欧洲西部是国际旅游业⑥_____ 的地区,每年接待的国际游客人数和旅游外汇收入均居世界前列
 - 主要旅游国:⑦_____、西班牙和⑧_____ 是世界著名的旅游大国



课堂探究

探究一 欧洲西部的位

【问题探究】

1. 欧洲西部大部分处于五带中的什么带?
2. 找出欧洲西部周边的海洋,描述其海陆位置。

点拨:从图中找出穿过欧洲西部的纬线,可据此描述其纬度位置;从图中找出欧洲西部濒临的海洋,可据此描述其海陆位置。

【教材典图精析】

教材 P₅₄ 图 7-31 欧洲西部国家和地区分布

纬度位置:欧洲西部大部分位于 40°N~60°N 的中纬度地带,故大部分处于北温带。

海陆位置:北临北冰洋,西临大西洋,南临地中海。三面临海,海陆位置优越。

主要国家:法国、德国、英国、意大利、瑞士、奥地利、丹麦、挪威、瑞典、芬兰、希腊、西班牙、葡萄牙等。

探究二 欧洲西部的农业

【问题探究】

欧洲西部发展畜牧业有哪些有利条件？欧洲人的饮食结构与自然环境有什么联系？

点拨：欧洲西部发达的畜牧业受地形、气候等自然因素的影响。

【典例研析】

(2017·绥化)在欧洲西部被称为“绿色金子”的是 ()

- A. 牧草 B. 玉米
C. 小麦 D. 水稻

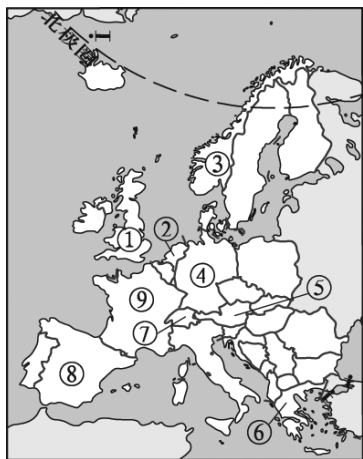
答案：A

解析：欧洲是世界上平均海拔最低的大洲，欧洲西部的地形以平原为主。西部沿海地区有北大西洋暖流经过，加上西风的影响，形成温带海洋性气候，冬无严寒，夏无酷暑，降水均匀；牧草生长茂盛，其畜牧业发达。被欧洲西部的人们称为“绿色金子”的是牧草。

探究三 繁荣的旅游业

【问题探究】

1. 模拟欧洲旅游。欢迎大家进入“欧洲西部”浪漫之旅。如果你是这次旅游的导游，你能给大家介绍下列国家的哪些旅游景观？



2. 夏季到欧洲西部国家旅游，我们应当携带哪些物品？请说明理由。

点拨：外出旅游时，要根据当地的气候特征及地形特征，做好准备。

【典例研析】

(2018·益阳)下列旅游景点与所在国家对应错误的一项是 ()

- A. 白金汉宫—英国
B. 罗浮宫博物馆—德国
C. 吴哥窟—柬埔寨
D. 颐和园—中国

答案：B

解析：本题主要考查世界著名的旅游景点。白金汉宫位于英国；吴哥窟位于柬埔寨；颐和园位于中国；而罗浮宫博物馆位于法国。故选B。

课堂训练

1. (2018·云南)下列关于欧洲西部的说法，正确的是 ()

- A. 地跨寒、温、热三带
B. 人口稠密，工业发达
C. 多为发展中国家
D. 居民大多信仰伊斯兰教

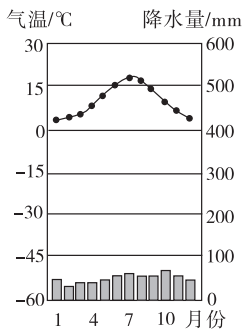
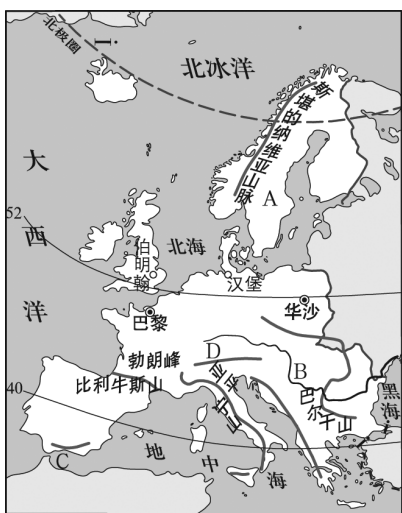
2. (2018·湘西)欧洲西部是近代科学技术发展最早的地区，很多国家根据自身的优势发展了具有特色的产业部门。其中，闻名世界的“钟表王国”指的是 ()

- A. 瑞士 B. 荷兰
C. 挪威 D. 丹麦

读欧洲部分地区图,回答 3~5 题。



3. 下列旅游资源与国家搭配正确的是 ()
- A. 水城威尼斯—③
B. 阿尔卑斯山—②
C. 罗浮宫—①
D. 陡峻幽深的峡湾—④
4. 该地区的主要人种是 ()
- A. 白色人种 B. 黄色人种
C. 黑色人种 D. 混血人种
5. 该地区乳畜业发达,最主要的社会原因是 ()
- A. 气候因素 B. 市场因素
C. 交通因素 D. 地形因素
6. 读欧洲西部图以及巴黎市气温年变化曲线和降水量柱状图,回答问题。



巴黎市气温年变化曲线和降水量柱状图

(1)写出图中字母代表的地理事物名称。

A _____ 半岛 B _____ 河
C _____ 海峡 D _____ 山脉

(2)巴黎为世界著名的旅游城市,试列举其主要旅游景点: _____

_____ (至少写出 2 项)。

请根据巴黎市气温年变化曲线和降水量柱状图,描述该市的气候特点: _____

_____。

(3)伯明翰、汉堡和华沙的纬度大致相同,但年降水量依次减少,气温年较差依次增大。该现象产生的原因是 _____

_____。

(4)莱茵河是欧洲西部著名的国际性河流,内河航运发达。请从地形、气候两个方面,分析该河流航运价值高的原因。

课后提升

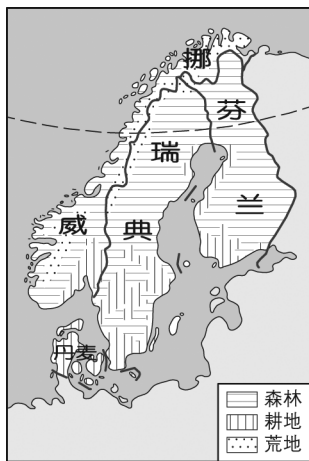
一、单项选择题

(2018·岳阳)2018年5月24—25日,德国总理默克尔对中国进行正式访问。读“德国汽车在中国销售情况表”,回答 1~2 题。

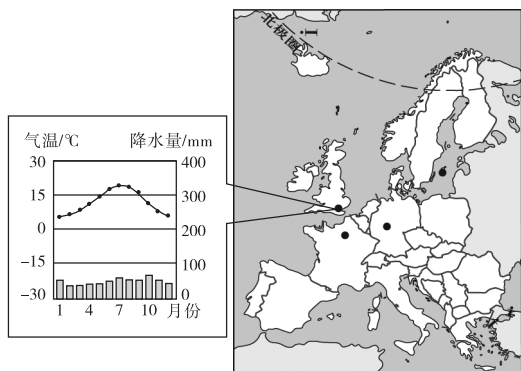
汽车企业	大众	宝马	奔驰
在中国销售占总销售量的比例	37.3%	24.2%	23.2%

1. 德系汽车在中国销售量大的主要原因是 ()
- A. 工业工艺精 B. 服务态度好
C. 价格低廉 D. 节能环保
2. 德国总理信奉的宗教可能是 ()
- A. 佛教 B. 伊斯兰教
C. 基督教 D. 犹太教

读北欧土地类型分布图,回答3~4题。



3. 北欧地区 ()
- A. 森林广布 B. 耕地稀少
- C. 多沙漠戈壁 D. 无可垦荒地
4. 去北欧地区旅游,下列景观中,能欣赏到的是 ()
- A. 阳光海岸,沙滩椰林
- B. 幽深的峡湾,午夜的太阳
- C. 阿尔卑斯山的湖光山色
- D. 塞纳河畔高耸的埃菲尔铁塔
5. 下列关于欧洲西部的叙述,正确的是 ()
- A. 海岸线平直
- B. 地形以山地为主
- C. 气候的海洋性特征明显
- D. 经济较为落后
6. 下列关于欧洲西部部分国家特色产业的叙述,错误的是 ()
- A. 瑞士以生产钟表和精密仪器为主,有“钟表王国”之称
- B. 法国畜牧业发达,有“欧洲的牧场和食品库”之称
- C. 荷兰花卉种植业发达,尤以郁金香而驰誉世界
- D. 挪威海洋渔业发达,人均水产品产量居世界首位
7. 下列关于下图所示气候类型的叙述,正确的是 ()



- A. 主要分布在北纬 $40^{\circ}\sim 60^{\circ}$ 的大陆东岸
- B. 大陆轮廓破碎对该气候的形成起了重要作用
- C. 适宜发展种植业,畜牧业不发达
- D. 气候特点是冬季温和多雨,夏季炎热干燥
8. (2018·连云港)欧洲西部的地形以平原为主,温带海洋性气候广布,多数国家的农业 ()
- A. 以种植业为主 B. 以畜牧业为主
- C. 以林业为主 D. 以渔业为主
9. (2017·娄底)叙利亚内战爆发后,数以万计的叙利亚难民逃往欧洲西部,其主要原因是欧洲西部 ()

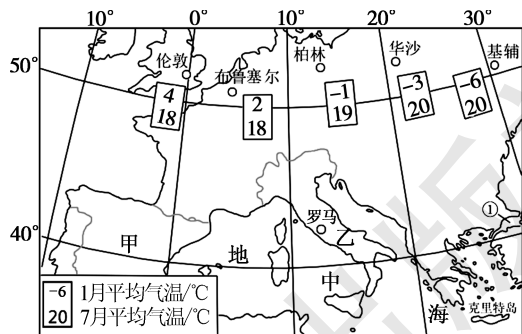
- A. 地理上邻近叙利亚
- B. 经济发达,就业机会较多
- C. 农业落后,需要大量劳动力
- D. 环境优美,适宜人类居住

二、综合题

10. 阅读材料和地图,回答下列问题。

材料一 这是世界上最奇特的城市,全城的街道由宽窄不一的“水道”“水巷”组成,居民出门就是“水”。城市没有汽车、自行车,唯一的交通工具是船。

材料二 橄榄油在西方被誉为“液体黄金”“植物油皇后”,有极佳的天然保健和烹调用途。人类最早对橄榄树实行人工栽培始于地中海的克里特岛。当今,地中海沿岸是世界橄榄油最主要的产地。



- (1)图中数码①表示 _____ 海峡。
- (2)简述欧洲同纬度地区伦敦等五个城市1月气温空间分布的特点,并简要分析其原因。

- (3) 材料一描述的城市在图上甲、乙两国中的 _____ 国。
 (4) 根据材料二, 推断橄榄树理想的气候生长环境。

- (5) 小悦建议在我国南方地区引种橄榄树, 是否可行? 请说明理由。

- (1) 英国伦敦的汤姆准备的行程路线如图所示, 从 A _____ 洲出发, 经过 B _____ 洋—① _____ 运河—C _____ 洋—② _____ 海峡, 最后经太平洋到达上海。
 (2) 图中大部分地区位于 _____ (填“东”或“西”) 半球。
 (3) 图中伦敦和上海共同的气候特征是 _____。
 (4) 汤姆通过网上 QQ, 送给东东一张伦敦的风景图片是 _____ ()



A



B

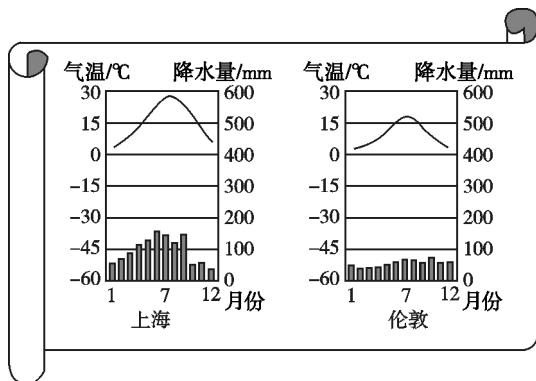
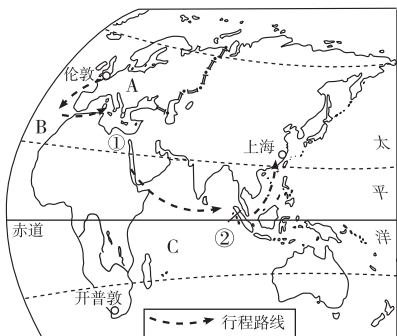


C



D

11. 英国伦敦的汤姆准备来中国上海找网友东东玩。读图, 回答问题。





第五节 北极地区和南极地区



扫码观看
本节精彩微课

课时目标

1. 运用地图,认识北极地区和南极地区的范围与地理位置特点。
2. 学会在极地投影图上判断方向,认识极地在空中交通上的重要意义。
3. 知道两极地区独特的自然环境特征,并能分析其形成原因。
4. 了解两极地区淡水资源、矿产资源和海洋生物资源的现状,认识保护两极地区生态和资源的重要性。
5. 了解人类对极地探险和科学考察的现状,感悟热爱科学、不畏艰险、勇于探索的精神,激发学生的爱国主义热情。



课前预习

一、冰雪世界

- 位置范围**
- 北极地区:指①_____以北的区域,包括北冰洋、亚欧大陆和②_____大陆的北部及一些岛屿
- 南极地区:包括③_____及其沿海岛屿和陆缘冰,还包括南太平洋、南大西洋和南印度洋的一部分
- 气候特点**:④_____、⑤_____、降水稀少。夏季时出现极昼,太阳高度小;冬季时出现极夜,长夜漫漫
- 资源**
- 矿产资源**:北极地区蕴藏着丰富的自然资源,如石油、天然气及金属、非金属等;南极地区煤炭资源储量丰富,有世界上规模最大的铁矿床,大陆架还有丰富的⑥_____和天然气资源
- 淡水资源**:地球上 68%的⑦_____以冰雪的形式储存在两极地区
- 动物资源**:⑧_____素称“冰海霸王”,是北极地区的象征;⑨_____是南极洲的代表动物
- 居民**:北极地区原住居民主要是⑩_____人和拉普人;南极地区没有定居人口

二、极地探险和科学考察

- 极地探险**
- 早在 15—16 世纪,欧洲航海家就开始了①_____探险,寻找到达东方的“北方航线”
- 19 世纪上半叶发现南极大陆后,前往②_____的探险者络绎不绝。挪威人③_____成为世界上最先到达南极点的人
- 极地科考**
- 极地地区是研究地球环境的“④_____”。迄今为止,有⑤_____个国家在极地地区建立了一系列科学考察站
- 中国的极地科学考察平台**
- 南极地区:长城站、⑥_____、昆仑站、⑦_____
- 北极地区:⑧_____



课堂探究

探究一 冰雪世界

【问题探究】

1. 南极地区气候酷寒的原因是什么?为什么南极地区比北极地区冷得多?
2. 南极洲降雪很少,为什么形成巨厚的冰层?
3. 冰雪覆盖的南极洲蕴藏着丰富的煤炭资源,你能解释这一现象吗?

点拨:影响一个区域气候的主要因素有纬度位置、海陆位置和地形因素等。南极洲有煤,可运用大陆漂移假说来解释。

【教材典图精析】

教材 P₆₂ 图 7-42 南极地区

1. 对以南极点为中心的经纬网地图的判读要领

- (1) **经纬线特点**:纬线为同心圆,距极点愈近,纬线愈短;经线圈为直线,由两条相对的经线组成。
- (2) **方向特点**:在南极上空看,地球呈顺时针方向自转;任何一地都在南极点的正北方。
- (3) **距离特点**:因经线圈是大圆,沿经线方向(通过极点)走为球面上的最短距离。南极大陆位于地球的最南端,被三大洋所环绕,是非洲、南美洲、大洋洲未来的空中交通捷径。

2. 在以南极为中心的地图上判读大洲、大洋的方法

- (1) **根据轮廓及相对位置判读**:离南极最近的大洲是

南美洲,与南极半岛相对。南极半岛的东面为大西洋,西面为太平洋。南极大陆最宽广的部分所对的大洋是印度洋,印度洋的西面是非洲,东面为大洋洲。

(2)根据经度判读:若图上出现经纬度,0°经线穿过的大洋为大西洋,0°经线附近为非洲。180°经线穿过的大洲是大洋洲,穿过的大洋是太平洋。

中国的科学考察站:长城站、中山站、昆仑站、泰山站。从图中可看出,长城站位于南极圈以外,故不存在极昼极夜现象。

探究二 极地科学考察

【问题探究】

1. 在南极地区图中找出我国的四个科考站,没有极昼、极夜现象的是哪个科学考察站?

2. 想一想:为什么我国北极科考站的建站时间选择在7月,南极科考站的建站时间却都选择在2月?

3. 为什么南极考察队员把一些生活垃圾如水果皮、酒瓶、罐头盒等装进袋子封好带回本国处理?

【典例研析】

(2018·张家界)中国第五个南极科考站——罗斯海新站,于2018年2月7日在恩克斯堡岛正式奠基,预计2022年建成。下列关于科考队在南极地区所见所闻的描述,可信的是 ()

- A. 考察期间,南极地区温暖湿润
- B. 到处冰雪覆盖,很难找到裸露的土壤
- C. 在南极大陆,发现了不少正在作业的油井
- D. 奠基时,罗斯海新站正处于极夜

答案:B

解析:本题主要考查南极地区的概况。南极地区降水少,冰雪覆盖范围较广,气候寒冷,故B项正确,A项错误;南极地区生态环境脆弱,不应开发资源,故C项错误;3月21日至9月23日期间,南极地区才有极夜现象,故D项错误。答案选B。

课堂训练

1. (2017·德州)读北极地区示意图,下列说法正确的 ()



- A. 大部分地区终年冰雪覆盖,是年平均气温最低的地区
- B. 居住着因纽特人,耐寒的北极熊和企鹅也生活在这里
- C. 甲是格陵兰岛,乙是跨经度最广的国家俄罗斯
- D. 中国黄河站位于北极圈以外,无极昼极夜现象

(2018·海南)2018年2月7日,中国第五个南极科考站罗斯海新站在罗斯海附近的恩克斯堡岛正式选址奠基。据此回答2~3题。

2. 罗斯海新站在建设过程中可能遇到的困难是 ()

- ①酷寒 ②多暴雨 ③烈风 ④缺氧
- A. ①② B. ③④
- C. ①③ D. ②④

3. 下列关于两极地区共同特征的说法,正确的是 ()

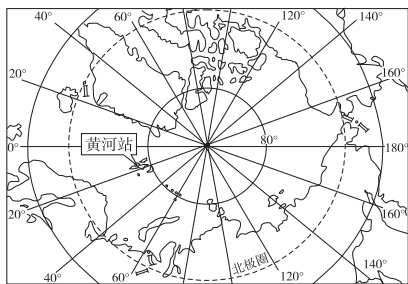
- A. 矿产资源和淡水资源都丰富
- B. 都有常住居民
- C. 我国极地科考站都有极昼、极夜现象
- D. 都以陆地为主

4. 我国在南极地区和北极地区建立了长城站、中山站、昆仑站和黄河站。读四个考察站的经纬度数值表,关于四个考察站的叙述,正确的是 ()

考察站	长城站	中山站	昆仑站	黄河站
纬度	62°13'S	69°22'S	80°25'S	78°55'N
经度	58°58'W	76°23'E	77°07'E	11°56'E

- A. 新的一天开始最早的是昆仑站
- B. 四个考察站都有极昼、极夜现象
- C. 黄河站位于长城站的西北方向
- D. 距离极点最近的是中山站

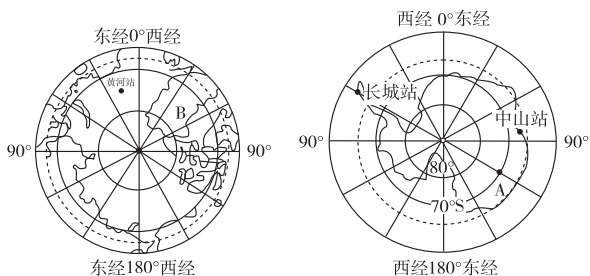
5. 下图为北极地区图,在我国北极科考站——黄河站的科考队员能看到 ()



- ①美丽的极光 ②可爱的企鹅 ③漫长的极夜
④繁忙的航运

- A. ①④ B. ②④
C. ①③ D. ②③

6. 读北极地区和南极地区图,回答下列问题。



- (1)图中 A 点的经纬度是_____。中山站在南极点的_____方向。
(2)当科考队员到达南极洲时,迎接他们的“南极小主人”(代表性动物)是_____。
(3)当我们放暑假时,南极地区会出现_____ (填“极昼”或“极夜”)现象。
(4)我国在北极地区建立的第一个科学考察站是_____,B 是世界上最大的岛屿_____。
(5)近年来,北极地区的“白色”面积在逐渐减少,“蓝色”面积却不断扩大。产生这一现象的原因最可能是 ()
A. 海啸
B. 全球气候变暖
C. 板块的运动
D. 注入北冰洋的陆地淡水增多

课后提升

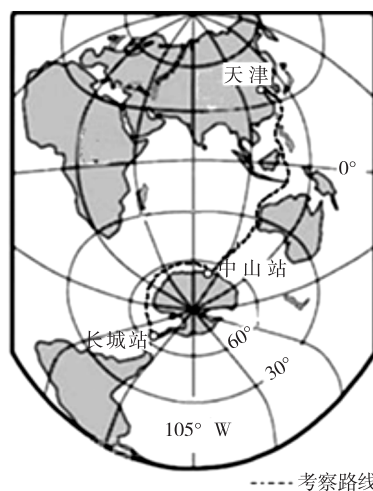
一、单项选择题

1. (2018·广东) 北极地区比南极地区温暖的原因不包括 ()
A. 海洋面积大 B. 冰盖面积小
C. 海拔低 D. 植被覆盖率低

2. (2018·潍坊改编) 随着全球变暖和冰川融化,北冰洋沿岸每年有两个月时间可以通航。北冰洋沿岸通航期间,轮船可能遇到的最大危险来自 ()
A. 暴风雪 B. 冰山
C. 严寒 D. 巨浪

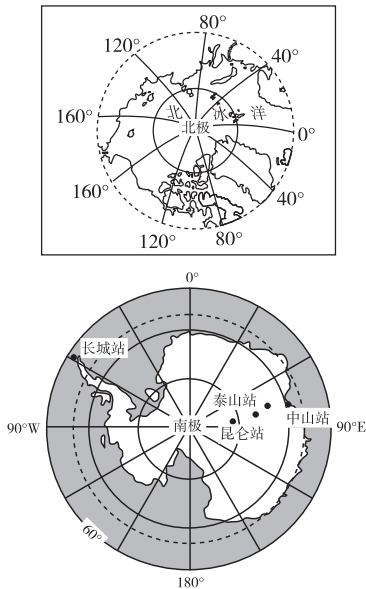
3. (2018·益阳) 南极地区是地球上最后一片净土,极地地区的环境保护受到全世界的重视。在开发利用南极地区时,下列做法可行的是 ()
A. 垃圾要烧掉或深埋在雪地中
B. 大规模开采矿产
C. 各国加强合作,履行南极保护义务
D. 禁止去南极考察

(2017·潍坊) 科考队员小张于 2016 年 11 月初,随中国科考船“雪龙号”从天津出发,远赴南极中山站、长城站进行科学考察。下图是南极考察路线图。读图,完成 4~6 题。



4. 小张随科考船从天津到长城站,经过的大洋依次是 ()
A. 大西洋、印度洋、太平洋
B. 太平洋、印度洋、大西洋
C. 太平洋、大西洋、印度洋
D. 大西洋、太平洋、印度洋
5. 小张在南极大陆实地考察后,得知南极酷寒的原因是 ()
①气温极低,导致蒸发量小,带走的热量少 ②地处高纬度,获得太阳光热少 ③绝大部分被厚达 2 000 米的冰层覆盖,海拔高 ④受海洋影响大
A. ①② B. ①④
C. ③④ D. ②③
6. 小张在南极大陆考察时,不可能遇见的危险是 ()
A. 暴风雪在冰原上不停地咆哮,使人晕眩迷途
B. 酷寒的天气,导致考察队员冻伤
C. 随时会遭受白熊的袭击,意外受伤
D. 纵横交错的冰隙随时可能吞没考察队员

读两极地区图,回答7~8题。



7. 两极地区共有的地理特征是 ()
- A. 以海洋为主 B. 纬度较低
- C. 冰雪覆盖 D. 动植物资源丰富
8. 下列关于两极地区的叙述,正确的是 ()
- A. 围绕北极地区的大洲是亚洲、非洲、欧洲
- B. 两极地区气候严寒的主要原因是冰雪覆盖
- C. 围绕南极地区的大洋是太平洋、大西洋、印度洋
- D. 昆仑站在中山站的西南方
9. 下列关于两极地区的叙述,不正确的是 ()
- A. 极地地区是研究地球环境的“天然实验室”
- B. 南极地区虽被称为“白色荒漠”,但淡水资源丰富
- C. 极地地区气候条件恶劣,都没有人类长期定居
- D. 到南极考察一般选择在北半球的冬季

二、综合题

10. (2017·岳阳) 今年2月初,我国第33次南极科考队到达罗斯海水域,刷新了全球科学考察船在南极海域到达最南的纪录。结合下图,回答下列问题。



- (1) 罗斯海水域地处南、北半球中的_____半球,东、西半球中的_____半球。
- (2) 罗斯海水域位于五带中的_____带。这次科考船到达该海域时,科考队员_____ (填“能”或“不能”)看到阳光斜射。
- (3) 请你就这次科学考察提出一个地理问题,并作答。

(4)就“保护罗斯海,人人有责”,写出简要的演讲提纲。

11. 读下列图文材料,回答问题。

材料一 2014年2月8日,中国第四个南极科考站泰山站在南极内陆冰盖腹地建成开站。泰山站架空设置是为了避免被飞雪掩埋,它的主要功能是承担中山站至昆仑站之间的“中继站”任务。

材料二 小明的爸爸是一位中国科学家,接到赴南极科考的任务,在考察南极地区最理想的时期出发了,原定陪小明参加的亲子活动被迫取消。

材料三 南极地区略图。

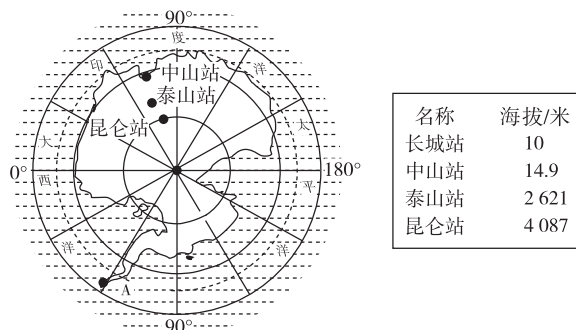


图1

- (1)图中字母A代表的科考站是_____。
- (2)爸爸不能陪伴小明一起参加_____ (填“寒假”或“暑假”)亲子活动。
- (3)泰山站在南极点的_____方向。
- (4)泰山站架空设计是为了_____。
- (5)爸爸给小明出示的照片中,拍摄于南极地区的是 ()



- (6)下列气候资料图中,与南极地区相符合的是 ()

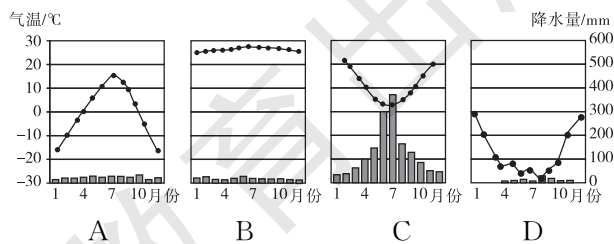


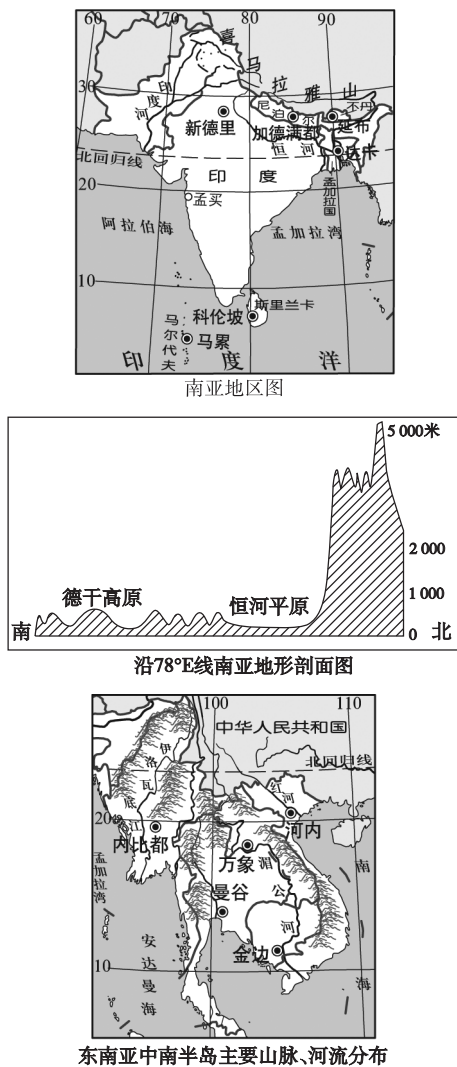
图3

- (7)结合材料三分析,我国四个南极科考站中昆仑站气温最低的原因是_____、_____。

章末整合

图释地理

典图一 南亚和东南亚图



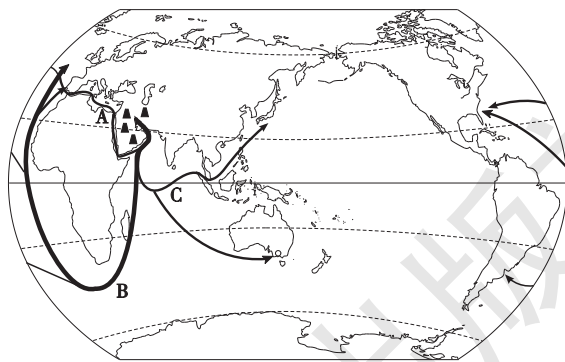
比较南亚地区和东南亚的中南半岛

项目	南亚地区	中南半岛
纬度位置	大部分处于10°N~30°N之间,北回归线横贯中部。大部分处于热带(五带、热量带)	大部分处于10°N~26°N之间,北回归线横穿北部。大部分处于热带(五带、热量带)
海陆位置	西临阿拉伯海,东临孟加拉湾,南临印度洋	西临孟加拉湾,东临南海

续表

项目	南亚地区	中南半岛
地形分布特点	三大地形区:北部为喜马拉雅山脉,中部为恒河—印度河平原,南部为德干高原	北部地势高峻,与我国山水相连,高山和大河由北向南延伸,形成山河相间、纵列分布的地表形态
气候类型	以热带季风气候为主	以热带季风气候为主
主要河流	恒河、印度河	湄公河、湄南河、红河、萨尔温江
主要农作物	小麦、水稻、棉花	水稻、热带经济作物

典图二 西亚石油输出图

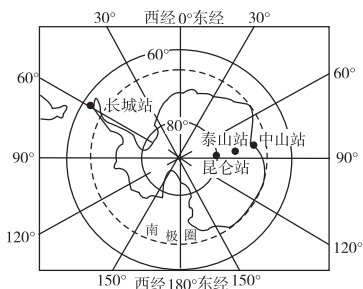
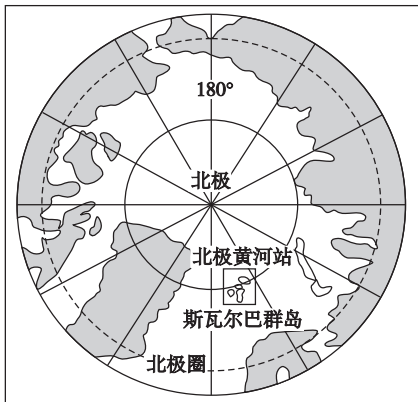


1. 西亚是目前世界上石油储量最丰富、石油产量和输出量最多的地区,探明储量约占世界总探明储量的一半以上。
2. 主要分布在波斯湾及其沿岸地区,重要产油国家有沙特阿拉伯、伊朗、科威特和伊拉克。
3. 西亚开采的石油 90% 供出口,出口总量约占世界石油出口总量的 3/5,主要输往西欧以及美国和日本等。

4. 石油输出路线

项目	经过的海洋、海峡、运河	到达的国家和地区
航线 A	波斯湾—霍尔木兹海峡—阿拉伯海—红海—苏伊士运河—地中海—直布罗陀海峡—大西洋	西欧、北美洲
航线 B	波斯湾—霍尔木兹海峡—印度洋—好望角—大西洋	西欧、北美洲
航线 C	波斯湾—霍尔木兹海峡—印度洋—马六甲海峡—太平洋	东亚

典图三 北极地区和南极地区图

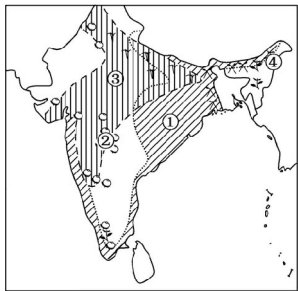


项目	北极地区	南极地区
范围	北极圈以北, 包括北冰洋、亚欧大陆和北美大陆的北部及一些岛屿	南极大陆及其沿海岛屿和陆缘冰, 还包括南太平洋、南大西洋、南印度洋的一部分
位置	纬度最高、跨经度最多、最北的地区	纬度最高、跨经度最多、最南的地区
海陆分布	以海洋为主(北冰洋)	以陆地为主(南极洲)
气候特征	与南极相比, 气温较高、降水较多、风力较小	酷寒、多狂风、降水稀少
代表动物	北极熊	企鹅
资源	石油、天然气、淡水	煤、铁、石油、天然气、淡水
考察站	黄河站	长城站、中山站、昆仑站、泰山站

第七章 基础巩固与训练

一、单项选择题

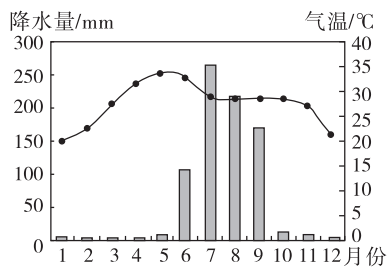
1. (2018·大庆) 下列关于东南亚“十字路口”位置的叙述, 正确的是 ()
 ①亚洲与大洋洲之间 ②亚洲与欧洲之间 ③太平洋与印度洋之间 ④太平洋与北冰洋之间
 A. ①② B. ①③
 C. ②③ D. ③④
2. (2018·黑龙江) 下列自然风光属于越南的是 ()
 A. 巴厘岛 B. 下龙湾
 C. 峡湾风光 D. 尼罗河沿岸风光
3. (2018·芜湖改编) 下列关于南亚季风的叙述, 正确的是 ()
 A. 1月吹东北季风, 降水较多
 B. 7月吹西南季风, 降水较少
 C. 雨季吹东北季风
 D. 西南季风给南亚带来丰沛的降水
4. 读图中农作物与其主要分布地区图, 搭配正确的是 ()



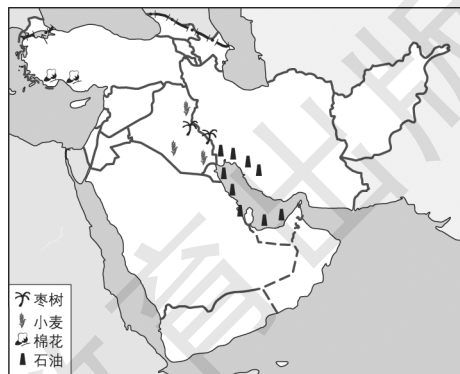
- A. 水稻—③ B. 小麦—①
 C. 黄麻—② D. 茶—④
5. 印度的农产品产量大, 而出口量却很少, 其原因是 ()
 A. 工业发达, 农业原料消耗多
 B. 畜牧业发达, 饲料需求量多
 C. 自然灾害频繁, 农产品产量不稳定
 D. 人口众多, 消耗农产品多
6. (2018·扬州) 印度被称为“世界办公室”, 与此称谓相关的是 ()
 A. 热带季风气候, 生产水稻和小麦
 B. 世界第二人口大国
 C. 西南季风不稳定, 水旱灾害频繁
 D. 服务外包产业发展迅速

棉花喜光热, 其生长的最适宜的温度为 25°C ~ 30°C 。下图为世界某著名棉花种植区气温年变化曲线和降水量柱状图。读图, 回答 7~8 题。

线和降水量柱状图。读图, 回答 7~8 题。



7. 该地区应当位于 ()
 A. 亚洲南部 B. 非洲北部
 C. 美国东南部 D. 巴西北部
8. 该地区棉花的播种时间一般为 ()
 A. 3—4月 B. 5—6月
 C. 7—8月 D. 10—11月
9. 下列关于南亚的叙述, 正确的是 ()
 A. 地形自南向北依次是山地—平原—高原
 B. 东濒阿拉伯海, 西临孟加拉湾
 C. 恒河平原主要种植棉花
 D. 是世界上人口分布稠密区之一
10. 印度北方的人们以小麦、玉米、豆类等为主食, 南方和东部沿海地区的人们以大米为主食, 中部德干高原则以小麦和杂粮为主食。这些特点的形成主要是受下列哪一因素的影响 ()
 A. 经济水平
 B. 宗教信仰
 C. 风俗习惯
 D. 各地的气候和农业生产特点
11. 读下图并判断, 下列关于该地区的叙述, 错误的是 ()



- A. 该地区处于“五海三洲之地”
 B. 石油主要分布在波斯湾及其沿岸地区
 C. 美索不达米亚平原是该区主要的农业区
 D. 本区以热带季风气候为主

欧洲西部是指欧洲的西半部,是近代科学技术发展最早的地区。结合所学知识,回答12~13题。

12. 下列有关欧洲西部自然地理特征的叙述,正确的是 ()

- A. 北部深入北极圈以北
- B. 地形多山地,平原只分布在南北两侧
- C. 以地中海气候为主
- D. 河流短小,水流湍急,航运价值低

13. 下列有关欧洲西部人文地理特征的叙述,正确的是 ()

- A. 经济发展水平居世界前列
- B. 农业以种植业为主,畜牧业欠发达
- C. 工业发达,但部门单一
- D. 旅游业主要依赖自然旅游资源

14. (2018·贵港) 欧洲的橄榄油、无花果、柑橘等耐旱木本经济作物的主要产区是 ()

- A. 地中海沿岸
- B. 北海沿岸
- C. 大西洋沿岸
- D. 波罗的海沿岸

15. (2018·贵阳) 2018年是“中国—东盟旅游年”,下列景点位于欧洲的是 ()

- A. 埃及金字塔
- B. 黄果树瀑布
- C. 埃菲尔铁塔
- D. 亚马孙雨林

16. (2018·贵阳) 关于极地地区,下列描述正确的是 ()

- A. 有极昼极夜现象
- B. 7月是南极考察最佳时期
- C. 都以海洋为主
- D. 北极地区代表动物是企鹅

读图,完成17~20题。

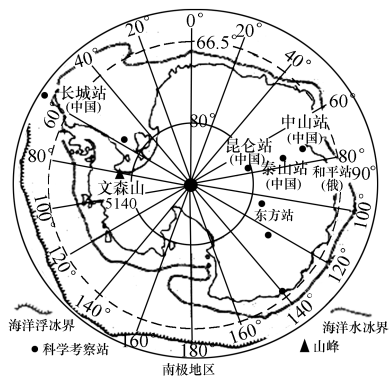


图1

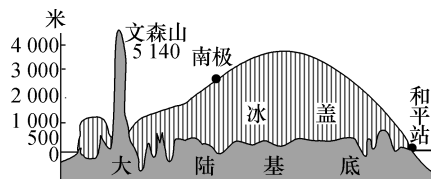


图2 南极大陆地形剖面

17. 我国南极科学考察站中,位于西半球的是 ()

- A. 长城站
- B. 昆仑站
- C. 泰山站
- D. 中山站

18. 下列关于南极洲地理环境特征叙述正确的是 ()

- A. 纬度最高,终年酷寒
- B. 地势低平,烈风较多
- C. 四周临海,气候湿润
- D. 冰雪覆盖,没有生物

19. 2月份有利于到南极建科学考察站的主要原因是 ()

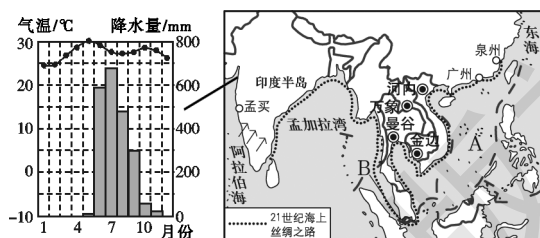
- A. 暖季,浮冰消融,载重船舶能靠岸
- B. 寒季,海域封冻,施工车辆能通行
- C. 极昼,热量充足,河流解冻有淡水
- D. 极夜,常见极光,建站施工有照明

20. 沿下列经线圈附近的南极大陆地形剖面图,与图2最吻合的是 ()

- A. $0^{\circ}\sim 180^{\circ}$
- B. $90^{\circ}\text{W}\sim 90^{\circ}\text{E}$
- C. $45^{\circ}\text{W}\sim 135^{\circ}\text{E}$
- D. $45^{\circ}\text{E}\sim 135^{\circ}\text{W}$

二、综合题

21. 建设“21世纪海上丝绸之路”,是我国的重要发展倡议。下图是亚洲局部图。读图,回答问题。



(1)“21世纪海上丝绸之路”经过的A海域是我国的_____;B海峡是东南亚著名的_____海峡。

(2)东南亚地区是“21世纪海上丝绸之路”的重要枢纽,包括中南半岛和_____群岛两大部分。中南半岛山脉、河流的分布特点是_____,大城市主要沿_____分布。

(3)孟买一年分为热、雨、凉三季,当盛行图中所示风向的季风时,为_____季,此时的气候特点是_____。在该气候的影响下,孟买附近沿海地区种植的主要粮食作物是_____。

22. 读图,回答下列问题。



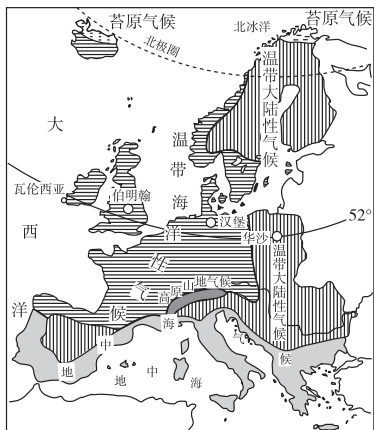
(1)请根据左上图具体描述西亚“五海三洲”的位置特点。

(2)西亚的石油主要分布在_____。运用右上图资料,请分别说出西亚石油的生产和出口情况:_____。

(3)西亚大部分地区的气候特点是_____,地面河流稀少,所以_____资源匮乏。

(4)西亚大部分国家的居民主要是_____(民族)人,大多数居民信奉_____(宗教)。

23. 读欧洲西部政区图及气候分布简图,回答下列问题。



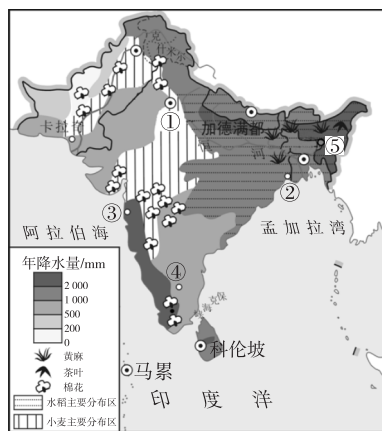
(1)从海陆位置看,该地区西部濒临_____洋。

(2)图中的温带海洋性气候区,多汁牧草生长旺盛,_____业发达;南部地中海沿岸受_____气候的影响,夏季炎热干燥,冬季温和多雨,成为世界著名的园艺业基地。

(3)水城威尼斯位于图中的_____国家(填图中的数字代号)。

(4)欧洲西部是工业革命的摇篮,从经济发展水平看,大部分属于_____国家,居民多属于_____人种。

24. (2017·桐城)读南亚主要经济作物和重要城市分布图,完成下列问题。



(1)图中城市①为印度的首都_____。

(2)图中③为印度最大海港城市_____,此地利用当地经济作物易发展棉纺织工业;②为印度最大城市_____,此地利用当地经济作物易发展麻纺织工业。

(3)6—9月,图中城市⑤位于西南季风_____(填“迎风坡”或“背风坡”),降水量大,有“世界雨极”之称,此地利用当地经济作物易发展_____业。

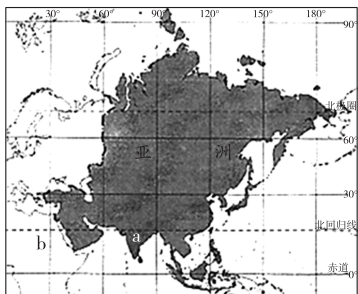
(4)图中城市④_____为印度软件外包产业的发源地。

综合训练一 第六章和第七章

一、单项选择题

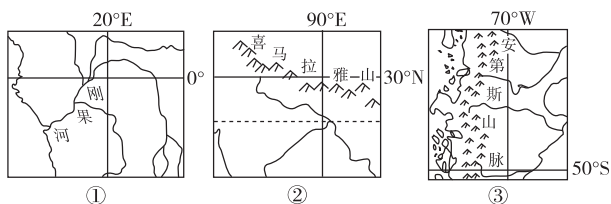
1. (2018·贵港)亚洲地形类型的主体是 ()
- A. 高原和盆地 B. 高原和山地
C. 山地和丘陵 D. 平原和丘陵

(2017·桐城)读图,完成2~4题。



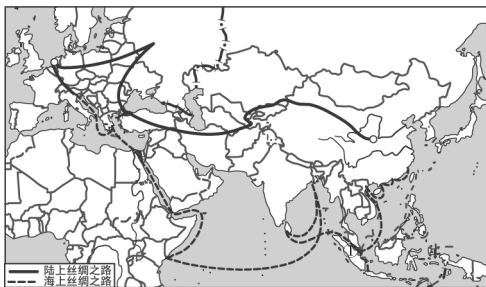
2. 下列河流属于亚洲和欧洲分界线的是 ()
- A. 叶尼塞河 B. 亚马孙河
C. 伏尔加河 D. 乌拉尔河
3. 图中字母 a 所在的半岛夏季盛行 ()
- A. 西南风 B. 东南风
C. 西北风 D. 东北风
4. 图中字母 b 所在的大洲是 ()
- A. 欧洲 B. 非洲
C. 大洋洲 D. 南美洲

读世界著名河流、山脉分布示意图,回答5~6题。



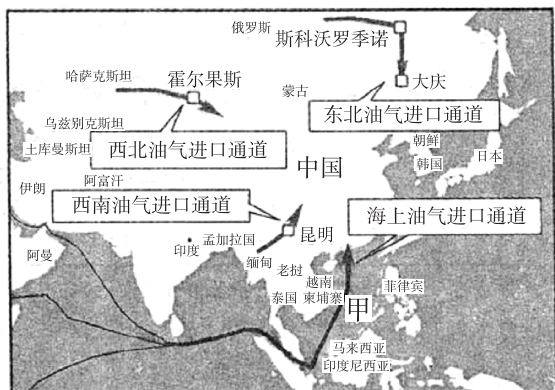
5. 非洲大陆的热带雨林分布在哪幅示意图表示的地区中 ()
- A. ① B. ② C. ③ D. ②③
6. 下列对②和③图中山脉的成因,判断正确的是 ()
- A. 河流的沉积作用
B. 河流的侵蚀作用
C. 板块的张裂拉伸
D. 板块的碰撞挤压

(2017·东营)“一带一路”国际合作高峰论坛于2017年5月14日至15日在北京举行,会议将进一步推进国际合作,有力带动周边国家和世界经济发展。读图,回答7~9题。



7. 在“21世纪海上丝绸之路”经过的地区中,①所在的海洋通道是 ()
- A. 马六甲海峡 B. 土耳其海峡
C. 霍尔木兹海峡 D. 巴拿马运河
8. 下列关于内罗毕所在的撒哈拉以南非洲地理特征的描述正确的是 ()
- A. 东临印度洋,西临太平洋
B. 人口增长快,是“黑色人种的故乡”
C. 地形以平原为主,气候湿润
D. 矿产资源丰富,经济发达
9. (2018·深圳)非洲被称为“热带大陆”的原因是 ()
- A. 大部分位于南北回归线之间
B. 北隔地中海与欧洲相望
C. 东临印度洋,西临大西洋
D. 本初子午线穿过非洲中部
10. (2018·达州)下列关于世界各地区的叙述,正确的是 ()
- A. 西亚地区是基督教、伊斯兰教和佛教的发源地,宗教冲突严重
B. 撒哈拉以南非洲大部分位于南北回归线之间,被称为“热带大陆”
C. 欧洲西部区域经济一体化程度高,所有国家都使用统一的货币——欧元
D. 中东产油国因大量出口石油而成为世界上人均收入较高的国家,属于发达国家

2015年1月30日,中缅石油管道全线贯通,开始输油。至此,我国已经有四大能源进口通道。读图,回答11~12题。



11. 下列有关我国海上油气进口通道的叙述,正确的是 ()
- 沿途经过了大西洋和太平洋
 - 该通道的油气主要来源于西欧地区
 - 沿途经过了交通要道直布罗陀海峡
 - 所经过的甲海域的周边国家盛产稻米
12. 据海关总署公布,2014年,我国进口原油3.1亿吨,我国所需原油的59.6%依赖进口。下列国家中,向我国出口该能源的是 ()
- 澳大利亚
 - 法国
 - 日本
 - 沙特阿拉伯
13. (2018·北碚区)东南亚交通“十字路口”的咽喉,指的是 ()
- 台湾海峡
 - 马六甲海峡
 - 白令海峡
 - 直布罗陀海峡
14. (2018·深圳)下列有关欧洲西部旅游业的叙述,错误的是 ()
- 旅游资源丰富
 - 国际旅游业最发达的地区
 - 旅游设施完善
 - 俄罗斯是本区旅游大国
15. (2017·湘西)近年来,东南亚成为新兴的旅游热点地区,小明同学今年春节参加了旅行社的“新马泰”游,在参观的过程中,小明同学不可能看到的景象是 ()
- 海边成片的椰子林、橡胶树
 - 和我国南方地区一样,种水稻吃米饭

- 铜矿丰富,制作工艺品较多
- 当地居民都是白皮肤,蓝眼睛,金色头发

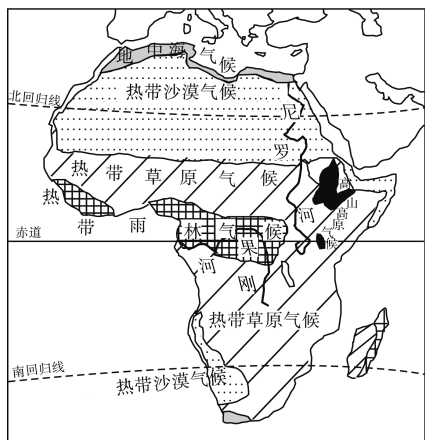
16. (2018·贵港)下列西亚国家组合全部属于阿拉伯国家的一组是 ()
- 伊拉克、科威特
 - 伊朗、伊拉克
 - 伊朗、以色列
 - 卡塔尔、土耳其
17. (2018·铁岭)为应付全球气候变化,做负责任的大国,中国应采取的相应措施是 ()
- 开展中非合作论坛
 - 参与联合国维和行动
 - 加入世界贸易组织
 - 加大节能减排力度
18. (2018·齐齐哈尔)下列旅游资源中,位于欧洲西部的是 ()
- 阿尔卑斯山脉
 - 金字塔
 - 富士山
 - 故宫
19. 读世界局部地区示意图,关于北极地区的叙述,正确的是 ()



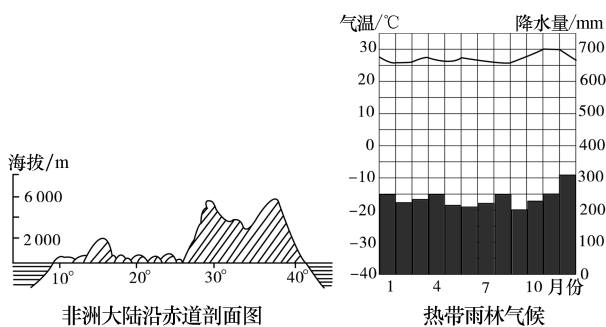
- 我国的冬季是北极科考的最佳时间
 - 黄河站没有极昼极夜现象
 - 图中沿海地区经常能看见企鹅
 - 全球变暖导致该地区海冰融化
20. 下列有关南极地区的叙述,正确的是 ()
- ①有“高原大陆”之称
 - ②储存着大量的固体淡水资源
 - ③极端恶劣的气候条件,使得南极地区几乎没有生物资源
 - ④11月至次年3月,是去南极进行科学考察的最佳季节
- ①②
 - ①④
 - ②③
 - ②④

二、综合题

21. 当地时间 2014 年 5 月 8 号上午, 国务院总理李克强出席了在尼日利亚首都阿布贾举行的第 24 届世界经济论坛非洲峰会, 并发表了题为《共同推动非洲发展迈上新台阶》的致辞。读图, 回答下列问题。



非洲的气候



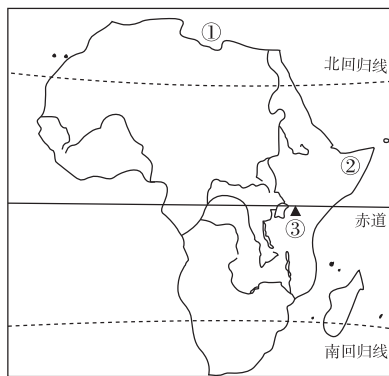
(1) 据图说出非洲大陆赤道附近的地势特征为_____。

(2) 根据图中提供的信息, 简述刚果河水量大、水能资源丰富的原因。

(3) 观察非洲大陆气候类型的分布, 归纳其分布特点: _____。

(4) 撒哈拉沙漠以南的非洲, 分布面积最广的气候类型是_____。

22. 读非洲图(甲图)和拉丁美洲图(乙图), 回答问题。



甲图



乙图

(1) 写出甲图中数字所代表的地理事物的名称。

① _____ 海 ② _____ 半岛
③ _____ 山

(2) 甲图中的大洲有世界上面积最大的 ()
A. 热带沙漠 B. 热带雨林
C. 针叶林 D. 落叶阔叶林

(3) 写出乙图中字母所代表的地理事物名称。
_____ 以南的美洲国家和地区称为拉丁美洲,
A 是 _____ 洋, B 是 _____ 高原。

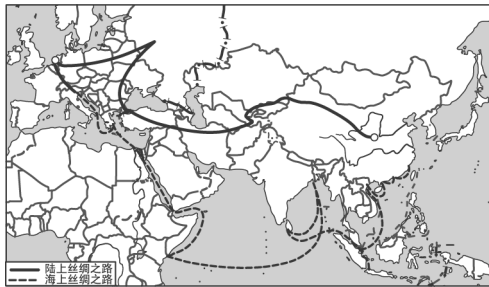
(4) 对比非洲与拉丁美洲, 完成下表。

项目	非洲	拉丁美洲
纬度位置的相似之处		
河流之最		
主要人种		

23. 阅读下列材料, 回答有关问题。

材料一 2013 年 9 月和 10 月, 中国国家主席习近平在出访中亚和东南亚国家期间, 先后提出共建“丝绸之路经济带”和“21 世纪海上丝绸之路”(以下简称“一带一路”)的重大倡议, 得到国际社会的高度关注。

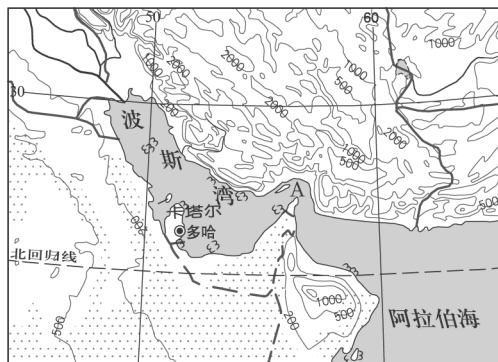
材料二 “一带一路”示意图。



- (1)“一带一路”战略涵盖亚洲、_____ 洲和 _____ 洲三大洲。
- (2)“海上丝绸之路”的海上交通要道有被日本称为“海上生命线”的 _____ 海峡和亚非两大洲分界线的 _____ 运河。
- (3)“海上丝绸之路”沿线国家和地区，资源丰富，货运繁忙。其中，从波斯湾地区运出的货物比重最大的是 _____ 。这种货物从波斯湾地区运往东亚的主要运输方式是 _____ 运输。
- (4)沿“陆上丝绸之路”自东向西直至西欧，年降水量的变化规律是先逐渐 _____ (填“增加”或“减少”)，再逐渐 _____ (填“增加”或“减少”)。形成这种变化规律的主要原因是 _____ ()
- A. 纬度位置 B. 海陆位置
C. 地形因素 D. 人为因素

24. 阅读材料和地图，回答下列问题。

材料 2015年3月20日，国际足联官方确认，2022年卡塔尔世界杯将于当年11月21日在多哈开幕，而决赛将在12月18日进行。这是首次在“冬季”举办足球世界杯。



- (1)波斯湾沿岸地区的国家都比较富裕，主要依赖大量开采和出口 _____ 资源。这些国家的居民多讲 _____ 语。
- (2)某油轮航经 A 海峡后，继续航行到达 19°N 、 61°E 附近……该油轮正航行在 _____ 海的西部海域。
- (3)历届世界杯足球赛都是在夏季举行，而 2022 年卡塔尔世界杯，国际足联却一反常态，安排在冬季举办……请从地理学的角度分析其主要原因。



第一节 日本

第 1 课时



扫码观看
本节精彩微课

课时目标

1. 能在地图上指出日本的位置、领土组成。
2. 能根据地图和资料,说出日本自然环境的基本特点,简单分析日本多火山、地震的主要原因。
3. 能根据地图和资料,分析说明日本的气候特点和成因。
4. 学会描述一个国家的地理位置,并会分析一个国家的自然环境对人类的影响,逐步养成理论联系实际、具体问题具体分析 的地理思维习惯。



课前预习

一、东亚岛国

位置 { 纬度位置:大部分地区位于 $30^{\circ}\text{N}\sim 45^{\circ}\text{N}$ 之间, 位于①_____带
海陆位置:位于②_____东部、③_____西北部
范围:由北海道、④_____、四国、⑤_____四个大 岛以及附近一些小岛组成

二、多山的地形

主要地形:①_____约占全国面积的 $3/4$ 以上
最高峰:②_____ ,海拔 3 776 米
多火山地震:地处③_____火山地震带上
最大平原:④_____

三、深受海洋影响的气候

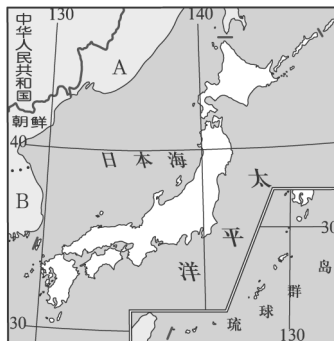
气候类型:①_____气候和②_____气候
气候差异:领土③_____ ,南北所跨纬度较大, 各地气候差异显著
气候特点:④_____分明,冬季较⑤_____ ,夏季 较⑥_____ ,气候的⑦_____特征明显夏季太 平洋沿岸多雨,冬季日本海沿岸多雪
灾害性天气:夏秋时节,西部和南部常遭受⑧_____ 的袭击



课堂探究

探究一 日本的地理位置

【问题探究】



1. 读图,描述日本的海陆位置。
2. 日本大致在 $23^{\circ}\text{N}\sim 46^{\circ}\text{N}$ 之间,大部分位于_____带。
3. 日本作为一个岛国,在经济发展和对外交往中有何利弊?

点拨:一个国家或地区的地理位置一般从海陆位置、经纬度位置以及相对位置等来分析。

(1)海陆位置:一般从所在大洲或大陆的方位、濒临的海洋来描述。

(2)经纬度位置:一般从经纬度范围,所在半球,所处低、中、高纬度,分布的“五带”范围等方面加以描述。

(3)相对位置:一般从相邻的国家、地区、省区以及特殊的地理事物等方面分析。

【教材典图精析】

教材 P₆₉ 图 8-1 日本地形分布

四大岛屿:日本领土中的四个大岛从北向南依次为北海道、本州、四国和九州,其中本州岛面积最大。

半球位置:读图可知,日本位于东半球、北半球。

经纬度位置:日本的经纬度绝大部分位于 23°N~46°N、130°E~145°E。

海陆位置:日本位于亚洲东部、太平洋西北部,是东亚的一个岛国。

相对位置:与俄罗斯、朝鲜、韩国、中国隔海相望。

探究二 多火山、地震的岛国

【问题探究】

1. 描述图中日本樱花开放时空变化规律并解释其原因。



2. 读上图,本州岛南部、四国岛和九州岛属于什么气候? 北海道岛和本州岛的大部分属于什么气候?

3. 读下表,回答问题。

城市	最冷月均温	最热月均温	年降水量
东京	3.7℃	25.1℃	1 610 mm
北京	-4.7℃	26.1℃	636 mm

东京与北京相比,冬季气温与夏季气温偏高还是偏低? 年较差和年降水量有什么特点? 由此分析气候的海洋性特征与大陆性特征的区别。

【典例研析】

(2018·兰州)温泉浴是日本人重要的生活习俗,日本温泉众多,主要原因是 ()

- A. 位于温带
B. 位于板块交界处
C. 山地众多
D. 环境优美,注重保护

答案:B

解析:日本位于太平洋板块与亚欧板块的交界处,地壳运动活跃,多火山,地热资源丰富,因此日本温泉众多。故选 B。

★ 课堂训练

日本九州岛今年 4 月连续发生地震,余震不断。当地不少建筑倒塌,山体滑坡。据此回答 1~2 题。

1. 发生所述现象,说明当地 ()
A. 地处板块内部
B. 地壳比较活跃
C. 大地坚固稳定
D. 地质灾害偏少
2. 当地传统民居,建筑材料大多采用 ()
A. 钢筋混凝土
B. 轻质材料
C. 木棍茅草
D. 厚重石块
3. 下列景观中,在日本不能见到的是 ()




A



B



C



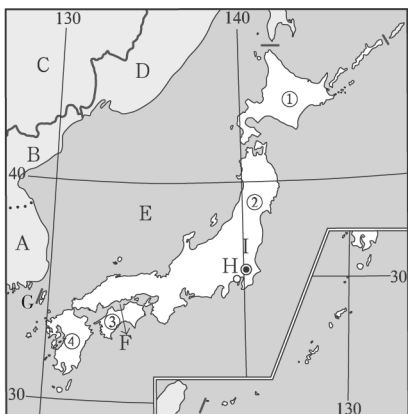
D

(2018·绵阳)日本是一个多灾害的国家,台风、暴雪、地震、泥石流时常发生。“合掌造”(如图)是日本农村的一种木造民居,屋顶用稻草覆盖,又厚又陡,利于防灾减灾。1995 年被评为世界文化遗产。据此回答 4~5 题。



4. “合掌造”所用的建筑材料来源于 ()
A. 渔业和牧业
B. 种植业和林业
C. 渔业和林业
D. 种植业和牧业

5. “合掌造”的结构有利于防御 ()
- A. 地震和暴雪 B. 泥石流和台风
- C. 地震和台风 D. 泥石流和暴雪
6. 读日本群岛简图, 回答下列问题。

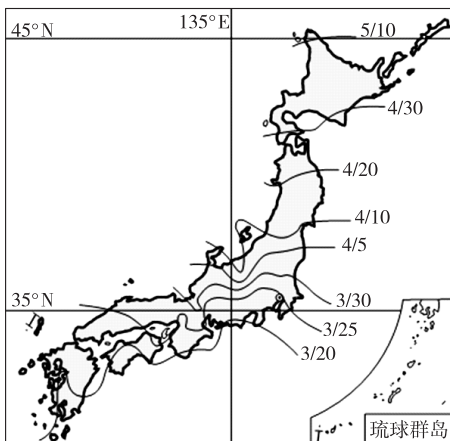


- (1) 主要岛屿: ① _____ ② _____
- ③ _____ ④ _____
- (2) 海上邻国: A _____ B _____
- C _____ D _____
- (3) 临海: E _____ 海 F _____ 内海
- G _____ 海峡
- (4) 山峰: H _____ 山
- (5) 平原: I _____ 平原

课后提升

一、单项选择题

1. (2018·北碚区) 2020年奥运会将在东京举行, 举办国日本领土的四个大岛中, 纬度最高的是 ()
- A. 北海道岛 B. 本州岛
- C. 四国岛 D. 九州岛
- (2017·苏州) 读 2017 年日本樱花开放时间预测图, 回答 2~3 题。

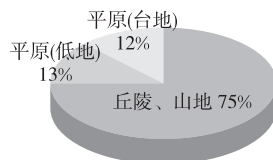


2. 北海道大多数地区的樱花开放时间为 ()
- A. 5 月份 B. 4 月份
- C. 3 月份 D. 2 月份

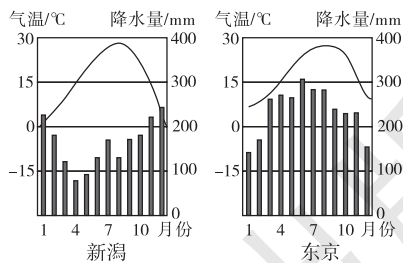
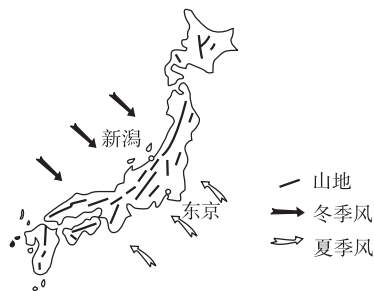
3. 导致日本各地樱花开放时间不同的主要原因是 ()
- A. 海陆位置 B. 人为因素
- C. 纬度位置 D. 樱花品种不同

4. (2018·哈尔滨) 下列关于日本的叙述, 错误的是 ()
- A. 多火山、地震的岛国
- B. 工业区主要分布在太平洋沿岸
- C. 位于太平洋板块和亚欧板块交界处
- D. 资源丰富的大国

读日本地形面积比较图, 回答 5~6 题。



5. 日本地形的特点是 ()
- A. 山地、丘陵为主 B. 地势低平
- C. 平原面积广 D. 高原为主
6. 下列关于日本的说法, 正确的是 ()
- A. 位于亚洲西北部 B. 海岸线平直
- C. 地狭人稠 D. 属于温带海洋性气候
- 读图, 回答 7~8 题。

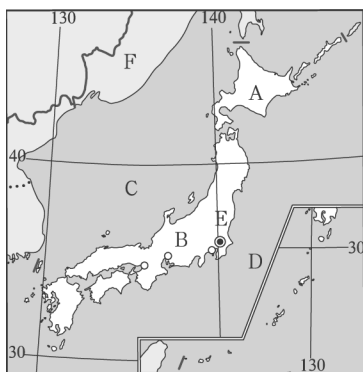


7. 下列关于新潟、东京气候差异的叙述, 正确的是 ()
- A. 新潟的温差小, 东京的温差大
- B. 东京受季风影响, 新潟不受季风影响
- C. 东京夏季降水少
- D. 新潟冬季降水多
8. 东京降水多的季节, 其盛行风向是 ()
- A. 西北风 B. 东南风
- C. 西南风 D. 东北风

9. (2018·大庆)下列有关日本多火山、地震原因的叙述,正确的是 ()
- A. 多山地 B. 国土狭长
C. 位于板块交界处 D. 面积小

二、综合题

10. 读日本地图,回答下列问题。



(1) 写出图中字母表示的地理事物的名称。

A _____ 岛 B _____ 岛 C _____ 海
D _____ 洋 E _____ 平原
F _____ (国家)

(2) 从海陆位置方面描述日本的地理位置: _____
_____。列举两个与日本有相似海陆位置的国家: _____、_____。

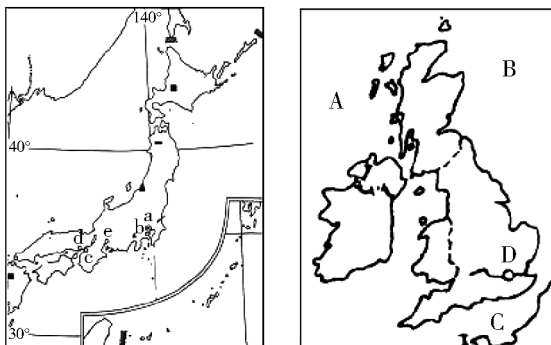
(3) 运用所学的地理知识解释以下现象的主要形成原因。

①现象一:日本的年降水量比同纬度的中国地区多。
主要原因: _____。

②现象二:日本森林资源丰富。
主要原因: _____。

③现象三:日本多发生地震。
主要原因: _____。

11. 读下图回答问题。



(1) 日本图中(左图)工业城市:a _____, b _____, c _____, d _____。

(2) 用“////”绘出日本工业区的分布。

(3) 从图中可以看出,日本工业主要分布在 _____ 洋沿岸。

(4) 右图中,A是 _____ 洋,B是 _____ 海,C是 _____ 海峡,D是英国首都 _____。

(5) 从海陆位置看,日本和英国都是 _____ 国,它们的气候都具有 _____ (填“大陆”或“海洋”)性特点。

(6) 从经纬度位置看,图上两国跨经纬度范围大的是 _____,纬度较高的是 _____,从东西两半球看,它们都位于 _____ 半球。

第 2 课时



扫码观看
本节精彩微课

课时目标

1. 运用地图和其他资料,联系日本自然条件的特点,简要分析日本发展经济的优势和劣势条件、发展经济的主要措施及经济特点。
2. 根据地图归纳日本交通的特点。
3. 根据资料说出日本东西方融合的文化特点和人口(或民族、宗教、语言)等人文地理要素的特点。
4. 举例说出日本与其他国家在经济、贸易、文化等方面的联系。

课前预习

一、高度发达的经济

- 经济概况: 日本人均国民生产总值居世界前列
- 2010 年,经济总量被中国超过,居世界第①_____位
- 工业 {
- 特点: 进口②_____, 出口③_____
 - 贸易对象: ④_____, 中国及欧洲各国
 - 发展方向: 向技术密集型和⑤_____方向发展, 传统工业向海外转移, 如东南亚和中国; 高科技工业向本州北部和九州南部扩散
 - 分布: 主要工业区分布在⑥_____
- 种植业 {
- 特点: 耕地面积狭小, 农业劳动力不足, 但农业生产水平高
 - 主要农产品: 稻米、水果、蔬菜和茶叶等
- 渔业 {
- 特点: 日本是世界渔业大国
 - 著名渔场: ⑦_____渔场
- 交通运输业 {
- 国际货运: 以海运为主
 - 国际客运: 以⑧_____为主
 - 国内客运: 以⑨_____和公路为主
 - 国内货运: 以⑩_____和海运为主

二、东西方融合的文化

- 古代: 受①_____文化影响很大
- 近现代: 受②_____文化影响较大
- 当代: 既保留有③_____的传统内容, 又兼有④_____特色

三、人口与主要城市

- 人口与民族 {
- 人口: 2009 年总人口 1.28 亿, 城市人口约占①_____
 - 民族: 绝大部分为②_____
 - 语言: 通用③_____
 - 宗教: 多信奉④_____教和佛教
- 城市及特点 {
- 首都: ⑤_____是全国⑥_____、经济、文化和交通中心
 - 科学城: ⑦_____
 - 古都: ⑧_____和奈良
 - 较大城市: ⑨_____、名古屋、横滨、神户等

课堂探究

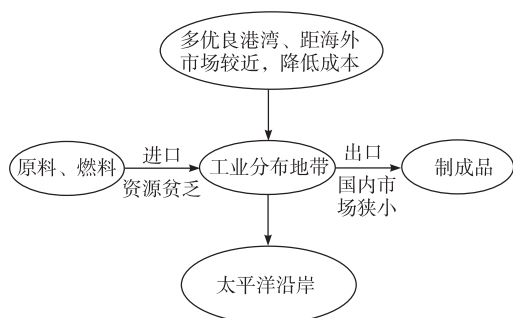
探究一 日本高度发达的经济

【问题探究】

1. 日本是如何因地制宜地发展本国经济的?
2. 日本工业沿海布局的原因是什么?

点拨: 日本矿产资源贫乏, 国内市场狭小, 对外贸易发达。工业布局在沿海, 便于进口原料和燃料, 出口工业制成品。

规律链接



探究二 日本主要城市的分布

【问题探究】

日本城市的分布有什么规律? 原因是什么?

点拨:读日本群岛工业分布图,可以看出日本城市的分布规律,原因可以从有利于城市形成与发展的角度分析。

【典例研析】

(2018·益阳)日本工业集中分布在太平洋沿岸的主要原因是 ()

- A. 气候条件优越 B. 沿海地势平坦
C. 矿产资源丰富 D. 海洋运输便利

答案:D

解析:日本工业集中分布在太平洋沿岸的主要原因有:日本国内资源缺乏,市场狭小,将工业布局在沿海港口附近,便于原料、燃料的输入和产品的输出,节省运费;该地城市和人口集中,是国内最大的消费地;工厂靠近码头,交通便利。故选D。

课堂训练

1. 日本工业高度发达和工业产品主要出口国外的原因分别是 ()

- ①科技发达 ②劳动力丰富且廉价
③国内市场狭小 ④矿产资源丰富
A. ①② B. ②④
C. ①③ D. ②③

2. (2017·常德)下列关于日本的叙述,正确的是 ()

- A. 文化具有东西方融合的特征
B. 人们以面食为主
C. 气候深受西风影响,终年温暖湿润
D. 河流源远流长

3. 日本耕地面积小,但稻米的产量已基本自给,其主要原因是 ()

- ①围海造地,使人均占有耕地面积大大增加 ②重视生物技术和水利发展,单位面积产量高 ③人口密度小,粮食需求量少 ④位于季风气候区,有利于水稻生长

- A. ①② B. ③④
C. ①③ D. ②④

(2018·临沂)日本是我们一衣带水的邻邦,是我国主要出境旅游目的地之一。据此完成4~5题。

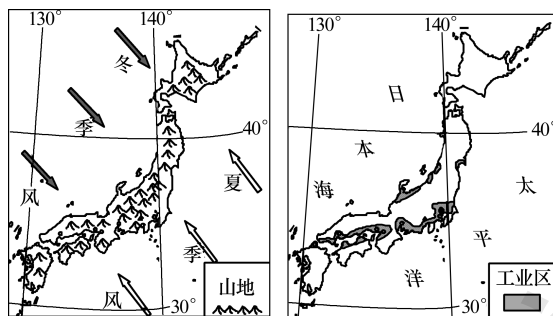
4. 导游介绍:日本工业集中分布在太平洋沿岸地区。小明分析了有利条件,其中错误的是 ()

- A. 城市人口集中,是国内最大的消费地
B. 港口条件优越,巨型船舶可以停靠
C. 沿海平原狭小,填海造陆价格高
D. 工厂靠近码头,陆地交通便利

5. 旅游沿途小明看到:和服和“洋”服并存、和食和“洋”快餐并存、和屋和“洋”房并存,这反映了日本的文化特点是 ()

- A. 民族构成复杂,大和民族占绝对优势
B. 东西方文化兼容
C. 岛国多火山、地震
D. 受中国文化的影响小

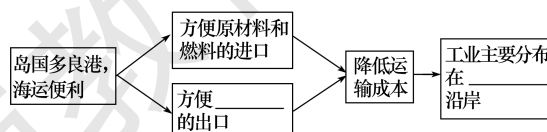
6. 读日本相关图文资料,完成下列问题。



(1)日本是东亚岛国,领土中面积最大的岛屿是_____,主要的地形类型是_____。

(2)日本海沿岸年平均降雪量在400 mm以上,在日本被称为“特别豪雪地带”。试分析日本海沿岸冬季降雪“特别豪”的原因。

(3)将日本工业分布特点的主要原因填写完整。



课后提升

一、单项选择题

- 下列属于日本发展经济的有利条件是 ()
 ①日本劳动力素质高 ②日本水力资源丰富
 ③日本矿产资源丰富 ④日本领土狭小,平原面积广大 ⑤日本海岸线曲折,多优良港湾
 A. ①②⑤ B. ①②③
 C. ②③④ D. ①④⑤
- (2018·齐齐哈尔)日本工业区集中分布在 ()
 A. 日本海沿岸 B. 鄂霍次克海沿岸
 C. 朝鲜海峡沿岸 D. 太平洋沿岸
- 贝贝准备暑假去日本旅游,为此查阅了大量资料。以下资料中错误的是 ()
 A. 海洋渔业发达,鱼是日本人喜爱的食品
 B. 位于环太平洋火山地震带,建筑一般具有防震、抗震的功能
 C. 富士山因纬度高,山顶常年积雪
 D. 日本具有东西方兼容的文化
- 下列关于日本的说法中,正确的是 ()
 A. 日本劳动力资源丰富,因而是资源大国
 B. 日本四个大岛中面积最大的是北海道
 C. 日本经济十分发达,是世界上的经济强国
 D. 日本工业产品销售主要依靠国内市场
- 日本经济总量位居世界第三,经济实力雄厚。下列有关日本发展经济的条件的叙述,不正确的是 ()
 A. 国土面积狭小,资源匮乏
 B. 日本经济是“进口—加工—出口”型
 C. 海岸线曲折,多优良港湾,适合发展远洋运输
 D. 平原面积广大,种植业发达
- (2018·太原)日本经济高度发达,但对外依赖严重,其主要原因是 ()
 A. 经济发展迅速,原料需求量大
 B. 以山地丘陵为主,平原狭窄
 C. 矿产资源贫乏,国内市场狭小
 D. 地处板块交界处,多火山、地震
- (2018·东营)下列关于日本的叙述,正确的是 ()
 A. 国土面积狭小,领土由四大岛屿组成
 B. 地形以山地、丘陵为主,河流短小湍急
 C. 民族构成复杂,具有东西方兼容的文化
 D. 劳动密集型产业已转移至欧洲西部地区

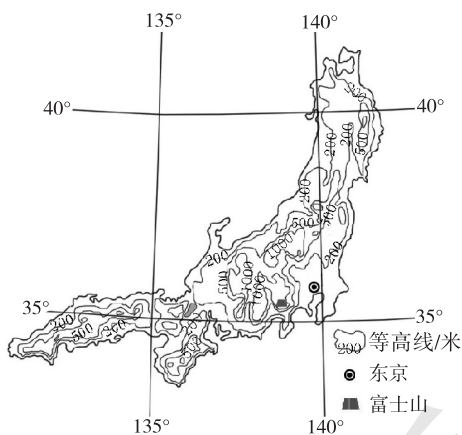
近年来,日本加大海外投资,不断地把工厂迁移到国外。据此回答8~9题。

- 对迁入国来说,其好处是 ()
 ①解决资金短缺问题 ②引进先进的生产技术
 ③降低运输成本,提高经济效益 ④提供丰富的资源
 A. ①② B. ①③ C. ②③ D. ②④
- 在日本的外迁企业中,大多是 ()
 ①耗用大量资源的企业 ②需用大量劳动力的企业
 ③高新技术企业 ④污染较重的企业
 A. ①②③ B. ①②④
 C. ①③④ D. ②③④
- 下列关于日本的叙述,正确的是 ()
 A. 地形以平原、丘陵为主
 B. 地广人稀,资源丰富
 C. 工业主要分布在日本海沿岸
 D. 大和民族占绝对优势

二、综合题

11. 阅读材料和地图,回答下列各题。

材料 东亚某岛屿山清水秀,多火山地震……近年来,每年都有大量的中国游客到该岛屿旅游及购物。



- 该岛屿的地形以_____和丘陵为主。因地处_____的交界处,多火山地震。
- 该岛屿矿产资源贫乏,但经济发达。其发展经济最优越的自然条件是什么?
- 简述中国游客喜欢去该岛屿旅游的原因。



第二节 埃及



扫码观看
本节精彩微课

课时目标

1. 能在地图上指出埃及的地理位置、领土组成和首都。
2. 能根据地图和其他资料概括埃及自然环境的基本特点。
3. 能运用地图和其他资料,联系埃及自然条件的特点,简要分析该国因地制宜地发展工农业和旅游业的实例。
4. 能根据地图和其他资料,说出埃及的种族和人口(或民族、宗教、语言)等人文地理要素的特点。

课前预习

一、地跨两洲

地理位置及其重要性	地理位置:位于非洲①_____部,领土还包括苏伊士运河以东、亚洲西南端的②_____半岛
	地理位置的重要性:既是③_____、非之间的陆路交通要冲,也是④_____洋与印度洋之间海上航线的捷径 苏伊士运河:沟通⑤_____海和⑥_____海,联结大西洋和印度洋
居民特征	民族:90%以上是⑦_____人
	宗教:多信奉⑧_____教
	语言:阿拉伯语为国语
	首都:⑨_____是非洲最大的城市和世界历史文化名城

二、沙漠广布

地形及人口分布	地形:大部分地区海拔在200~700米之间,①_____面积占90%以上
	人口分布:②_____河下游河谷平原和入海处形成的三角洲,聚居着全国③_____以上的人口
气候	大部分地区为④_____气候,终年炎热干燥 地中海沿岸为⑤_____气候,冬季温和多雨,夏季炎热干燥
尼罗河	自南向北流,注入⑥_____ ,被埃及人称为“⑦_____”

三、发展中的工农业

工业	工业规模:在非洲仅次于南非
	主要工业部门:①_____、电力、②_____、机械、纺织、食品等,石油工业地位突出
农业	分布:③_____谷地和三角洲地区
	主要农产品:④_____、小麦、玉米、甘蔗和水果等,尤以盛产优质⑤_____而著称

四、富有特色的旅游业

地位:埃及旅游业发达,①_____收入是外汇收入的重要来源
主要旅游资源:②_____、③_____、卢克索古城以及阿斯旺水坝等

课堂探究

探究一 地跨两洲、沙漠广布

【问题探究】

1. 埃及的地理位置有什么重要性?为什么世界上某些大国争夺苏伊士运河的主权?

2. 北回归线穿过埃及的什么部位?埃及大部分地区是什么气候类型?有什么特点?

3. 埃及的人口、城市和耕地主要分布在什么地方?为什么?

点拨:从海陆交通、控制着哪些交通要道来分析某个国家或地区地理位置的重要性;根据气候类型的分布规律,判断埃及的主要气候类型;埃及大部分为热带沙漠气候,因此人口、城市和农业生产的分布受水源条件的影响。

【教材典图精析】

教材 P₇₆图 8-13 埃及地形分布

海陆位置:埃及东临红海,北临地中海,地跨亚、非两洲。绝大部分位于非洲东北部,西奈半岛属于亚洲。

纬度位置:埃及大部分位于北回归线和 30°N 之间。

位置重要性分析:①既是亚、非之间的陆路交通要冲,也是大西洋与印度洋之间海上航线的捷径,战略位置十分重要。②境内的苏伊士运河沟通红海与地中海,大大缩短了大西洋与印度洋沿岸各港口之间的航程。

地形特征:埃及大部分地区海拔为 200~700 米,沙漠面积占 90%以上。

探究二 尼罗河与埃及

【问题探究】

- 结合教材 P₇₉ 的埃及矿产和物产分布图,说一说埃及主要矿产和物产的分布特点。
- 结合气候分析,尼罗河为什么被埃及人民称为“生命之河”?
- 假如你去埃及生活,你会选择在什么地方居住?为什么?
- 埃及名胜古迹的分布有何特点?若游览主要景点,应选择什么交通工具最合适?

【典例研析】

(2018·江西)下列关于埃及位置和范围的叙述,正确的是 ()

- A. 北临红海 B. 位于尼罗河上游
C. 跨非、亚两大洲 D. 主要位于热带地区

答案:C

解析:埃及北临地中海,A项错误;尼罗河在埃及境内注入地中海,因此埃及位于尼罗河中下游,B项错误;非、亚两大洲界线之一苏伊士运河位于埃及境内,即埃及跨非、亚两大洲,C项正确;埃及大部分位于北回归线以北、北极圈以南的北温带,D项错误。故选C。

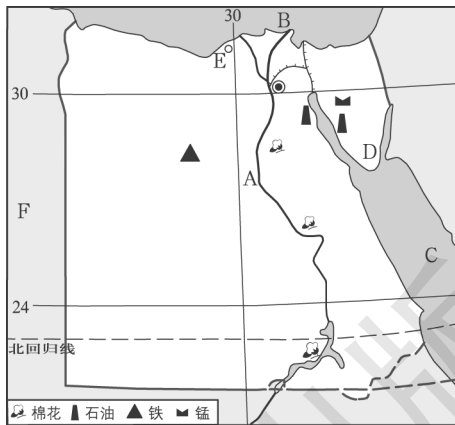
课堂训练

- (2018·衡阳)下列有关国家说法正确的是 ()
A. 埃及是四大文明古国之一,位于尼罗河上游
B. 巴西矿产资源丰富,素有“坐在矿车里的国家”之称
C. 法国花卉种植业发达,尤其以郁金香而驰誉世界
D. 日本具有东西方融合的文化特色,居民大部分为大和族
- (2017·贵港)一位外国友人,身穿白色长袍,用阿拉伯语与人交流。他最可能来自的国家是 ()
A. 印度 B. 英国
C. 埃及 D. 俄罗斯
- 下列四个旅游景点,属于埃及的是 ()



A B C D

- 埃及的农业主要分布在 ()
①地中海沿岸 ②尼罗河谷地 ③尼罗河三角洲
④红海沿岸
A. ①② B. ②③ C. ③④ D. ①④
- (2018·江西)苏伊士运河沟通了 ()
A. 大西洋和印度洋 B. 大西洋和太平洋
C. 印度洋和太平洋 D. 太平洋和北冰洋
- 读图,回答下列问题。



- A 为 _____ 河,自 _____ 向 _____ (方向)注入 B _____ 海。
- 苏伊士运河是世界上最繁忙的运河之一,它沟通了地中海和 C _____;港口 E 为 _____。
- 图中 F 是 _____ (国家);D 是 _____ 半岛,属于 _____ 洲。
- 图中穿过的一条重要纬线(虚线)是 _____。
- 埃及主要的气候类型是 _____。当 B 沿岸地区处于温和多雨的季节时,A 河处于 _____ (填“汛期”或“枯水期”)。

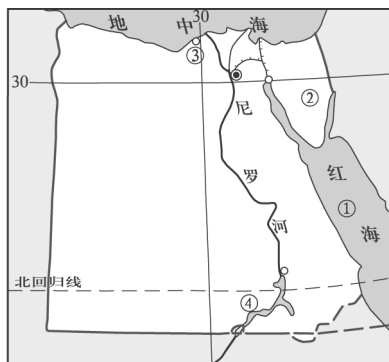
(6)由图例可看出,埃及主要的矿产是_____,主要农产品是_____。

(7)埃及是文明古国,列举一处著名的文物古迹。

课后提升

一、单项选择题

埃及是世界古代文明的发祥地之一,战略位置十分重要。读埃及图,回答1~2题。



- 图中字母代表的地理事物,正确的是 ()
 - ①—波斯湾
 - ②—马来半岛
 - ③—塞得港
 - ④—纳赛尔水库
- 下列关于埃及的叙述,正确的是 ()
 - 首都位于地中海沿岸,是非洲最大的城市
 - 名胜古迹众多,多分布于尼罗河沿岸
 - 信奉基督教,官方语言为阿拉伯语
 - 工业规模居非洲之首,石油工业地位突出
- (2018·深圳)下列关于尼罗河的叙述,正确的是 ()
 - 尼罗河定期泛滥主要在上游
 - 尼罗河泛滥是因为流经热带雨林区
 - 尼罗河下游人口富庶
 - 尼罗河是世界上径流量最大的河流
- (2018·深圳)下列地形区中,属于非洲的是 ()
 - 世界上面积最大的平原
 - 世界上面积最大的沙漠
 - 世界上面积最大的湖泊
 - 世界上面积最大的高原
- (2018·湘西改编)埃及气候炎热干燥,当地人口以及农业生产都集中在_____下游河谷平原和三角洲地区 ()
 - 尼罗河
 - 恒河
 - 幼发拉底河
 - 底格里斯河

6. 埃及的农业在国民经济中所占份额较大,其世界著名的农产品是 ()

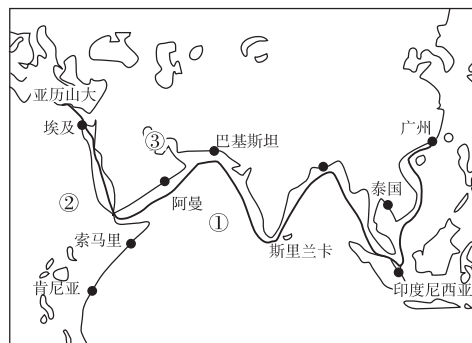
- 小麦
- 长绒棉
- 玉米
- 甘蔗

7. 下列有关埃及经济的叙述中,不正确的是 ()

- 主要农产品有棉花、小麦、玉米、甘蔗和水果等
- 石油工业地位非常突出
- 苏伊士运河成为埃及经济发展的重要支柱
- 尼罗河谷地是世界上稻米的主要产区

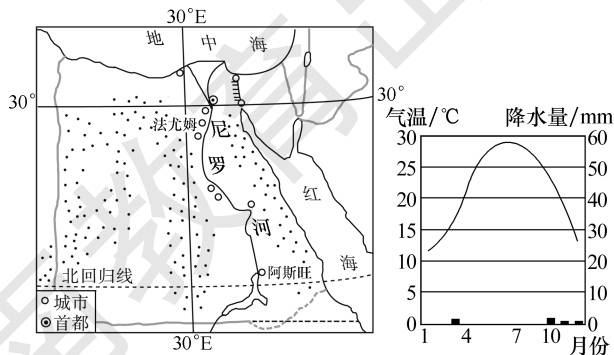
二、综合题

8. 一艘中远集运公司的货轮,从广州出发,沿“海上丝绸之路”前往埃及亚历山大港。读图回答问题。



- 货轮途经的大洋①是_____。
- 货轮到达的大洲②是_____。
- 货轮在①大洋与从③地区驶来的万吨巨轮相遇,该巨轮最有可能装载的货物是_____。
- 长绒棉是埃及著名的出口商品,该国种植长绒棉的有利条件有哪些?

9. 国家主席习近平于2016年1月19日至23日对沙特、埃及和伊朗“中东三国”进行了国事访问。其中埃及是中东阿拉伯世界中最具影响力的国家。读埃及城市分布图(左图)和法尤姆气温年变化曲线和降水柱状图(右图),完成下列问题。



- (1)“中东三国”按照经济发展水平,属于_____国家,其居民多信仰_____。
- (2)埃及的城市分布有何特点?并简要分析其原因。

- (3)埃及是一个地跨_____、非两大洲的国家,其首都都是_____。



第三节 俄罗斯



扫码观看
本节精彩微课

课时目标

- 1.能在地图上指出俄罗斯的地理位置、领土组成和首都。
- 2.能根据地图和其他资料,概括俄罗斯自然环境的基本特点。
- 3.能运用地图和其他资料,联系俄罗斯自然条件的特点,简要分析该国因地制宜地发展经济的实例。
- 4.能根据地图归纳俄罗斯交通运输线路分布的特点。
- 5.能根据地图和其他资料,说出俄罗斯的种族和人口(或民族、宗教、语言)等人文地理要素的特点。

课前预习

一、面积最大的国家

位置与面积 { 位置:北临①_____,西临波罗的海,西南临黑海、里海,东临②_____洋
面积:1 709.8 万平方千米,是世界上面积最大的国家,也是唯一地跨③_____两大洲和东、西两半球的国家

地形特征:俄罗斯的地势东高西低,地形以平原和④_____为主,平原地形约占全国总面积的70%

地形区及界线:自西向东为东欧平原、⑤_____山脉、西西伯利亚平原、⑥_____河、中西伯利亚高原、勒拿河、东西伯利亚山地

气候 { 气候特征:以⑦_____气候为主,冬季⑧_____而漫长,夏季凉爽而短促

其他气候类 { 寒带气候:北冰洋沿岸
温带季风气候:太平洋沿岸

河流 { 伏尔加河有俄罗斯的“母亲河”之称,自北向南注入⑨_____海

鄂毕河、叶尼塞河、勒拿河自南向北注入北冰洋

自然资源 { 特征:自然资源丰富,种类繁多,蕴藏量大,自给程度高
矿产资源:石油、天然气、煤、铁、金、铜等的储量均居世界前列

森林资源:拥有世界上面积最大的⑩_____区

水资源:河川径流总量居世界第2位。贝加尔湖是世界上最深、淡水储量最大的湖泊

二、发展中的经济

特点:工业基础雄厚,①_____齐全

部门:能源、冶金、机械、化工、航空航天、核工业等

分布:主要工业区大多分布在②_____洲部分

种类:农牧业并重,农作物主要有③_____、马铃薯、亚麻、甜菜、向日葵等。畜牧业以饲养牛、猪、羊为主

分布:④_____平原南部的⑤_____河流域和顿河流域

主要运输方式:⑥_____和公路

分布:铁路以⑦_____为中心呈放射状分布,在欧洲部分较为密集

主要铁路线:⑧_____大铁路,横贯亚欧大陆,被称为亚欧大陆桥;贝阿铁路

三、人口与城市

人口:2009年,人口达1.42亿,全国将近4/5的人口和大多数城市分布在①_____部分

②_____:首都,位于东欧平原中部,是俄罗斯最大的城市和政治、经济、文化、交通中心
圣彼得堡:位于俄罗斯西北部,是俄罗斯第③_____大城市和著名海港

④_____:俄罗斯北冰洋沿岸最大的城市和终年不冻港

符拉迪沃斯托克(海参崴):俄罗斯⑤_____沿岸最大的港口城市

⑥_____:西伯利亚地区的中心城市,以机械、钢铁工业著称

课堂探究

探究一 面积最大的国家

【问题探究】

俄罗斯幅员辽阔,是世界上面积最大的国家。看教材 P₈₁图 8-23 俄罗斯地形分布,回答问题。

1. 俄罗斯是地跨亚、欧两洲的国家,请在图中找出依据。
2. 俄罗斯是地跨东、西半球的国家,请在图中找出依据。
3. 判断俄罗斯东西方向的地势特点,并在图中找出依据。
4. 判断俄罗斯西伯利亚地区南北方向的地势特点,并在图中找出依据。

【教材典图精析】

教材 P₈₁图 8-23 俄罗斯地形分布

地跨两大洲:乌拉尔山脉、乌拉尔河穿过俄罗斯境内,故俄罗斯地跨亚洲和欧洲。

地跨两半球:160°E 经线穿过俄罗斯东部,故俄罗斯地跨东、西两半球。

纬度位置:俄罗斯大部分位于 50°N~70°N 之间,领土大部分位于北温带,北部一小部分位于北寒带。

海陆位置:俄罗斯位于亚欧大陆北部,北临北冰洋,西临波罗的海,东临太平洋,南临黑海、里海,是一个典型的临海国家。

主要邻国:俄罗斯的陆上邻国有挪威、芬兰、爱沙尼亚、拉脱维亚、立陶宛、波兰、白俄罗斯、乌克兰、格鲁吉亚、阿塞拜疆、哈萨克斯坦、中国、蒙古、朝鲜;隔白令海峡与美国的阿拉斯加相望。

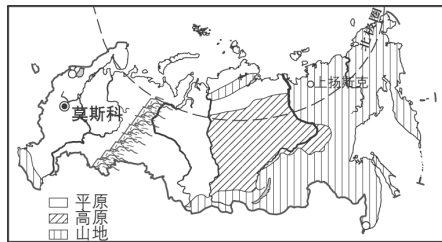
图例剖析:图中不同的颜色表示了不同的海拔。

地势特点:俄罗斯的地势东高西低。俄罗斯西伯利亚地区南高北低,判读依据有两点:(1)分层设色地形图的颜色所代表的高度;(2)河流的流向。

四大地形区及其界线:自西向东依次为东欧平原、西西伯利亚平原、中西伯利亚高原、东西伯利亚山地,分别以乌拉尔山、叶尼塞河、勒拿河为界。

探究二 自然环境

【问题探究】



1. 描述俄罗斯的地形特征。想一想,俄罗斯的地形特征对河流分布有什么影响?

2. 俄罗斯地域辽阔,东西部气候有很大的差异。看教材 P_{82~83} 活动第 3 题的表格资料,以“莫斯科”和“上扬斯克”为例进行思考,两地的气候特征有什么不同? 为什么?

【典例研析】

(2018·长沙)2018 年世界杯在俄罗斯举行,本届世界杯比赛场地主要分布在东欧平原南部,其原因不包括 ()

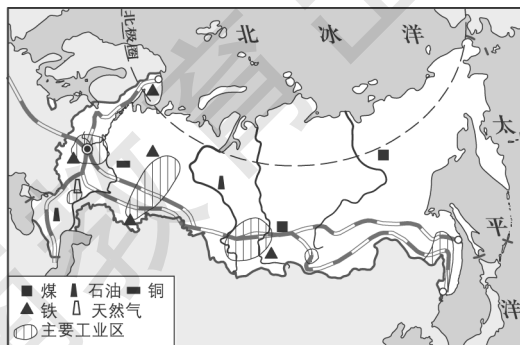
- A. 地处高纬,终年温和
- B. 平原广布,地势平坦
- C. 人口众多,城市密集
- D. 交通便捷,通达性好

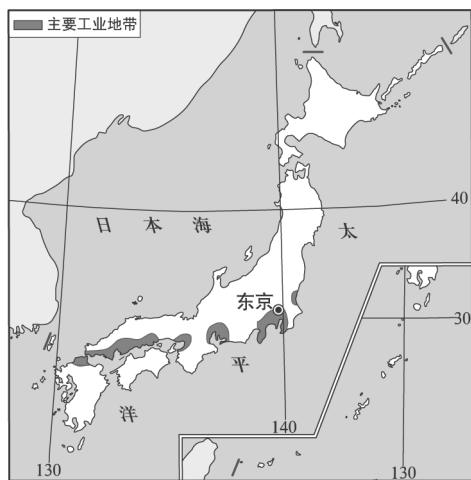
答案:A

解析:东欧平原地势平坦,这里人口众多,城市密集,且交通便利,能为人员往来提供便捷的交通条件。俄罗斯东欧平原部分属于温带大陆性气候,该气候类型的特点是冬冷夏热,降水较少。故选 A。

探究三 发展中的经济

【问题探究】





日本工业地带的分布

1. 俄罗斯与日本的工业分布有何不同? 原因是什么?

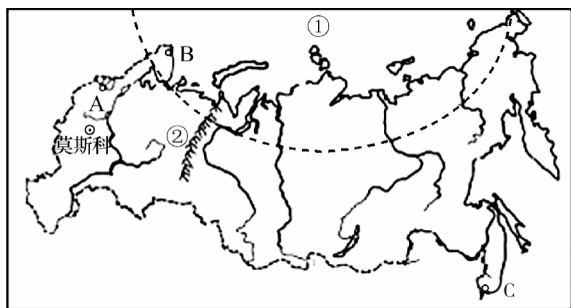
2. 俄罗斯发展农业的制约因素是什么?

3. 俄罗斯农业分布的成因是什么?

4. 俄罗斯为什么要加大对东部地区的开发?

【典例研析】

如图是俄罗斯简图,读图,完成下列问题。



(1) 俄罗斯东北隔_____海峡与北美洲相望,大洋①的名称是_____,山脉②的名称是_____。

(2) 港口 A 的名称是_____, A、B、C 三个港口中会出现极昼极夜现象的是_____。

(3) 俄罗斯的农业区主要分布在_____平原,其作物熟制为_____,该国大部分区域不适宜发展种植业的主要原因是_____。

答案:(1)白令 北冰洋 乌拉尔山脉

(2)圣彼得堡 B

(3)东欧 一年一熟 纬度高,气温低,热量不足

解析:(1)俄罗斯东北隔白令海峡与北美洲相望,大洋①的名称是北冰洋,山脉②的名称是乌拉尔山脉。(2)港口 A 的名称是圣彼得堡,B 是摩尔曼斯克,C 是符拉迪沃斯托克,其中摩尔曼斯克会出现极昼极夜现象。(3)俄罗斯的农业区主要分布在东欧平原,其作物熟制为一年一熟,该国大部分区域不适宜发展种植业的主要原因是纬度高,气温低,俄罗斯主要属于温带大陆性气候。

课堂训练

1. 莫斯科位于 ()

- A. 西欧平原上
- B. 东欧平原上
- C. 西西伯利亚平原上
- D. 中西伯利亚高原上

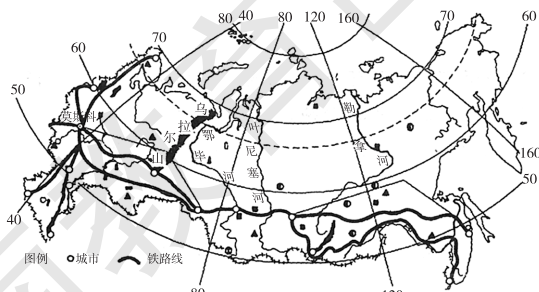
2. (2018·常德)下列关于俄罗斯的描述,不正确的是 ()

- A. 冬季严寒而漫长,夏季凉爽而短促
- B. 伏尔加河注入黑海
- C. 农业主要分布在伏尔加河流域和顿河流域
- D. 大部分人口和城市分布在乌拉尔山、乌拉尔河以西

3. (2018·湘潭)我国与俄罗斯经济来往密切,我国从俄罗斯大量进口的矿产是 ()

- A. 煤炭、铁矿石
- B. 煤炭、稀土
- C. 石油、天然气
- D. 金矿、铜矿

(2017·菏泽)俄罗斯幅员辽阔,是世界上面积最大的国家,也是唯一地跨亚、欧两大洲和东、西两半球的国家。读俄罗斯主要城市和铁路干线分布图,完成 4~5 题。



俄罗斯主要城市和干线分布图

4. 下列有关俄罗斯位置的叙述,正确的是 ()
- ①大部分在东半球,小部分在西半球 ②大部分在欧洲,小部分在亚洲 ③大部分在西半球,小部分在东半球 ④大部分在亚洲,小部分在欧洲
- A. ①② B. ②③ C. ③④ D. ①④
5. 俄罗斯交通运输业发达,铁路与城市分布关系密切,下列说法错误的是 ()
- A. 交通运输以铁路和公路为主
B. 亚洲部分铁路线最为密集
C. 城市和工业多沿铁路线分布
D. 铁路以首都为中心呈放射状分布
6. 读俄罗斯简图,回答下列问题。



- (1) 写出图中字母表示的水域名称。
- A _____ (海) B _____ (大洋)
C _____ (大洋) D _____ (湖泊)
- (2) 写出图中数字表示的河流名称。
- ① _____ ② _____
③ _____ ④ _____
- (3) 写出甲、乙、丙、丁表示的地形区名称。
- 甲 _____ 乙 _____
丙 _____ 丁 _____
- 其中,甲、乙两地形区之间的分界线为_____。

课后提升

一、单项选择题

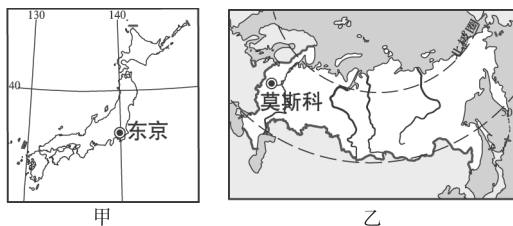
1. (2018·临沂)临沂市外贸公司的王刚先生介绍:中国对俄罗斯出口货物主要有玩具、体育用品、床上用品、服装、鞋类和家具等。其主要原因的解释正确的是 ()
- A. 俄罗斯和中国陆上相邻,进出口商品便利
B. 俄罗斯人口众多,增长快,需要大量的生活用品
C. 俄罗斯与人们生活密切相关的消费品制造业发展滞后
D. 俄罗斯已将高新技术领域作为国家经济新的发展方向

(2018·益阳)第21届世界杯足球赛于2018年6月14日至7月15日在俄罗斯举行,小明想去观看比赛,出发前查阅了俄罗斯地图。据此回答2~3题。

2. 小明查阅地图后获得的关于俄罗斯的信息,错误的是 ()
- A. 是一个地跨亚、欧两洲的国家
B. 地处中低纬度
C. 矿产资源丰富
D. 东部河流多注入北冰洋
3. 小明对西伯利亚大铁路修建在南部的原因分析,正确的是 ()
- ①南部地势平坦 ②南部气候较温暖 ③南部资源丰富,工业较发达 ④南部人口、城市较多
- A. ①②③ B. ①②④
C. ①③④ D. ②③④

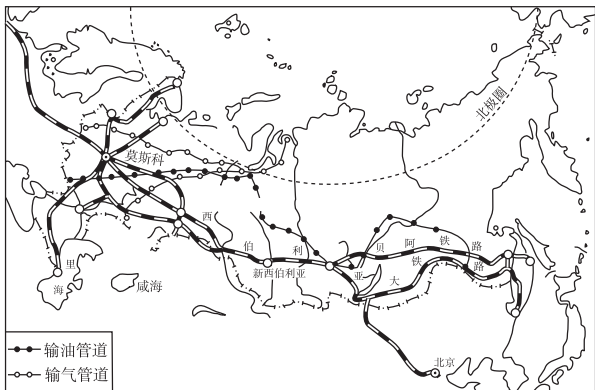
4. (2017·湘西)俄罗斯濒临北冰洋重要的不冻港是 ()
- A. 圣彼得堡 B. 莫斯科
C. 符拉迪沃斯托克 D. 摩尔曼斯克

不同的国家位置不同,自然环境、经济发展特点差异很大。读图回答5~6题。



5. 下列关于甲、乙两国自然环境的叙述,正确的是 ()
- A. 甲国的地形以平原为主
B. 乙国的地势西高东低
C. 甲国的气候具有明显的海洋性特征
D. 乙国的河流结冰期短
6. 下列关于甲、乙两国经济特点的叙述,正确的是 ()
- A. 甲国农产品大量出口
B. 乙国气候寒冷,不利于农业的发展
C. 甲国的工业主要分布在日本海沿岸
D. 乙国的工业主要分布在太平洋沿岸
7. 下列关于俄罗斯的说法,正确的是 ()
- A. 从乌拉尔山向西,气候的大陆性增强
B. 矿产资源丰富,轻、重工业都很发达
C. 领土大部分位于亚洲,却是传统的欧洲国家
D. 平原地区的农业均很发达

读俄罗斯交通分布图,回答8~9题。



8. 下列有关俄罗斯的叙述,正确的是 ()
- A. 俄罗斯是地跨亚、非两洲的国家
 - B. 俄罗斯是世界上陆地面积最大的国家
 - C. 俄罗斯的首都是圣彼得堡
 - D. 俄罗斯的大多数河流自北往南流
9. 俄罗斯交通分布的主要特点是 ()
- ①在欧洲部分主要以莫斯科为中心,呈放射状分布
 - ②在亚洲部分主要分布在南部地区
 - ③输油(气)管线主要呈南北分布
 - ④摩尔曼斯克港位于太平洋沿岸
- A. ①② B. ②③ C. ③④ D. ①④

二、综合题

10. 阅读下列图文材料,回答问题。

2015年5月8日,习近平主席访问俄罗斯并出席俄罗斯纪念卫国战争胜利70周年庆典。



- (1) 庆典上,盛大的阅兵仪式在_____ (首都)红场举行。在第二次世界大战中,俄罗斯是_____ 洲的主战场。
- (2) 乌拉尔山脉、_____ 河是亚、欧两大洲的分界线。俄罗斯地跨东、西两半球,判断依据是_____。俄罗斯东隔_____ 海峡与美国相望。
- (3) 俄罗斯的地形以_____ 为主,乌拉尔山以西是著名的_____ 平原。据图中的河流判断,乌拉尔山以东地区的地势特点是_____。

(4) 俄罗斯的面积居世界第_____ 位,_____ (特殊纬线)及其以北地区有极昼极夜现象。

11. 读俄罗斯示意图,回答下列问题。



- (1) 据图中信息总结俄罗斯的地形特征。
- (2) 山脉和河流是俄罗斯四大地形区的重要分界线,试举一例说明。
- (3) 西伯利亚地区主要河流的流向是_____,说明该地区的地势特征是_____。
- (4) 俄罗斯的主要农业区分布在欧洲部分,试据图中信息分析原因。

(5) 俄罗斯北部、东北部有着漫长的海岸线,但港口很少,试说明原因。



第四节 法国

课时目标

1. 能在地图上指出法国的地理位置、领土组成和首都。
2. 能根据地图和其他资料,概括法国自然环境的基本特点。
3. 能运用地图和其他资料,联系法国自然条件的特点,简要分析法国因地制宜地发展经济(工业、农业、旅游业)的实例。
4. 能根据资料了解法国交通运输的特征。
5. 能根据地图和其他资料,说出法国的文化和人口(或民族、宗教、语言)等人文地理要素的特点。

课前预习

一、西欧大国

- 地理位置: 位于①_____带
海陆位置: 北隔拉芒什海峡(英吉利海峡)与英国相望,西临比斯开湾,西南与西班牙接壤,南临地中海,东与意大利、瑞士、德国、卢森堡、比利时接壤
- 地形、地势: 地形: 以平原和丘陵为主
地势: ②_____高,③_____低
- 气候: 西部属④_____气候,南部属⑤_____气候
- 经济特点: ⑥_____都很发达,服务业地位突出
- 工业: 以⑦_____、飞机制造、医药、服装、化妆品为支柱产业。⑧_____占总发电量的70%以上
- 农业特点: 机械化水平高,畜牧业和园艺业发达
主要农产品: 小麦、玉米、葡萄、牛肉等产量均居欧洲西部各国首位
主要农业区: ⑨_____盆地是主要的农业区。西南部和地中海沿岸盛产⑩_____

二、便利的交通

- 法国交通①_____,已形成现代化运输网络与英国、比利时联营的“②_____”列车,时速可达300千米
- 地中海沿岸的③_____是全国最大的海港城市,巴黎④_____机场是世界上非常繁忙的国际机场之一
- 巴黎地铁已有百年历史,四通八达的地铁网可延伸到郊区及外围城市

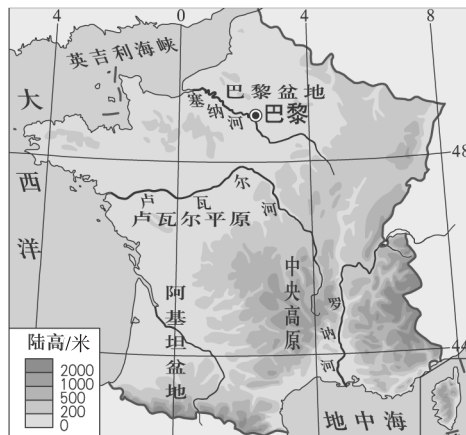
三、文化与旅游

- 旅游业: 法国是世界①_____大国,每年接待游客人数和旅游外汇收入均居世界前列
- 首都巴黎: 位于②_____盆地中部,市区跨塞纳河两岸
是法国的③_____、经济、文化和交通中心,罗浮宫、凯旋门、④_____和凡尔赛宫等都堪称“世界建筑史上的艺术极品”

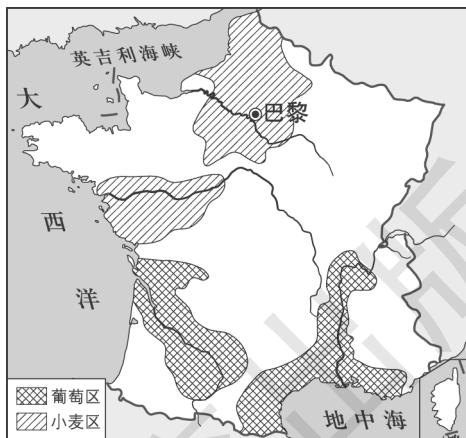
课堂探究

探究一 法国的农业与自然环境

【问题探究】



法国地形图



法国农业分布图

1. 根据法国地形图高度表或地形区的分布,简述法国的地势特点。

2. 根据法国农业分布图判断,法国的小麦分布区属于什么气候?

3. 根据法国农业分布图,归纳法国葡萄产地的分布特点。



归纳拓展 法国的农业很发达,发展农业的有利条件是:(1)气候——大西洋沿岸的温带海洋性气候,非常适合小麦的生长;地中海沿岸的地中海气候适合葡萄生长。(2)地形——巴黎盆地和地中海沿岸的平原地势平坦,土壤肥沃。

【教材典图精析】

教材 P₈₆ 图 8-30 法国地形分布

纬度位置:法国最北端大约在 52°N,最南端大约在 42°N,大部分属于中纬度、北温带。

海陆位置:法国的轮廓大致呈六边形,三面临海,三面连陆,它的东北部和东部与比利时、卢森堡、德国、瑞士、意大利、摩纳哥为邻,东南临地中海,西南与西班牙、安道尔陆上为邻,西临比斯开湾,西北部隔拉芒什海峡(英吉利海峡)与英国相望。

图例剖析:图中不同的颜色表示了不同的海拔。

地形、地势与河流:法国东南部是著名的阿尔卑斯山脉,其最高峰是勃朗峰,位于意大利和法国的边境上,是欧洲最高峰。南部是中央高原;北部和西部是著名的巴黎盆地、西欧平原以及卢瓦尔平原和阿基坦盆地。所以,法国的地势是东南高,西北低,地形以平原和丘陵为主。

探究二 交通、文化与旅游

1. “欧洲之星”列车穿越了哪条著名的海底隧道?它属于什么运输方式?

2. 以法国为例思考,一个国家或者一个地区最能吸引游客的内容有哪些?

【典例研析】

(2018·北碚区)下列关于欧洲旅游胜地组合正确的一组是 ()

- A. 观赏花卉与风车—西班牙
- B. 参观埃菲尔铁塔—英国
- C. 观看斗牛比赛—法国
- D. 参观水城威尼斯—意大利

答案:D

解析:欧洲西部自然和人文资源异常丰富,观赏花卉与风车应去荷兰;参观埃菲尔铁塔应去法国;观看斗牛比赛应去西班牙;参观水城威尼斯应去意大利。故选 D。



课堂训练

1. (2017·潍坊)法国地中海沿岸葡萄种植有利的自然条件是 ()

- A. 夏季气温高,降水少,光照充足
- B. 河流众多,灌溉水源充足
- C. 冬季温和多雨
- D. 平原为主的地形,土壤肥沃

2. (2018·北碚区)请你帮助张明同学从下列风景明信片中挑选一张属于欧洲风光的明信片 ()

- A. 安第斯山脉
- B. 阿尔卑斯山
- C. 落基山
- D. 珠穆朗玛峰

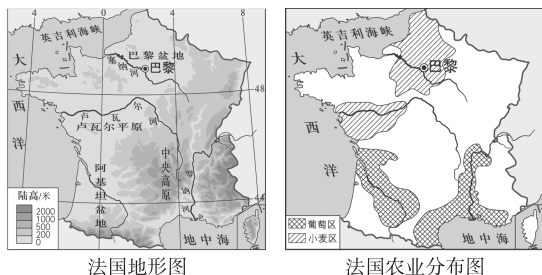
3. 下列关于法国气候与农业的叙述,正确的是 ()

- ①法国大西洋沿岸属温带海洋性气候,全年降水均匀
 - ②温带海洋性气候冬无严寒,夏无酷暑,不利于农业生产
 - ③地中海沿岸属地中海气候,夏季炎热干燥,冬季温和多雨
 - ④地中海气候夏季光照强,有利于葡萄的糖分积累
- A. ①②③
 - B. ②③④
 - C. ①③④
 - D. ①②④

4. (2018·菏泽改编)下列旅游景点不属于法国的是 ()

- A. 凡尔赛宫
- B. 凯旋门
- C. 塔桥
- D. 埃菲尔铁塔

5. 读图及材料,回答下列问题。



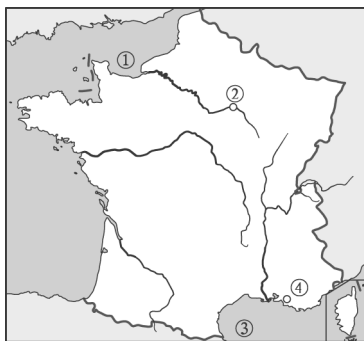
材料 法国大西洋沿岸的广大平原地区,气温年变化小,全年降水分配比较均匀,基本上没有旱、涝等气象灾害,对发展农业生产非常有利。法国地中海沿岸地区,夏季气温高,降水少,光照充足,有利于作物糖分的积累;冬季温和湿润。

- (1)从纬度位置看,法国位于地球上五带中的_____带。
- (2)法国的地形以_____和丘陵为主。法国的地势特点是_____。
- (3)法国是欧洲重要的小麦产区,小麦种植区主要分布在_____、_____和阿基坦盆地等大西洋沿岸地区,这里属于_____气候。
- (4)法国的罗纳河沿岸和_____地区盛产优质葡萄,这里有典型的_____气候,非常有利于葡萄的生长。

课后提升

一、单项选择题

读世界某国示意图,回答1~2题。



1. 下列关于该国的叙述,不可信的是 ()
 - A. 核电占总发电量的70%以上
 - B. 汽车、飞机制造业发达
 - C. 有“艺术殿堂”——罗浮宫
 - D. 位于中纬度,地跨东西半球
2. 根据图中所示信息,结合所学知识,下列判断错误的是 ()
 - A. ①为直布罗陀海峡
 - B. ②城市地跨塞纳河两岸

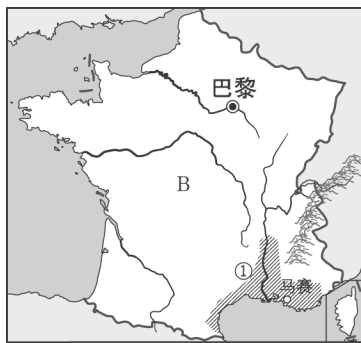
- C. ③是地中海
- D. ④是该国最大港口马赛

(2018·娄底)橄榄油是理想的食用油。人类最早对橄榄树实行人工栽培始于地中海的克里特岛,距今已有数千年之久。据此回答3~4题。

3. 推断使橄榄树生长理想的气候环境是 ()
 - A. 夏季炎热干燥,冬季温和多雨
 - B. 全年高温多雨
 - C. 冬冷夏热,干旱少雨
 - D. 全年多雨,温和凉爽
4. 除橄榄榨油以外,地中海的克里特岛利用当地典型的农产品,还可以发展 ()
 - A. 甜菜制糖
 - B. 橡胶制轮胎
 - C. 葡萄酿酒
 - D. 菠萝制罐头

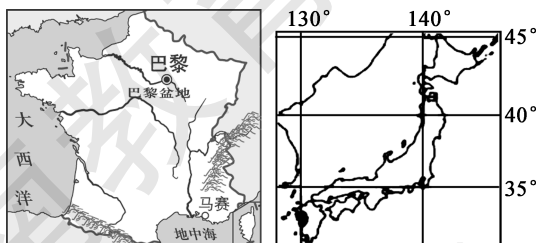
5. (2018·菏泽改编)法国地形以_____和丘陵为主。 ()
 - A. 平原
 - B. 高原
 - C. 山地
 - D. 盆地

总部位于广东深圳的某公司从B国(如图)进口了价值1 000万美元的葡萄酒。据此回答6~7题。



6. 该批葡萄酒运往深圳,最近的海上航线必须经过 ()
 - A. 好望角
 - B. 苏伊士运河
 - C. 巴拿马运河
 - D. 土耳其海峡
7. B国①区域(阴影部分)的农作物主要为 ()
 - A. 甘蔗
 - B. 水稻
 - C. 葡萄
 - D. 苹果

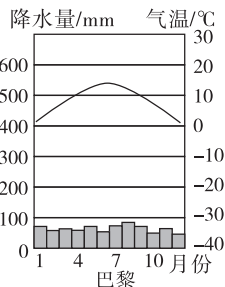
读下面两图,完成8~9题。



8. 下列有关两国位置和自然环境相同点的叙述,正确的是 ()
- A. 都位于温带地区
B. 都濒临太平洋
C. 都有温带海洋性气候
D. 都是以丘陵、山地为主的地形
9. 下列有关两国社会经济相同点的叙述,正确的是 ()
- A. 工业都很发达
B. 都是所在大洲出口小麦最多的国家
C. 都是东西方融合的文化
D. 旅游业都较落后

二、综合题

10. 法国是欧洲西部工农业均发达的国家。读图,回答下列问题。



- (1) 法国的地势特点是_____。
- (2) 巴黎的降水特点是_____。
- (3) 马赛属于_____气候。
- (4) 巴黎盆地的主要农作物是_____。



第五节 美国

第 1 课时

课时目标

- 能在地图上指出美国的地理位置、领土组成和首都。
- 能根据地图和其他资料,概括美国自然环境的基本特点。
- 能运用地图和其他资料,联系美国自然条件的特点,简要分析该国因地制宜地发展农业的条件和特点。
- 能举例说出美国在土地资源开发方面的经验和教训。

课前预习

一、领土组成

- 地理位置**
- 纬度位置:地跨寒、温、热三带,主要位于北温带
 - 海陆位置:地跨北美洲和①_____洲,北临②_____洋,东临③_____洋,东南临墨西哥湾,西临太平洋
 - 相对位置:北与④_____接壤,西南与墨西哥毗邻
- 领土组成**:本土、⑤_____州、夏威夷州
- 地形特点**:自西向东形成南北三大纵列带,西部是⑥_____山脉,中部是大平原,东部是⑦_____山脉
- 主要河湖**
- 河流:世界第四长河——⑧_____河,自北向南注入墨西哥湾
 - 湖泊:有世界最大的淡水湖群,世界最大的淡水湖是⑨_____湖,完全位于美国境内的是密歇根湖

二、高度发达的经济——农业

农业特点:种植业与畜牧业并重,农业生产区域

①_____化、②_____化、③_____化程度高,是世界最大的农产品出口国

主要农产品:④_____、小麦、大豆、棉花、肉类产量居世界前列

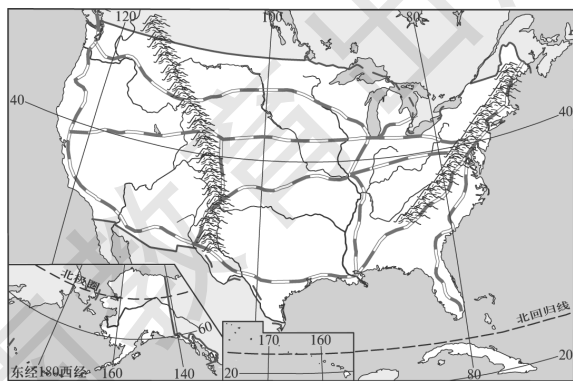
存在问题:过度依赖国际市场、农产品过剩、环境污染和⑤_____ ,曾多次发生“⑥_____”灾难

解决措施:实行轮作制和免耕法等措施,以保护耕地和改善环境

课堂探究

探究一 美国的位置和范围

【问题探究】



1. 美国的领土由哪三部分组成?

2. 有人说,美国是濒临三大洋、跨三个温度带(五带)的国家,你同意这种说法吗?请说明原因。

3. 美国为什么大量进口热带、亚热带农产品?

【教材典图精析】

教材 P₉₀ 图 8-39 美国地形分布

纬度位置:美国本土大致在 30°N~50°N 之间,地处北温带;阿拉斯加主要位于高纬度,属于北寒带和北温带,夏威夷群岛主要位于热带海洋中。

海陆位置:美国本土东临大西洋,西临太平洋,南临墨西哥湾,北邻加拿大,阿拉斯加北临北冰洋,是一个典型的临海国家。

图例剖析:图中不同的颜色表示不同的海拔。

地势特点:从图中颜色所代表的高度可看出,美国东、西两侧高,中部低。

主要地形区:西部为科迪勒拉山系的北段,主体为落基山脉;中部为大平原和中部平原;东部为阿巴拉契亚山脉。

地形剖析:美国的地形呈南北纵列分布,地形以平原为主,平原面积占全国总面积的一半以上。这为当地发展农业提供了面积广大的耕地。

主要河湖:密西西比河自北向南注入墨西哥湾;五大湖自西向东依次为苏必利尔湖、密歇根湖、休伦湖、伊利湖、安大略湖。其中,密歇根湖全部属于美国,其他四湖则为美国和加拿大所共有;苏必利尔湖是世界上面积最大的淡水湖。五大湖是由冰川作用形成的。

探究二 美国的农业

【问题探究】

有一位美国农民,他种的田地比我们这里一千个农民种的田地面积还大。一天,他来中国旅游,中国老农好奇地问:“你一个人种那么多的田地,还有时

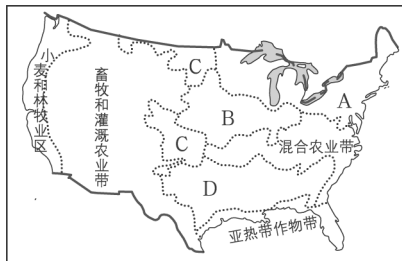
间出来玩?看你的手上没有一点老茧,不像个干农活的农民。”据此回答下列问题。

1. 你能给中国老农一个合理的解释吗?

2. 农业生产区域专门化是指每个地区根据自然条件和经济条件,重点发展一种或几种农产品的专门化生产。这体现了发展农业生产的什么原则?

3. 美国农业生产区域专门化的好处是什么?

4. 写出图中字母表示的农业带(区)名称。



A _____ B _____
C _____ D _____

归纳提升

农业带	分布位置	形成原因
乳畜带	纬度较高的五大湖和东北部地区	位置偏北,气候冷湿,土壤较为贫瘠,不适宜种植谷物,但有利于多汁牧草的生长;城市和人口分布密集,市场需求量大
玉米带	中部平原	地处温带,地势平坦,土壤肥沃,春夏气温较高,适合玉米生长
棉花带	35° N 附近	热量充足,无霜期长。春夏降水多,秋季降水少,适合棉花生长
小麦区	中部平原的北部和中部	地势平坦,土壤肥沃,降水量较少,适合种植小麦,密西西比河提供了灌溉水源

【典例研析】

(2018·怀化)区域专门化是美国农业生产的突出特点,其优越性表现在 ()

- ①充分利用自然条件,合理布局,以取得最大经济效益 ②大规模使用农业机械,提高农业劳动生产率 ③实现农业的现代化管理 ④最大程度地保护自然环境

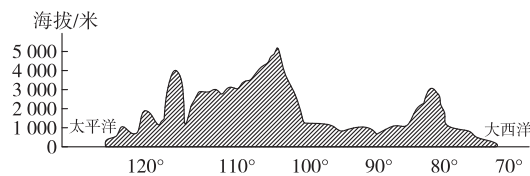
- A. ①②③ B. ①②④
C. ①②③④ D. ①③④

答案:A

解析:美国农业生产区域专门化可以充分利用各地的自然条件,最大限度地发挥自然环境的优势,形成规模经济效益,①正确;同时可以大规模进行机械化生产,更广泛的使用高新技术,提高劳动生产率,实现农业的现代化管理增加农产品产量,提高农产品质量等,②③正确;农业生产区域专门化对保护自然环境影响较小,④错误。故选A。

课堂训练

(2017·威海)地形剖面图可直观地反映出一个国家或地区沿某一方向的高低起伏状况。读某国沿36°N所绘的地形剖面图,回答1~2题。



- 根据图中所示信息可判断该国是 ()
A. 俄罗斯 B. 澳大利亚
C. 美国 D. 巴西
- 下列关于该国的描述,错误的是 ()
A. 以温带气候为主,降水主要来自于大西洋
B. 平原广,耕地面积约占世界耕地面积的十分之一
C. 地势东西高中部低,地形呈南北纵列分布
D. 河流多发源于西部山区,自西向东注入大西洋
- 美国是一个农产品出口大国,不属于该国大量出口的农产品有 ()
A. 玉米 B. 羊毛
C. 棉花 D. 小麦

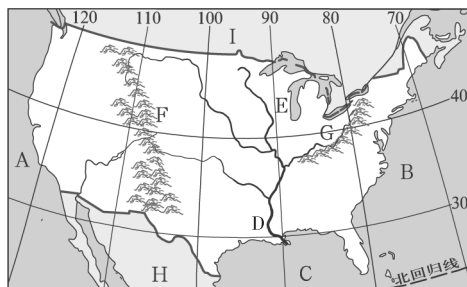
4. (2018·郴州改编)美国是世界上的农业大国,种植业和畜牧业并重,农业生产区域专门化、机械化和商品化程度都相当高。美国五大湖附近的农业带是 ()

- A. 小麦区 B. 棉花带
C. 玉米带 D. 乳畜带

5. (2018·福建)美国的首都是 ()

- A. 旧金山 B. 洛杉矶
C. 华盛顿 D. 纽约

6. 读美国本土图,回答下列问题。



(1)写出图中字母代表的地理事物名称。

- A _____ 洋 B _____ 洋 C _____ 湾
D _____ 河 E _____ 湖 F _____ 山脉
G _____ 山脉

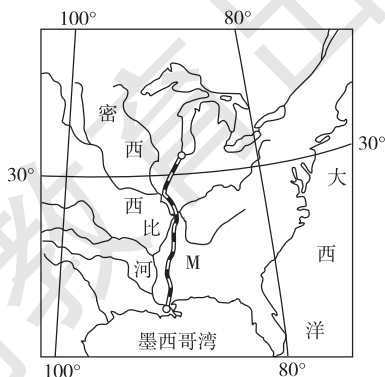
(2)美国的邻国:H为_____,I为_____。

(3)美国是遭受飓风和龙卷风侵袭严重的国家(飓风是一种发源于热带洋面的大气涡旋,在太平洋地区称台风)。侵袭美国的飓风来源地是_____。龙卷风的形成与美国的地形有直接的关系,美国的地形地势特征是_____。

课后提升

一、单项选择题

读世界某区域示意图,回答1~2题。



1. 图示地区有世界著名的 ()
- A. 科罗拉多大峡谷
B. 东非大裂谷
C. 五大湖
D. 雅鲁藏布江大峡谷

2. 修筑图中 M 铁路工程量较小, 其原因是 M 铁路 ()

- A. 穿越起伏和缓的高原
B. 在高山峡谷中沿河流延伸
C. 穿越地势低平的平原
D. 在沙漠戈壁中沿绿洲延伸

3. (2018·贵港) 美国所产农产品中, 产量居世界前列的是 ()

- A. 稻米、小麦
B. 小麦、大豆
C. 花卉、茶叶
D. 橡胶、棕油

4. (2018·福建) 美国两个小麦区自然条件的主要差异是 ()

- A. 地形
B. 水源
C. 土壤
D. 热量

5. (2018·遂宁) 下列关于美国的描述, 正确的是 ()

- A. 美国领土地跨南北美洲, 东临太平洋, 西临大西洋
B. 美国混血人种所占比例大, 印第安人是原住居民
C. 美国的“硅谷”位于旧金山市的东南部
D. 美国本土五大湖地区和东北部是新兴工业区, 也是乳畜带分布地区

美国本土三面濒临海洋, 地理位置优越。读美国

简图, 回答 6~8 题。



6. 下列关于图中的地理事物, 描述正确的是 ()

- A. ①城市——休斯敦
B. ②湖泊——苏必利尔湖

- C. ③河流——科罗拉多河

- D. ④国家——墨西哥

7. 图中 M 所在的阴影区是美国的乳畜带, 其乳畜业发展的有利条件是 ()

- A. 高温多雨的气候
B. 高原地形, 草原广阔
C. 人口稠密, 市场需求量大
D. 地广人稀, 利于放牧

8. 美国经常遭受飓风侵袭, 飓风频发与该国的地形有直接关系, 美国的 ()

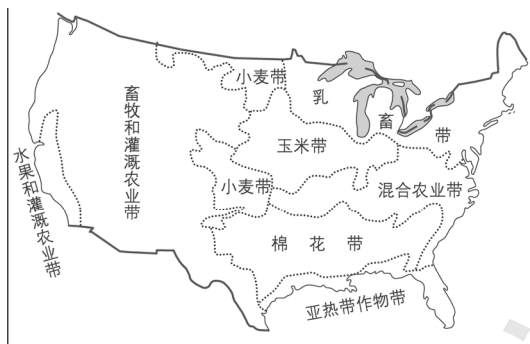
- A. 南北高、中间低
B. 南高北低
C. 东西高、中间低
D. 东高西低

9. 美国东北部在工业革命后, 农业由传统的杂耕农作转变为乳畜业为主的专门化农业。造成这种转变的主要原因是 ()

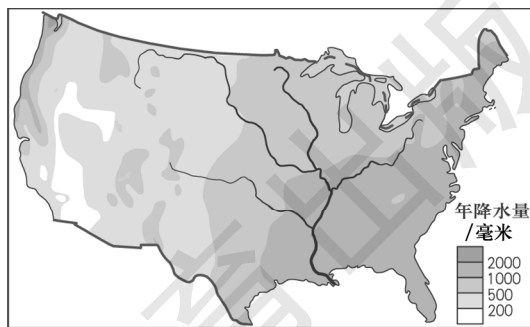
- A. 市场需求
B. 气候冷湿
C. 机械化水平高
D. 劳动力不足

二、综合题

10. 美国农业发达, 有地区分工明显的农业带。读图, 回答下列问题。



美国农业带分布示意图



美国降水量分布示意图

- (1) 根据各地不同自然条件和社会经济条件, 美国形成了不同的农业带。以下描述的是 _____ 的形成条件, 该农业带的年降水量均在 _____ 毫米以上。

这里气候冷湿,适宜牧草生长。又由于人口众多、城市密集、经济发达,对乳制品的需求量大,因此畜牧业发达。

(2)“畜牧业和灌溉农业带”位于美国西部,其发展农业的自然条件与东部地区相比差异较大,如下描述的是该农业带的自然条件,从地形和降水两方面补充完整。

这里_____,_____,很多地区为荒漠,形成了“畜牧业和灌溉农业带”。

(3)喜温喜湿的水稻并不是美国的主要农作物,但在一些农业带也有种植,从下列农业带的自然

条件看,适宜种植水稻的农业带是 ()

- A. 小麦带
- B. 玉米带
- C. 乳畜带
- D. 棉花带

(4)下列农产品中,美国需要从国外大量进口的是 ()

- A. 咖啡豆
- B. 苹果
- C. 玉米
- D. 大豆

(5)中、美两国面积相差不大,但耕地面积美国远大于中国,其主要影响因素是 ()

- A. 气温
- B. 降水
- C. 地形
- D. 土壤

第 2 课时



扫码观看
本节精彩微课

课时目标

- 能简要分析美国因地制宜地发展工业的条件和特点。
- 能说出美国主要的经济贸易国家和地区。
- 能用实例说明高新技术产业对美国经济发展的作用。
- 能根据地图和其他资料,说出美国的种族和人口(或民族、宗教、语言)、城市等人文地理要素的特点。

课前预习

一、高度发达的经济

- 发展工业的有利条件:①_____丰富,交通运输发达,②_____雄厚
- 特点:工业门类③_____,设备和技术先进
- ④_____工业呈衰落状态,⑤_____产业则蓬勃发展
- 工业 {
- 三大工业区 {
 - 东北部地区,发展最早,⑥_____工业集中分布
 - 南部地区,新兴的石油、⑦_____、电子等工业基地
 - 西部地区,新兴工业的集中地带,航空、电子、信息技术等产业发展较快
- 服务业和旅游业 {
- 服务业:在美国经济中,服务业占有很大比重,全国约有 3/4 的劳动力从事服务业
 - 旅游业:美国旅游业发达,有⑧_____国家公园、科罗拉多大峡谷、夏威夷等著名旅游胜地
- 国际贸易:美国是国际贸易额最大的国家,主要贸易伙伴有加拿大、⑨_____、墨西哥、日本以及欧盟各国

二、人口与城市

数量:人口 3.07 亿(2009 年),居世界第①_____位

人种组成:居民大部分是②_____移民的后裔以及非洲黑种人和亚洲移民的后裔

华人、华侨:数量已超过 300 万,在圣弗朗西斯科(旧金山)、纽约等城市还有华人聚居的“③_____”

分布:美国人口分布不均,沿海平原和东北部的④_____附近人口稠密。西部⑤_____人口稀疏

首都⑥_____,位于哥伦比亚特区,这里有很多纪念性建筑,如华盛顿纪念碑、杰弗逊纪念堂、林肯纪念堂最为著名

纽约是美国人口最多的城市、最大的港口,世界四大金融中心之一。曼哈顿区被看成是该市的象征

⑦_____是美国太平洋沿岸的最大港口城市和经济、文化中心,享誉世界的“电影城”好莱坞和世界第一个迪士尼乐园都在这里

圣弗朗西斯科(旧金山)是美国太平洋沿岸重要的金融、贸易和文化中心,以斯坦福大学等高校和科研院所为依托的“⑧_____”,是全球闻名的高新技术产业区

⑨_____是美国的交通中心

底特律是美国的⑩_____工业中心

匹兹堡是美国的钢铁工业中心

课堂探究

探究一 美国的工业

【问题探究】

1. 美国的工业、城市为什么集中分布在东北部地区？

2. 美国的西部和南部地区为什么被称为“阳光地带”？

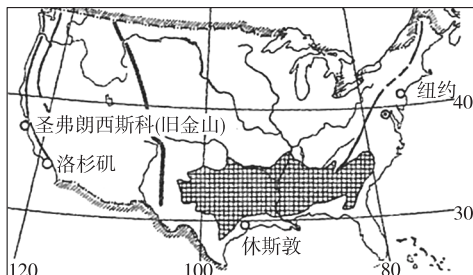
点拨：美国的工业、城市集中分布在东北部地区的原因可从东北部地区的地形、气候、交通、资源、开发历史、农业等方面分析；美国的西部和南部地区被称为“阳光地带”的原因可从环境、气候等方面分析。

归纳拓展

项目	主要工业城市	主要工业部门	优势条件	布局发展方向
东北地区	纽约、匹兹堡、底特律、芝加哥	钢铁、机械、汽车、化工	资源丰富、交通发达、基础较好	由东北地区向南部、西部发展
南部地区	休斯敦、亚特兰大、新奥尔良	石油、航空航天、电子	石油资源丰富、地价低廉、劳动力充足、环境质量好	
西部地区	旧金山、洛杉矶	航空、电子、信息技术	环境质量好、交通便利、技术力量雄厚	

【典例研析】

(2017·济宁)读美国本土沿海城市、某农业带分布图,完成(1)~(2)题。



(1)1990年以后,美国传统工业衰退,高新技术产业蓬勃发展,有力地促进了经济的增长。下列哪座城市拥有美国最具影响力的高新技术产业园区

()

- A. 洛杉矶
- B. 休斯敦
- C. 纽约
- D. 圣弗朗西斯科(旧金山)

(2)美国的农业生产充分利用不同地区的自然条件,形成了生产规模巨大的农业带(区),图中阴影代表的农业带(区)是

()

- A. 玉米带
- B. 小麦区
- C. 棉花带
- D. 乳畜带

答案:(1)D (2)C

探究二 美国的城市

【问题探究】

1. 美国有很多著名的特大城市,将芝加哥、休斯敦、菲尼克斯、底特律四个城市的名称填入适当的空白处。

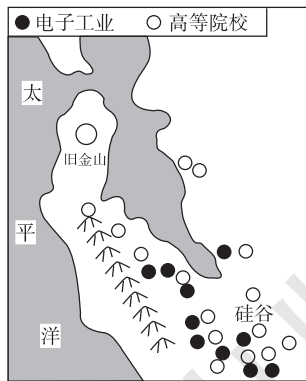
(1)_____,印第安语意为“强大”,这里曾是重要的畜产品加工基地,现在是美国的交通中心。

(2)_____是美国的汽车工业中心。

(3)_____是亚利桑那州的首府,位于美国西部的沙漠中,年降水量少,阳光充足。

(4)_____是新兴的宇航工业中心。

2. 旧金山附近的“硅谷”是美国兴起最早、规模最大的高新技术产业中心,据图分析其形成的条件。



3. 纽约为什么会成为美国最大的港口？

【典例研析】

(2018·怀化)位于圣弗朗西斯科(旧金山)的“硅谷”是全球闻名的高新技术产业区,它主要的工业部门是 ()

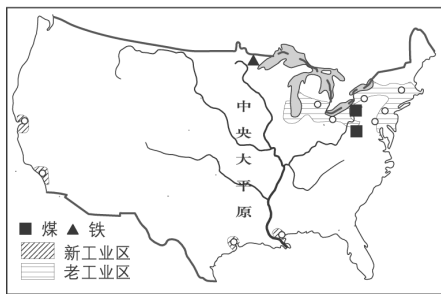
- A. 钢铁工业
- B. 纺织工业
- C. 石油工业
- D. 电子工业

答案:D

解析:本题主要考查美国的高新技术产业。硅谷因大量生产电子工业的基本原料——硅片而得名,因此它的主要部门是电子工业,故D项正确。

课堂训练

1. 根据图中的信息判断,下列说法中正确的是 ()



- A. 美国的老工业区分布在南部和西部地区
- B. 美国的新工业区分布在东北部地区
- C. 旧金山发展汽车工业,底特律发展微电子工业
- D. 美国的老工业区有丰富的煤、铁资源

2. 玲玲学习完美国的居民后得出如下结论,你认为不正确的是 ()

- A. 美国是一个移民国家,人口分布不均
- B. 亚洲移民的后裔最多,有色人种主要是黄种人
- C. 美国的土著居民是印第安人,数量已不多
- D. 华人和华侨为美国的繁荣做出了巨大贡献

3. (2018·衡阳)美国“硅谷”位于哪座城市 ()

- A. 纽约
- B. 休斯敦
- C. 旧金山
- D. 西雅图

4. (2018·广东)美国乳畜带发展的有利条件是 ()

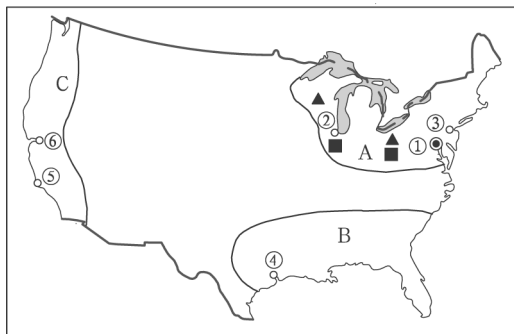
- ①城市和人口分布密集
 - ②地处亚热带,热量充足
 - ③临近五大湖,水源充足
 - ④地势平坦,土壤肥沃
- A. ①②③
 - B. ①③④
 - C. ①②④
 - D. ②③④

5. (2017·益阳)美国信息技术产业对经济发展的主要促进作用是 ()

- ①支柱产业,发展迅速
- ②新增就业机会最大的产业部门
- ③广泛应用于生产,促进了自然资源的开发和劳动密集型产业的发展
- ④其他产业应用信息技术及其产品,明显提高生产效率、产品质量和价值

- A. ②③④
- B. ①③④
- C. ①②④
- D. ①②③

6. 读美国本土工业和城市分布图,回答问题。



(1) 写出图中字母代表的工业区的名称。

A _____ B _____ C _____

(2) 工业区 A 发展工业的资源条件是有丰富的 _____ 和 _____ 资源;交通条件是 _____。

(3) 城市:① _____ ② _____ ③ _____

(4) ④城市是 _____, 发展了 _____ 工业;⑥城市是 _____, 附近的“硅谷”是美国高新技术产业的中心;⑤是 _____, 这里有著名的“电影城”好莱坞。

(5) 美国传统工业集中的东北部工业区, 近几十年来不断衰落。美国的工业逐渐由东北部向南部发展, 原因是 _____。

课后提升

一、单项选择题

1. (2017·衡阳)小明在制作美国、俄罗斯地理信息卡片时,漏掉了国家名称,请你帮助他辨识出属于美国的地理信息 ()

- ①拥有世界上最深的湖泊——贝加尔湖
- ②联合

国总部所在地 ③世界上最大的农产品出口国
④地跨亚欧两洲的国家

A. ①② B. ②③ C. ③④ D. ②④

2. (2018·广东)美国农业生产现代化主要体现在 ()

①地区生产专业化 ②机械化程度高 ③精耕细作 ④农产品商品化程度高

A. ①②③ B. ①③④

C. ①②④ D. ②③④

3. (2017·太原)20世纪90年代以来,美国经济持续增长的主要原因之一是 ()

A. 严格控制人口增长
B. 大力发展水稻种植业
C. 大力开采适应资源
D. 高新技术产业蓬勃发展

4. (2018·深圳改编)下列关于美国工业的叙述,正确的是 ()

A. 芝加哥为西部工业区的中心
B. “硅谷”位于美国最大城市纽约
C. 传统工业主要分布东北部地区
D. 石油工业分布在西部工业区

5. 美国许多电影大片在全球获得巨大的票房收入,其电影产业成功的主要原因是 ()

A. 有发达的交通
B. 有厚重的历史
C. 有先进的技术和文化创新意识的
D. 有众多的人口

6. 下列美国城市与其相关的地理特征对应正确的是 ()

A. 纽约—首都
B. 华盛顿—好莱坞
C. 底特律—汽车工业中心
D. 芝加哥—钢铁工业中心

7. 美国经济持续增长的最根本动力是高新技术的发展,下列关于发展高新技术产业对美国经济的叙述,错误的是 ()

A. 促进经济结构升级
B. 增加就业机会,降低失业率
C. 提高经济增长速度与效益
D. 增加能源消耗

8. (2018·湘西)下列国家中属于发达国家的是 ()

A. 中国 B. 巴西
C. 埃及 D. 美国

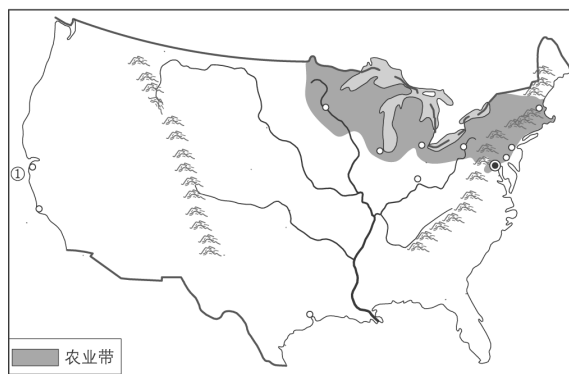
9. 下列景观中,属于美国的是 ()



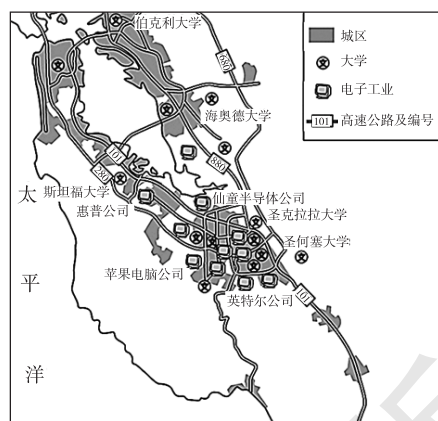
A B C D

二、综合题

10. 读甲、乙两图,回答下列问题。



甲图 美国本土略图



乙图 甲图中①城市城区图

(1)美国的农业因地制宜,实行区域化生产,全国形成了不同特色的农业带(区)。甲图中阴影部分代表的是_____带。请根据图示信息和你学过的知识,简述形成该农业带的社会经济条件:_____。

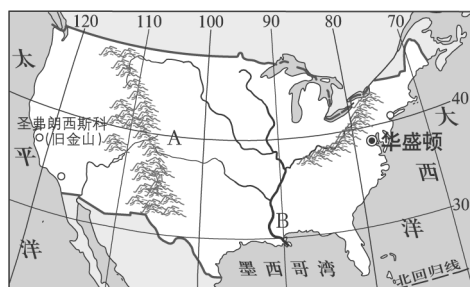
(2)甲图中①是_____市。请根据图乙说明该市发展高新技术产业的优势条件:_____。

(3)举办了2014年世界杯足球赛的巴西里约热内卢市,从图中①城市某公司订购了一批高科技产品,用于场馆建设。若将这批产品在①市港口装船,运往巴西东海岸的里约热内卢市,依次经过的海洋和交通要道是_____。

11. 读材料,回答下列问题。

材料一 2015年7月9日,“金砖国家”领导人第七次会晤在俄罗斯乌法市举行。中国国家主席习近平和俄罗斯、巴西、印度、南非领导人出席会晤。

材料二 俄罗斯略图和美国本土略图。



(1)近年来,我国部分商人大量采购生活日用品去俄罗斯销售,获得了丰厚的利润。生活日用品在该国销售特别看好的原因是 ()

- A. 俄罗斯有很多生活日用品生产厂家,广告宣传做得好
- B. 外国商品质量特别好,俄罗斯人很喜欢
- C. 俄罗斯忽视生活日用品生产之类的工业,市场上生活日用品较少
- D. 俄罗斯国土面积不大,人口、城市密集,生活日用品消费大

(2)俄罗斯沙皇亚历山大一世曾说过:“距离是俄罗斯的大不幸。”契诃夫曾说过:“冰雪是俄罗斯的血脉。”这两句话分别描述了该国_____和_____的地理环境特色。(填字母)

- A. 自然资源丰富
- B. 地形以平原为主
- C. 领土辽阔、东西距离长
- D. 纬度高、气候寒冷

(3)读美国本土略图,写出地理事物的名称。

A _____山脉 B _____(河流)

(4)以斯坦福大学等高校和科研院所为依托的“硅谷”,是世界上最大的_____产业区,分布在图中的_____ (城市)。

(5)美国职业篮球赛(NBA)中,一些球队的命名,与当地的地理特征有一定的联系。以下是美国一些城市的地理特征:休斯敦,是新兴的宇航工业中心;波士顿,有许多爱尔兰移民,其中不少移民是凯尔特人;菲尼克斯,年降水量少,阳光充足;芝加哥,畜牧产品加工曾是它重要的传统工业。请问,火箭队、凯尔特人队分别属于以上哪个城市?

火箭队: _____;凯尔特人队: _____。



第六节 巴西



扫码观看
本节精彩微课

课时目标

1. 能在地图上指出巴西的地理位置、领土组成和首都。
2. 能根据地图和其他资料,概括巴西自然环境的基本特点。
3. 能运用地图和其他资料,联系巴西自然条件的特点,了解发展经济的状况。
4. 能举例说出巴西在森林资源开发和环境保护方面的经验、教训。
5. 能根据地图和其他资料,说出巴西的种族和人口(或民族、语言)、城市等人文地理要素的特点。

课前预习

一、亚马孙平原与亚马孙河

位置

半球位置:主要位于西半球、南半球
 纬度位置:地跨温、热两带,绝大部分位于①_____带
 海陆位置:位于南美洲东部和中部,东临②_____洋

面积:约占南美大陆总面积的一半,是南美洲面积③_____的国家

地形与地势

巴西的地形以平原和高原为主,地势④_____
 南部的巴西高原是世界上面积最大的高原
 北部由亚马孙河长期冲积而成的亚马孙平原,是世界上面积最大的平原
 这里终年高温多雨,形成世界最大的热带雨林区。动植物种类繁多,有“⑤_____”之称

河流:亚马孙河发源于⑥_____山脉,向东注入大西洋,是世界上径流量最大、流域面积最广的河流,其长度仅次于非洲的尼罗河,居世界第2位

气候

亚马孙平原属于⑦_____气候,终年高温多雨
 巴西高原属于⑧_____气候,终年高温,有明显的干湿两季

二、发展迅速的经济

工业:巴西是南美洲经济实力①_____的国家。

工业体系比较②_____,发展水平较高。钢铁、机械、汽车、化学、食品、纺织等工业部门地位突出

农业:巴西是世界重要的农产品出口国之一,③____、可可、蔗糖、柑橘、大豆、牛肉等产量和出口量均居世界前列

资源:巴西④_____、水力资源丰富,水电在全国发电量中所占比例较大。⑤_____水电站位于巴拉那河上,由巴西和⑥_____两国合建

三、人口与城市

数量:南美洲人口最多的国家

人种:人种复杂,①_____人种约占全国的一半,②_____人种占1/3强,其余为黑色人种和黄色人种

语言:③_____语为官方语言

人口分布:90%以上的人口居住在④_____地带,其中以⑤_____部最为稠密

⑥_____是巴西第一大城市

里约热内卢是巴西第二大城市和最大⑦_____

首都⑧_____。为了加快内地的开发建设,1960年,把首都迁到此处

课堂探究

探究一 亚马孙平原与亚马孙河

【问题探究】

1. 你知道亚马孙河的发源地、流向、注入的海洋吗?
2. 从地形和气候方面简要分析亚马孙河水量巨大的原因。
3. 亚马孙河适宜航运吗? 航运价值大吗? 为什么?

归纳提升 亚马孙河流域形成世界最大的热带雨林气候区的条件

(1)从纬度位置看,赤道横穿亚马孙河流域,气流上升,易成云致雨。

(2)从地形看,亚马孙河流域的南、北、西三面为高原、山地,东面向大西洋敞开,来自大西洋的湿润气流遇到山坡的抬升,易形成地形雨。

(3)亚马孙河流域处于南美洲大陆最宽广的部位,是该地区成为世界最大的热带雨林气候区的条件之一。

【教材典图精析】

教材 P₉₇ 图 8-51 巴西地形分布

纬度位置:赤道穿过巴西的北部,南回归线穿过巴西的南部,这说明巴西绝大部分领土位于热带,巴西是世界上热带面积最广大的国家。

海陆位置:巴西东面濒临大西洋,北面与西面的主要邻国有委内瑞拉、哥伦比亚、秘鲁、玻利维亚、巴拉圭等。

两大地形:巴西有两大地形区,1/3 属于亚马孙平原,2/3 属于巴西高原。

主要河流:亚马孙河主要流经亚马孙平原,发源于安第斯山脉,自西向东注入大西洋。

探究二 发展迅速的经济

【问题探究】

1. 巴西的钢铁、汽车等重工业主要分布在东南沿海地区,简要分析其原因。

2. 巴西石油公司驻北京首席代表说:“现在巴西 30% 的汽车根本不使用汽油了,而是完全使用酒精,另外 70% 的汽车使用的是乙醇汽油,所以在巴西,汽车是‘先喝酒,后上路’。”你能解释巴西汽车“喝酒”的原因吗?

3. 某跨国企业欲在巴西建立高耗能的子公司,其选择的最佳地点是在伊泰普水电站附近。试分析该地水能资源丰富的原因。

【典例研析】

(2018·云南)下列关于巴西的叙述,正确的是

()

- A. 地形以平原、高原为主
- B. 首都巴西利亚是全国最大的城市
- C. 矿产资源丰富,但工业发展缓慢
- D. 应大力开发热带雨林

答案:A

解析:巴西地形以平原和高原为主,亚马孙平原约占国土的三分之一,巴西高原约占国土的三分之二;巴西最大的城市是圣保罗,巴西利亚是巴西的首都;巴西的矿产资源丰富,工业发展迅速,工业部门齐全;热带雨林被称为“地球之肺”,对地球的生态平衡起到重要作用,应该大力保护,不应大力开发。故选 A。

课堂训练

1. (2018·北碚区)由于有“地球之肺”称号而受到全世界关注和保护的自然环境是 ()

- A. 热带雨林
- B. 热带草原
- C. 野生动物
- D. 亚马孙河水源

2. (2018·益阳)下列关于巴西和澳大利亚两国相同点的说法,正确的是 ()

- A. 都濒临太平洋
- B. 都有南回归线穿过
- C. 首都都位于沿海地区
- D. 都是发达国家

3. 巴西的甘蔗产量居世界第一位,其有利的气候条件是 ()

- A. 全年高温,降水充沛
- B. 地势平坦,土壤肥沃
- C. 河流众多,灌溉便利
- D. 交通发达,市场广阔

(2017·郴州)“金砖五国”包括中国、印度、巴西、俄罗斯、南非五国。近年来,“金砖五国”经济发展迅速,合作交往日益密切。据此完成 4~5 题。

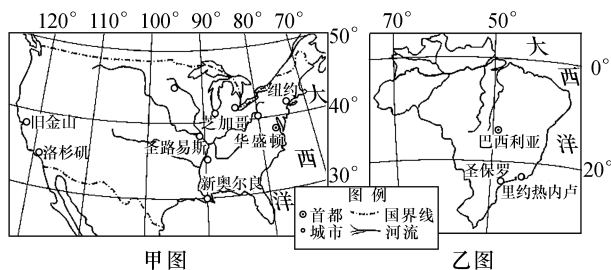
4. “金砖五国”中,面积最大的国家是 ()

- A. 中国
- B. 印度
- C. 巴西
- D. 俄罗斯

5. 巴西境内的世界上流域面积最广、径流量最大的河流是 ()

- A. 亚马孙河
- B. 尼罗河
- C. 刚果河
- D. 密西西比河

6. 走进国家区域认知。读甲、乙两图,回答下列问题。



(1) 根据图中信息,说出图中所示河流共同注入的大洋是_____。

(2) 密西西比河长度 6 262 千米、流域面积 322 万平方千米、流域年降水量大多在 500~1 000 mm, 亚马孙河长度 6 480 km、流域面积 705 万平方千米、流域年降水量在 2 000 mm 以上。根据上述信息,判断径流量较大的河流是_____。

(3) 影响密西西比河与亚马孙河流域城市分布差异的主要因素是_____。

课后提升

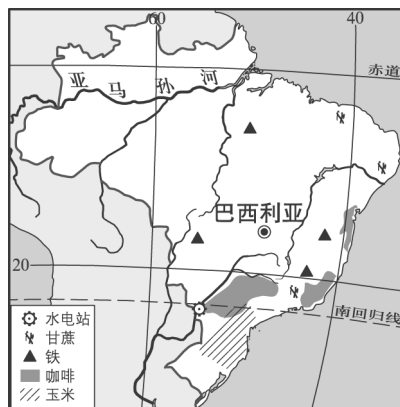
一、单项选择题

读拉丁美洲示意图,回答 1~2 题。



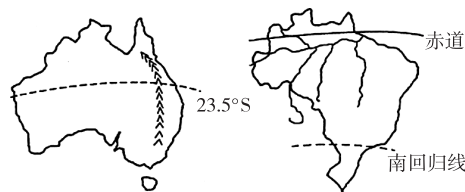
- ①处为南北美洲分界线 ()
 - 巴拿马运河
 - 苏伊士运河
 - 白令海峡
 - 直布罗陀海峡
- ②处为巴西与巴拉圭合建的世界著名水电站 ()
 - 伊泰普
 - 三峡
 - 小浪底
 - 阿斯旺
- (2018·娄底)“巴西很奇怪,汽车喝酒精”,说的是巴西有三分之一的汽车依靠酒精(用甘蔗加工)作为燃料,这种现象产生的原因是巴西 ()
 - 石油资源缺乏
 - 甘蔗含糖量低
 - 铁矿多为贫矿
 - 煤矿储量少
- (2018·巴南区)世界上流量最大、流域面积最广的大河是 ()
 - 长江
 - 尼罗河
 - 恒河
 - 亚马孙河

读图,回答 5~6 题。



- 下列有关亚马孙平原的描述,正确的是 ()
 - 河网稀疏
 - 气候炎热干燥
 - 地势东高西低
 - 分布着茂密的热带雨林
- 下列有关巴西的叙述,正确的是 ()
 - 咖啡、甘蔗主要种植于东北沿海
 - 世界重要的铁矿石出口国
 - 城市、人口主要分布在东北部
 - 亚马孙河注入太平洋

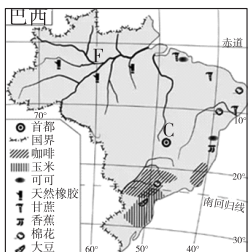
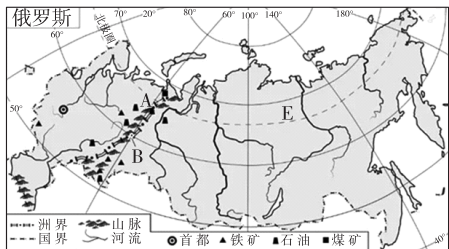
(2017·衡阳)读图,回答 7~8 题。



- 下列关于两国的自然环境的描述,正确的是 ()
 - 澳大利亚东部平原区面积广大
 - 澳大利亚地跨热带和南温带
 - 赤道从巴西中部穿过
 - 巴西气候以温带气候为主
- 下列关于两国人口和经济的叙述,不正确的是 ()
 - 两国人口都主要集中在东南沿海地区
 - 两国人种都以白色人种为主
 - 两国都是世界上重要的铁矿石出口国
 - 两国都是发达国家
- (2018·黑龙江)巴西人最喜欢的一项体育运动是 ()
 - 篮球
 - 足球
 - 乒乓球
 - 羽毛球

二、综合题

10. (2017·福建) 读“金砖国家”的两个成员国略图，完成下列各题。



(1) A 是_____ (山脉); 该山脉以东地区的河流大多注入_____ (大洋), 由此可知该地区地势总体倾斜方向是_____。

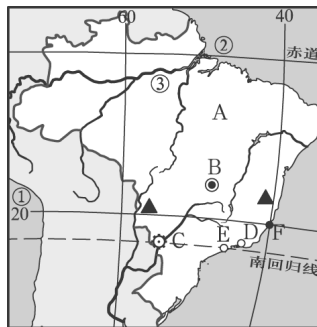
(2) B 地经纬度是(_____, _____); 该地附近是俄罗斯重要的重工业区, 其发展的有利自然条件是_____。

(3) 巴西位于_____ (大洲), C 是_____ (城市); 该国种植面积最大的热带经济作物是_____。

(4) E、F 均为世界人口稀疏地区, 其主要自然原因是
E 地区: _____。

F 地区: _____。

11. 读巴西轮廓示意图, 回答下列问题。



(1) 写出图中数字代表的大洋名称。

①_____ 洋 ②_____ 洋

(2) 图中 A 是世界上面积最大的_____ 高原。河流③冲积形成了世界上面积最大的_____ 平原。该平原终年高温多雨, 生长着世界上面积最大的_____。

(3) 图中 D、E 字母代号中, 表示巴西第一大城市圣保罗的是_____。

(4) 巴西_____ 矿储量巨大, 产量和出口量均居世界前列。全国 90% 以上的人口居住在东部沿海地带, 其中, 以东南部人口最为稠密, 主要原因是_____。



第七节 澳大利亚



扫码观看
本节精彩微课

课时目标

1. 能在地图上指出澳大利亚的地理位置、领土组成和首都。
2. 能根据地图和其他资料,概括澳大利亚自然环境的基本特点。
3. 能运用地图和其他资料,联系澳大利亚自然条件的特点,简要分析该国因地制宜地发展农牧业和工矿业的条件和特点。
4. 能根据地图和其他资料,说出澳大利亚的种族和人口(或民族、语言)、城市等人文地理要素的特点。

课前预习

一、独占一块大陆的国家

地理位置:回归线穿过澳大利亚中部,地跨①_____和热带。东临②_____洋,西临③_____洋,西北面隔海与亚洲相望,南与南极洲遥遥相望

领土组成:由澳大利亚大陆和塔斯马尼亚岛等岛屿组成,是世界上唯一独占一块④_____的国家。面积居世界第6位

居民:大洋洲人口最多的国家,白色人种约占90%,通用语言是⑤_____

地形地势

- 西部高原区:约占大陆总面积的60%,有世界最大的独块岩体⑥_____巨石
- 中部平原区:最低处是⑦_____ ,以此为中心的地形称为澳大利亚大盆地。在低洼处挖井,地下水可自动流出,所以又叫“大自流盆地”

东部山地区:又称为大分水岭。澳大利亚最大的河流——⑧_____发源于此。在大陆东北部海岸外,有举世闻名的大堡礁

气候

- 类型:热带雨林气候、热带草原气候、热带沙漠气候、亚热带湿润气候、温带海洋性气候、地中海气候
- 分布:气候带呈⑨_____状分布

二、古老的动植物

种类

- 动物:有①_____、树袋熊(考拉)、针鼹、鸭嘴兽、澳洲肺鱼、黑天鹅、鸸鹋等
- 植物:有②_____、金合欢树等

原因:长期与其他大陆分离,受③_____阻隔,长期孤立,再加上当地自然环境比较④_____ ,生物进化十分缓慢

三、后起的发达国家

经济特征:南半球经济发达的资本主义国家,

①_____业和②_____业是其经济支柱。

近些年来,③_____业发展较快

农牧业:农产品以小麦、甘蔗、马铃薯等为主;畜牧业以养羊、牛、猪最为重要,是世界上重要的小麦、羊毛、牛肉出口国之一,有“④_____的国家”之称

采矿业:⑤_____、铝土矿等开采量均居世界前列,此外还开采铜、银、石油等,有“⑥_____的国家”之称

工业:主要工业部门有钢铁、有色冶金、汽车、化工、食品、纺织等。近年来,⑦_____产业逐步崛起,以医药、⑧_____相对突出

主要城市

- ⑨_____:首都,全国的政治中心
- 悉尼:全国最大的工业中心和海港城市
- ⑩_____:全国第二大城市

课堂探究

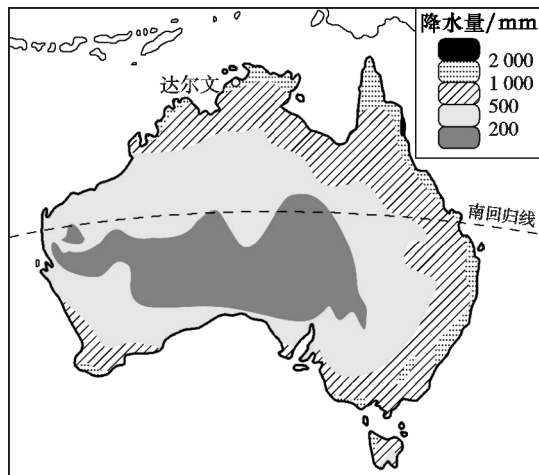
探究一 澳大利亚的位置与自然环境

【问题探究】

1. 我国的民居大多坐北朝南,而澳大利亚的很多民居却坐南朝北。你知道其中的原因吗?

2. 澳大利亚与美国的地势特点有何异同?

3. 结合澳大利亚的年降水量图,回答问题。



(1) 澳大利亚大陆南回归线东西两侧的降水有何差异?

(2) 澳大利亚降水、气候的分布有何特点?

【教材典图精析】

教材 P₁₀₄ 图 8-63 澳大利亚地形分布

图例剖析: 图中不同的颜色表示不同的海拔。
 纬度位置: 南回归线横穿其中部, 澳大利亚位于南半球的中、低纬度, 大部分处于热带和亚热带。
 经度位置: 160°E 经线穿过澳大利亚东部的海洋, 说明澳大利亚位于东半球。
 海陆位置: 澳大利亚位于太平洋和印度洋之间, 南与南极大陆遥遥相望。
 地形地势: 澳大利亚西部为高原, 中部为平原, 东部为山地。地势东、西两侧高, 中部低。

探究二 澳大利亚古老的动植物

【问题探究】



1. 读澳大利亚的特有动物图, 说出它们的名称。

2. 澳大利亚的动物有什么特点? 这些动物为什么唯独生活在澳大利亚?

【典例研析】

(2017·绥化) 下列动物中, 属于澳大利亚特有的动物是 ()

- A. 袋鼠
- B. 长颈鹿
- C. 大熊猫
- D. 斑马

答案: A

解析: 澳大利亚特有的珍奇动物有袋鼠、鸭嘴兽等, 故选 A。

探究三 发达的农牧业和工矿业

【问题探究】

1. 澳大利亚适宜发展农牧业的条件有哪些?

2. 澳大利亚的矿产主要分布在哪里? 此分布特点有哪些优越性?

3. 分析澳大利亚被称为“骑在羊背上”的国家和“坐在矿车里”的国家的原因。

点拨: 农牧业发展的有利条件可以从当地的地形、气候、水源等来分析; 读各种矿产资源的图例, 根据其分布, 总结各种矿产资源的分布地区和特点。

【典例研析】

(2018·杭州)某小组在预习“澳大利亚”一课时,收集到澳大利亚的相关材料。其中正确的是 ()

- ①南回归线横穿,气候干热,草原面积广 ②四面环海,年降水量由南向北逐渐减少 ③中部大盆地地下水含盐高,利于种植业 ④畜牧业发达,美利奴羊在世界久负盛名

- A. ①② B. ①④
C. ②③ D. ③④

答案:B

解析:南回归线横穿澳大利亚中部,气候干热,草原面积广;四面环海,东部降水多,西部和内陆降水少;中部大盆地地下水含盐高,不利于种植业;畜牧业发达,美利奴羊在世界久负盛名。故选B。

课堂训练

1. (2018·济宁)影响澳大利亚人口和城市分布的主要因素是 ()

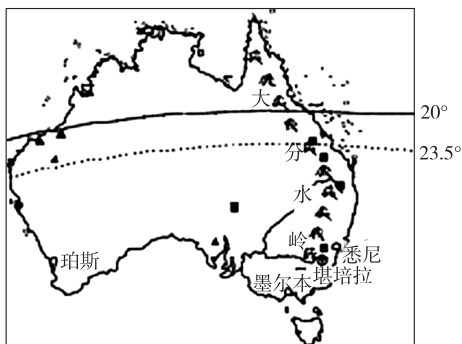
- A. 气候特征 B. 矿产分布
C. 纬度位置 D. 海陆位置

2. (2018·云南)澳大利亚被称为“骑在羊背上的国家”,其发展养羊业的有利条件是 ()

- ①草原广阔 ②气候适宜 ③人口多,羊毛、羊肉需求量大 ④没有大型食肉动物

- A. ①②③ B. ②③④
C. ①③④ D. ①②④

(2017·郴州)2017年3月22日—29日,国务院总理李克强对澳大利亚等国进行正式访问,并成功出席第五轮中澳总理定期会晤。下图为澳大利亚示意图,根据图文材料回答3~4题。



3. 下列关于澳大利亚的说法,正确的是 ()

- A. 澳大利亚地形为西部平原、中部山地、东部高原
B. 澳大利亚以黄色人种为主,大多是亚洲移民的后裔

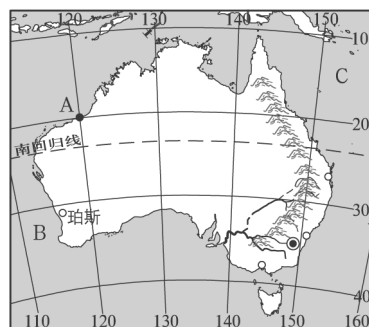
C. 澳大利亚畜牧业发达,被称为“骑在羊背上的国家”

D. 澳大利亚属发展中国家,经济落后,物资短缺

4. 澳大利亚被称为“世界活化石博物馆”。下列属于澳大利亚古老动物的是 ()

- A. 大象 B. 大熊猫
C. 北极熊 D. 袋鼠

5. 读图,回答下列问题。



澳大利亚图

(1)写出A点的经纬度:_____。

(2)写出图中字母所代表的大洋名称。

B _____ C _____

(3)南回归线横穿澳大利亚中部,在地球上的五带中,澳大利亚处于_____带和_____带。

(4)对照地图,写出澳大利亚首都的名称:_____。

澳大利亚的城市、人口大多集中在_____沿海地区,主要是因为_____。

_____。

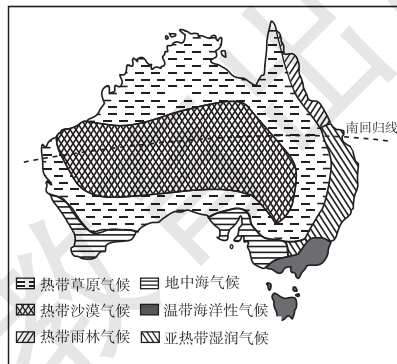
(5)请写出澳大利亚特有的动物:_____。

_____。(至少写出两种)

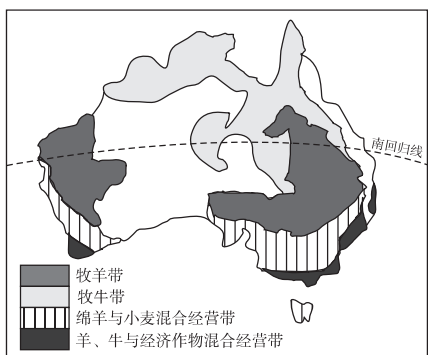
课后提升

一、单项选择题

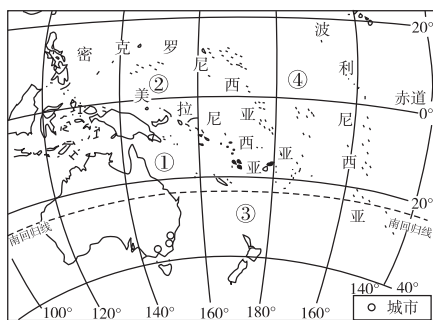
读甲、乙、丙三幅图,回答1~3题。



图甲 气候类型分布图



图乙 农业分布图

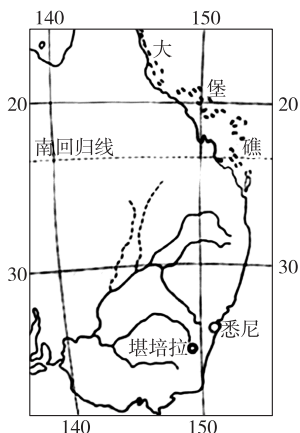


图丙 大洋洲图

1. 澳大利亚畜牧业发达，早在 19 世纪中叶就被誉为“骑在羊背上”的国家。根据甲、乙两幅图分析，澳大利亚牧牛带和牧羊带的气候类型主要是 ()
 A. 热带雨林气候 B. 热带草原气候
 C. 亚热带湿润气候 D. 地中海气候
2. 丙图中，既位于西半球，又位于南半球的是 ()
 A. ① B. ② C. ③ D. ④
3. 据丙图判断，澳大利亚的城市主要分布在 ()
 A. 西北沿海地区 B. 西南沿海地区
 C. 东北沿海地区 D. 东南沿海地区
4. (2018·沈阳) 澳大利亚有“世界活化石博物馆”之称，下列属于该国特有动物的是 ()
 A. 鸸鹋 B. 北极熊
 C. 企鹅 D. 藏羚羊

(2017·娄底) 读澳大利亚局部区域图，完成 5~

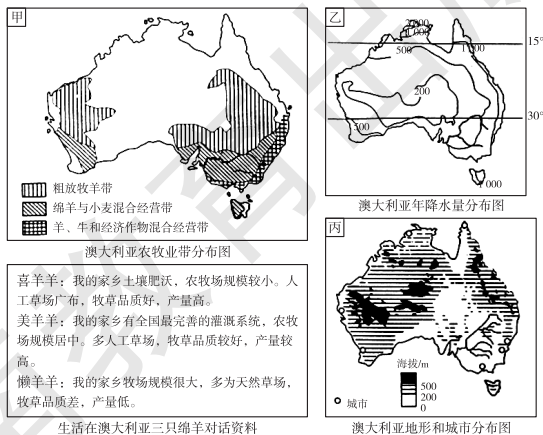
6 题。



5. 澳大利亚已经成为中国公民出境游的热门旅游目的地之一……在图示区域旅游的游客不能欣赏到的壮美景观是 ()
 A. 大堡礁 B. 悉尼歌剧院
 C. 艾尔斯巨石 D. 墨累河风光
6. 受全球变暖、海水温度升高的影响，大堡礁产生“白化”，海洋生物生存环境受到严重破坏，且越往北“白化”越严重，原因是北部 ()
 A. 沙漠逼近海岸 B. 水温比南部高
 C. 众多河流入海 D. 降水比南部多
7. 澳大利亚矿产资源丰富，被称为“坐在矿车里的国家”，是世界上绵羊数和出口羊毛最多的国家，有“骑在羊背上的国家”之称，也是世界椰子产量最多的国家，有“椰子王国”之称，同时拥有多种古老而独特的动植物，被称为“世界活化石博物馆”。这是一个澳大利亚小朋友在博客中发表的文章，其中关于澳大利亚称号错误的是 ()
 A. “坐在矿车里”的国家
 B. “骑在羊背上”的国家
 C. “椰子王国”
 D. “世界活化石博物馆”
8. (2018·岳阳改编) 6 月 18 日的澳大利亚为 ()
 A. 春季 B. 夏季
 C. 秋季 D. 冬季
9. (2018·云南) 下列关于澳大利亚气候的叙述，正确的是 ()
 A. 东部沿海地区较湿润
 B. 热带沙漠气候直抵东海岸
 C. 热带草原气候都分布在北部
 D. 气候类型以南回归线为中心南北对称分布

二、综合题

10. (2017·莱芜) 阅读图文资料，完成下列问题。



(1)根据对话资料,判断喜羊羊、美羊羊、懒羊羊各自的家乡所属的农牧业带:

喜羊羊:_____;

美羊羊:_____;

懒羊羊:_____。

喜羊羊:从 1788 年欧洲殖民者首次带绵羊登上澳洲大陆算起,澳大利亚已有 200 多年养羊史。现在澳大利亚已成为世界上放养绵羊数量和出口羊毛最多的国家,被称为“骑在羊背上的国家”。

(2)与欧洲相比,分析澳大利亚发展养羊业的优势条件。

_____。

懒羊羊:我的家乡气候温暖干燥,地势广阔平坦,远离城市。喜羊羊的家乡和我们就不一样。

(3)参照懒羊羊对家乡的描述,描述喜羊羊家乡的地理环境特点。

_____。

美羊羊:我们共同生活的国家有众多古老生物种类,它们虽然很原始,但是却成为人类研究地球演化历史的活化石。

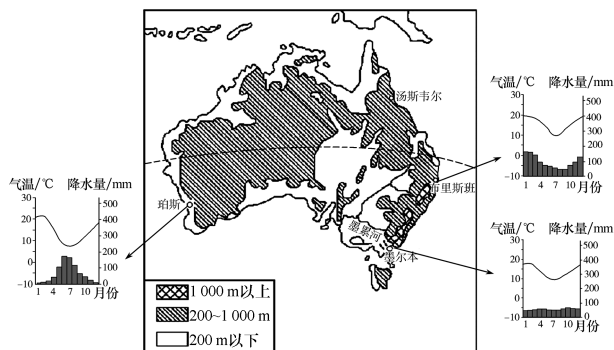
(4)列举一种澳大利亚特有的动物,并分析澳大利亚特有动物众多的原因。

_____。

11. 读下列图文材料,回答下列问题。

材料一 澳大利亚生物物种独特,山区森林覆盖率高,但森林火灾时有发生。

材料二 澳大利亚地形图及部分城市的气温降水统计图。



(1)根据图中信息,完成表中内容。

城市	气候类型	气候特点
布里斯班		
墨尔本		

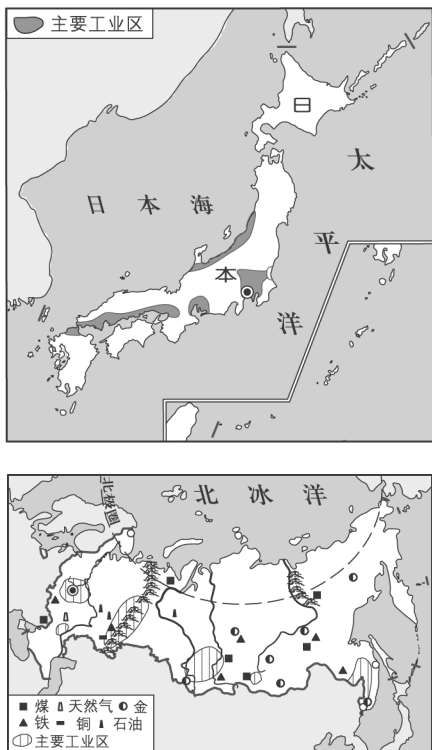
(2)珀斯周边地区森林火灾较多。据气温和降水资料图判断火灾可能性最大的 3 个月份是_____月,判断依据是什么?

(3)桉树是澳大利亚特有树种,以生长快、木质坚硬而成为重要的木材资源,该树种在我国南方丘陵、山地被广泛引种,说一说引种桉树的意义。

章末整合

图释地理

典图一 日本和俄罗斯

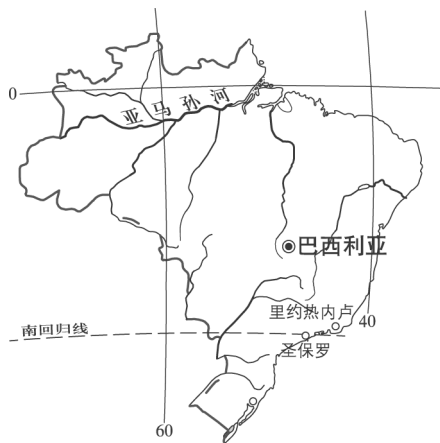


项目	日本	俄罗斯
领土	群岛国家	地跨亚、欧两洲，面积最大的国家
地形	以低山、丘陵为主，平原狭小，多火山、地震	以平原为主，地势东高西低
气候	亚热带季风气候、温带季风气候，海洋性特征明显	温带大陆性气候为主，气候严寒
自然资源	森林、淡水资源丰富，矿产资源贫乏	土地、森林、矿产、水资源丰富
交通运输	海洋运输为主	铁路、公路、管道运输

续表

项目	日本	俄罗斯
工业分布	太平洋沿岸	四大工业区
主要城市	东京、横滨、筑波	莫斯科、圣彼得堡、摩尔曼斯克等

典图二 巴西和澳大利亚

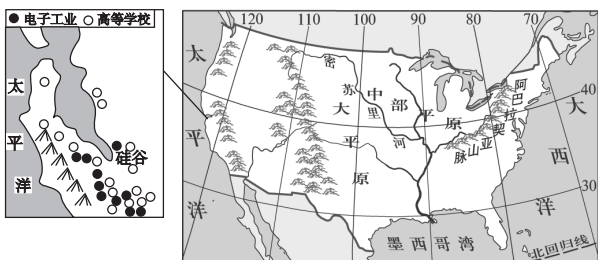


项目	巴西	澳大利亚
位置	南美洲东部和中部，濒临大西洋	位于南半球，濒临太平洋和印度洋
地形	北部是亚马孙平原，南部是巴西高原	西部是高原，中部是平原，东部是山地

续表

项目	巴西	澳大利亚
气候	以热带雨林气候和热带草原气候为主	气候呈半环状分布
河流	亚马孙河	墨累河
矿产资源	铁矿	煤矿、铁矿、铝土等
主要经济部门	发展中的工农业大国	农牧业、工矿业、服务业
主要城市	圣保罗、里约热内卢、巴西利亚等	堪培拉、悉尼、墨尔本等
人种与语言	人种复杂,通用葡萄牙语	以白色人种为主,通用英语

典图三 美国地形图和美国农业带分布图



- 1. 位置与领土:**美国本土位于北美洲中南部,东、西、南分别濒临大西洋、太平洋和墨西哥湾,北与加拿大接壤,西南与墨西哥毗邻。除本土外,还有两个海外州:一是位于北美洲西北部的阿拉斯加州,隔白令海峡与俄罗斯相望;二是位于大洋洲北部太平洋中的夏威夷州。
- 2. 农业生产特点:**种植业与畜牧业并重,农业生产区域专门化、机械化和商品化程度很高。
- 3. 主要农业带:**乳畜带、玉米带、小麦区、棉花带、畜牧和灌溉农业区等。
- 4. 三大工业区**

东北部工业区	发展最早的工业区,钢铁、机械、汽车、化工等传统工业集中在这里
南部工业区	新兴的石油、航空航天、电子等工业基地
西部工业区	新兴工业集中地带,航空、电子、信息技术发展较快

5. 主要城市

首都华盛顿位于哥伦比亚特区;纽约是美国人口最多的城市,也是最大的港口;洛杉矶是太平洋沿岸的最大港口城市和经济、文化中心;圣弗朗西斯科又称旧金山,太平洋沿岸的金融、贸易和文化中心之一;芝加哥是美国的交通中心。

第八章 基础巩固与训练

一、单项选择题

小伟对日本、埃及、俄罗斯、法国这四个国家的有关知识进行归纳整理,请对他的整理工作进行评判。据此回答 1~3 题。

- 小伟归纳了这四个国家的位置特征,其中写错一个关键字导致表述错误,请你指出哪一项是错误的 ()
 - 日本位于亚洲东部、太平洋西北部
 - 埃及位于非洲东北部,还包括亚洲西南端的西奈半岛
 - 俄罗斯是一个欧洲国家,但大部分领土在亚洲
 - 法国位于欧洲东部,领土轮廓略呈六边形
- 小伟对这四个国家的经济特征也进行了描述,不小心也出现了错误,请你找出来 ()
 - 日本有发达的经济,但矿产资源和市场对外依赖严重
 - 俄罗斯的旅游业最发达,是世界旅游大国
 - 法国的核电所占比重重大
 - 埃及的长绒棉世界著名
- 小伟在搜集这四个国家最典型的地理图片时,发现有一张不在这四个国家之中,你知道它是 ()



A



B



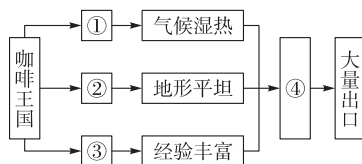
C



D

- (2018·遵义改编)埃及境内尼罗河的流向是 ()
 - 自南向北
 - 自北向南
 - 自西向东
 - 自东向西
- (2018·广安)下列各项属于日本经济发展有利条件的是 ()
 - 海岸线曲折,多优良港湾
 - 矿产资源丰富
 - 地形以平原为主
 - 劳动力素质低

(2017·岳阳)某中学地理学习小组,绘制了一幅框图,探究某国家因地制宜发展经济的一个实例。据此回答 6~7 题。

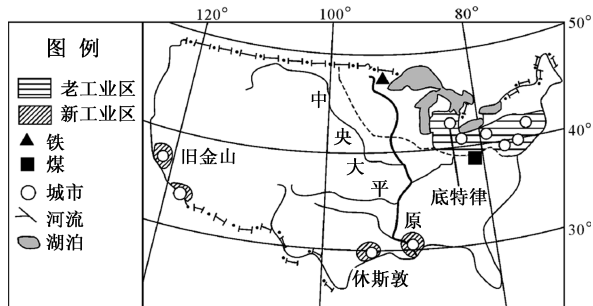


- 该国家可能是 ()
 - 新西兰
 - 加拿大
 - 日本
 - 巴西
- 框图中,各数码与其填入的内容,不合适的是 ()
 - ①地处高纬
 - ②相对高度小
 - ③种植历史久
 - ④质优味浓
- (2018·大庆)俄罗斯的首都是 ()
 - 东京
 - 莫斯科
 - 巴黎
 - 伦敦
- (2018·宜昌)拥有世界上面积最大的平原和高原的国家是 ()
 - 印度
 - 俄罗斯
 - 巴西
 - 美国
- 下列有关法国自然条件的叙述,正确的是 ()
 - 法国的地势东南低,西北高
 - 法国的地形以平原和丘陵为主
 - 法国大西洋沿岸属地中海气候
 - 法国西部濒临地中海
- (2018·连云港)俄罗斯自然资源丰富,重工业发达,其工业区主要分布在 ()
 - 原料产地附近
 - 太平洋沿岸
 - 北冰洋沿岸
 - 沿海地区
- (2018·太原)美国农业高度发达,是世界上最大的农产品出口国,其中产量居世界前列的是 ()
 - 茶叶、稻米
 - 羊毛、甘蔗
 - 小麦、玉米
 - 橡胶、椰子
- 俄罗斯货物运输的主要方式是 ()
 - 航空、铁路
 - 管道、铁路
 - 公路、海运
 - 铁路、公路

14. (2018·长沙)“我住在有‘世界活化石博物馆’之称的大陆,我因腹部有一个育儿袋而得名,跳跃是我的强项……”这里的“我”是指 ()

- A. 大象 B. 北极熊
C. 企鹅 D. 袋鼠

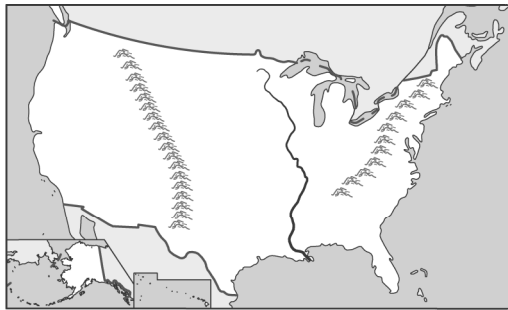
15. 根据图中信息,下列说法错误的是 ()



美国本土示意图

- A. 美国的老工业区分布在东北地区
B. 美国的新工业区分布在南部和西部地区
C. 旧金山发展汽车工业,底特律发展微电子工业
D. 美国的老工业区有丰富的煤、铁资源

读美国本土地形示意图,回答16~17题。



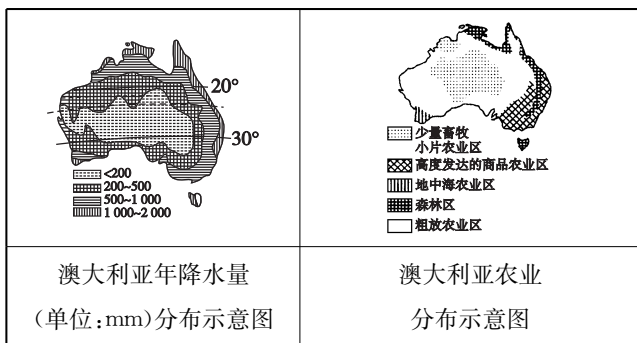
16. 下列关于美国地势起伏状况的叙述,正确的是 ()

- A. 中部高、四周低 B. 东西高、中部低
C. 南北高、中间低 D. 地表起伏不大

17. 下列有关美国农业带分布与自然环境的关系,叙述正确的是 ()

- A. 五大湖地区降水量丰沛,适合牧草生长,形成乳畜带
B. 中部地表崎岖,适合种植玉米,形成玉米带
C. 北部水热充足,适宜小麦生长,形成小麦区
D. 西部气候干燥,地势起伏大,形成畜牧和灌溉农业区

南回归线横穿澳大利亚中部,该国热量丰富,降水分布差异明显。独特的自然环境对人类活动产生深刻的影响。请结合图文材料,回答18~19题。



18. 下列对澳大利亚降水分布特征的描述,正确的是 ()

- A. 由北、南、东部向中部递减
B. 由西向东递增
C. 由北向南递增
D. 由东南向西北递减

19. 形成澳大利亚的农业如图所示分布的最主要的原因是 ()

- A. 气温的差异 B. 降水的差异
C. 海拔的差异 D. 是否临海

20. 小涛同学整理的课堂笔记中,有错误的一项是 ()

- A. 美国是发达国家,农业生产实现机械化和专业化
B. 波斯湾及其沿岸地区分布有丰富的石油资源
C. 俄罗斯国土辽阔,北临太平洋,首都莫斯科位于亚洲
D. 欧洲西部地形以平原为主,温带海洋性气候广布

二、综合题

21. (2017·郴州)阅读图文材料,回答下列问题。

材料一 日本是东亚岛国,山清水秀,多火山、地震……近年来有不少中国游客赴日本旅游购物。

材料二 2017年是中日邦交正常化45周年,5月29日—31日,国务委员杨洁篪应邀访问日本,与日本首相安倍晋三及多名政要会晤,双方承诺将以史为鉴,面向未来,致力发展中日友好关系。

材料三 日本群岛示意图。



(1)日本最大的岛屿是 A _____ 岛,被称为“硅岛”的是 B _____ 岛,首都是 C _____,它是日本最大的城市。

(2)日本地形以 _____ 和丘陵为主,日本位于板块交界处,境内多火山,著名的活火山 D 为 _____,也是日本最高的山峰。日本地震频发,假如你赴日本旅游,正在商场一楼购物时突发地震,你逃生的办法是 _____。

(3)日本主要的民族为 _____ 族,传统服装为 _____ (填“旗袍”或“和服”)。

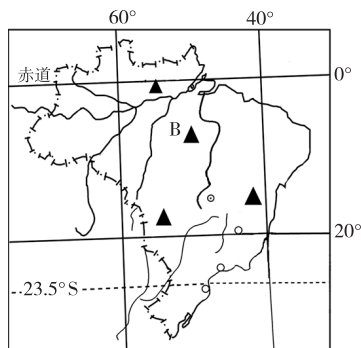
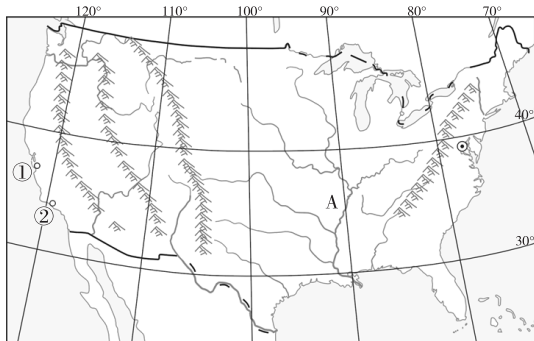
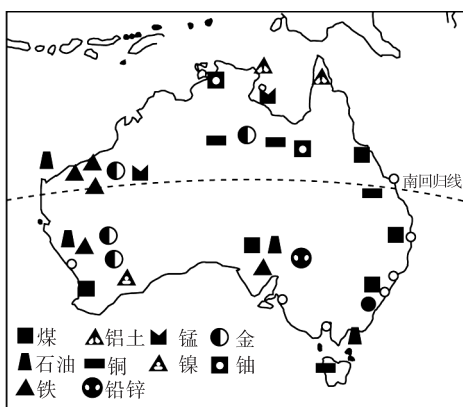
(4)日本的工业和城市主要集中在太平洋沿岸地区,简述其原因。(至少写出两点)

_____。
_____。

22. 阅读图文资料,回答下列问题。

材料一 20 国集团(G20)是一个国际经济合作论坛,2016 年 G20 第十一次峰会于 2016 年 9 月 4 日—5 日在杭州举行,中国、美国、澳大利亚、巴西等 19 个国家以及欧盟出席会议。

材料二 澳大利亚、美国本土、巴西简图。



(1)读澳大利亚简图,可得出“澳大利亚是一个以热带和亚热带气候为主的国家”的结论,请你说出获得该结论的依据是 _____。

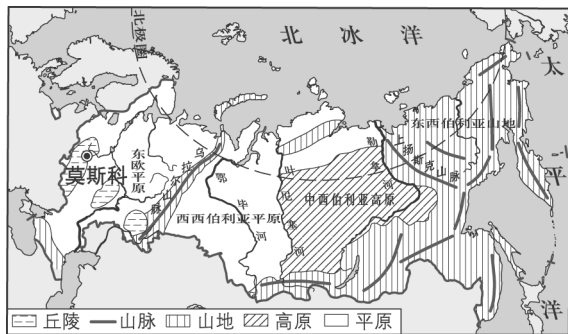
(2)美国是世界上高新技术产业最发达的国家,位于图中 _____ (填序号和城市名称)东南部的“硅谷”是高新技术产业中心,这里发展高新技术产业的条件是 _____ (至少答出两点)。

(3)河流 A 和 B 都是世界著名河流,河流流程长,水资源丰富,但是航运价值 A 河远大于 B 河,试分析其人文原因。

(4)三个国家的地理特征有许多共同之处,下列说法错误的是 ()

- A. 都有热带气候
- B. 地形都是南北纵列,分东中西三部分
- C. 居民都以白色人种为主
- D. 首都都不是本国最大的城市

23. 读俄罗斯示意图,回答问题。



(1) 根据图中信息,总结俄罗斯的地形特征。

(2) 山脉和河流是俄罗斯大地形区的重要分界线。试举一例说明。

(3) 西伯利亚地区主要河流的流向是_____，说明该地区的地势特征是_____。

(4) 俄罗斯的主要农业区分布在欧洲部分,试根据图中信息分析原因。

(5) 俄罗斯北部、东北部有着漫长的海岸线,但港口很少。试说明原因。

24. 读南亚地区、法国和澳大利亚气候类型分布图,回答下列问题。

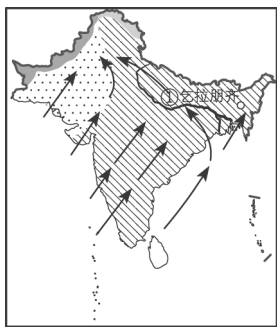


图1 南亚地区气候类型分布图

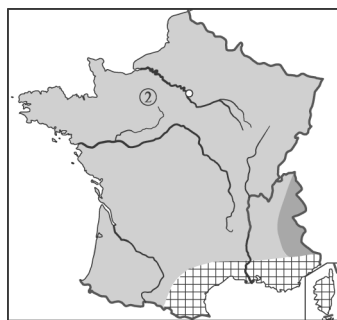


图2 法国气候类型分布图

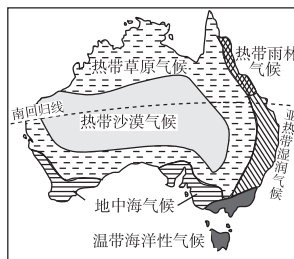


图3 澳大利亚气候类型分布图

(1) ①河的名称是_____。与②河相比,流量季节变化较小的是_____(填序号),流量季节变化较小的原因是_____。

(2) 法国的地势特征为_____,判断依据是_____。

(3) 乞拉朋齐被称为地球的“雨极”,分析其降水量多的原因。

(4) 与法国相比,澳大利亚温带海洋性气候面积狭小,分析其原因。

综合训练二 第六章至第八章

一、单项选择题

1. 下列关于亚洲的叙述, 错误的是 ()
- A. 地势中部高, 四周低
 - B. 大河呈辐射状流向周边的海洋
 - C. 最高的高原是青藏高原
 - D. 分布最广的是温带季风气候

2. (2018·北碚区) 下列因大量出口石油, 而成为比较富裕的亚洲国家是 ()

- A. 日本
- B. 沙特阿拉伯
- C. 韩国
- D. 新加坡

3. (2018·广安) 撒哈拉以南非洲的主要经济特征是 ()

- A. 服务业十分发达
- B. 发达的加工贸易经济
- C. 形成了“单一商品经济”
- D. 经济发达, 进口初级产品, 出口工业制成品

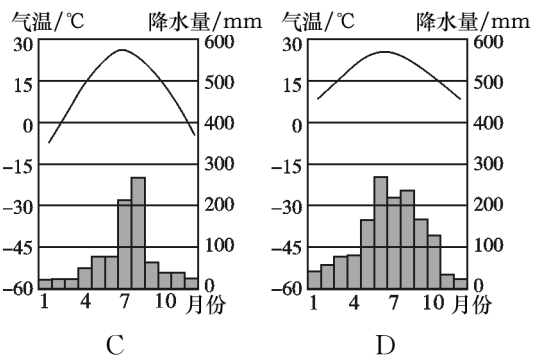
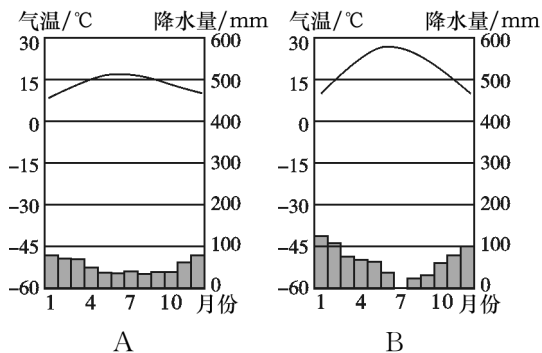
4. (2018·长沙改编) 科罗拉多河流经美国西南部干旱、半干旱山区。20世纪30年代在大峡谷地段修建了胡佛大坝等水利工程后, 南加州成为美国著名蔬菜水果基地, 但大坝对流域生态环境造成了不可逆转的影响。分析大坝修建后可能带来的生态环境问题有 ()

- A. 扩大水域面积, 改善空气质量
- B. 阻碍鱼类洄游, 生物多样性锐减
- C. 改善下游土地荒漠化情况
- D. 拦蓄洪水, 减轻洪涝灾害

2013年10月2日, 习近平主席提出筹建亚洲基础设施投资银行(简称亚投行)。截至2015年4月15日, 亚投行意向创始成员国确定为中国、英国、法国、德国、澳大利亚、意大利、印度、俄罗斯、巴西等57个。据此回答5~6题。

5. 下列关于亚投行创始成员国的叙述, 正确的是 ()
- A. 佛教创始于南亚
 - B. 澳大利亚人口稠密
 - C. 印度以黄色人种为主
 - D. 巴西主要使用英语

6. 下列气温年变化曲线与降水量柱状图中, 能够反映意大利主要气候特点的是 ()



7. 下列有关日本和澳大利亚的说法, 正确的是 ()

- A. 都是岛国, 且多火山地震
- B. 都位于东半球、北半球
- C. 都属于热带国家
- D. 都濒临世界最大的海洋

8. “世界那么大, 我想去走走”, 以下是玲玲同学在朋友圈写的旅游计划。合理的是 ()

- A. 我想去拥有世界最大热带雨林的澳大利亚看桑巴舞
- B. 我想去英国巴黎看风车和壮观的埃菲尔铁塔
- C. 我想去“世界活化石博物馆”的巴西看袋鼠
- D. 我想去被称为“世界办公室”的印度看泰姬陵

9. 下列关于澳大利亚大陆的叙述, 正确的是 ()

- A. 地势较高, 但起伏和缓
- B. 地形自西向东依次为山地、平原和高原
- C. 西部有纵贯南北的大分水岭
- D. 中部有大自流盆地, 为发展畜牧业提供水源

10. 下列叙述正确的是 ()

- A. 印度大部分地区地处温带
- B. 俄罗斯自然资源种类齐全, 储量丰富
- C. 泰国是世界最大的椰子生产国
- D. 东南亚地处亚洲与非洲、太平洋与印度洋之间的“十字路口”

11. (2018·苏州改编) 世界上天然橡胶、油棕、椰子和蕉麻最大的产地是 ()

- A. 南亚
- B. 东南亚
- C. 西亚
- D. 欧洲西部

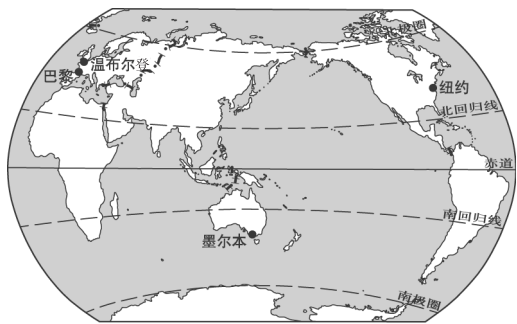
12. (2018·怀化) 下列景观位于南亚地区的是 ()

- A. 埃菲尔铁塔
- B. 泰姬陵
- C. 仰光大金塔
- D. 白宫

13. (2018·遵义) 被称为“冰雪高原”“白色沙漠”“冰库”的地区是 ()

- A. 北极地区
- B. 中东地区
- C. 南极地区
- D. 西亚地区

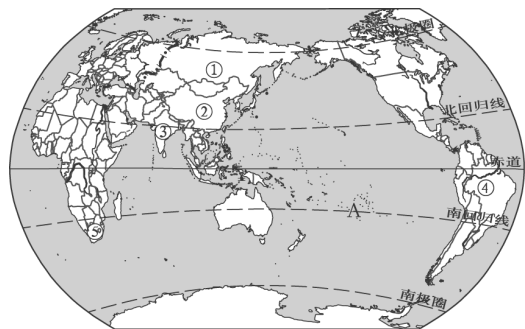
英国温布尔登网球锦标赛、法国网球公开赛、美国网球公开赛和澳大利亚网球公开赛被称为“世界四大网球公开赛”。读图,回答14~16题。



14. 四大网球公开赛的举办城市中,位于西半球的是 ()
- A. 温布尔顿 B. 巴黎
C. 纽约 D. 墨尔本
15. 2018年,澳大利亚网球公开赛已于1月15日至28日成功举行。公开赛举办期间,墨尔本是 ()
- A. 春季 B. 夏季 C. 秋季 D. 冬季
16. 下列关于图中四座城市的叙述,正确的是 ()
- A. 温布尔登全年温和多雨
B. 巴黎属于地中海气候
C. 纽约是美国的首都
D. 墨尔本是澳大利亚最大的城市
17. (2018·北碚区)不同国家和地区其物产和经济结构都有很大差异,将来你可能会去俄罗斯参加产品订货会,带上什么产品,你会收到更多的订单 ()
- A. 汽车 B. 飞机
C. 石油 D. 生活日用品
18. (2018·北碚区)日本在太平洋沿岸和濑户内海沿岸形成四大工业区的主要原因是 ()
- A. 矿产资源丰富
B. 气候炎热干燥
C. 海运便利,利于进口原料、出口产品
D. 人口稀少,人均资源丰富
19. 1990年以后,美国在传统工业发展缓慢甚至衰退的情况下,一种以信息技术产业、生物技术产业、新材料技术产业为代表的新兴产业蓬勃发展,并有力地促进了经济的增长。这种新兴产业是 ()
- A. 房地产业 B. 汽车工业
C. 高新技术产业 D. 采矿业
20. 你认为符合巴西事实的有 ()
- ①盛产咖啡,成为世界上的“咖啡王国” ②桑巴舞和足球运动是巴西多元文化的代表
③最显著的人口特征是混血人种数量多 ④巴西的城市和人口主要分布在亚马孙平原上
- A. ①②③ B. ②③④
C. ①②④ D. ①③④

二、综合题

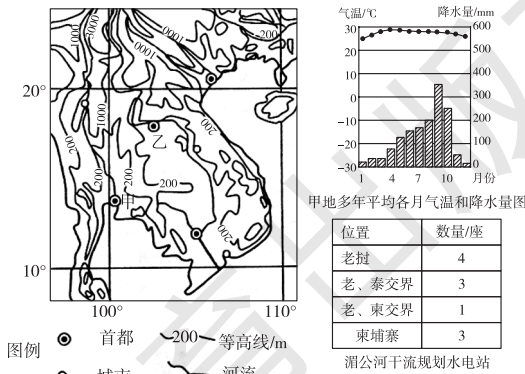
21. 2014年7月15日(当地时间)，“金砖国家”(①俄罗斯、②中国、③印度、④巴西、⑤南非)领导人在巴西福塔莱萨举行第六次峰会。读图,回答问题。



- (1)从图中可以看出,南非位于_____ (填“南”或“北”)半球,该国所在的大洲有世界上最长的河流_____河。
- (2)图中虚线为极圈或回归线,字母A所在虚线的纬度是_____。
- (3)“金砖国家”之间的互助合作被称为“_____”(填“南北对话”或“南南合作”)。
- (4)请结合所学地理知识,列举中国、俄罗斯、巴西、印度四国具有的共同点:_____ ; _____。(两点即可)
- (5)“金砖国家”中有极昼极夜现象的是_____ (填序号),热带雨林气候面积最大的是_____ (填序号),高原海拔最高的是_____ (填序号)。
- (6)下列商品中,最不可能从俄罗斯进口的是 ()
- A. 石油、天然气 B. 服装、玩具
C. 木材 D. 铁矿
22. (2017·莱芜)阅读资料,探究河流对区域经济发展的影响。

材料一 湄公河发源于中国青海省,注入南海,在中国境内称澜沧江,出境后称湄公河,流域内水能资源十分丰富。

材料二 中南半岛等高线示意图及甲地多年平均各月气温和降水量图。



认识流域自然环境:

- (1)结合图中信息,描述中南半岛的地形特点。

探究河流对区域城市分布的影响：

(2)归纳图中主要城市的分布规律,并阐述这样分布的有利条件和弊端。

探究河流对区域农业生产的影响：

(3)泰国、越南、缅甸等国家是世界上著名的稻米生产国和出口国,请结合图中信息分析这些国家盛产稻米的原因。

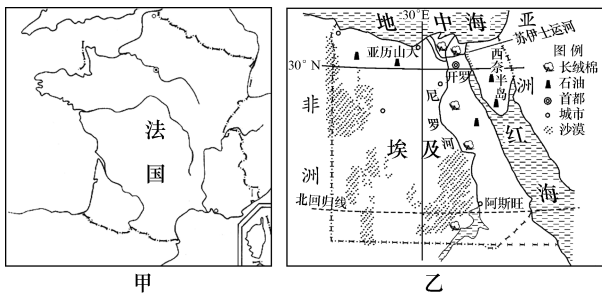
探究流域的可持续发展：

(4)你是否赞成湄公河流域水能资源的开发?请阐明理由。

23. 读图文材料,回答下列问题。

材料一 甲是法国简图,中法是友好国家。

材料二 乙是埃及简图,2016年是中埃建交60周年。首都开罗人口约1800万,是埃及政治、经济、文化中心。2015年3月,埃及宣布在开罗以东的沙漠地区将兴建新首都,新首都作为政治中心,规划容纳约500万居民。



(1)完成表格

国家	主要河流	首都	主要旅游景点(任写一处)
埃及	①_____	开罗	③_____
法国	塞纳河	②_____	埃菲尔铁塔

(2)读图甲分析,法国的地势特征是_____ ,判断依据是_____。

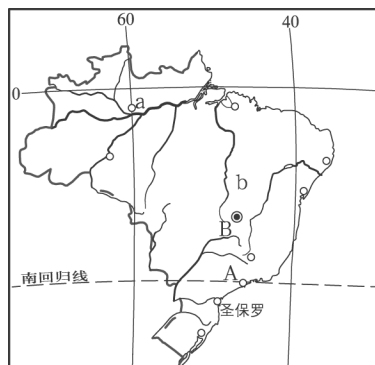
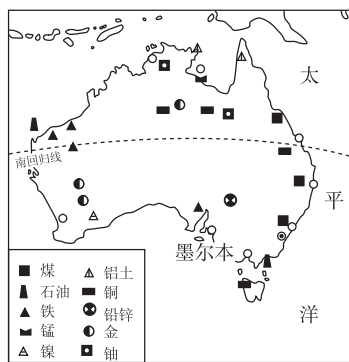
(3)据材料二分析,推测埃及新建首都的首要目的是_____。(单项选择)

- A. 平衡地区发展
- B. 提升国家形象
- C. 分散开罗人口
- D. 吸引国家投资

(4)分析埃及人口集中分布在尼罗河谷地及河口三角洲的主要原因。

24. 读下列图文材料,回答问题。

材料一



材料二 某开发商看中了亚马孙热带雨林巨大的经济价值;这里的木材质量好,有不少珍贵的热带硬木,砍树卖钱一定大发财。于是,该开发商向巴西政府申请成立林木采伐公司,以便大肆采伐热带雨林,但巴西政府拒绝了开发商的请求。

(1)写出图中字母代表的地理事物名称。

最大海港:A _____ 首都:B _____
河流:a _____ 高原:b _____

(2)澳大利亚古老的动植物种类繁多,还有很多特殊种类,是“世界活化石博物馆”。请任意列举一种:_____。

(3)根据材料一,简单分析巴西和澳大利亚人口和城市分布的共同特点:_____。

(4)从澳大利亚开往中国的货轮上装载的矿产最有可能是_____矿。

(5)拉丁美洲通用西班牙语,但巴西的官方语言是_____语。

(6)结合材料二分析,巴西政府拒绝开发商申请的理由是什么?

参考答案

第六章 认识大洲

第一节 亚洲及欧洲

第 1 课时

课前预习

- 一、①亚细亚 ②欧罗巴 ③东 ④赤道 ⑤北温 ⑥太平洋
⑦印度洋 ⑧非洲 ⑨白令 ⑩北温 ⑪大西 ⑫非
二、①高原、山地 ②3/4 ③南极 ④大 ⑤死海 ⑥高
⑦低 ⑧弧形
三、①15° ②24 ③1 ④西十二区 ⑤东十二区 ⑥减去

课堂探究

探究一

答案:欧洲位于东半球、北半球;地跨寒、温两带,北温带面积最广;北、西、南三面分别临北冰洋、大西洋、地中海,东以乌拉尔山、乌拉尔河、里海、大高加索山、黑海、土耳其海峡与亚洲为界。

探究二

答案:1.从图上可以看出,亚洲的中部以较深的褐色等颜色为主,周围以绿色、浅绿色和浅黄色为主,说明亚洲的地势中部高,四周低。
2.高原和山地主要分布在中部,平原主要分布在大陆边缘。
3.纬线指示东西方向,经线指示南北方向。图甲显示亚洲中部高,东西低;图乙显示亚洲中部高,南北低。综合两图可知,亚洲的地势特点是中部高,四周低。

课堂训练

1. A 2. C 3. B 4. C 5. B
6. 答案:(1)帕米尔 青藏 东北
(2)喜马拉雅 珠穆朗玛峰 高
(3)帕米尔 大陆边缘
(4)地形以高原、山地为主;地面起伏大,高低悬殊;地势中部高,四周低。
(5)亚洲北部深入北极圈内,南部延伸到赤道以南,大部分位于北温带。

课后提升

一、单项选择题

1. B 2. C 3. A 4. B 5. B 6. B 7. B 8. A 9. C

二、综合题

10. 答案:(1)白令 苏伊士
(2)乌拉尔 土耳其
(3)北冰 太平 印度 地中

第 2 课时

课前预习

- 一、①寒、温、热 ②温带海洋性 ③气温和年降水量 ④海陆

热力性质差异

- 二、①辐射状 ②内流 ③长江 ④最多 ⑤阿姆 ⑥贝加尔湖
⑦里海 ⑧死海
三、①亚洲 ②东 ③南 ④北部 ⑤西

课堂探究

探究一

- 答案:1.气温的年较差逐渐增大。
2.年降水量逐渐减少。
3.海洋性特征逐渐减弱,大陆性特征逐渐增强。

探究二

- 答案:1.亚洲的大江大河分别流入太平洋、印度洋和北冰洋。
2.亚洲的地势中部高,四周低。受地势的影响,亚洲的水系结构呈辐射状从中部的高原山地流向周围的海洋。

课堂训练

1. C 2. A 3. B 4. D 5. A
6. 答案:(1)长江 湄公河 叶尼塞河 里海 贝加尔湖
(2)A B C
(3)阿姆 锡尔 咸海
(4)辐射

课后提升

一、单项选择题

1. C 2. A 3. C 4. B 5. A 6. D 7. B

二、综合题

8. 答案:(1)冬季比较温和,夏季比较凉爽,年降水量比较多,季节分配比较均匀(或冬无严寒,夏无酷暑,降水的季节分配比较均匀,或全年温和湿润) 水量丰富,流量季节变化小,无结冰期(答出 1 点即可)
(2)地势低平(或地势平坦) 水流平稳
(3)发达 稠密
(4)重要(或大)
9. 答案:(1)乌拉尔 土耳其 苏伊士 白令
(2)中部高,四周低,地面起伏大 河流大多发源于中部的高原、山地,呈辐射状流向周围的海洋
(3)黄色 白色
(4)地处世界上最大的大陆的东部,濒临世界最大的海洋,海陆热力性质差异特别显著。
(5)位于亚欧大陆内部,距海遥远,气候干旱,降水少,沙漠广布。

第二节 非洲

第 1 课时

课前预习

- 一、①印度 ②大西 ③苏伊士运河 ④埃及 ⑤利比里亚
二、①高原大陆 ②东南 ③西北 ④埃塞俄比亚高原
⑤乞力马扎罗山 ⑥刚果盆地 ⑦撒哈拉沙漠

课堂探究

探究一

- 答案:1. 描图略。大部分位于 20°W~50°E 之间,位于东半球的西部。
 2. 描图略。纬度位置:赤道穿过非洲的中部,南、北回归线分别穿过非洲的南部、北部,非洲地跨南、北两个半球,大部分位于热带。
 3. A 为印度洋,B 为大西洋,C 为地中海,D 为直布罗陀海峡,E 为红海。非洲东濒印度洋,西临大西洋,北隔地中海及直布罗陀海峡与欧洲相望,东北与亚洲之间隔着狭长的红海,并以苏伊士运河为陆上分界。

探究二

- 答案:1. 非洲海拔 500~1 000 米的高原占全洲面积的 60% 以上,被称为高原大陆。地势东南高,西北低。
 2. 非洲少半岛、岛屿、海湾等,是世界上海岸线最平直的大洲。
 3. 东非大裂谷是由板块张裂而成的。从东非大裂谷的范围及其扩张速度可推测出,随着板块不断地缓慢扩张,大裂谷逐渐变宽变深,最后会导致海水涌入。大裂谷以东的非洲部分同非洲大陆分离,非洲的面积减小。随着大裂谷不断扩大,红海将成为新的大洋。

课堂训练

1. B 2. B 3. B 4. C 5. A
 6. 答案:(1)亚洲 欧洲 非洲
 (2)印度洋 地中海 大西洋 红海
 (3)苏伊士 直布罗陀

课后提升

一、单项选择题

1. C 2. C 3. C 4. C 5. B 6. A 7. B 8. A 9. B 10. D

二、综合题

11. 答案:(1)非 大西
 (2)赤道横穿该大洲的中部
 (3)由南向北 地中
 (4)石油

第 2 课时

课前预习

- 一、①热带大陆 ②干旱区 ③南北对称 ④畜牧 ⑤耕地 ⑥绿洲 ⑦柑橘
 二、①金刚石 ②黄金 ③大型野生

课堂探究

探究一

- 答案:1. 气候类型呈带状,以赤道为轴,南北对称分布。
 2. 非洲由于气温高,蒸发作用强,年降水量在 500 mm 以下的地区干旱少雨。
 3. 乞力马扎罗山由于海拔高,气温逐渐降低,山顶终年积雪,成为“赤道雪峰”。从山下到山顶,植被为稀树草原、森林、草地、冰雪覆盖。

探究二

- 答案:1. 尼罗河自南向北流,注入地中海;刚果河自东向西流,

注入大西洋。非洲的地势东南高,西北低。

2. 尼罗河下游流经撒哈拉沙漠,该地区属热带沙漠气候,降水量少,蒸发量大,且几乎无水源补给,因而河口年平均流量小。刚果河流经刚果盆地,该地区属热带雨林气候,降水丰沛,流域面积广,汇水多,因而河口年平均流量大。

课堂训练

1. D 2. A 3. C 4. D 5. D

6. 答案:(1)热带草原 地形

- (2)乙河 乙河位于刚果盆地,盆地易聚水 乙河所在的区域属于热带雨林气候,全年降水充沛,而甲河流经区域降水较少
 (3)南非位于非洲南部,东临印度洋,西临大西洋。
 (4)①南非矿产资源丰富;②临海国,海运便利;③有丰富的海洋资源;④绕经南非海域的好望角航线是沟通东西方交通的重要要道

课后提升

一、单项选择题

1. A 2. C 3. C 4. C 5. B 6. D 7. C 8. D 9. B

二、综合题

10. 答案:(1)①苏伊士运河
 (2)③ 由于板块的张裂运动,地壳不稳定。
 (3)④ 过分依赖初级农矿产品为主的经济
 (4)热带大陆:大部分地区处于南北回归线之间。高原大陆:平均海拔较高,东部和南部的海拔都在 1 000 米以上,以高原为主。资源大陆:金刚石、黄金等矿产资源丰富,可可、咖啡等经济作物产量大。
 (5)控制人口数量,提高人口素质;保护生态环境;减轻自然灾害;大力发展粮食生产,解决食物短缺问题;引进人才、技术,发展工业等。(答出三个要点即可)

第三节 美洲

第 1 课时

课前预习

- 一、①北温带 ②白令 ③太平洋 ④亚洲与北美洲 ⑤俄罗斯与美国 ⑥墨西哥 ⑦热带经济 ⑧古巴岛 ⑨英语 ⑩美国
 二、①较大 ②大平原 ③阿巴拉契亚 ④格陵兰 ⑤安第斯山脉 ⑥亚马孙平原 ⑦巴西高原

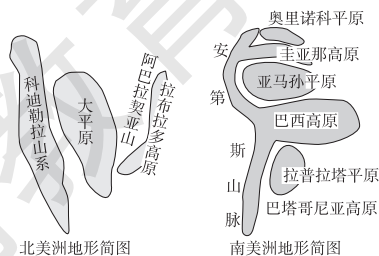
课堂探究

探究一

- 答案:1. 巴拿马运河。
 2. 美国以南的美洲地区称为拉丁美洲。北美与拉丁美洲以美国南部国界为界,北部属于北美,南部属于拉丁美洲。
 3. 北美的范围小于北美洲,拉丁美洲的范围大于南美洲。

探究二

1. 如图所示。



2. 同;西侧均为高大的山系。

异:北美洲的地形分为三大南北纵列带,而南美洲东部则是平原与高原相间分布。

课堂训练

1. A 2. C 3. B 4. D

5. 答案:(1)北冰洋

(2)亚洲和北美洲的洲界线 俄罗斯和美国的国界线 国际日期变更线

(3)麦哲伦船队自东向西越过了国际日期变更线,日期要加上一天。

课后提升

一、单项选择题

1. B 2. D 3. C 4. A 5. C 6. C 7. B 8. B

二、综合题

9. 答案:(1)落基 拉布拉多 巴拿马 密西西比 墨西哥

(2)东西高,中部低

(3)亚马孙平原 巴西高原

(4)安第斯山脉 ⑤

第2课时

课前预习

一、①温带大陆性 ②西部沿海 ③墨西哥湾 ④湿润 ⑤热带雨林 ⑥热带草原

二、①印第安 ②黄色 ③美国、加拿大 ④白色 ⑤世界人种大熔炉 ⑥加拿大 ⑦玉米 ⑧巴西 ⑨阿根廷

课堂探究

探究一

答案:1. 北美洲的热带沙漠气候、地中海气候和温带海洋性气候呈带状分布在太平洋沿岸的狭长地带。

这一分布特点主要与地形有关。

2. 由于北美洲中部大平原纵贯南北,冬季寒冷气流可到达墨西哥湾沿岸,使墨西哥湾沿岸冬季出现严寒天气,遭受冻害影响。春夏季节,来自墨西哥湾的暖湿气流也能长驱北上,到达哈得孙湾附近,带来短时间的暖热天气。

3. 因为南美洲以热带气候为主,高山、高原海拔高,气温低,气候温和,适宜人类居住。

探究二

答案:1. 甲最热月是7月份,位于北半球;乙最热月是1月份,位于南半球。

2. 亚热带(甲、乙两地的最冷月均温都在0℃以上)。

3. 甲、乙两地夏季炎热干燥,冬季温和多雨,都属于地中海气候。

课堂训练

1. D 2. B 3. C 4. C 5. B

6. 答案:(1)北温 大西 白令

(2)山地 平原 东西高,中部低

(3)温带大陆性气候 地形

课后提升

一、单项选择题

1. B 2. C 3. B 4. B 5. B 6. A 7. A 8. B 9. B

二、综合题

10. 答案:(1)南北回归线(或23.5°N~23.5°S) 昼长夜短

(2)无 温(或南、北温)(说明:只填写“北温带”或“南温带”是错误的)

(3)极夜 枯水期

(4)巴拿马 专门(或专业)

第六章 基础巩固与训练

一、单项选择题

1. C 2. D 3. C 4. C 5. C 6. A 7. B 8. D 9. B 10. B

11. C 12. B 13. A 14. B 15. C 16. A 17. A 18. C

19. B 20. B

二、综合题

21. 答案:(1)中部高,四周低 波斯湾

(2)丝绸 草原

(3)印度 红

(4)温带海洋性

(5)地理位置重要、丰富的石油资源等。

22. 答案:(1)印度 东非 刚果 大西

(2)由板块张裂而成

(3)-9.37

23. 答案:(1)北美 南美 大西

(2)西 低

(3)巴拿马

(4)拉丁美

24. 答案:(1)落基 密西西比 巴拿马

(2)英语 乳畜

(3)“南北对话”

(4)受地形因素影响,西部是狭长高大的山脉,阻止了海洋湿润气流进入内地。

(5)开展双边贸易和开放旅游业,扩大经济和文化交流,加强对文化遗产的保护。

第七章 了解地区

第一节 东南亚

第1课时

课前预习

一、①北回归线 ②大洋 ③十字路口 ④马来 ⑤山河相间 ⑥冲积平原 ⑦热带季风 ⑧热带雨林 ⑨冲积平原

二、①马来 ②苏门答腊 ③太平 ④印度 ⑤太平洋西岸

⑥新加坡

课堂探究

探究一

答案:1. 中南半岛的地势北高南低,使得中南半岛的河流由

北向南流;同时,高大山脉呈南北走向,成为各河流的分水岭,使得各河流在两大山脉之间向南流,最终形成山河相间、纵列分布的地表形态。

一是根据中南半岛地形的分布判断,因为山地主要分布在北部,半岛南部沿海地区多平原;二是根据中南半岛上河流的流向,判断地势特征。

2. 这里位于欧亚板块与印度洋板块、太平洋板块的交界处,地壳活跃,多火山和地震。

3. 火山喷发后,由一些火山灰形成的土壤非常肥沃,为农作物的生长提供了丰富的养分,而火山喷发往往是百年难遇的,火山口附近为人们提供了必要的生活场所。

探究二

答案:1. 热带雨林气候主要分布在马来群岛大部分地区和马来半岛南部;热带季风气候主要分布在中南半岛和菲律宾群岛北部。

2. 相同点:都是全年高温。不同点:降水季节分配不同,热带雨林气候全年多雨,热带季风气候分为旱、雨两季。

课堂训练

1. D 2. D 3. A 4. A 5. C

6. 答案:(1)非 亚 大洋 印度 太平

(2)高原、山地 青藏

(3)马六甲

(4)印度洋 太平洋 印度尼西亚

(5)澳大利亚 海运 运载量大、投资少、运价低

课后提升

一、单项选择题

1. C 2. C 3. D 4. D 5. A 6. D 7. B 8. D

二、综合题

9. 答案:(1)中南 马来

(2)海

(3)赤道 马六甲

(4)东北 东南

10. 答案:(1)热带季风 热带雨林

(2)中南半岛大部分及菲律宾群岛北部 马来群岛大部分及马来半岛南部

(3)雨 旱

(4)全年高温多雨 对流

第2课时

课前预习

一、①天然橡胶 ②椰子 ③蕉麻 ④水稻 ⑤稻米 ⑥石油 ⑦锡 ⑧石油 ⑨锡

二、①越南 ②印度尼西亚 ③澜沧江 ④越南 ⑤海外华人 ⑥广东 ⑦华人 ⑧华侨

课堂探究

探究一

答案:1. 东南亚以热带气候为主,湿热的气候,为热带作物的生长提供了条件。

2. 东南亚大部分地区属热带季风气候和热带雨林气候,雨热

丰足;中南半岛多河流冲积平原,马来群岛多沿海平原,这些地区地势平坦;东南亚人口众多,劳动力丰富;稻米是当地居民的主要食粮等。

探究二

答案:1. A 河内,B 万象,C 金边,D 曼谷,E 内比都。城市主要分布在河流沿岸及河口三角洲。

2. 有利方面:①地势平坦,为城市提供建设用地。

②水运便利,为城市对外交通运输提供方便。

③为城市工农业生产和生活提供水源。

④使城市景色优美等。

不利方面:①河流水患会带来经济损失。

②城市工业废水和生活污水的任意排放,会导致河流污染,城市生态环境恶化。

③过量取水,破坏流域内水的自然循环和更新等。

课堂训练

1. B 2. C 3. C 4. B 5. B

6. 答案:(1)印度尼西亚 ⑤

(2)① ② ④ ① ④

(3)新加坡

(4)⑤ ⑥

(5)老挝

课后提升

一、单项选择题

1. B 2. A 3. B 4. C 5. B 6. D 7. B 8. D

二、综合题

9. 答案:①地势 ②汛期 ③含沙量(②③顺序可以颠倒)

④低 ⑤热带季风气候

第二节 南亚

课前预习

一、①中部 ②印度 ③阿拉伯海 ④孟加拉湾 ⑤尼泊尔 ⑥印度 ⑦马尔代夫

二、①喜马拉雅山脉 ②恒河 ③印度河 ④德干 ⑤巴基斯坦 ⑥印度 ⑦孟加拉湾

三、①热带季风 ②凉 ③东北 ④热 ⑤雨 ⑥西南 ⑦旱涝

四、①佛 ②印度 ③斯里兰卡 ④印度 ⑤巴基斯坦 ⑥印度

⑦伊斯兰 ⑧宗教寺庙 ⑨泰姬陵 ⑩伊斯兰

五、①15.4 亿 ②1/5 ③印度 ④巴基斯坦 ⑤农业 ⑥东北

⑦西北 ⑧恒河 ⑨德干 ⑩信息技术

课堂探究

探究一

答案:1. A 喜马拉雅山地,B 恒河平原,C 德干高原。

2. 西高东低。河流大多自西向东流。

3. 印度河。

探究二

答案:1. 3—5月,气温较高,西南季风尚未来临,高温少雨;

6—10月,降水较丰富,西南季风带来大量雨水,湿热多雨;

11月到次年2月,气温较低,盛行干燥的东北季风,气候凉爽宜人。

2. 属于热带季风气候。最显著的特征是一年可分为三季：3—5月为热季，6—10月为雨季，11月到次年2月为凉季。
3. 乞拉朋齐位于喜马拉雅山南坡，西南季风受山地的阻挡，气流沿山坡爬升，地形雨丰沛。

探究三

答案：主要农作物有水稻、小麦、黄麻、棉花。水稻主要分布在印度东北部和西部沿海地区、孟加拉国西部；小麦主要分布于西北部干旱少雨地区；黄麻主要分布在恒河下游地区；棉花主要分布在德干高原西部地区。

课堂训练

1. C 2. C 3. B 4. B 5. D

6. 答案：(1)阿拉伯 孟加拉 喜马拉雅 德干
(2)泰姬陵
(3)伊斯兰教 南南合作
(4)乞拉朋齐 略。(从季风、地形两个方面回答即可)

课后提升

一、单项选择题

1. C 2. C 3. A 4. C 5. A 6. C 7. C 8. D 9. A

二、综合题

10. 答案：(1)地形以高原为主；地势西高东低。
(2)甲 短 干旱
(3)德干高原 恒 纺织
11. 答案：(1)阿尔卑斯—喜马拉雅 印度洋 碰撞挤压 珠穆朗玛峰
(2)印度 印度 佛
(3)热 西南 旱涝(或水旱)

第三节 西亚

第1课时

课前预习

- 一、①里海 ②地中海 ③丝绸之路 ④西亚 ⑤铁路 ⑥欧二、①热带沙漠 ②温带大陆性 ③炎热干燥 ④安卡拉羊毛 ⑤河谷 ⑥以色列

课堂探究

探究一

答案：1. 地中海、黑海 波斯湾、阿拉伯海
2. 共有两条：其一，印度洋—阿拉伯海—曼德海峡—红海—苏伊士运河—地中海—直布罗陀海峡—大西洋；其二，印度洋—好望角—大西洋。从亚洲到欧洲的水路第一条最近。

探究二

答案：1. 因为阿拉伯半岛降水稀少，是世界著名的干旱地区，大部分地表为热带沙漠，所以许多国家根本就没有河流，称为“无流国”。
2. 西亚地区干旱缺水，种植树木需要花费大量钱财去购买淡水资源。

课堂训练

1. C 2. C 3. B 4. B 5. A

6. 答案：(1)阿拉伯海 红海 地中海 黑海 里海 亚洲 非洲 欧洲

- (2)霍尔木兹海峡 苏伊士运河 土耳其海峡

课后提升

一、单项选择题

1. A 2. A 3. C 4. B 5. D 6. B 7. B 8. C

二、综合题

9. 答案：(1)霍尔木兹海峡 沙特阿拉伯
(2)五海三洲之地
(3)靠近河流，水源充足；位于两河平原，地形开阔。
(4)有利影响：热量充足，光照充足；不利影响：雨热不同期(降水少)。

第2课时

课前预习

- 一、①储量 ②产量 ③波斯湾 ④沙特阿拉伯 ⑤美国 ⑥日本 ⑦多元化 ⑧维也纳
二、①阿拉伯人 ②西亚 ③伊斯兰教 ④犹太教 ⑤伊斯兰教 ⑥穆罕默德 ⑦大清真寺 ⑧伊斯兰 ⑨基督

课堂探究

探究一

答案：1. 西亚石油储量大、埋藏浅、油质好，产量大且成本低；产油国人口少，工业不发达，石油消费量不大；开采石油成本低。石油输往美国和西欧的线路中，经苏伊士运河、直布罗陀海峡的线路较短，但是苏伊士运河目前只能通航 28 万吨满载货物和 56 万吨级空载油轮。
2. 应努力朝多样化的方向发展，如发展高科技产业、外向型经济、高效节水农业、旅游业等。

探究二

答案：1. 西亚是世界上阿拉伯人的主要聚居地区之一，当地居民以白色人种为主，多使用阿拉伯语。
2. 西亚是伊斯兰教、犹太教、基督教三大宗教的发源地，这三大宗教都把耶路撒冷奉为圣城。
3. 阿拉伯人多信奉伊斯兰教。伊斯兰教徒把麦加奉为第一圣地。

课堂训练

1. D 2. A 3. B 4. C 5. A

6. 答案：(1)亚 非
(2)苏伊士
(3)B
(4)C

课后提升

一、单项选择题

1. C 2. B 3. C 4. A 5. C 6. A 7. D 8. D

二、综合题

9. 答案：(1)麦加
(2)苏伊士 热量丰富，光照充足；有尼罗河水作为灌溉水源。
(3)里海
(4)地处亚洲、非洲、欧洲三大洲之间，地理位置十分重要；这里民族矛盾、宗教文化纠纷不断；领土纷争时有发生；对石油和水资源争夺激烈等。(答对两点即可)

(5)季风气候(或亚热带季风气候)

10. 答案:(1)霍尔木兹 曼德
(2)石油 海运 管道运输 水资源
(3)地处“五海三洲之地”,战略地位重要;有丰富的石油资源;争夺匮乏的水资源;民族、宗教复杂;发达国家为控制石油开发进行干涉等。

第四节 欧洲西部

课前预习

- 一、①东 ②北 ③北冰 ④大西 ⑤北寒带 ⑥西半部
⑦500万 ⑧发达
二、①资本主义 ②德国 ③意大利 ④高 ⑤畜牧业
⑥法国 ⑦交通运输 ⑧瑞士 ⑨丹麦 ⑩挪威
三、①峡湾 ②罗马 ③维也纳 ④巴黎 ⑤意大利 ⑥最发达
⑦法国 ⑧意大利

课堂探究

探究一

- 答案:1. 北温带。
2. 位于亚欧大陆西部,北临北冰洋,西临大西洋,南临地中海。

探究二

答案:地形以平原为主,受海洋影响显著,气候温和多雨,适合多汁牧草的生长,畜牧业发达。受此影响,欧洲人的饮食结构以肉类和牛奶及其制品为主,餐桌上常见的食品有羊肉、牛排、奶油、奶酪等。

探究三

- 答案:1. ①是英国,主要的旅游景观:伦敦塔桥、白金汉宫、格林尼治天文台旧址。
②是荷兰,主要旅游景观:风车、郁金香、围海造田工程。
③是挪威,主要旅游景观:北欧的峡湾风光、午夜太阳。
④是德国,主要旅游景观:德国啤酒节、莱茵河风光。
⑤是奥地利,主要旅游景观:维也纳音乐会。
⑥是希腊,主要旅游景观:帕特农神庙、雅典卫城、奥林匹克遗址公园。
⑦是瑞士,主要旅游景观:湖光山色、手表作坊、阿尔卑斯山滑雪。
⑧是西班牙,主要旅游景观:西班牙斗牛、地中海沿岸阳光沙滩风光。
⑨是法国,主要旅游景观:埃菲尔铁塔、罗浮宫、巴黎圣母院。
2. 主要携带防雨和防晒工具。欧洲西部大部分属于典型的温带海洋性气候,全年温和多雨;地中海沿岸属于典型的地中海气候,夏季炎热干燥。

课堂训练

1. B 2. A 3. D 4. A 5. B
6. 答案:(1)斯堪的纳维亚 多瑙 直布罗陀 阿尔卑斯
(2)埃菲尔铁塔、巴黎圣母院(罗浮宫、凯旋门、凡尔赛宫等)(写出2项即可) 冬无严寒,夏无酷暑,降水的季节分配较均匀
(3)自西向东,距离海洋越来越远,气候的海洋性减弱,大陆性增强
(4)地势平坦,水流平稳;流经温带海洋性气候区,降水量较

大,河流水量较为丰富。

课后提升

一、单项选择题

1. A 2. C 3. A 4. B 5. C 6. B 7. B 8. B 9. B

二、综合题

10. 答案:(1)土耳其
(2)同纬度地区,从伦敦自西向东气温降低(沿海地区气温较高,向内陆地区气温降低)。受海陆分布的影响(沿海受海洋影响大,内陆地区受海洋影响小)。
(3)乙
(4)夏季炎热干燥,冬季温和多雨。
(5)不可行。我国南方地区属亚热带季风气候(夏季炎热多雨,冬季寒冷干燥),不适宜橄榄树的生长。
11. 答案:(1)欧 大西 苏伊士 印度 马六甲
(2)东
(3)冬季温暖湿润
(4)C

第五节 北极地区和南极地区

课前预习

- 一、①北极圈 ②北美 ③南极大陆 ④酷寒 ⑤多狂风
⑥石油 ⑦淡水 ⑧北极熊 ⑨企鹅 ⑩因纽特
二、①北极 ②南极 ③阿蒙森 ④天然实验室 ⑤30多
⑥中山站 ⑦泰山站 ⑧黄河站

课堂探究

探究一

- 答案:1. 酷寒的原因:所处纬度高,太阳高度很小,阳光微弱;地表为陆地,海拔高;表面被冰层覆盖,反射了部分太阳光。比北极地区冷的原因:南极地区以陆地为主,北极地区以海洋为主;南极地区的海拔比北极地区高。
2. 由于南极位于高纬度地区,气候酷寒,蒸发非常微弱,降雪到达地面后很快就会冻结。长年累月积存下来,就形成了厚厚的冰层。
3. 南极洲在古地质时期位于中低纬度地区,气候温暖湿润,植被茂盛,因地壳运动,植被被埋在地下,经过长时间的演化,变成煤炭。后来,南极大陆发生漂移,由古地质时期的中低纬度地区逐步漂移到现在的高纬度地区。

探究二

- 答案:1. 我国在南极地区建有长城站、中山站、昆仑站和泰山站四个科学考察站,在图中找出即可。长城站位于南极圈以外,不会有极昼、极夜现象。
2. 每年6—8月是北半球的夏季,此时北极地区的气温相对较高,且为极昼时期,是到北极建立科考站的最佳季节。南北半球的季节相反,南极地区每年的11月至次年3月是暖季和极昼时期,是到南极建立科考站的最好季节。
3. 有利于保护南极地区的生态环境。

课堂训练

1. C 2. C 3. A 4. A 5. C
6. 答案:(1)70°S, 120°E(南纬70°,东经120°) 正北

- (2)企鹅
(3)极夜
(4)黄河站 格陵兰岛
(5)B

课后提升

一、单项选择题

1. D 2. B 3. C 4. B 5. D 6. C 7. C 8. C 9. C

二、综合题

10. 答案:(1)南 西
(2)南寒 能
(3)为什么要在2月初进行南极科考? 因为此时,南极为夏季,气温相对较高,便于开展科考活动。
(4)罗斯海的地理位置、自然资源状况,罗斯海存在的问题及对全球气候的影响,我们可以采取的措施等。
11. 答案:(1)长城站
(2)寒假
(3)正北
(4)防止风雪掩埋
(5)C
(6)D
(7)纬度高 海拔高

第七章 基础巩固与训练

一、单项选择题

1. B 2. B 3. D 4. D 5. D 6. D 7. A 8. B 9. D 10. D
11. D 12. A 13. A 14. A 15. C 16. A 17. A 18. A
19. A 20. B

二、综合题

21. 答案:(1)南海 马六甲
(2)马来 山河相间、纵列分布 河流
(3)雨 高温多雨 水稻
22. 答案:(1)西亚地处亚、欧、非三洲的交界地带,位于阿拉伯海、红海、地中海、黑海和里海之间,被称为“五海三洲之地”。
(2)波斯湾及其沿岸地区 产量最高、出口量最多(或产量占世界总产量的30.5%,出口量占世界总出口量的44.7%)
(3)炎热干燥(或高温少雨) 水(或淡水)
(4)阿拉伯 伊斯兰教
23. 答案:(1)大西
(2)畜牧 地中海
(3)④
(4)发达 白色
24. 答案:(1)新德里
(2)孟买 加尔各答
(3)迎风坡 茶叶加工(或制茶)
(4)班加罗尔

综合训练一 第六章和第七章

一、单项选择题

1. B 2. D 3. A 4. B 5. A 6. D 7. A 8. B 9. A 10. B
11. D 12. D 13. B 14. D 15. D 16. A 17. D 18. A

19. D 20. D

二、综合题

21. 答案:(1)东高西低
(2)地处热带雨林气候区,降水丰沛,地势落差大。
(3)以赤道为中心,南北(呈带状)对称分布
(4)热带草原气候
22. 答案:(1)地中 索马里 乞力马扎罗
(2)A
(3)美国 太平 巴西
(4)赤道都穿过两个大洲,大部分地区都位于五带中的热带
尼罗河是世界上流程最长的河流 亚马孙河是世界上流域面积最广、水量最丰富的河流 北部:白色人种;中部和南部:黑色人种 混血人种比重较大
23. 答案:(1)非 欧
(2)马六甲 苏伊士
(3)石油 海洋
(4)减少 增加 B
24. 答案:(1)石油(油气) 阿拉伯
(2)阿拉伯
(3)卡塔尔属热带沙漠气候,夏季非常炎热,不适宜举办足球比赛;而冬季相对温凉,适宜举办足球比赛。

第八章 走近国家

第一节 日本

第1课时

课前预习

- 一、①北温 ②亚洲 ③太平洋 ④本州 ⑤九州
二、①山地丘陵 ②富士山 ③环太平洋 ④关东平原
三、①亚热带季风 ②温带季风 ③狭长 ④四季 ⑤温暖
⑥凉爽 ⑦海洋性 ⑧台风

课堂探究

探究一

答案:1. 日本西临日本海,东临太平洋,位于亚洲东部、太平洋西北部,是东亚的一个岛国。

2. 北温

3. 利:岛国多港湾,面临广阔的海洋,有利于发展渔业、海洋运输业、造船业等。弊:与其他国家只能通过航空、海洋运输等方式进行人员或贸易往来,陆上无法直接进行联系。

探究二

答案:1. 日本樱花开放的时空变化规律为自南向北延迟,这是由日本南北跨纬度较大,气温差异大造成的。

2. 亚热带季风气候。温带季风气候。

3. 东京冬季气温较北京偏高,夏季气温较北京偏低;年较差小,年降水量较北京多。海洋性特征:与同纬度其他地区相比,冬季较温和,夏季较凉爽,气温年较差小,降水丰沛且季节分配较均匀。大陆性特征:与同纬度其他地区相比,冬季较寒冷,夏季较炎热,气温年较差大,降水较少且比较集中。

课堂训练

1. B 2. B 3. D 4. B 5. A

6. 答案:(1)北海道 本州 四国 九州

(2)韩国 朝鲜 中国 俄罗斯

(3)日本 濑户 朝鲜

(4)富士

(5)关东

课后提升

一、单项选择题

1. A 2. A 3. C 4. D 5. A 6. C 7. D 8. B 9. C

二、综合题

10. 答案:(1)北海道 本州 日本 太平 关东 俄罗斯

(2)四面临海的岛国 印度尼西亚 新西兰

(3)①日本地处太平洋西北部,气候受海洋的影响更显著

②山地面积广大

③位于环太平洋火山地震带上,地壳活跃

11. 答案:(1)东京 横滨 大阪 神户

(2)绘图略

(3)太平

(4)大西 北 英吉利 伦敦

(5)岛 海洋

(6)日本 英国 东

第2课时

课前预习

一、①3 ②原料和燃料 ③制成品 ④美国 ⑤节能节材

⑥太平洋沿岸 ⑦北海道 ⑧航空 ⑨铁路 ⑩公路

二、①中国 ②欧美 ③东方民族 ④西方文化

三、①78% ②大和族 ③日语 ④神道 ⑤东京 ⑥政治

⑦筑波 ⑧京都 ⑨大阪

课堂探究

探究一

答案:1. 日本发挥自身的人力资源和海上运输优势,积极引进先进科技和管理经验,努力开拓国际市场,从而使本国经济得到迅速发展。

2. 日本矿产资源贫乏,国内市场狭小,需要进口原料和燃料,出口工业制成品。沿海多优良港口,交通便利,便于原料燃料的运进和产品的输出。

探究二

答案:日本的城市主要分布在太平洋沿岸。

原因:(1)沿海地区多平原;(2)太平洋沿岸地区工农业发达;

(3)太平洋沿岸地区多优良港湾,对外联系方便。

课堂训练

一、单项选择题

1. C 2. A 3. D 4. C 5. B

二、综合题

6. 答案:(1)本州岛 山地(或山地和丘陵)

(2)日本为季风气候区,冬季风为偏北风,经过日本海带来水汽,在山地迎风坡形成降雪。

(3)工业制成品 太平洋

课后提升

一、单项选择题

1. A 2. D 3. C 4. C 5. D 6. C 7. B 8. A 9. B 10. D

二、综合题

11. 答案:(1)山地 板块(太平洋板块与欧亚板块)

(2)海岸线曲折,多优良港湾(海洋运输便利)。

(3)该岛屿与中国隔海相望,地理上邻近;岛上山清水秀,自然风光优美(或答有著名旅游胜地富士山);兼有东西方文化特色,有著名古都京都和奈良;经济发达,产品质量好。

(任意回答一点即可)

第二节 埃及

课前预习

一、①东北 ②西奈 ③亚 ④大西 ⑤红 ⑥地中

⑦阿拉伯 ⑧伊斯兰 ⑨开罗

二、①沙漠 ②尼罗 ③90% ④热带沙漠 ⑤地中海

⑥地中海 ⑦生命之河

三、①石油 ②钢铁 ③尼罗河 ④棉花 ⑤长绒棉

四、①国际旅游 ②金字塔 ③狮身人面像

课堂探究

探究一

答案:1. 埃及的地理位置非常重要,埃及既是亚、非之间的陆上交通要冲,也是大西洋和印度洋之间的航运要道,扼守着世界上最重要的石油运输线的咽喉。苏伊士运河在海洋运输中大大缩短了大西洋与印度洋之间的航程,运河收入丰厚,战略位置十分重要。

2. 南部。大部分为热带沙漠气候。终年炎热,干燥少雨。

3. 尼罗河两岸谷地及河口三角洲地区。因为埃及90%以上的土地为沙漠,河谷和三角洲地区土壤肥沃,有尼罗河丰富的灌溉水源,是埃及重要的农业区。

探究二

答案:1. 主要分布在尼罗河沿岸和河口三角洲。

2. 埃及90%以上的土地为沙漠,尼罗河为埃及提供了唯一的地表水源,河水滋润着河流沿岸的土地。

3. 居住在尼罗河谷地和三角洲地区。因为该地区受尼罗河的淤积,有平坦的地形、肥沃的土壤,且有充足的水源,有利于人们的生产、生活。

4. 埃及重要的名胜古迹主要分布在尼罗河沿岸。若游览主要景点,选择船作为交通工具最合适。

课堂训练

1. D 2. C 3. D 4. B 5. A

6. 答案:(1)尼罗 南 北 地中

(2)红海 亚历山大

(3)利比亚 西奈 亚

(4)北回归线

(5)热带沙漠气候 枯水期

(6)石油 棉花

(7)金字塔、狮身人面像、卢克索古城等。(写出一例即可)

课后提升

一、单项选择题

1. D 2. B 3. C 4. B 5. A 6. B 7. D

二、综合题

8. 答案:(1)印度洋

(2)非洲

(3)石油

(4)尼罗河三角洲土壤肥沃,灌溉水源充足,属于地中海气候,夏季阳光充足。

9. 答案:(1)发展中 伊斯兰教

(2)分布在尼罗河谷地和河口三角洲地区。埃及90%以上的土地为沙漠,尼罗河为埃及人民提供了几乎是唯一的地表水源,尼罗河水滋润着两岸和三角洲的土地,养育了埃及96%的人口。

(3)亚 开罗

第三节 俄罗斯

课前预习

一、①北冰洋 ②太平 ③亚、欧 ④高原 ⑤乌拉尔

⑥叶尼塞 ⑦温带大陆性 ⑧严寒 ⑨里 ⑩针叶林

二、①部门 ②欧 ③谷物 ④东欧 ⑤伏尔加 ⑥铁路

⑦莫斯科 ⑧西伯利亚

三、①欧洲 ②莫斯科 ③二 ④摩尔曼斯克 ⑤太平洋

⑥ 新西伯利亚

课堂探究

探究一

答案:1. 乌拉尔山脉是亚、欧两洲的分界线,位于俄罗斯境内。

2. 20°W 和160°E组成的经线圈是划分东、西半球的界线,160°E经线穿过俄罗斯东部。

3. 俄罗斯的地势东高西低。依据:地形类型自东向西依次为山地、高原、平原。

4. 俄罗斯西伯利亚地区的地势南高北低。依据:河流自南向北流入海洋。

探究二

答案:1. 俄罗斯的地形特点是:地势东高西低,平原面积广大。对河流的影响是:西部平原广大,河网密布;东部山高谷深,山河相间,纵列分布。

2. 东部上扬斯克的气候特点是冬季漫长而寒冷,夏季短促而凉爽,全年的降水量很少。西部的莫斯科冬季比上扬斯克温暖,冬季时间短,降水量稍多一些;莫斯科温凉湿润,降水较为均匀。

原因:俄罗斯东西距离大,跨经度广,由西向东,受大西洋的影响越来越小,因此东部、西部的气候出现了很大的差异。

探究三

答案:1. 俄罗斯矿产资源丰富,工业体系以重工业为主,工业区多接近原料、燃料产地;日本原料、燃料依赖进口,产品需要出口,工业大都集中在太平洋沿岸。两国工业这样分布,都是为了降低工业生产成本。

2. 俄罗斯纬度较高,气温比较低,发展农业的制约因素是热量不足。

3. 东欧平原南部的伏尔加河流域和顿河流域,气候比较温和,地势平坦,水源丰富,有利于发展农业。

4. 通过开发利用东部地区丰富的资源,促进东部地区经济的发展;东部地区靠近中国、韩国、日本等亚太地区经济实力较强的国家。

课堂训练

1. B 2. B 3. C 4. D 5. B

6. 答案:(1)波罗的海 北冰洋 太平洋 里海

(2)鄂毕河 叶尼塞河 勒拿河 伏尔加河

(3)东欧平原 西西伯利亚平原 中西伯利亚高原

东西伯利亚山地 乌拉尔山脉

课后提升

一、单项选择题

1. C 2. B 3. D 4. D 5. C 6. B 7. C 8. B 9. A

二、综合题

10. 答案:(1)莫斯科 欧

(2)乌拉尔 东西半球的分界线 160°E 穿过了俄罗斯东部白令

(3)平原和高原 东欧 南高北低

(4)1 北极圈

11. 答案:(1)地形以平原和高原为主,地势东高西低。

(2)乌拉尔山脉是东欧平原和西西伯利亚平原的分界线。

(3)自南向北流 南高北低

(4)欧洲部分的东欧平原气温较温和,降水较多。

(5)俄罗斯纬度高,气温低,沿海地区的封冻期长。

第四节 法国

课前预习

一、①北温 ②东南 ③西北 ④温带海洋性 ⑤地中海

⑥工农业 ⑦汽车 ⑧核电 ⑨巴黎 ⑩葡萄

二、①发达 ②欧洲之星 ③马赛 ④戴高乐

三、①旅游 ②巴黎 ③政治 ④埃菲尔铁塔

课堂探究

探究一

答案:1. 东南高,西北低。

2. 小麦主要分布在巴黎盆地、卢瓦尔平原,这里属于温带海洋性气候。

3. 葡萄主要分布在西南部和地中海沿岸地区。

探究二

答案:1. 英法海峡隧道。铁路运输。

2. 一个国家或者一个地区最能吸引游客的是它的自然风光和灿烂的历史文化,如法国具有保存完好的文物古迹,景色秀丽的自然风光,浪漫多情的民风民俗,高雅的艺术和新潮的时装等。

课堂训练

1. A 2. B 3. C 4. C

5. 答案:(1)北温

(2)平原 东南高、西北低(由东南向西北倾斜)

(3)巴黎盆地 卢瓦尔平原 温带海洋性

(4)地中海沿岸 地中海

课后提升

一、单项选择题

1. D 2. A 3. A 4. C 5. A 6. B 7. C 8. A 9. A

二、综合题

10. 答案:(1)东南高,西北低
(2)全年降水均匀
(3)地中海
(4)小麦

第五节 美国

第 1 课时

课前预习

- 一、①大洋 ②北冰 ③大西 ④加拿大 ⑤阿拉斯加
⑥落基 ⑦阿巴拉契亚 ⑧密西西比 ⑨苏必利尔
二、①专门 ②机械 ③商品 ④玉米 ⑤生态破坏
⑥黑风暴

课堂探究

探究一

- 答案:1. 本土、夏威夷州和阿拉斯加州。
2. 同意。美国本土东临大西洋,西临太平洋,阿拉斯加州北临北冰洋。美国本土位于北温带,北极圈和北回归线分别穿过美国的阿拉斯加州和夏威夷州。所以,美国是一个地跨北温带、北寒带和热带的国家。
3. 美国领土绝大部分位于北温带,热带和亚热带面积较小,热带和亚热带农产品的生产不能满足本国的需求,需要大量进口。

探究二

- 答案:1. 美国农业生产的各个过程和环节都实现了机械化和专门化,农业生产效率很高。
2. 因地制宜。
3. 可以充分利用各地区的自然条件和自然资源(水、土、光、热等),有效地发挥农业机械的作用,并可集中利用现代科学技术,大力提高劳动生产率。
4. 乳畜带 玉米带 小麦区 棉花带

课堂训练

1. C 2. D 3. B 4. D 5. C
6. 答案:(1)太平 大西 墨西哥 密西西比 密歇根 落基 阿巴拉契亚
(2)墨西哥 加拿大
(3)大西洋 东西两侧高,中部低

课后提升

一、单项选择题

1. C 2. C 3. B 4. D 5. C 6. D 7. C 8. C 9. A

二、综合题

10. 答案:(1)乳畜带 750
(2)地势较高 降水较少
(3)D

(4)A

(5)C

第 2 课时

课前预习

- 一、①自然资源 ②科技力量 ③齐全 ④传统 ⑤高新技术 ⑥传统 ⑦航空航天 ⑧黄石 ⑨中国
二、①3 ②欧洲 ③唐人街 ④五大湖 ⑤高原山地
⑥华盛顿 ⑦洛杉矶 ⑧硅谷 ⑨芝加哥 ⑩汽车

课堂探究

探究一

- 答案:1. (1)东北部地区开发较早,矿产资源丰富;(2)五大湖提供了便利的水运条件;(3)地形以平原为主,气候适宜,农业以畜牧业为主,为附近城市提供了充足的食物。
2. (1)开发较晚,工业以高新技术产业为主,工业污染较轻;(2)日照充足,气候温和湿润,适宜人类居住。

探究二

- 答案:1. (1)芝加哥 (2)底特律 (3)菲尼克斯 (4)休斯敦
2. 这里高等院校多,科技力量雄厚。
3. 纽约地处大西洋沿岸,水域条件好,且位于东北部地区,人口、城市密集,经济发达,货运量大。

课堂训练

1. D 2. B 3. C 4. B 5. C
6. 答案:(1)东北部工业区 南部工业区 西部工业区
(2)煤 铁 水运便利,交通发达
(3)华盛顿 芝加哥 纽约
(4)休斯敦 宇航 旧金山(或圣弗朗西斯科) 洛杉矶
(5)东北部工业区地价昂贵,环境污染严重,传统工业逐渐衰落,而南部地价便宜,劳动力充足,环境污染较东北部小

课后提升

一、单项选择题

1. B 2. C 3. D 4. C 5. C 6. C 7. D 8. D 9. C

二、综合题

10. 答案:(1)乳畜 城市、人口密集,消费市场广大
(2)旧金山(或圣弗朗西斯科) 高校云集,科技力量雄厚
(3)太平洋、巴拿马运河、大西洋
11. 答案:(1)C
(2)C D
(3)落基 密西西比河
(4)高新技术 圣弗朗西斯科(或旧金山)
(5)休斯敦 波士顿

第六节 巴西

课前预习

- 一、①热 ②大西 ③最大 ④南高北低 ⑤世界动植物王国 ⑥安第斯 ⑦热带雨林 ⑧热带草原
二、①最强 ②完整 ③咖啡 ④铁矿 ⑤伊泰普 ⑥巴拉圭

- 三、①白色 ②混血 ③葡萄牙 ④东部沿海 ⑤东南
⑥圣保罗 ⑦海港 ⑧巴西利亚

课堂探究

探究一

- 答案:1. 亚马孙河发源于安第斯山脉,自西向东注入大西洋。
2. 亚马孙河发源于安第斯山脉,主要流经亚马孙平原,流域面积广,集水范围大;热带雨林气候,降水多,河流补给量大。
3. 亚马孙河水量大,主要流经平原地区,水流平缓,适合航运,但流经热带雨林地区,人烟稀少,故航运价值不大。

探究二

- 答案:1. 东南沿海地区矿产资源丰富,市场广阔,海陆交通便利等。
2. 为了缓解能源短缺的问题,巴西利用本国大量生产甘蔗的有利条件,以甘蔗为原料制造酒精,大力发展以酒精为动力的汽车工业。
3. 伊泰普水电站处于巴西高原的边缘地带,河流落差大,水量大,水能资源丰富。

课堂训练

1. A 2. B 3. A 4. D 5. A
6. 答案:(1)大西洋
(2)亚马孙河
(3)气候

课后提升

一、单项选择题

1. A 2. A 3. A 4. D 5. D 6. B 7. B 8. D 9. B

二、综合题

10. 答案:(1)乌拉尔山脉 北冰洋 由南向北倾斜
(2)60°N 60°E 矿产资源丰富
(3)南美洲 巴西利亚 咖啡
(4)冬季严寒漫长,环境恶劣 常年湿热,丛林密布
11. 答案:(1)太平 大西洋
(2)巴西 亚马孙 热带雨林
(3)E
(4)铁 靠近海洋,交通便利,气候相对凉爽湿润,地势平坦等

第七节 澳大利亚

课前预习

- 一、①南温带 ②太平 ③印度 ④大陆 ⑤英语 ⑥艾尔斯 ⑦北艾尔湖 ⑧墨累河 ⑨半环
二、①袋鼠 ②桉树 ③海洋 ④单一
三、①农牧 ②工矿 ③服务 ④骑在羊背上 ⑤铁矿石
⑥坐在矿车里 ⑦高新技术 ⑧电子产品 ⑨堪培拉
⑩墨尔本

课堂探究

探究一

- 答案:1. 我国主要位于北温带,澳大利亚很多地方位于南温带。太阳直射点始终在南北回归线之间移动,房屋设计考虑的主要因素是采光条件。

2. 相同点:两国的地势都分为东、中、西三部分。不同点:澳大利亚的地势为西部是宽广低缓的高原,中部是平原,东部是山地;美国的地势为西部是高大山地,中部是平原,东部是低缓山地。

3. (1)南回归线大陆东岸降水多,大陆西岸降水少。
(2)澳大利亚降水的分布特点是从北、东、南向内陆递减。受降水的影响,澳大利亚的气候呈半环状分布。

探究二

- 答案:1. 图中的动物分别是袋鼠、鸭嘴兽和考拉。
2. 澳大利亚的动物具有原始性、古老性、独特性的特点。形成原因:几千万年前,澳大利亚大陆就同其他大陆分离,孤立存在于南半球的海洋上。长期以来,自然条件比较单一,动物的演化很缓慢,澳大利亚又无大型肉食动物的竞争,因此澳大利亚大陆至今还保存着许多古老的动物种类。

探究三

- 答案:1. 地形条件:澳大利亚地势低平,起伏和缓,草原面积辽阔。气候条件:气候类型多样,有热带草原气候、地中海气候、温带海洋性气候、亚热带湿润气候,适宜农牧业发展。水源条件:澳大利亚地下水丰富,地下水矿物质含量高,不宜灌溉农田,但可供牲畜饮用。食物链条件:澳大利亚没有大型食肉动物。
2. 澳大利亚的矿产资源十分丰富,煤矿主要分布在澳大利亚的东部,铁矿主要分布在西部,铝土矿主要分布在北部。分布在沿海地区,便于矿产的出口。
3. (1)澳大利亚是世界上绵羊最多的国家之一,被称为“骑在羊背上”的国家。
(2)澳大利亚因大量出口煤、铁、铝土矿等矿产资源,被称为“坐在矿车里”的国家。

课堂训练

1. A 2. D 3. C 4. D
5. 答案:(1)120°E,20°S
(2)印度洋 太平洋
(3)热 南温
(4)堪培拉 东南 对外交通便利,气候温暖湿润
(5)袋鼠、鸭嘴兽、鸸鹋、树袋熊(考拉)等

课后提升

一、单项选择题

1. B 2. C 3. D 4. A 5. C 6. B 7. C 8. D 9. A

二、综合题

10. 答案:(1)羊、牛与经济作物混合经营带 绵羊与小麦混合经营带 粗放牧羊带
(2)草原辽阔,地广人稀;气候干燥,适于绵羊繁殖;大自流盆地,提供了丰富的地下水;没有大型野生食肉动物等。(任答两点)
(3)我的家乡气候温暖湿润,沿海平原地势平坦,靠近城市。
(4)袋鼠、鸸鹋、鸭嘴兽等(答出一种即可)澳大利亚大陆与其他大陆分离,长期孤立于南半球的海洋上,阻断了物种的交流,缺乏大型食肉动物,自然环境单一,物种进化缓慢。
11. 答案:(1)亚热带湿润气候 夏季高温多雨,冬季温和少雨 温带海洋性气候 终年温和多雨(或冬温夏凉,降水季节分

配均匀)

(2)12、1、2 南半球地中海气候 12、1、2 月为夏季,降水较少,气温高,空气干燥。

(3)有利于保持水土,保护环境;提供优质木材,帮助当地群众脱贫致富。

第八章 基础巩固与训练

一、单项选择题

1. D 2. B 3. C 4. A 5. A 6. D 7. A 8. B 9. C 10. B
11. A 12. C 13. B 14. D 15. C 16. B 17. D 18. A
19. B 20. C

二、综合题

21. 答案:(1)本州 九州 东京

(2)山地 富士山 迅速从商场跑到室外空旷地带;躲到商场卫生间等较为坚固的房间的墙角;用软物体护住头部迅速躲在桌子或柜台下(言之有理即可)

(3)大和 和服

(4)①日本能源和原材料短缺,国内市场狭小,经济对外依赖性强;②日本海岸线曲折,多优良港湾,便于进口原料和出口工业产品

22. 答案:(1)南回归线穿过领土中部

(2)①旧金山 环境优美,交通便利;高等院校多,科技力量雄厚

(3)A 密西西比河流经美国中部的人口密集地区,经济发达,交通运输量大;B 亚马孙河流经热带雨林地区,人口稀少,经济不发达。

(4)B

23. 答案:(1)地形以平原和高原为主,地势东高西低。

(2)乌拉尔山脉是东欧平原与西西伯利亚平原的分界线;叶尼塞河是西西伯利亚平原与中西伯利亚高原的分界线;勒拿河是中西伯利亚高原与东西伯利亚山地的分界线。(答出其中一点即可)

(3)自南向北 南高北低

(4)地形为平原(土壤肥沃);河流众多(有灌溉水源)。

(5)俄罗斯的北部、东北部纬度高,气温低;水域的封冻期长。

24. 答案:(1)恒河 ② 位于温带海洋性气候区,全年温和湿润,降水均匀

(2)东南高、西北低 河流自东南向西北流

(3)位于喜马拉雅山脉西南季风的迎风坡上,降水多。

(4)缺少 40° S 以南的陆地。

综合训练二 第六章至第八章

一、单项选择题

1. D 2. B 3. C 4. B 5. A 6. B 7. D 8. D 9. D 10. B
11. B 12. B 13. C 14. C 15. B 16. A 17. D 18. C
19. C 20. A

二、综合题

21. 答案:(1)南 尼罗

(2)23.5°S(南纬 23.5°)

(3)南南合作

(4)都是发展中国家 人口多,面积大等(任意答对两点即可)

(5)① ④ ②

(6)B

22. 答案:(1)山河相间、纵列分布;地势北高南低。

(2)分布在河流沿岸和河口三角洲

有利条件:河流沿岸地势平坦,为城市提供建设用地;水运便利,对外交通运输方便;水源充足,城市工业、生活取水方便等(任答一点)。弊端:城市生活、工业污水直接排入河流,造成水污染;过量取水,导致河流生态环境失衡;河流汛期会引发城市水灾等(任答一点)。

(3)热带季风气候,高温多雨;位于河流沿岸、三角洲,地势平坦,土壤肥沃;河流众多,灌溉水源充足。(答出三点即可。若答出种植历史悠久,经验丰富;人口多,劳动力充足等也可)

(4)赞成:水能资源清洁、可再生,有利于调整能源结构,改善环境质量;缓解能源短缺状况;将资源优势转化为经济优势,增加收入;当地降水丰富,中上游河流落差大;热带季风气候,多旱涝灾害,修水库可以发挥防洪抗旱等综合效益等。(答出两点即可)不赞成:开发水电淹没土地;河流水量季节变化大,发电不稳定;不利于水资源整体调控,影响下游用水等。(答出两点即可)

23. 答案:(1)①尼罗河 ②巴黎 ③金字塔

(2)东南高西北低 河流自东南向西北流

(3)C

(4)埃及沙漠广布,大部分地区生存条件较差,尼罗河谷地和河口三角洲地势平坦、水资源充足、气候适宜,导致人口集中在尼罗河谷地和河口三角洲。

24. 答案:(1)里约热内卢 巴西利亚 亚马孙河 巴西高原

(2)袋鼠、鸭嘴兽等(任选一种即可)

(3)分布不均匀,主要集中在东南部沿海地区

(4)铁

(5)葡萄牙

(6)肆意开发亚马孙热带雨林,会使热带雨林面积逐渐缩小,水土流失严重,珍贵的野生动物遭到劫难,生物多样性遭到破坏,进而影响全球的生态环境,使气候变暖,影响全球气候。(言之有理即可)