

目录 CONTENTS

同步教材导学

第一章 旅游和旅游资源 1

- 第一节 旅游概述/1
- 第二节 旅游资源/4
- 第三节 旅游资源的形成和分布/10
- 本章归纳整合/15

第二章 旅游景观的欣赏 17

- 第一节 旅游景观欣赏方法/17
- 第二节 中国名景欣赏/22
- 第三节 国外名景欣赏/30
- 本章归纳整合/36

第三章 旅游规划 38

- 第一节 旅游规划概述/38
- 第二节 旅游资源评价/43
- 第三节 旅游规划/48
- 本章归纳整合/54

第四章 文明旅游 57

- 第一节 做合格的旅游者/57
- 第二节 出游前的准备/61
- 第三节 旅游常识和导游基础知识/66
- 第四节 旅游安全/70
- 本章归纳整合/76

参考答案 127

方法技巧

- 1.数字记忆旅游活动的要素/2
- 2.运用联系图表法记忆按旅游目的划分的旅游类型/3
- 3.图示记忆旅游资源的特性/6
- 4.区分地质地貌景观与山水组合景观的技巧/7
- 5.联系图表法记忆旅游资源的分类和特性/8
- 6.歌诀记忆火山地貌景观/11
- 7.图析亚热带花岗岩中山山地景观/11
- 8.图析我国红色砂岩景观/11
- 9.我国南方花岗岩中山山地的景观美/12
- 10.认识人类活动对自然和人文因素共同塑造的旅游景观/12
- 11.图示法认识以气候条件为依托的旅游资源分布的地带性/13
- 12.运用归纳法记忆人文地理因素对旅游资源分布的影响/14
- 13.歌诀记忆“中国旅游资源分布特征”/14
- 14.表格对比自然景观美感特征的主要形式/18
- 15.把握不同景观的观赏时机/20
- 16.概括法总结记忆南北方园林的特点/28
- 17.运用图示法记忆欧洲旅游资源的特点和分布/35
- 18.运用关联图理解发展旅游业的意义/39
- 19.如何区别旅游发展规划和旅游开发建设规划/41
- 20.图表法记忆旅游活动对地理环境的影响/44
- 21.判断一个合格的旅游者的标准/58

误区警示

- 1.旅游规划的目的是为了加快旅游资源开发,促进旅游业的迅速发展/40
- 2.认为外出旅游前,不用了解旅游地的景观特点,到达旅游地一看就知道了/63
- 3.认为单独旅游机动灵活,不受束缚,应大力提倡/67

课时作业

第一章 旅游和旅游资源	81
第一节 旅游概述/81	
第二节 旅游资源/83	
第三节 旅游资源的形成和分布/85	
自主检测/87	
第二章 旅游景观的欣赏	91
第一节 旅游景观欣赏方法/91	
第二节 中国名景欣赏/93	
第三节 国外名景欣赏/95	
自主检测/97	
第三章 旅游规划	101
第一节 旅游规划概述/101	
第二节 旅游资源评价/103	
第三节 旅游规划/105	
自主检测/107	
第四章 文明旅游	111
第一节 做合格的旅游者/111	
第二节 出游前的准备/113	
第三节 旅游常识和导游基础知识/115	
第四节 旅游安全/117	
自主检测/119	
参考答案	127

第一章 旅游和旅游资源

第一节 旅游概述

情景导入



情趣阅读 探源知新

随着社会经济的发展,人们经济收入和闲暇时间的增多,人们用于满足精神消费的需求不断地增加,规模也随之扩大,进而在国民经济中的地位和作用越来越重要。



尝试探究:图中场景反映的是一种什么活动?要参与这种活动,应具备哪些个人条件?

提示:旅游。①经济条件(即金钱);②闲暇时间;③动机(即旅游的愿望)。

目标导航

了解

旅游活动的发展历史以及人类旅游行为的动机。

掌握

旅游活动的基本要素和基本类型。

应用

运用图表资料,学会提取有效信息,分析旅游活动要素及类型。

课前自主学习

自主,新课标理念的精髓

基础梳理

一、旅游活动的基本要素

1. 旅游者:旅游活动中的_____。
2. 旅游资源:旅游的_____,是旅游业赖以存在的基础。
3. 旅游服务业:旅游业的_____,是联系旅游者和旅游资源的纽带。

二、旅游活动的基本类型

1. 按游览区域划分

- (1) 国内旅游:在我国又可分为_____旅游、区域性旅游和_____旅游三种具体形式。
- (2) 国际旅游:可分为_____旅游、洲际旅游和_____旅游等具体形式。

2. 按旅游目的划分

- (1) 主要类型:包括_____、度假保健、_____、宗教和_____五种。
- (2) 我国:多数旅游者的旅游属于_____型。经济发达地区的游客开始步入_____型和_____型旅游行列。

图表解读



提示:该图形象地展示了旅游活动的全过程。从这个过程中,一方面可总结出旅游活动的三个基本要素——旅游者、旅游资源和旅游服务业;另一方面也可分析出要参与旅游活动应具备的个人条件——“我想去旅游”是“动机”,“闲暇时间”和“经济条件”是必备因素。

课堂合作探究

探究点 1 旅游活动及其要素

旅游即旅行游览的意思。在中国古代,“旅”和“游”是两个不同的概念。唐·孔颖达的《周易正义》说:“旅者,容寄之名,羁旅之称;失其本居,而寄他方,谓之为旅。”“游”原意是人或动物漂在水面上,后引申为“谓闲暇无事之为游”。《说文解字》称:“游,旌旗之流也。”引申为“游,戏也”。“游,自乐之意”。

中国古代的旅游活动常常用“游”概括。《尚书》说:“惟慢游是好。”《诗经》云:“驾言出游,以写我忧。”《史记》说:“二十而南游江淮。”

1995年,世界旅游组织和联合国统计委员会针对旅游统计问题,在技术上对旅游给出了一个界定。旅游是“人们为了休闲、商务和其他目的,离开他们惯常的环境,到某些地方去以及在那些地方停留不超过一年的活动”。

探究导引

根据以上材料,分析探究:

1. 旅游的概念应如何描述?

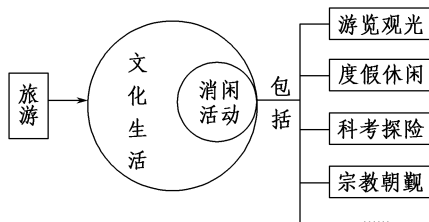
2. 旅游活动是由哪些要素构成的?

探究之源

1. 旅游概念的描述

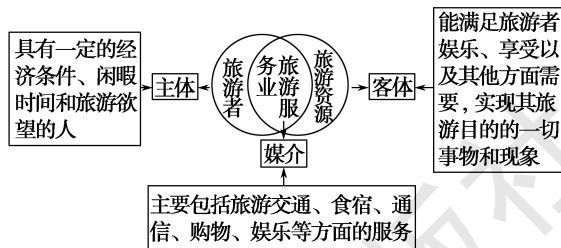
旅游是人们在社会文化生活中的一种消闲性活动,包括游览观光、度假休闲、科考探险和宗教朝觐等。

【方法技巧】图示记忆旅游的含义



2. 旅游活动的构成要素

旅游者、旅游资源和旅游服务业是构成旅游活动的三个基本要素。其关系如下图所示:



【方法技巧】数字记忆旅游活动的要素

三个“三”。旅游活动包括“三要素”——旅游者、旅游资源和旅游服务业;旅游活动各要素的地位为“三体”——旅游者为主体、旅游资源是客体、旅游服务业是中介体;旅游服务业的“三大支柱”——旅游饭店、旅行社和旅游交通。

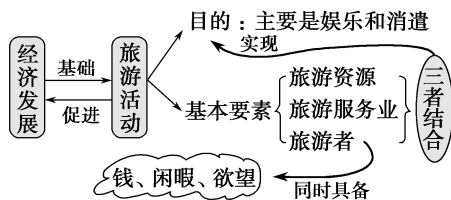
【特别提醒】旅游活动与旅游业之间的区别

旅游活动是一定社会经济条件下的一种人类社会经济活动,表现为人们以娱乐、享受为主要目的,暂时离开常住地的一种综合性的物质文化生活。旅游业是联系旅游者和旅游资源的纽带,是以旅游者对象,为他们提供所需商品和服务的综合性产业。

【例证 1】下列有关旅游活动的叙述,正确的是 ()

- A. 构成旅游活动的基本组成要素是旅游者、游览和旅游资源
- B. 只要具备了一定的经济条件、闲暇时间和旅游动机就可以实现旅游目的
- C. 现代人们出游的主要目的是增长知识、陶冶情操
- D. 旅游是人类超出生存需要的较高层次的消费形式,所以旅游的基础是经济发展

思维导图



答案 D

【练习 1】旅游活动的三要素是 ()

- A. 游览、观光、购物
- B. 娱乐、享受、拍照
- C. 旅游者、交通、食宿
- D. 旅游者、旅游服务业、旅游资源

探究点2 旅游活动的基本类型

中新社北京2月24日电 2017“中丹旅游年”24日在北京开幕。“中丹旅游年”是中国与北欧国家举办的首个旅游年,为中国、丹麦“民心相通”搭建了新平台,为双方企业合作提供了新契机。丹麦是“一带一路”北欧方向的重要国家。近年来,中国、丹麦旅游交往日益密切。2016年,两国双向旅游交流规模超过21万人次。希望通过举办旅游年,让更多的中丹两国游客到对方国家观光旅游,加深相互了解。

探究导引

根据以上材料,分析探究:
旅游活动的基本类型有哪些?

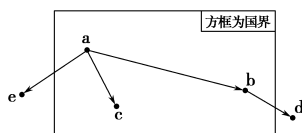
探究之源

1. 按游览区域划分

划分依据	基本类型	包括的具体形式
根据游览区域	国内旅游	在我国可划分为地方性旅游、区域性旅游和全国性旅游
	国际旅游	一般可分为跨国旅游、洲际旅游和环球旅游

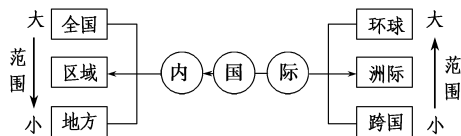
【特别提醒】如何区分国内旅游和国际旅游

二者区别的唯一标准是看是否跨越国界。图示如下:从a到b、



从a到c,因没跨越国界,属于国内旅游;从b到d、从a到e,因跨越国界,属于国际旅游。这与它们旅行的距离无关。

【方法技巧】运用结构图表法记忆旅游活动按游览区域划分的类型。



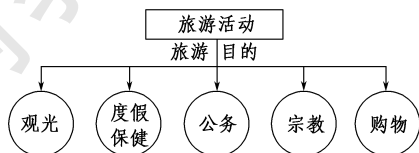
2. 按旅游目的划分

划分依据	包括的主要类型	我国与发达国家的差异
按照旅游目的	可划分为观光、度假保健、公务、宗教和购物	我国多数旅游者的旅游属于观光型。一些经济发达地区的游客,开始步入度假保健型和购物型旅游的行列

注意:如何判断人们的哪些行为属于旅游活动?

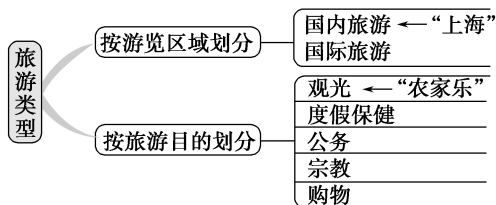
主要看旅客行为的目的,若是为了经济利益的旅行就不是旅游活动,若是为了娱乐休闲的旅行就属于旅游活动。从旅游的具体内容看,除了度假观光、探亲访友外,凡科技切磋、文化交流、采风问俗、宗教朝圣、体育竞技、狩猎考察、访医求药、大小会议、采购名产等在旅行中进行的,或者在专业旅行途中附带进行的上述活动,都可以纳入现代旅游的范畴。

【方法技巧】运用联系图表法记忆按旅游目的划分的旅游类型



- 【例证2】► 在上海市周边出现了“吃农家饭、住农家屋、干农家活、看农家景、购农家物”的新型“农家乐”,这种形式的“农家乐”我们可把它归属于旅游类型中的()
- A. 观光型 B. 度假保健型
C. 公务型 D. 宗教型

思维导图



答案 A

【练习2】► 中新网北京2017年1月20日电 2016年中国出境旅游人数达1.22亿人次,比上年的1.17亿人次增长4.3%。家住大连的杨先生一家三口就打算今年暑假到著名的旅游胜地夏威夷群岛去领略美丽的海滨风光、火山奇景等多姿多彩的自然风光。据此回答(1)~(3)题。

- (1) 旅游活动中,杨先生一家三口属于()
- A. 客体 B. 旅游服务业
C. 主体 D. 旅游资源
- (2) 按照旅游目的划分,杨先生一家的旅游属于()
- A. 观光型 B. 度假型 C. 公务型 D. 购物型
- (3) 按照旅游游览区域来说,杨先生一家的旅游属于()
- A. 国内旅游 B. 度假旅游
C. 事务旅游 D. 国际旅游

五分钟小练习

练习,课堂及时巩固提升

一、选择题

2018年1月28日数据显示:2017年国内旅游市场为50亿人次,出境旅游市场为1.29亿人次。据此完成1~2题。

1. 下列关于旅游活动的叙述,正确的是 ()
 - A. 旅游者、游览、观光构成旅游活动的三要素
 - B. 旅游是一种高消费享受活动,所以旅游的基础是经济的发展
 - C. 人们外出旅游的目的是增长知识、陶冶性情
 - D. 只要具备一定的经济条件、闲暇时间和旅游欲望就可实现旅游的目的
2. 下列活动属于现代旅游的是 ()
 - A. 苏轼游石钟山
 - B. 徒步到郊外种植水稻
 - C. 骑车到郊外古运河大堤观赏春色
 - D. 去外地经商

“每个城市停留两个小时,一次旅行转遍全美。”这是目前中国公民赴美旅游最为普遍的方式,也就是旅行社推出的“美国全景游”。据此完成3~4题。

3. 有关我国公民赴美旅游的说法正确的是 ()
 - A. 我国公民是旅游活动的客体
 - B. 美国景点是旅游活动的主体
 - C. 旅行社是旅游活动的中介体
 - D. 旅行社是旅游业赖以存在的基础
4. 有关我国公民赴美旅游的类型,说法不正确的是 ()
 - A. 为观光型旅游
 - B. 为国际旅游

C. 为洲际旅游

D. 为度假保健型旅游

每年“六一”国际儿童节,上海世博园很多场馆都为小朋友们开辟了绿色通道,进入馆区,还有各种益智类的活动等着他们,许多小朋友感觉世博园就像一个“大课堂”,据此回答第5题。

5. 上海世博会开幕以来,许多家长带孩子游览世博园的主要目的是 ()
 - A. 增长知识
 - B. 科学研究
 - C. 探险寻古
 - D. 娱乐消遣

二、综合题

6. 阅读下列材料,回答问题。

材料 美籍亿万富翁查尔斯·西蒙尼从遥远的距离地球350千米的国际空间站,重新回到坚实的大地上。他在太空待了12天。这是他第二次造访太空,一共花费6000万美元,成为第一位太空旅游的回头客。两年前,西蒙尼作为第5位太空游客进行了为期两周的太空旅行,但他的目的不仅仅是为了过太空旅游瘾,他还要为欧洲太空总署进行太空医学研究,为日本宇宙航空研究开发机构测试高清摄影机。

- (1) 查尔斯·西蒙尼的两次太空之旅,其旅游活动的空间为_____,旅行目的地是_____。
- (2) 查尔斯·西蒙尼太空之旅的主要目的是_____和_____。
- (3) 由材料可知,查尔斯·西蒙尼成为太空旅游者的最主要条件是_____。

教材活动指导

指导,解答活动思维过程

教材 P₄ 活动

提示:①周密计划,明确步骤

调查活动一般要分三步完成。

调查准备 → 实施过程 → 结果处理

②选取对象,有所侧重

不同的人群往往有不同的旅游要求,受到个人条件、经济收入等方面的影响,旅游的次数和形式也有所不同,在调查时要注意选取恰当的旅游人群。例如,学生的旅游消费

侧重于发展性消费,工作人员的旅游消费则补偿性、发展性和娱乐性并存,退休人员以及其他不参加社会工作的人员的旅游消费主要为娱乐性。

③费时较多,课外进行

旅游行为和旅游类型的调查,耗费的时间和人力较多,建议利用周日或假期等课余时间进行。

提示 课后完成《课时作业》第81页

第二节 旅游资源

情景导入



情趣阅读 探源知新

2016年青海省海南藏族自治州将主打民族传统射箭赛体验游、文昌宫祈福游在内的多项“民俗+”旅游活动及“黄河地质公园大旅游景区”在内的“资源+”旅游市场开发。

该州因地处青海湖南岸而得名,境内地势起伏较大,地貌特征复杂多样。有青海湖、倒淌河、清清黄河、龙羊峡、阿什贡丹霞地貌以及藏、汉、回等多民族民俗文化风情并存的多种旅游资源。

尝试探究:材料中体现了哪些类型的旅游资源?

提示:自然景观旅游资源和文化景观旅游资源。

目标导航

了解

旅游资源的含义。

掌握

旅游资源的特征。

应用

运用已有的知识,会分析和判断旅游资源的类型。

课前自主学习

自主, 新课标理念的精髓

|| 基础梳理 ||

一、旅游资源的定义

1. 概念: 能够吸引旅游者产生_____并实施_____的事物与因素。
2. 内容: 包括_____和抽象的资源。
3. 相对性: 由旅游活动的_____和_____决定。

二、旅游资源的特性

1. 位置相对稳定性: 区域性或_____性, 是旅游资源的根本属性之一。
2. 物质景象组合性: 旅游资源由许多景象组合而成, _____显著。
3. 美学属性: 满足旅游者的_____的相对属性。
4. 历史文化属性: 旅游资源往往能够“凝聚”人类的_____, 多具有_____特色。
5. 非消耗性: 旅游资源在_____的前提下, 不会被消耗, 还会趋于增值。

三、旅游资源的主要类型

1. 自然景观旅游资源

(1) 定义: 以_____本身的美感来吸引旅游者的资源。

- (2) 分类
- 景观: 如中国的腾冲火山群等
 - 景观: 如壶口瀑布等
 - 景观: 如自然保护区等
 - 气候与其他自然景观组合: 如我国东北的“_____”等

2. 文化景观旅游资源

(1) 形成: 保留在_____中的文化遗存, 在_____内占据主导地位。

- (2) 分类
- 宗教文化景观: 多以_____特色鲜明的建筑为核心
 - 具有历史文化意义的古代遗存: 如风格各异的东西方古代建筑
 - 风土民情: 各民族独特的_____, 如节庆、纪念日、祭祀仪式等, 可成为_____旅游的重要内容

3. 自然和文化景观旅游资源

在景观区域范围内, _____景观与_____景观相得益彰, 如我国的许多名山。

|| 图表解读 ||

图 1-1 到图 1-8。首先应掌握每幅插图属于哪一类型的旅游资源。

提示: ①属于自然景观的是图 1-1 巴西与阿根廷交界处的伊瓜苏瀑布

图 1-3 位于山西省和陕西省之间的壶口瀑布

图 1-4 青海湖中的鸟岛

图 1-5 黄龙的石灰华水池及山地针阔叶混交林

图 1-6 气势磅礴的九寨沟树正瀑布

②属于文化景观的是图 1-2, 巴黎埃菲尔铁塔

图 1-7, 北京云居寺墓塔

③属于自然和文化景观的是图 1-8, 黄山云海。

其次, 通过这 8 幅图可以体现出旅游资源的基本特性——位置相对稳定性、物质景象组合性、美学属性、历史文化属性、非消耗性。除此之外, 还有旅游资源的多样性——包括内容的多样性和空间分布上的广泛性。

课堂合作探究

探究, 解读重疑难点知识

探究点 1 旅游资源及其特征

我国大陆海岸线长达 1.8 万多千米, 蕴含在海岛、海滨、海岸及海面的海洋旅游资源丰富, 海洋旅游开发已形成了“四带一区”的格局, 即渤海湾旅游带、长江三角洲旅游带、珠江三角洲旅游带、海峡西岸旅游带和海南旅游区。在产品方面, 基本形成了以滨海观光为主, 康体疗养、休闲度假为辅, 兼及新型产品和高端产品的产品体系。

|| 探究导引 ||

根据以上材料, 分析探究:

1. 什么是旅游资源?

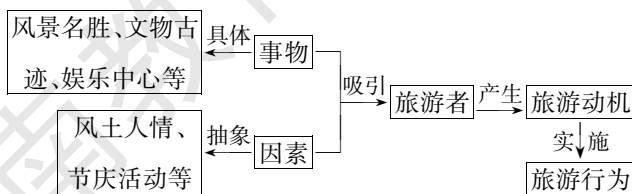
2. 旅游资源的特性有哪些?

【例证 1】下列事物和因素属于旅游资源的是 ()

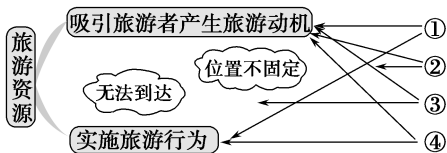
- ①“神舟八号”发射基地 ②磁悬浮列车 ③木星美丽的光环 ④因纽特人的雪屋
- A. ①② B. ②③ C. ①④ D. ③④

|| 探究之源 ||

1. 旅游资源的概念: 旅游资源是指能够吸引旅游者产生旅游动机并实施旅游行为的事物与因素(如下图所示)。



思维导图



答案 C

【练习1】下列事物中,属于旅游资源的是 ()

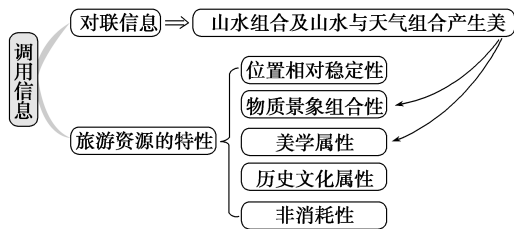


- A. ①② B. ③④ C. ①②③ D. ①②③④

【例证2】“山山水水处处明明秀秀,晴晴雨雨时时好好奇奇”的对联,主要体现了旅游资源的 ()

- A. 位置相对稳定性 B. 非消耗性
C. 景象组合性 D. 历史文化属性

思维导图



答案 C

【练习2】法国巴黎的埃菲尔铁塔是第三届世界博览会的标志性建筑,是巴黎的著名景观之一;第四十一届上海世界博览会永久标志性建筑是“一轴四馆”(如右图),即世博轴、中国馆、主题馆、世博中心、演艺中心,它也将成为中国上海的重要观光景点。据此完成(1)~(2)题。



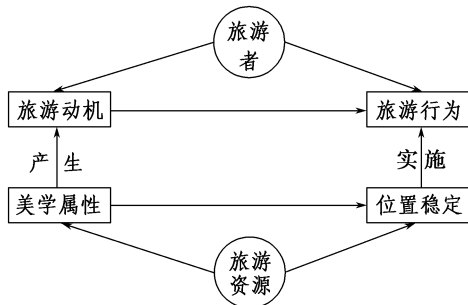
(1)埃菲尔铁塔、“一轴四馆”成为旅游资源,它们不是不同时代建筑文化的结晶,创造了建筑史上的奇迹。这最能体现旅游资源的_____特点 ()

- A. 美学属性 B. 物质景象组合性
C. 非消耗性 D. 历史文化属性

(2)埃菲尔铁塔建于1889年,一直是巴黎的旅游景观之一,虽然已有120余年的历史,但几乎没有任何变化。这说明旅游资源具有_____特点 ()

- A. 物质景象组合 B. 非消耗性
C. 美学属性 D. 历史文化属性

【方法技巧】图示记忆旅游资源的概念



2. 旅游资源的特性

(1) 位置相对稳定性

区域性或不可移动性,是旅游资源的根本属性之一。山川景观的区域性非常明显,而一些珍宝文物如书画等,只有取得相对稳定的位置,比如放在博物馆时,才具有旅游资源的性质。

(2) 物质景象组合性

旅游资源是由许多景象组合而成、综合性显著的环境资源。利用和保护旅游资源,应当注意旅游资源的整体性、合理性和协调性。

(3) 美学属性

这是旅游资源的一种相对属性。旅游资源必须具备美学属性,才能满足旅游者的审美需求。

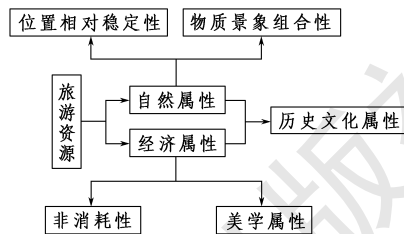
(4) 历史文化属性

人类的文化能够“凝聚”在一定区域的山川景物上,具有非常强的区域和民族特色。因此,旅游资源多具有民族特色。

(5) 非消耗性

旅游资源在合理使用的前提下,是不会被消耗的资源,并且随着旅游者的光顾和岁月的流逝,还趋于增值。

【方法技巧】图示记忆旅游资源的特性



探究点2 旅游资源的类型

2017年5月19日是第七个中国旅游日,河南多家景区门票半价! 快来吧! 趁着中国旅游日出去好好玩一把!

河南是中华民族最为重要的发祥地和发源地、华夏历史文明传承区之一。文物古迹众多。河南省有以下著名风景名胜:

世界文化遗产3处:河南洛阳龙门石窟、安阳殷墟、郑州“天地之中”历史建筑群。

国家5A级旅游景区9处:少林寺、龙门石窟、云台山、清明上河园、殷墟、神农山、白云山、尧山—中原大佛景区、焦作青天河景区。

世界地质公园4处:嵩山世界地质公园、云台山世界地质公园、王屋山—黛眉山世界地质公园、伏牛山世界地质公园等。

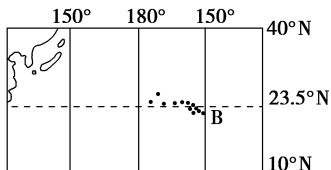
|| 探究导引 ||

根据以上材料,分析探究:

1.旅游资源的主要类型有哪些?

2.材料中的景观分别属于哪一类型旅游资源?

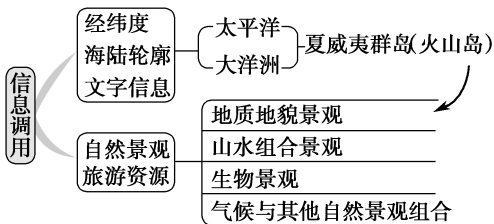
【例证3】▶ 下图中的B为美国的夏威夷群岛。读图,并结合材料,回答问题。



夏威夷群岛距美国本土3 000多千米,被称为美国的“海外州”。公元4世纪左右,一批波利尼西亚人到此定居,给岛屿取名“夏威夷”,意即“原始之家”。夏威夷是著名的旅游胜地,它有美丽的海滨,有宜人的气候,有奇特的火山景观,还有其他多姿多彩的自然风光。这里是世界第一流的旅游胜地,每年约有4 000多万游客慕名而至。

- (1)美国是一个跨洲的国家,夏威夷群岛散布在_____ (大洋)上,是_____ (大洲)的组成部分。
- (2)根据旅游资源的类型判断,夏威夷群岛属于_____ 旅游资源中的_____ 景观。
- (3)材料中介绍的自然风光中,没有提及_____ ()
- A.地质地貌景观 B.气象气候景观
C.水文地理景观 D.生物景观

思维导图




答案 (1)太平洋 大洋洲 (2)自然景观 地质地貌 (3)D

【练习3】▶ 路南石林是典型的_____ ()

- A.地质地貌景观 B.气象气候景观
C.水文地理景观 D.生物景观

【例证4】▶ 图甲和图乙分别为北京两处名胜的照片。据此回答(1)~(3)题。



(1)北京拥有众多的旅游景点,图甲和图乙分别为_____ 和_____。

|| 探究之源 ||

1.自然景观旅游资源

概念	分类	
	类型	实例
自然景观旅游资源 以自然界本身的美感来吸引旅游者的资源	地质地貌景观	意大利的埃特纳火山,中国的腾冲火山群
	山水组合景观	壶口瀑布,尼亚加拉大瀑布
	生物景观	自然保护区,天然动物园
	气候与其他自然景观组合	我国东北的“松花雪柳”,美国夏威夷海滨

【方法技巧】 区分地质地貌景观与山水组合景观的技巧

旅游资源具有物质景象组合性的特性,地质地貌景观与山水组合景观都与山有一定的联系,比较难以区分。在区分时应看主导景观是什么,例如云南石林和桂林山水都是喀斯特地貌,但云南石林展现的是水的溶解作用形成的千峰高耸、壁立千仞的地貌景观,具有地质学上的意义。桂林山水的山形态相似,称不上雄伟、险峻,但却有漓江作带,将千峰连成一个整体,山水相得益彰,显然桂林山水妙在山水的组合。再如长江三峡,它是由于长江的下切侵蚀而形成的。人们去观赏的是奔腾的江水,是两岸雄伟的峭壁,是一线天上变幻无穷的巫山云。因此,长江三峡应属于山水组合景观。

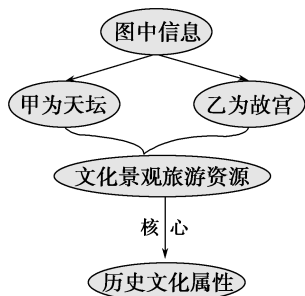
2.文化景观旅游资源

概念	分类	
	类型	实例
文化景观旅游资源 自然环境中保留下来的人类社会的文化遗存,且在环境景观区域内占据主导地位	宗教文化景观	多以宗教文化特色鲜明的建筑为核心,如少林寺墓塔林
	历史文化意义的古代遗存	北京故宫、北京猿人遗址、秦始皇陵及兵马俑坑
	风土民情(包括节庆、纪念日、祭祀仪式等)	如彝族火把节、蒙古族那达慕大会、汉族的元宵节等

(2)按旅游资源分类,它们属于_____。这类景观对旅游者产生吸引力,主要在于它们的_____属性。

(3)旅游的时间成本和_____成本,对旅游者选择旅游目的地具有重要的影响。来北京旅游的美国游客远多于缅甸的游客,其根本原因是美国_____。

思维导图



答案 (1)天坛 故宫 (2)文化景观旅游资源 历史文化 (3)经济 经济发达

【练习4】“杭州西湖”已经被正式列入“世界遗产名录”。下列关于“杭州西湖”的说法,正确的是 ()

- ①具体的旅游资源 ②抽象的旅游资源 ③地质地貌景观
 - ④自然和文化景观旅游资源
- A.①②③ B.①②④ C.②③④ D.①③④

【例证5】将下列景观分类填入表中,并回答问题。

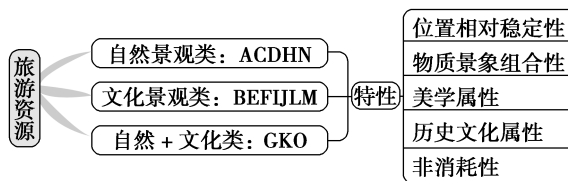
- A.桂林山水 B.傣族泼水节
- C.长江三峡 D.武陵源群峰
- E.大理三塔 F.北京大观园
- G.山东泰山 H.无锡“天下第二泉”
- I.人民英雄纪念碑 J.天津科技宫
- K.山西五台山 L.苏州园林
- M.天津水上公园 N.青海湖鸟岛
- O.安徽黄山

(1)填表。

自然景观	
文化景观	
自然和文化景观	

(2)与其他资源相比,旅游资源具有_____性、_____性、_____属性、_____属性、_____性等特点。

思维导图

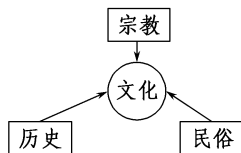


答案 (1)自然景观:A、C、D、H、N 文化景观:B、E、F、I、J、L、M
自然和文化景观:G、K、O (2)位置相对稳定 物质景象组合 美学 历史文化 非消耗

【练习5】将旅游资源分为自然景观和人文景观两种类型的依据是 ()

- A.旅游资源的分布规律 B.旅游资源的本质属性
- C.旅游资源的规模大小 D.旅游资源的历史价值

【方法技巧】(1)文化景观旅游资源的类型如下图所示



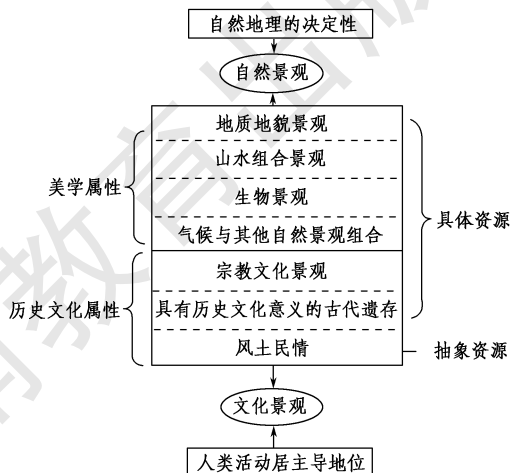
(2)区分文化景观旅游资源与自然景观旅游资源,主要从以下三方面进行

类型	主导地位的景观	形成原因	突出特征
文化景观旅游资源	人类的文化遗存,建筑是核心	是人类活动的产物	历史文化属性
自然景观旅游资源	山水、气候、生物、地貌等自然景观及组合	是大自然的鬼斧神工	美学属性

3. 自然景观旅游资源和文化景观旅游资源的比较

种类	自然景观旅游资源	文化景观旅游资源
形成	天然形成的自然事物和现象	人类创造的文化事物和现象
规模	一般较大	一般较小
变化	一般比较缓慢	一般比较迅速
分布	野外较多	居民地较多
功能	生态旅游、探险旅游、体育旅游、度假旅游、健身旅游等	文化旅游、宗教旅游、休闲旅游、购物旅游、会议旅游等
示例	山体、水域、植被、野生动物群、气象奇观、天文奇观、构造地貌、自然灾害遗迹、自然保护区等	历史古迹、园林、工艺品、表演艺术、民俗、宗教礼仪、城乡风貌、社会风情等

【方法技巧】联系图表法记忆旅游资源的分类和特性



五分钟小练习

练习, 课堂及时巩固提升

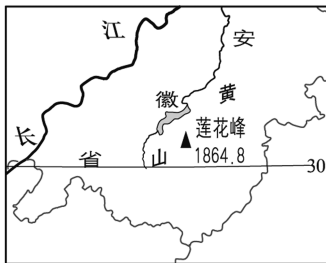
一、选择题

1. 旅游资源的核心是 ()
A. 具有经济价值 B. 可以开发利用
C. 产生社会利益 D. 对旅游者有吸引力
2. 下列关于旅游资源的叙述, 正确的是 ()
A. 旅游资源是具体的资源, 不包括抽象的资源
B. 旅游资源必须具备美学属性
C. 旅游资源与许多资源一样, 是会被消耗的资源
D. 市场上的珍贵书画属于旅游资源
3. “月落乌啼霜满天, 江枫渔火对愁眠。姑苏城外寒山寺, 夜半钟声到客船。”(唐·张继《枫桥夜泊》) 诗句“姑苏城外寒山寺”表明了寒山寺这一旅游资源具有的特性是 ()
A. 位置相对稳定性 B. 物质景象组合性
C. 历史文化属性 D. 美学属性
4. 下列现象与所反映的旅游资源的特征对应不正确的是 ()
A. 想体验北方的草原文化最好去内蒙古草原——位置相对稳定性
B. 日出江花红胜火, 春来江水绿如蓝——美学属性
C. 游故宫, 感受灿烂的中华文明——历史文化属性
D. 登巴黎的埃菲尔铁塔, 感叹人类的智慧——物质景象组合性

5. 在旅游资源的划分中, 东岳泰山属于 ()
A. 火山地貌景观
B. 自然景观旅游资源
C. 文化景观旅游资源
D. 自然和文化景观旅游资源

二、综合题

6. 黄山山峰劈地摩天, 云凝碧汉, 气象万千; 青松苍郁遒劲, 千姿百态; 烟云翻飞缥缈, 浩瀚似海; 巧石星罗棋布, 惟妙惟肖; 温泉终年喷涌, 无色无嗅, 可饮可浴。据此回答下列问题。



- (1) 黄山的标志性景观属于_____旅游资源。
- (2) 黄山“四绝”中, 属于气象与气候景观的是_____。
- (3) 黄山位于安徽省长江以南, 这说明了旅游资源的_____的特性。自古以来, 黄山就是文人墨客的旅游胜地, 现在也成为旅游者的热宠景地, 这说明旅游资源具有_____的特性。

教材活动指导

指导, 解答活动思维过程

教材 P₁₀ 活动

提示: ①我国重点文物保护单位与文化景观旅游资源的分类有所不同。重点文物的六大类仅属于宗教文化景观和具有历史文化意义的古代遗存两类旅游资源, 而缺少旅游资源的风土民情, 在当地文化景观资源归类时应注意这个问题。

②在进行当地文化景观旅游资源归类时可按以下步骤进行: a. 先分大类, 即先分清当地的旅游资源是自然景观还是文化景观; b. 后分小类, 即把属于文化景观的旅游资源, 根据其特点归入宗教文化景观, 或具有历史文化意义的古代遗存, 或风土民情。

教材 P₁₁ 活动

提示: 本活动可按三步进行: ①收集资料; ②撰写短文;

③公开交流。在此活动中, 可锻炼收集、识别有用信息的能力和交际能力等。例如, 随着“神舟十号”宇宙飞船的发射成功, 目前兴起“神舟”热。人们之所以热衷于游览酒泉卫星发射中心, 原因是: ①中国酒泉卫星发射中心为中国著名的三大卫星发射基地之一。该发射中心自 1958 年创建以来, 曾为中国航天事业的发展创造过骄人的八个第一: 1970 年 4 月 21 日, 中国第一颗人造地球卫星在这里升起; 1975 年 11 月 26 日, 第一颗返回式人造卫星在这里升空; 1980 年 5 月 18 日, 第一枚远程运载火箭在这里飞向太平洋预定领空; 1981 年 9 月 20 日, 第一次用一枚火箭将三颗卫星送上太空等。②绿树红墙的十里长街、高耸入云的神舟号发射架, 可让我们尽兴领略我国现代科技的伟大成就, 感受中国屹立于世界民族之林的无比自豪。

提示 课后完成《课时作业》第 83 页

第三节 旅游资源的形成和分布

情景导入



情趣阅读 探源知新

山东省济南市南部山丘区域林地广布景色秀美,自然生态旅游资源和宗教旅游资源分布相对集中;山地与黄河之间土地肥沃,泉水涌流,交通方便,是人类开发历史久而深刻的地区,也是城市集中分布区,各类文化旅游资源十分丰富;黄河及其以北的平原地区则为黄河文化与黄泛区淳朴农业文化风情于一体的民俗旅游资源分布区。

尝试探究:根据材料分析济南市的旅游资源分布有何显著特点?

提示:旅游资源分布的地域差异明显。

目标导航

了解

旅游资源的形成与自然地理条件的关系。

掌握

旅游资源分布的影响因素及分布特征。

应用

运用表格归纳旅游资源的分布及影响因素,结合实际情况,探究旅游资源的形成机制。

课前自主学习

自主,新课标理念的精髓

基础梳理

一、旅游资源的形成

1. _____ 条件是旅游资源形成的基础

(1)影响:_____对旅游资源的景点、景区的自然特征有_____的影响。

(2)体现

①火山地 形成:在_____为主的构造带上,_____强烈,岩浆出露地表而形成
地貌景观 典例:美国_____的火山景观、冰岛的火山景观、黑龙江省的_____

②花岗 形成:花岗岩具有较强的抗_____能力,而自身互相垂直的裂痕(节理)的
岩地貌 发育,导致特有的称为“_____”的物理风化
景观 典例:西岳_____的峭壁、_____的黄山和_____等

③砂岩 形成:坚硬的_____能够发育成千姿百态的“_____”;红色砂岩山地
地貌 风化形成的_____景观
景观 典例:_____峰林和喀斯特两种地貌融为一体的湖南西部张家界市的
_____风景名胜区,丹霞地貌如福建的_____

④_____的旅游资源,如九寨沟、黄龙、_____、玉龙雪山和_____等。

2. 人类活动与旅游资源开发

(1)宏观上看,人们往往选择_____相对理想的地方,以便营造良好的_____。

(2)微观上看,人们在修建园林、寺庙、宝塔、陵墓时,强调_____与人文景观的协调统一,创造了大量经典之作。

(3)国家正在大力发展“红色旅游”,旨在保持_____,发扬_____,促进地方_____。

二、旅游资源分布

1. 影响因素

(1)自然地理因素:包括_____和_____两个方面。

①构造地貌旅游资源的分布与_____密切相关。

②_____的旅游资源的分布表现出明显的地带性。

③海景旅游资源的分布明显地受到_____和_____的影响。

图表解读

本节教材插图从图 1-9 到图 1-20,多达 12 幅。

提示:图 1-9 到图 1-13 充分展示了“自然地理条件是旅游资源形成的基础”;图 1-14 到图 1-17 则体现了人类活动对旅游资源开发的重要影响;图 1-18 说明“白色旅游”资源的分布“依托于气候条件的地带性”规律,图 1-19 说明“海景旅游资源的分布明显受到海陆地形和气候因素的影响”;图 1-20 说明“人类一些重大行为所留下的地理‘痕迹’,本身是旅游资源”。

本节的插图还充分体现了一个规律——自然地理环境差异性自然旅游资源形成的基本条件。具体分析如下:

(1)自然地理环境差异性的成因

①太阳辐射按纬度分布不均,引起地理环境产生纬度地带性差异,形成不同的自然带。

②水分因海陆位置的不同而变化,引起地理环境产生经度地带性差异,形成不同的自然景观。

③由于地表组成和结构不均,地势起伏不同,引起地理环境产生非地带性差异,形成千姿百态的

(2)人文地理因素

①古代的_____中心,影响当代旅游资源的分布。

②人类一些重大行为所留下来的地理“痕迹”,本身就是旅游资源。

③人类的_____提升了旅游资源的价值。

(3)_____ :随着时代的进步,旅游资源的_____和总体旅游资源的分布密度会发生一定的变化。

2.中国旅游资源的分布特征

(1)分布广泛。

(2)集中分布于_____。

(3)旅游点或旅游区呈明显的_____或带状分布。

(4)旅游资源的分布和_____密切相关。

自然旅游景观。

(2)自然地理环境的差异性对旅游资源造成的影响

因为景观差异的存在,才有旅游者从一种景观地到另一种景观地的流动,才有旅游现象的产生。这些景观自身也因为有差异性的特点而成为吸引旅游者的旅游资源。

实质:自然地理环境的差异性形成自然旅游资源的基本条件。

课堂合作探究

探究, 解读重疑难点知识

探究点 1 旅游资源的形成

格陵兰和加拿大北部的因纽特人,住的是雪屋,出门坐的是狗拉雪橇。北极独特的自然环境造就了这里与众不同的旅游景观。

同学们,如果你是一位旅游者,站在茫茫雪海之中,你是否在想这样的旅游资源是如何形成的呢?



因纽特人的交通工具



因纽特人的雪屋

探究导引

根据以上材料,分析探究:

1.自然地理条件在旅游资源的形成中起什么作用?

2.人类活动对旅游资源的开发有何影响?

【例证 1】▶ 阅读下列材料,回答问题。

材料 黄山属花岗岩峰林景观。在距今约 1.4 亿年前,地下的炽热岩浆在地壳薄弱的黄山地区上侵。在距今 6 500 万年前后,黄山地区的岩体又发生了较强烈的隆升。随着地壳的间歇抬升,这里的花岗岩体遭受风化、剥蚀,奇峰耸立(海拔 1 000 米以上的高峰有 72 座),怪石千姿百态,由此而形成黄山雄峻瑰奇的美景。黄山多云海,每当雨过天晴,或在日出前后,山谷中就雾起云腾,铺天盖地而来。黄山有奇松、怪石、云海和温泉,以“四绝”著称于世。

(1)黄山位于我国_____省南部山区。构成黄山秀丽风光的物质基础——花岗岩,按成因分类,属于_____。

(2)说明形成黄山奇峰异石地貌景观的主要地质作用及其表现形式。

(3)请从水汽凝结条件的角度,简要分析黄山云雾多出现在雨过天晴之时或日出前后的原因。

探究之源

1.自然地理条件是旅游资源形成的基础

(1)火山地貌景观

地貌类型	分布	成因	实例
火山地貌景观	在以内力作用为主的构造带上	岩浆活动强烈,岩浆喷出地表	美国夏威夷的火山景观、冰岛的火山景观,我国黑龙江的五大连池火山景观

【方法技巧】歌诀记忆火山地貌景观

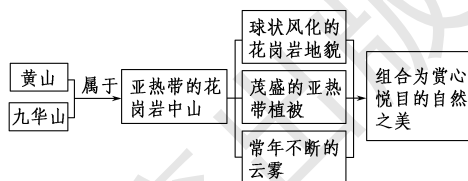
内力构造带,岩浆喷出来。冷凝成火山,多姿是景观。

(2)花岗岩地貌景观

①成因:花岗岩抗化学风化能力强,但自身节理发育,在“球状风化”的物理风化下,形成花岗岩地貌景观

②典型景观:华山、黄山、九华山。

【方法技巧】图析亚热带花岗岩中山山地景观



(3)砂岩地貌景观

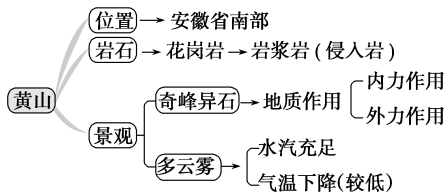
①成因:在一定的地理环境中,坚硬的石英砂岩能够发育成千姿百态的“造景地貌”,构成风景名胜区的核心旅游资源。红色砂岩山地风化可形成特色鲜明的丹霞地貌景观。

②典型景观:武陵源天子山、武夷山。

【方法技巧】图析我国红色砂岩景观



思维导图



答案 (1)安徽 岩浆岩(侵入岩) (2)内力作用:岩浆活动、地壳运动(或地壳抬升);外力作用:风化作用、侵蚀作用。(3)雨过天晴,空气中水汽充足,气温升高,加上遇到山地抬升,空气上升作用明显,水汽遇冷凝结,易形成云雾;日出前后,大气降温,水汽受冷凝结,形成云雾。

【练习1】▶ 丹霞山是世界地质公园、国家重点风景名胜区,又是国家级自然保护区,总面积达290平方千米,由丹霞山、大石山、韶石山三大景区组成。其中,韶石山景区距市区仅10多千米。开发较早的丹霞山景区目前是主景区,距韶关市区45千米。它有大小石峰、石堡、石墙、石桥380多座,岩洞36处,整体为红层林式结构,看上去似赤城层层,云霞片片。根据材料,回答(1)~(2)题。

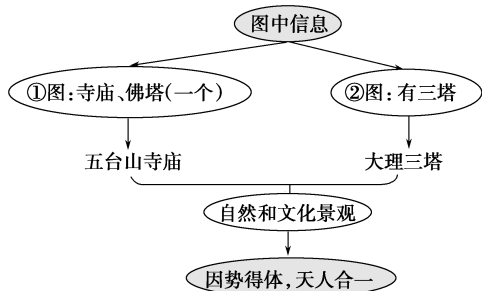
- (1)材料中描述的地貌景观是 ()
 A.火山地貌 B.花岗岩地貌
 C.喀斯特地貌 D.丹霞地貌
- (2)构成上述地貌的物质基础是 ()
 A.片麻岩 B.砂岩 C.石灰岩 D.玄武岩

【例证2】▶ 读下图,回答有关问题。



- (1)上面的两幅图中,大理三塔图是_____,五台山寺庙图是_____。(填代号)
- (2)图中两处景观属于_____旅游资源。从微观层面上看,人们十分注重选择_____之处修建人文建筑。
- (3)以上两图中,不同的文化景观同自然景观的共同关系是_____。其设计、布局的基本思想是_____。

思维导图

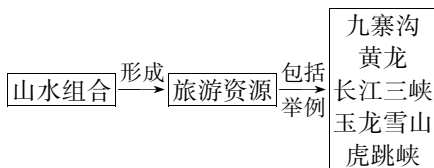


答案 (1)② ① (2)自然和文化景观 山清水秀 (3)使自然景观与文化景观融为一体 因势得体,使文化景观与自然环境协调,并突出自然的美

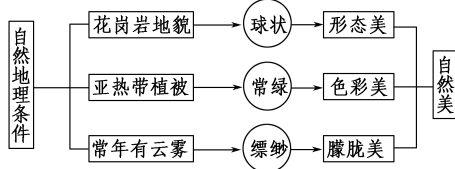
【练习2】▶ 下列关于人文地理因素对旅游资源的影响,叙述错误的是 ()
 A.人类活动对旅游资源的被认知具有重要影响
 B.人类的审美活动能提升旅游资源的价值
 C.古代的政治中心大多已经衰落,一般不是旅游中心
 D.人类的一些重大行为所留下来的地理“痕迹”会成为旅游资源

(4)山水组合景观

山水组合景观往往能够形成极具特色的旅游资源,如著名的九寨沟、黄龙、长江三峡、玉龙雪山和虎跳峡等(如下图所示)。

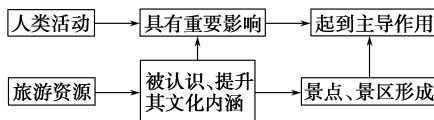


【方法技巧】 我国南方花岗岩中山山地的景观美



2. 人类活动与旅游资源开发

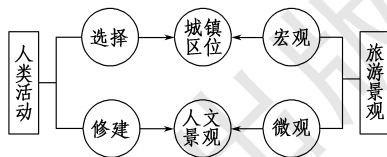
(1)人类活动对旅游资源的影响



(2)人类对自然和人文因素共同塑造的旅游景区的影响

项目	人类活动	对景观的影响	结果
宏观层面看	构筑城市和村镇的过程	选择地理环境相对理想的地方,如山前平原,江河之滨,植被繁茂之地,以便营造良好的人居环境	创造了大量流芳千古的经典之作,成为旅游资源
微观层面看	修建园林、寺庙、宝塔、陵墓	注重选择山清水秀之处,强调自然环境与人文景观的协调统一	
文化遗产	在自然地理的基础上,人类活动居主导地位所形成的旅游资源	—	孔庙、孔府和孔林,平遥古城

【方法技巧】 认识人类活动对自然和人文因素共同塑造的旅游景观



(3)“红色旅游”资源

红色旅游资源	形成	开展红色旅游的目的	旅游资源	
			具体资源	抽象资源
	是中国共产党领导人民在革命战争时期所形成的	保持革命传统,发扬革命精神,促进地方经济发展	革命纪念地和标志物	具体资源所承载的革命历史、英烈事迹和献身精神,是宝贵的革命财富

探究点2 旅游资源的分布

2016年1月5日,第32届中国·哈尔滨国际冰雪节与第17届哈尔滨冰雪大世界同时开幕。本届冰雪节陆续开展了冰雪旅游、冰雪文化、冰雪时尚、冰雪经贸和冰雪体育5大类百余项活动。活动以“冰雪之冠上的明珠”为主题,以中俄文化交融为主线,融汇各国多元文化……让游客零距离触摸异域风情。

探究导引

根据以上材料,分析探究:

影响旅游资源分布的因素有哪些?中国旅游资源的分布有什么特征?

探究之源

1. 影响旅游资源分布的因素

(1) 自然地理因素

旅游资源	分布因素 分布规律	实例
依托于构造地貌形成的旅游资源	地质基础;与构造格局有密切的关系	我国的雅鲁藏布江大峡谷、美国的科罗拉多大峡谷都分布在深陷大断裂带上;非洲的维多利亚湖、坦噶尼喀湖,我国的青海湖、滇池、洱海等断层湖主要分布在高原的构造带上
依托于气候条件的旅游资源	气候条件;有明显的地带性	寒温带和中温带是冬季欣赏冰雪、雾凇奇景,鉴赏冰雪雕塑艺术,从事冰雪运动等旅游胜地的主要分布区。如在欧洲有阿尔卑斯山的冰雪公园;“吉林雾凇”是中国自然奇景之一;加拿大的魁北克省、日本的札幌、中国的哈尔滨和齐齐哈尔成为世界三大冰雪艺术区;欧洲许多国家和我国的北方地区开展冬季度假型的“白色旅游”
海景旅游资源	海陆地形和气候因素;主要集中在亚热带和热带的海滨地带	美国的夏威夷、美洲的加勒比海地区、欧洲的西班牙沿海和地中海沿岸地区,东南亚地区和中国的海南省等

【例证3】▶ 读我国主要旅游景点分布图,回答下列问题。



(1) 写出图中字母代表的旅游景点的名称。

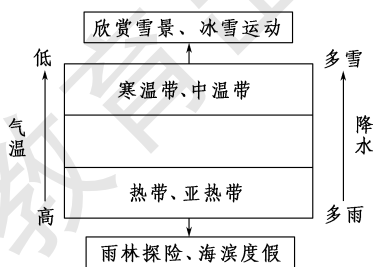
山水组合:A _____、K _____;具有历史文化意义的古代遗存:C _____、H _____;宗教文化景观:B _____、G _____;生物景观:F _____;地质地貌景观:D _____、E _____;自然和文化景观:I _____、J _____、L _____。

(2) 图中甲、乙、丙三地中,适宜发展“3S”旅游的是 _____,适宜发展大漠探险旅游的是 _____,名列世界三大冰雪艺术区的是 _____。

(3) 从图中可明显看出,我国旅游资源的分布特征是 _____ 和 _____。

【方法技巧】 图示法认识以气候条件为依托的旅游资源分布的地带性

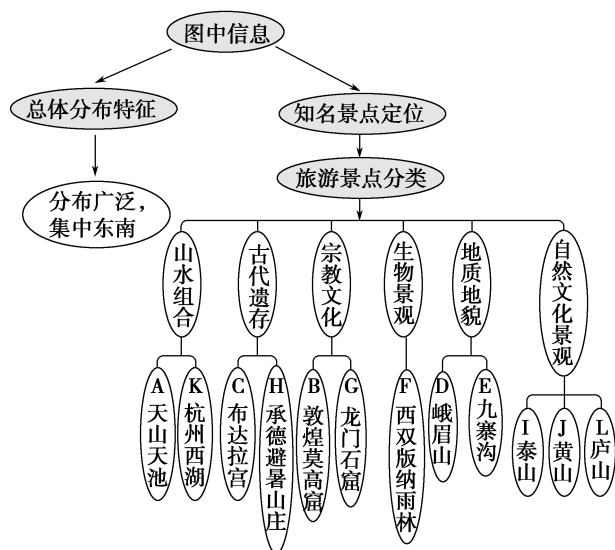
气候的两个基本要素是气温和降水,由于它们在纬度上有规律地变化,导致受其影响的旅游资源具有明显的地带性。



(2) 人文地理因素

古代的政治、经济和文化中心,对当代旅游资源的分布具有重大影响。人类一些重大行为所留下来的地理“痕迹”,本身就

思维导图



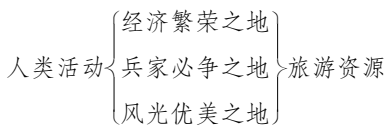
答案 (1)天山天池 杭州西湖 布达拉宫 承德避暑山庄 敦煌莫高窟 龙门石窟 西双版纳热带雨林 峨眉山 九寨沟 泰山 黄山 庐山 (2)甲 丙 乙 (3)分布广泛 集中分布于东南部

【练习3】从影响旅游资源分布的因素看,万里长城的影响因素是 ()

- A.自然地理因素
- B.人文地理因素
- C.社会认知因素
- D.政治因素

是旅游资源。人类对自然资源和人文景观等的审美活动,提升了旅游资源的价值。

【方法技巧】运用归纳法记忆人文地理因素对旅游资源分布的影响



(3)社会认知因素

随着时代的进步,旅游资源的具体分布和总体旅游资源的分布密度会发生一定的变化。随着旅游度假热的兴起,在城市外围人口密度较小,生态环境较好的地区,涌现出休闲度假村、农家乐等一系列新的旅游形式,并成为区域旅游的重要组成部分。

2.中国旅游资源的分布特征

- (1)分布广泛。
- (2)集中分布于东南部。
- (3)旅游点或旅游区呈明显的片状或带状分布。
- (4)旅游资源的分布和交通状况密切相关。

【方法技巧】歌诀记忆“中国旅游资源分布特征”

分布广泛,集中东南;点区带片,交通相关。

五分钟小练习

练习,课堂及时巩固提升

一、选择题


读下列景观图,完成1~3题。



①云南腾冲火山



②黄山怪石



③丹霞地貌景观



④武陵源奇峰

- 1.形成①②③景观图中地貌的岩石类型分别是 ()
 - A.玄武岩、花岗岩、砂岩
 - B.花岗岩、玄武岩、砂岩
 - C.玄武岩、砂岩、花岗岩
 - D.砂岩、花岗岩、玄武岩
- 2.形成①②③景观图中地貌的主要地质作用分别是 ()
 - A.岩浆活动、变质作用、风力侵蚀
 - B.流水侵蚀、岩浆活动、变质作用
 - C.岩浆活动、风化侵蚀、风化侵蚀
 - D.流水侵蚀、变质作用、岩浆活动
- 3.湖南武陵源风景名胜区的峰林地貌成为旅游资源的基础条件是 ()
 - A.岩浆活动
 - B.有大面积的花岗岩体
 - C.花岗岩的球状风化过程
 - D.石英砂岩的长期风化侵蚀

4.下列地区属于我国传统旅游资源密集分布区的是 ()

- A.关中平原地区
- B.新疆罗布泊
- C.长江中游地区
- D.东北长白山

我国正大力发展“红色旅游”,建立了多个“重点红色旅游区”。据此回答第5题。

- 5.主题形象是“开天辟地,党的创立”的红色旅游区是 ()
 - A.以延安为中心的“陕甘宁红色旅游区”
 - B.以韶山、井冈山和瑞金为中心的“湘赣闽红色旅游区”
 - C.以遵义为中心的“黔北黔西红色旅游区”
 - D.以上海为中心的“沪浙红色旅游区”

二、综合题

6.“桂林山水甲天下”——以喀斯特地貌著称的桂林旅游区,不仅有优越的自然旅游资源,而且有以灵渠——中国最早的运河之一为代表的诸多人文景观,加之有便捷的交通,现代化的通信网络,吸引着海内外的游客。据报道,在2000年国家旅游“黄金周”期间,以桂林为中心的旅游区游客比1999年增加了三成,旅游收入是1999年的两倍,成为该地区经济新的增长点。据此回答问题。

- (1)桂林著名的山水景色是在可溶性石灰岩地区广泛发育而成的。由于处在湿热的气候条件下,流水的_____作用形成了_____、_____等典型的喀斯特地貌类型,其反应的化学方程式是_____。
- (2)据桂林的喀斯特地貌可知,这一地区在地质历史上应属于_____环境。

教材活动指导

指导, 解答活动思维过程

教材 P₁₉ 活动

提示: 1. 红色旅游景点确定的原则: (1) 具有革命精神的承载体, 如纪念地、标志物、博物馆等; (2) 具有感人的革命事迹。设计合理的旅游路线中“合理”的含义是: (1) 最近, 即路线以直、快、捷为准。 (2) 不重复。开展本活动时, 可以先开展调查, 弄清当地的红色旅游资源, 并把它们标画在地图上, 然后设计合理的路线。

2. 红色旅游给当地带来的社会经济效益, 应分为以下几项调查: (1) 直接经济效益: 调查游客人次, 门票收入; (2) 间接经济收益: 向游客出售当地的土特产、民族工艺品、特色小食品以及开餐馆、跑出租等经济收入; (3) 社会效益: 调查就业人数, 包括直接和间接加入旅游业的人数; (4) 生态效益: 生态服务可产生较大的经济效益, 调查发展旅游业后, 为环境的投资所得到的回报。

教材 P₂₃ 活动

提示: 1. 旅游资源的简单名录可参考以下方法制作。

景观名称	所属类型	景区资源简介

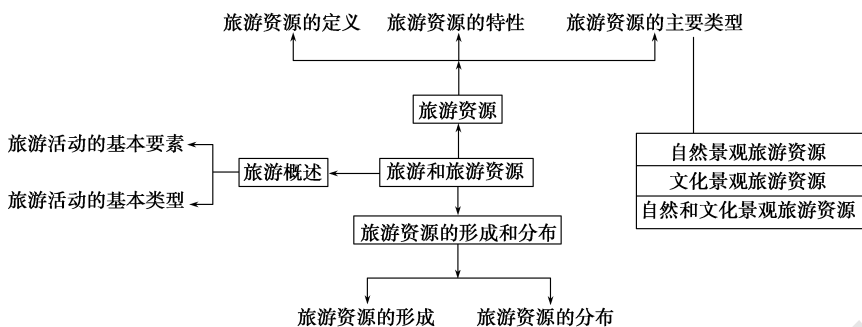
2. 我国传统的旅游资源主要分布在人类活动频繁的地区。因此, 影响传统旅游资源的因素主要是人文地理因素和自然地理因素, 其中古代的政治、经济和文化中心因素, 人类对自然资源和文化景观的审美活动起着关键的作用。新旅游资源是由新的旅游方式和新的旅游需求产生的, 多以奇、险为特色。因此, 影响其分布的因素是自然地理因素和社会认知因素。

3. 对当地的旅游资源提出开发与保护的建议, 应遵循以下原则: ① 旅游资源的整体性、合理性和协调性; ② 美学属性: 要满足旅游者各方面审美的需求; ③ 合理使用, 保证旅游资源的非消耗性; ④ 扬长避短, 避免景区的雷同性。

提示 课后完成《课时作业》第 85 页

本章归纳整合

知识构建



专题整合

专题 1 旅游资源的价值

旅游资源的价值是针对旅游主体的作用而言的。旅游主体作用于旅游资源的形式不同, 使旅游资源所表现出的价值也就不同; 旅游目的的多样性也反映出旅游资源价值的多重性。其中, 美学价值、科学价值主要针对自然景观而言, 历史文化价值主要针对人文景观而言, 经济价值是针对所有旅游景观而言的(如下表所示)。

价值	含义	资源类型
美学价值	自然风景名胜一般都具有美学上的观赏性, 这是吸引旅游者的最根本原因	自然景观

续表

科学价值	自然风景名胜在科学上往往具有某种典型性, 对一些自然现象的成因、演变机制等方面有一定的科学研究价值	自然景观
历史文化价值	文物古迹对于研究历史上的社会、经济、文化艺术、工程建筑等都具有重要的价值	文化景观
经济价值	旅游资源的使用能产生巨大的经济效益	自然景观 文化景观

【例1】▶ 太空旅游为人们提供最新奇、最刺激的太空旖旎风光和一种前所未有的体验——享受失重。未来的太空旅游将呈大众化、项目多样化、多家公司竞争、完善安全法规四大趋势。

列举太空旅游资源的价值并说出发展太空旅游的限制条件。

答案 太空旅游资源的价值:美学价值、科学价值和经济价值;

限制条件:费用高,危险性高,技术要求。

专题2 中国的“红色旅游”

1. 红色旅游和红色旅游资源

“红色旅游”是指以革命纪念地、纪念物及其所承载的革命精神为吸引物,组织接待旅游者进行参观游览,实现学习革命历史知识、接受革命传统教育和振奋精神、放松身心、增加阅历的旅游活动。它是把红色人文景观和绿色自然景观结合起来,把革命传统教育与促进旅游产业发展结合起来的一种新型的主题旅游形式。

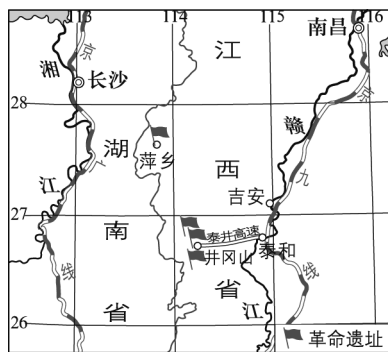
“红色旅游资源”指的是中国共产党成立以后、新中国成立以前,包括井冈山斗争时期、红军长征时期、抗日战争时期、解放战争时期等重要的革命纪念地、纪念物及其所承载的革命精神;从地域范围上看,主要是指革命老区和红军长征沿线,但以长征沿线为重点,这就形成了井冈山、瑞金、韶山、遵义、延安、西柏坡一条“红色主线”。

2. 我国的“重点红色旅游区”

旅游区	中心	主题形象
“沪浙红色旅游区”	上海	“开天辟地,党的创立”
“湘赣闽红色旅游区”	韶山、井冈山和瑞金	“革命摇篮,领袖故里”
“左右江红色旅游区”	百色地区	“百色风雷,两江红旗”
“黔北黔西红色旅游区”	遵义	“历史转折,出奇制胜”
“雪山草地红色旅游区”	滇北、川西	“艰苦卓绝,革命奇迹”
“陕甘宁红色旅游区”	延安	“延安精神,革命圣地”
“东北红色旅游区”	松花江、鸭绿江流域和长白山区	“抗联英雄,林海雪原”

“鲁苏皖红色旅游区”	皖南、苏北、鲁西南	“东进序曲,决战淮海”
“大别山红色旅游区”	鄂豫皖交界地域	“千里跃进,将军故乡”
“太行红色旅游区”	山西、河北	“太行硝烟,胜利曙光”
“川陕渝红色旅游区”	渝中、川东北	“川陕苏区,红岩精神”
“京津冀红色旅游区”	北京、天津	“人民胜利,国旗飘扬”

【例2】▶ “红色旅游”是党和国家为了加速革命老区社会经济的发展、进行爱国主义和革命传统教育采取的重要举措。读下图,回答问题。



- (1)读上图,简述井冈山旅游区的自然地理特征。
- (2)说出构成旅游活动的三个基本要素。
- (3)发展“红色旅游”的目的有哪些?

解析 (1)描述某地区的自然地理特征,一般包括该地区的地形、气候、植被、土壤、河流、资源等。井冈山位于我国的东南丘陵地区,为亚热带季风气候,植被以亚热带常绿阔叶林为主,河流长度不是很长,但其径流量较大,又位于丘陵地区,因此,河流蕴藏着较丰富的水能资源,水资源当然也很丰富。因为气候湿热,土壤的酸性较强,以红壤为主。第(2)题和第(3)题,考查的是书本上的概念,难度不大,学生应能容易回答。

答案 (1)低山(山地)丘陵;亚热带季风气候;常绿阔叶林;中小河流众多,水资源丰富;以红壤为主。

(2)旅游者、旅游资源和旅游服务业。

(3)保持革命传统,发扬革命精神,促进地方经济发展。

提示 课后完成《自主检测》第 87 页



第二章 旅游景观的欣赏

第一节 旅游景观欣赏方法

情景导入



情趣阅读 探源知新

题西林壁

苏东坡

横看成岭侧成峰,远近高低各不同。
不识庐山真面目,只缘身在此山中。

尝试探究:诗中的“横看成岭侧成峰,远近高低各不同”反映了旅游景观欣赏方法中的哪个方面?

提示:优选欣赏角度。



目标导航

了解

旅游文化背景,观赏不同旅游景点的角度、距离、站位等。

掌握

季节性较强旅游景观的特点,能把握观赏时机。

应用

运用所学旅游景观的欣赏方法,对特定的旅游资源获得美的感受。

课前自主学习

自主,新课标理念的精髓

|| 基础梳理 ||

一、旅游景观欣赏

1.定义:游客从旅游资源中获取_____的过程,或者是在旅游过程中获得良好的_____的过程。

2.层次

对审美对象即旅游景观的_____	→ 激发出愉悦的____和美好的____,得到____的享受
------------------	--------------------------------

二、旅游景观欣赏的方法

1.培养审美情趣

- (1)审美情趣是人类的基本欲望——_____的重要组成部分。
- (2)欣赏旅游景观,是满足_____的一种方式。

2.提高审美能力

- (1)审美能力的内涵:包括_____、_____和创造力。
- (2)审美能力的提升需要_____的积累和足够的_____积累

3.优选欣赏角度

- (1)要求:_____,抓住_____,有所侧重。
- (2)原因:①旅游景观有各自的_____属性和_____属性。②旅游资源的_____特征,决定了欣赏角度不同和_____不同。③大多数旅游景观是_____和多层面的,应选择最佳的_____,方可感受其外表之美和内在魅力。

4.把握观赏时机

- (1)原因:景观的各个要素,以多种_____给人以美的享受。
- (2)最主要表现:_____的对比,张与弛的对比,_____与变幻的对比等,尤其引人入胜。

5.品味文化内涵

- (1)原因:文化内涵构成了许多旅游资源_____的核心。
- (2)方法:要了解其_____,深入分析,运用_____和以往经验去细心品味。

|| 图表解读 ||

1.图 2-1“丽江黑龙潭倒影”

提示:识图一方面给人以美的享受——蓝天、白云、雪山、绿树、石桥、亭榭,与清澈的黑龙潭水相映成趣;另一方面要注意,在欣赏水边景致时,游客所处的位置要尽量低一些,以便水面的反光相对清晰,较好地领略亲水情趣。

此图还可引导学生“鉴赏水的内在意蕴”: (1)以水寄情,借水抒情——“问君能有几多愁,恰似一江春水向东流”,借长江之水流露出无限伤感怨愁之情。

(2)以水寓意,观水体验——水体之美在于其永远的流动,水流动带给人生生不息的美感。人们常以水来寓意和比照某些事物和情感。

(3)以水寓理,观景升华——先哲们以水论事、以水喻理、以水明志的精辟论见,堪称华夏文化的思想宝藏。作为自然的元素和生命的依托,水似乎从一开始便与人类的生命乃至文化历史形成了一种不解之缘。

探究点 1 旅游景观的欣赏

大自然是非常神奇的,人们在欣赏自然的时候所产生的一种愉快的心理体验就是审美。水,覆盖着地球面积的绝大部分,它滋润着地球,修养土壤,润泽空气,养育着我们,也给人类以生的灵气;以绿色为主的自然植物更是把人类生存的地球和我们生活的环境装扮得妖娆多姿。自然,客观地存在于我们的生活之中,欣赏自然当然是仁者见仁智者见智的情怀,因此也就有了仁者爱山、智者乐水之说。

探究导引

根据以上材料,分析探究:

1. 什么是旅游景观欣赏?

2. 自然景观的美感特征主要有哪些?

探究之源

1. 旅游景观欣赏的概念

旅游景观欣赏是指游客从旅游资源中获取高质量美感的过程,或者是在旅游过程中获得良好的审美感受的过程。

【特别提醒】旅游景观欣赏包括两个层次

一是对审美对象的感受和知觉;二是在感受和知觉的基础上,进一步激发出愉悦的想象和美好的情感,并在体验这些想象和情感的过程中,产生舒适、惬意、兴奋和满足感,即得到审美的享受。

2. 自然景观的美感特征

自然景观的美感特征是多方面的,主要有形式美、色彩美、动态美、声音美和朦胧美。其中,形式美是最为显著的美感特征。

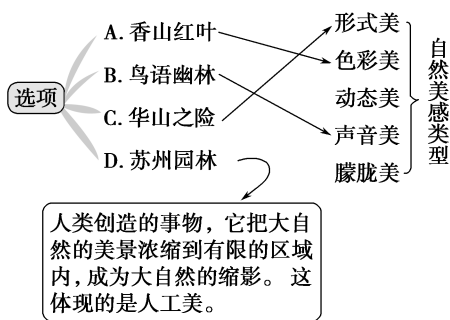
【方法技巧】表格对比自然景观美感特征的主要形式

美感特征	形式	举例
形式美	地貌是自然景观的构景基础,不同的地貌形态,展示出不同的形式美	泰山天下雄、黄山天下奇、华山天下险、峨眉天下秀、青城天下幽;茫茫大漠、浩渺烟波
色彩美	颜色不同的岩石、土壤、水、植物等共同组成自然景观的色彩图案	随一日之内的时间变化,一年之内的季节变化,以及阴晴雨雪等天气的变化,自然景观的色彩也变化万千
动态美	由波涛、飞瀑、流泉以及烟、雾的飘动等引起	山为水动,水回山转,流水、飞瀑使自然景观富有动感。此外,风吹林动、流水飘烟、飞禽走兽等也使自然景观展示出动态美
声音美	大自然发出的各种声响,赋予游人以听觉之美	溪流山涧、瀑落深潭、泉泻清池、雨打芭蕉、风起松涛、幽林鸟语、寂夜虫鸣等,在特定情境下,能给人们以音乐般的享受
朦胧美	大自然中的云、雾、雨、烟产生的幻景	云海、海市蜃楼

【例证 1】▶ 以下景观与其主要美感类型对应不正确的是 ()

- A. 香山红叶——色彩美
B. 鸟语幽林——声音美
C. 华山之险——形式美
D. 苏州园林——自然美

思维导图



答案 D

【练习 1】▶ 以桂林山水为例,谈谈河流水文景观与石灰岩峰林地貌景观组合所展示的美的类型与效果。

探究点2 旅游景观的欣赏方法

每年的农历八月十五日到八月十八日,时逢钱塘江大潮,是观潮的最佳时间。下面是有关钱塘江大潮的描写:来浙江海宁一带观潮的人,成群结队,络绎不绝。这时的岸边,人山人海,万头攒动,人们焦急地等待那激动人心时刻的到来。不一会儿,忽见人群骚动,只见远处出现一条白线,由远而近。刹那间,壁立的潮头,像一堵高大的水墙,呼啸席卷而来,发出雷鸣般的吼声,震耳欲聋。这真是“滔天浊浪排空来,翻江倒海山为摧”。这就是天下闻名的钱塘江大潮。汹涌壮观的钱塘潮,历来被誉为“天下奇观”。

探究导引

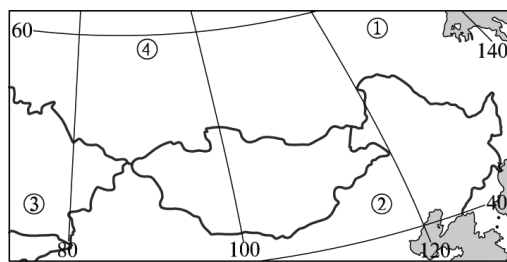
根据以上材料,分析探究:

1. 旅游景观的欣赏方法有哪些?
2. 如何选择观赏角度? 如何把握不同景观的观赏时机?

【例证2】▶ 读下图,回答问题。

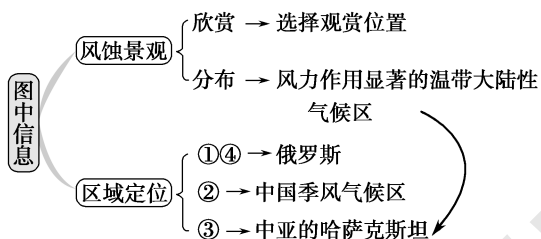


- (1) 图中所示为风力侵蚀作用形成的自然景观。在下图中的①②③④四地中,可能见到这种景观的是_____地。



- (2) 观赏图中所示景观时,为了获得特定的形态美感,从旅游景观欣赏的角度看,关键在于_____。

思维导图



答案 (1)③ (2)选择观赏位置(距离、角度或观赏点)

探究之源

1. 旅游景观的欣赏方法

欣赏方法	具体要求
培养审美情趣	审美情趣是人类学习欲望的重要组成部分。欣赏旅游景观,就是到与自身常住的环境不同的地方去“学习”,它受人的好奇心支配
提高审美能力	审美能力包括感受力、理解力和创造力三个方面。欣赏旅游景观,尤其需要的是感受力和理解力。这两种能力的提升,需要主观经验的积累,更需要有足够的知识积累
优选欣赏角度	大多数旅游景观是立体和多层面的,应根据具体情况选择最佳的观测角度,以充分感受外表之美和内在魅力
把握观赏时机	旅游景观的各个要素,以多种对比组合给人以美的感受。其中动与静的对比、张与弛的对比、稳定与变幻的对比等,尤其引人入胜。需要把握恰当的时机,饱览旅游景观精彩的场面
品味文化内涵	在欣赏拥有悠久历史渊源和深厚文化底蕴的旅游景观时,我们要了解其来龙去脉,对其进行深入分析,运用文化素养和以往经验去细心品味,才能领略其中的真意

【特别提醒】 审美能力的内涵及提升途径

审美能力	内涵	提高途径
审美感受力	主要依赖于视觉和听觉对外界景观的直接感受	后天训练,可以提高对外界景观感受的敏锐、深浅和完满程度
审美理解力	对旅游景观本身蕴含的自然美和人文美的理解	经验知识的积累,包括民族文化的传承和外来文化的融入过程
审美创造力	主要是情景的升华和意境的开拓,即对旅游景观的归纳提升	提高自己摄影、摄像、绘画、游记方面的素养,提升审美的层次和品位

【练习2】▶“断桥残雪”“平湖秋月”是西湖十景之二。结合下面两幅图,完成(1)~(2)题。



断桥残雪



平湖秋月

(1)欣赏“断桥残雪”时最重要的是 ()

- A.选择观赏位置 B.把握观赏时机
C.以情观景 D.领悟自然与人文的和谐

(2)欣赏图中“平湖秋月”中的“月”时应该 ()

- A.平视 B.俯视 C.远眺 D.仰视

【例证3】▶读景观图,回答下列问题。



A. 安徽黄山佛光



B. 女神司春



C. 庐山三叠泉瀑布



D. 漓江风光

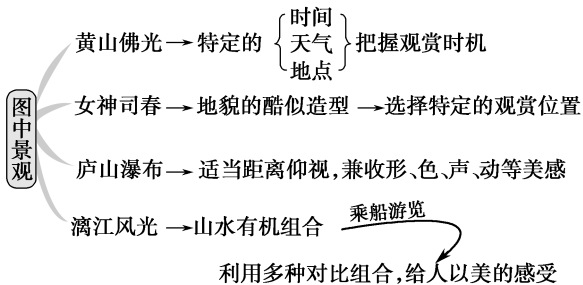
(1)为了达到最佳效果,图中旅游景观的欣赏,需要把握观赏时机的是_____ ;需要选择特定观赏位置的是_____ 。

(填字母代号)

(2)对于D图中的组合景观,为什么乘船游览能获得最佳观赏效果?

(3)佛光是一种光的衍射现象,在晴天、有雾、太阳斜射的条件下,人站在高处,逆光而视,在远处以观赏者的头影为中心,可看到内蓝外红的彩色光,即为佛光。这说明欣赏佛光的条件是什么?

思维导图



答案 (1)A B (2)乘船游览,可充分利用水流、船动、山移所显示出的动与静的对比、稳定与变幻的对比等,给人以美的感受。(3)欣赏佛光必须在特定的时间、天气、地点进行。

【练习3】▶游客为获得泰山日出的最佳观赏效果,应注意选择_____、_____。

2. 景观欣赏的角度和时机

(1)景观欣赏角度

观赏角度	旅游景观	观赏效果
远眺	峰峦	雄伟、俊秀、奇特
	丘陵地区的梯田	高低错落,弯曲流畅,形成线与面的完美结合
俯瞰远望	江、河、大海	观其旷景,体会远望情趣
平视	城市中的湖泊	沿湖的建筑物越多越高,湖面则显得越小、越美
低看	较小的湖沼池塘	临廊、榭观水中倒影,体验天地之美妙
乘船沿水路观赏两岸风景	山水组合景观	水流、船动、山移,如游画中心,心旷神怡
特定观赏点	地貌酷似造型	只有在特定观赏点才能获得某种形象
置身其中	山中的峡谷、洞、一线天	近观方知其妙
仰视	瀑布	适当距离仰视,以兼收其形、色、声、动等美感

(2)景观欣赏的时机

自然景观的欣赏要考虑时间、天气和季节的变化(如下表所示)。

旅游景观的变化	变化内容	把握欣赏时机举例
随季节变化	春翡、夏翠、秋金、冬银,不同季节景色不同	秋看北京香山红叶,春观西湖“苏堤春晓”,冬赏哈尔滨“冰灯节”,夏瞧漠河“白夜”
随时间和天气变化	日出日落,朝晖夕照,特殊的朦胧美、色彩美	泰山观日出,黄山观日落,风景名山若海拔较高应选择雨过天晴时游览
在特定时间出现	有些景象只在特定时间和特定气象条件下出现	青海湖候鸟(5月)、钱塘江大潮(农历八月十八日)、海市蜃楼(特定时间)、峨眉山“佛光”(特定时间)

【方法技巧】把握不同景观的观赏时机

景观类别	观赏时机	原因	
山水风景	北方	夏秋季	该季节雨水多,山中多云雾,景色丰富并富有变化,同时兼收避暑之效
	南方	夏季	
风景名山	雨过天晴	不仅能观赏到云海,还能观赏到日出日落	
特殊景象	旅游者确切地把握观赏时机	只在特定的时间出现	

五分钟小练习

练习, 课堂及时巩固提升

一、选择题

1. 下面有关培养审美情趣和提高审美能力的叙述, 正确的是 ()
- A. 审美情趣仅指人的好奇心
B. 审美能力仅包括感受力和创造力
C. 审美能力的提升需要主观经验的积累, 更需要有足够的知识积累
D. 有关旅游景观欣赏的摄影、摄像、绘画、游记等, 其层次和品位不能反映作者的审美创造力
2. 下列是自然旅游景观最显著的美感特征是 ()
- A. 形式美 B. 色彩美
C. 动态美 D. 朦胧美
3. 有关旅游景观欣赏的叙述, 正确的是 ()
- A. 俊秀挺拔的高山远观效果最佳
B. 晴朗的中午是游览各风景名胜的最佳时期
C. 景色秀丽的天柱山, 只有近观才得其美
D. 阴天是观赏长江三峡的最佳时间
4. 关于河流山川等自然景观的观赏地点, 正确的叙述是 ()
- A. 峰峦之雄伟俊秀, 唯近视可得
B. 峡谷、山洞、一线天之类景观, 要置身其中, 远观方知其妙
C. 瀑布景观宜在远处俯视, 才能兼收其形、色、声、动等美的感受
D. 对于山水有机结合的景观, 乘船游览效果最佳

5. 西湖美景名扬天下, 观赏西湖的最佳位置是 ()
- A. 较高的亭台楼阁之上 B. 低临水面
C. 远距离仰视 D. 适当距离远眺

二、综合题

6. 读黄山地理位置图, 完成下列问题。



- (1) 要想观赏到变幻莫测的黄山云海, 最佳季节是 _____, 最佳天气是 _____。
- (2) 在游览黄山四绝中的“怪石”时, 怎样才能欣赏到这些岩石的酷似造型? 怪石的形成原因是什么?
- (3) 听松涛, 看云海, 赏怪石, 浴温泉, 从不同侧面体会黄山之美, 这属于旅游景观欣赏方法中的 _____。

教材活动指导

指导, 解答活动思维过程

教材 P₂₉ 活动

提示: 1. 该活动是开放式的, 主要是培养学生主动学习的意识。我们不妨选取以下四幅著名旅游景观的图片, 然后回答下面的问题。




A. 乌苏里江日出



B. 九寨沟瀑布



C. 钱塘江大潮



D. 一线天奇观

- (1) 为达到最佳效果, 图中旅游景观的欣赏, 需要置身其中近观的是 _____。(填字母)
- (2) 为达到最佳效果, 图中旅游景观的欣赏, 需要在适当距离仰视, 以兼收其形、色、声、动等美感的是 _____。(填字母)
- (3) 为达到最佳效果, 图中旅游景观的欣赏, 需要选择适当的天气的是 _____。(填字母)
- (4) 为达到最佳效果, 图中旅游景观的欣赏, 需要选择适当时间的是 _____(填字母), 这个时间是每年的 _____。

- (5) 图中的四幅景观, 属于自然景观的是 _____。(填字母)

解析 本题考查不同的自然景观的观赏位置和时机。钱塘江观潮需要选择适当时间; 乌苏里江观日出需要选择适当的天气; 九寨沟瀑布和一线天奇观则需要选择适当的观赏位置。

答案 (1)D (2)B (3)A (4)C 农历八月十八日 (5)ABCD

2. 可通过上网、到图书馆查阅、访问老师等途径获得。如下面几副对联:

- (1) 五岳若与黄山并, 犹欠灵砂一道泉。
(2) 不识庐山真面目, 只缘身在此山中。
(3) 相看两不厌, 唯有敬亭山。
(4) 山重水复疑无路, 柳暗花明又一村。
(5) 云带钟声穿树出, 风摇塔影过江来。(湖南宝庆双清亭)
(6) 八百里洞庭凭岳阳壮阔, 两千年赤壁览黄鹤风流。
(7) 石林自有高才生, 群峰拔地。(云南)
(8) 琼海独具大手笔, 五指擎天。(海南)

同学们可从中选择“楹联”, 阐明意境。如“五岳若与黄山并, 犹欠灵砂一道泉”, 其意境是: 黄山有“四绝”——奇松、怪石、云海、温泉。五岳与黄山比, 可能有奇松、怪石、云海, 但欠“温泉”一景。

提示 课后完成《课时作业》第 91 页

第二节 中国名景欣赏

情景导入



情趣阅读 探源知新

人民网北京2月14日电 国家旅游局今日发布2016年春节假日七天总体情况。全国共接待游客3.02亿人次,比上年同期增长15.6%;实现旅游收入3651亿元,按可比口径增长16.3%。其中,北京、天津、承德、秦皇岛等39个重点旅游城市,共接待游客1.12亿人次。

尝试探究:试说出材料所涉及省份著名的旅游景点(每个省区说出一个即可)。

提示:北京(故宫、万里长城)、天津(天津之眼、古文化街)、承德(避暑山庄)、秦皇岛(北戴河、山海关)。

目标导航

了解

我国一些重要的名山、溶洞、园林、石窟等旅游景区的分布。

掌握

我国重要景区的景观特点。

应用

运用图表资料,学会判断我国重要旅游景区的分布,并会分析其旅游价值和形成原因。

课前自主学习

自主,新课标理念的精髓

基础梳理

一、中国的名山

1. 旅游价值: 名山拥有本身的_____美、生态美和深厚的_____积淀。

2. 分类

- (1) 五岳
- 东岳泰山: 位于_____中部, 是以_____为主的_____山地, 突兀挺拔, 雄伟壮丽, 历史悠久, _____
 - 南岳_____
 - 西岳_____
 - 北岳恒山
 - 中岳_____

- (2) 佛教名山
- _____位于四川省峨眉山市西南, 由_____形成, 有“峨眉天下秀”之说, _____众多
 - _____
 - _____

(3) 道教名山

① 武当山: 位于_____省_____部, 是“道教第一山”, 拥有最大的_____群, 是_____拳术的发源地。

② 青城山: 位于四川省成都市西北都江堰市, 有“青城天下幽”之说。

(4) 其他名山

① 庐山: 位于_____北部, 是古老的_____山, 集_____于一体, 是著名的避暑胜地。

② 鼎湖山: 位于_____肇庆市东北, 是国家级_____。

二、中国的溶洞

1. 洞内地貌形态: 常见的如_____、石笋、_____、石幔等。

2. 分布特点: 我国_____以南、_____以东, 溶洞分布广、数量多, 其中不少溶洞具有很高的旅游价值, 广西_____是我国溶洞发育良好的城市。

3. 典例

(1) 芦笛岩: 位于桂林_____的光明山。

图表解读

1. 教材 P₃₂ 图 2-9 “乐山大佛”

提示:乐山大佛地处四川省乐山市, 位于岷江、青衣江、大渡河三江汇流处, 与乐山城隔江相望。乐山大佛雕凿在岷江、青衣江、大渡河汇流处的岩壁上, 依岷江南岸凌云山栖霞峰临江峭壁凿造而成, 又名凌云大佛, 为弥勒佛坐像, 是唐代摩崖造像的艺术精品之一, 是世界上最大的石刻弥勒佛坐像。

2. 教材 P₃₄ 图 2-11 “武当山”

提示:武当山, 位于湖北省十堰市丹江口境内, 是我国著名的道教圣地之一。景区面积古称“方圆八百里”, 现有 312 平方千米。东接历史名城襄樊市, 西靠车城十堰市城区, 南依原始森林神农架林区, 北临大型人工淡水湖丹江口水库。武当山不仅拥有奇特绚丽的自然景观, 而且拥有丰富多彩的人文景观。可以说, 武当山无与伦比的美, 是自然美与人文美高度和谐的统一, 因此被誉为“亘古无双胜境, 天下第一仙山”。武当山, 作为国家重点风景名胜区、5A 级旅游景区、全国武术之乡、全国八大避暑胜地之一, 其古建筑群被列入《世界遗产名录》, 并先后荣获“全国文明风景名胜区”称号和“全国文明风景旅游区示范点”称号。2009 年, 武当山入选中国世界纪录协会中国道教第一山。

3. 教材 P₃₅ 图 2-13 “庐山青莲谷三叠泉”

提示:三叠泉位于九江市庐山东南青莲谷, 是集险峰怪石、飞瀑流泉为一体的山丘型旅游地。宋朝绍熙二年(1191)始被樵者发现, 故有“一朝何事失扁钥, 樵者得

(2)七星岩:位于桂林_____ ,以洞内_____、_____丰富见长。

(3)冠岩:位于桂林南约 15 千米处,为_____ 名胜之一。

三、中国的园林

1. 北方园林

(1)特点:多_____ ,风格粗犷,规模宏大,金碧辉煌,但_____ 不足。

(2)代表:北京_____ ,是我国现存最完好的皇家园林,全园分_____ 和_____ 两大部分。

2. 江南园林

(1)特点:多官、商、文人的私园,一般规模_____,秀水奇石,院树庭花,清雅恬淡,玲珑剔透。

(2)代表:苏州园林,以_____ 为特色,曲径通幽,明媚秀丽,玲珑素雅。其中,沧浪亭、狮子林、_____、留园号称苏州四大古园,分别是宋、元、明、清园林建筑的代表作。

四、中国的石窟

1. 产生背景:在岩洞石壁上_____ 和_____ ,以表达膜拜之情或宗教虔诚。

2. 代表:敦煌莫高窟

(1)位置:位于_____ 省敦煌东南 25 千米处。

(2)特点:以众多的_____、壁画成为世界现存规模_____ 的佛教艺术宝库。

之人共传”的诗句。其地理成因如下:在“燕山造山运动”和“喜马拉雅造山运动”期间,由于地壳的多次沉降与抬升,形成了褶皱密布、断层纵横、岭谷相间的山体,又经过第四纪冰川的剧烈摩擦而形成“冰阶”崖面。

4. 教材 P₃₇ 图 2-17“芦笛岩”

提示:芦笛岩位于桂林市西北郊,是一个以游览岩洞为主、观赏山水田园风光为辅的风景名胜区,是整个漓江风景名胜区的重要组成部分。芦笛岩洞深 240 米,游程 500 米。洞内有大量奇麓多姿、玲珑剔透的石笋、石乳、石柱、石幔、石花,琳琅满目,组成了狮岭朝霞、红罗宝帐、盘龙宝塔、原始森林、水晶宫、花果山等景观,令游客目不暇接,如同仙境,被誉为“大自然的艺术之宫”。从唐代起,历代都有游人踪迹,现在洞内存历代壁画 77 幅。

课堂合作探究

探究, 解读重疑难点知识

探究点 1 中国名山

中国的名山众多,数不胜数,雄、奇、灵、秀,各具特色。中国的名山首推五岳,泰山之雄伟、华山之险峻、衡山之烟云、恒山之奇崛、嵩山之萃秀,百态千姿,各怀绝景。而黄山更以奇松、怪石、云海、温泉闻名中外。中国的名山历来就是佛家、道家崇敬之地,因而也成就了以佛、道名扬天下的多座名山,佛教的“金五台、银普陀、铜峨眉、铁九华”,道教的武当山、青城山、龙虎山、齐云山等。人们在游览了这些仙山之后,似乎也沾上了一些仙风道骨,飘飘欲飞。

|| 探究导引 ||

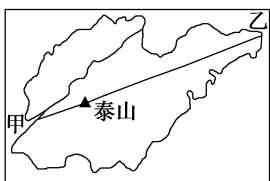
根据以上材料,分析探究:

1. 中国的旅游名山有哪些类型?

2. 中国五岳的游览价值体现在哪些方面?

【例证 1】▶ 阅读下列材料,回答问题。

材料一 泰山是世界首例文化与自然“双重遗产”,有五岳之首等众多称号,但它却两次和“世界地质公园”的称号无缘。直到 2006 年 9 月 18 日,在第二届世界地质公园大会上,泰山才正式被列入第三批“世界地质公园”。



|| 探究之源 ||

1. 中国部分旅游名山的类型及分布

类 型	名 称
五 岳	东岳泰山、西岳华山、中岳嵩山、北岳恒山、南岳衡山
四大佛教名山	五台山、峨眉山、九华山、普陀山
道教名山	武当山(湖北)、青城山(四川)、崂山(青岛)
其他名山	博格达峰(天山)、祁连山、珠穆朗玛峰、武陵源、玉龙雪山(云南)、梵净山(贵州)、鼎湖山(广东)、千山、武夷山、雁荡山、庐山、黄山、阿里山、长白山

材料二 泰山著名景观图。

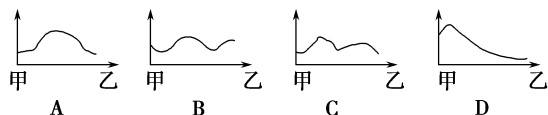


泰山云海



泰山瀑布

(1)如果在材料一图中沿甲、乙连线画一幅地形剖面图,则应为下列哪一幅图 ()

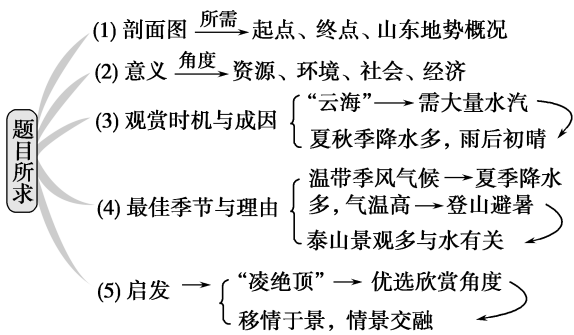


- (2)简要分析泰山成为世界地质公园的重要意义。
- (3)旅游者登临泰山可以观赏“云海玉盘”“黄河金带”“旭日东升”和“晚霞夕照”四大自然景观。试分析观赏“云海玉盘”的最佳季节及时机,并简要分析原因。
- (4)新疆乌鲁木齐一个游客打算到泰山游览并希望能够欣赏到泰山瀑布景观,假如你是一名导游,请告诉他来泰山游览的最佳季节,并说明理由。
- (5)读杜甫的诗《望岳》,请简要分析,该诗对游客观赏泰山美景有哪些启发?

望 岳

岱宗夫如何? 齐鲁青未了。
造化钟神秀, 阴阳割昏晓。
荡胸生层云, 决眦入归鸟。
会当凌绝顶, 一览众山小。

思维导图



- 答案 (1)C
- (2)有利于泰山旅游资源和旅游环境的保护与改善;能进一步提高泰山作为旅游资源的知名度,吸引更多的游客,增加旅游收入;使泰山成为地质研究基地和科普教育基地,提高旅游资源的科学研究价值等。
- (3)观赏泰山云海的最佳季节和时机是夏秋季节的雨后初晴之时。因为夏秋季节降水较多,雨后初晴,大量水汽蒸发,容易成云致雾。
- (4)夏季。理由:泰山夏季森林茂密苍翠,鸟语花香;雨水多,水量充足,瀑布更加壮观;山中多云雾,景色更富于变化,且兼收避暑之效。
- (5)选择恰当的观赏位置:只有站在最高点远眺俯视,才会产生“一览众山小”的感慨;把握泰山雄伟壮丽的美感特征,体验景观意境,发挥想象,以情观景;心随景动,情景交融,达到精神升华。

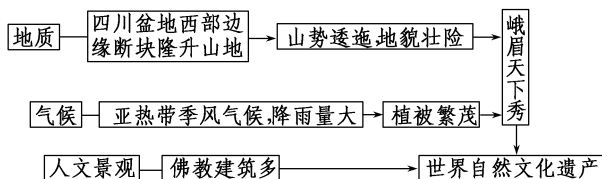
【思维拓展】名山比较

名称	类别	地质成因	景观特色
泰山	五岳之首	以花岗岩麻岩为主的断块山地	突兀挺拔、雄伟壮丽、历史悠久、文物众多
峨眉山	佛教名山	断块隆升形成的山地	自然景色秀丽、植被垂直分异明显
武当山	道教名山	断块山地	道教第一山,拥有全国最大的道教建筑群
庐山	其他名山	花岗岩断块山	山水相依,云雾缭绕、雄奇秀丽

【方法技巧】

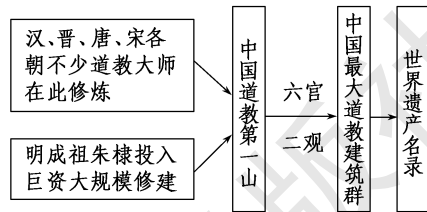
1.峨眉山

峨眉天下秀,名山僧占多。四大佛教名山中,峨眉山最著名的原因可用下面的纲要图归纳。



2.道教名山——武当山

武当山位于湖北省西北部,是我国“道教第一山”。相关知识如下图所示:



注意:道观、寺庙分别是道教、佛教建筑。

2.五岳的旅游价值和位置

五岳	名称	旅游价值	位置
东岳	泰山	形成地质年代久远,科学价值高;雄伟的块状山地,美学价值突出;历史悠久,文物众多,历史文化价值大	山东省中部 泰安市
西岳	华山	有五座山峰以险峻著称,有“自古华山一条路”的说法	陕西省东部 华阴市东南

【练习 1】▶ 读我国名山分布图，完成下列问题。



(1) 将代表名山的字母与山的名称及其特征用直线连接起来。

- | | | |
|---|-----|---|
| A | 华山 | 雄 |
| B | 青城山 | 奇 |
| C | 峨眉山 | 险 |
| D | 泰山 | 秀 |
| E | 黄山 | 幽 |

(2) 我国人民对自然景观的审美有“雄、奇、险、秀、幽”之说，这些描述体现的是自然景观的_____的特征。

北岳	恒山	主庙北岳庙，供奉北岳大帝(恒山神)，附近有悬空寺	山西省东北部浑源县
南岳	衡山	五岳中自然风光最美，一年四季景色秀丽，“五岳独秀”	湖南省长沙以南的衡山县
中岳	嵩山	主要特点是“峻”，山上有“少林寺”，为“少林武术”的发源地	河南省中部登封市

【特别提醒】泰山成为五岳之首的原因分析思路

主要从两方面分析

- (1) 自然地理条件：①泰山属于断块山，山势险要，坡度陡峻；②坐落在华北平原上，相对高度大，突兀挺拔；③气候较为湿润，云雾缭绕，颇为神秘。
- (2) 人类开发活动：①位于开发历史悠久的农耕区，人们认识时间早，认同程度高；②历代封建帝王封禅之地。

探究点 2 中国的溶洞

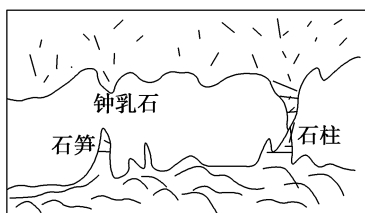
我国可熔岩分布面积广大，裸露于地表的碳酸岩面积有 91 万平方千米，加上覆盖与埋藏于地下的碳酸盐岩，可熔岩分布面积达 340 万平方千米，南方黔、滇、桂、川、湘、鄂、粤诸省区为最重要的岩溶区，碳酸盐岩沉积总厚度在 10 000 米以上，几乎分布于各个地质时代。分布面积广大的碳酸盐岩，加上适宜的多种多样的气候条件，使我国成为世界上岩溶洞穴资源最为丰富的国家。

探究导引

根据以上材料，分析探究：

1. 中国的溶洞是如何形成的？主要分布在哪些地区？
2. 石笋、石钟乳与石柱各是怎样形成的？

【例证 2】▶ 读某洞穴剖面景观示意图，回答下列问题。



某洞穴剖面景观示意图

(1) 图中所表示的地形景观出现在

- | | |
|-----------|-----------|
| A. 石灰岩分布区 | B. 花岗岩分布区 |
| C. 玄武岩分布区 | D. 片麻岩分布区 |

探究之源

1. 中国溶洞的形成和分布

(1) 概念

溶洞是地下水沿可溶性岩石的裂隙溶蚀、侵蚀扩大而成的地下空洞。

(2) 形成

溶洞本身的形成是由于侵蚀作用，而溶洞内的石钟乳、石笋、石柱、石幔等地貌是由于化学沉积(淀积)作用形成的，它们都属于喀斯特地貌。

(3) 喀斯特作用的化学过程

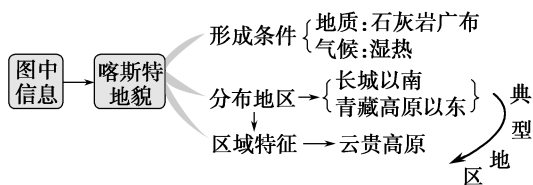
喀斯特作用主要是含有二氧化碳的水与可溶性岩石之间的一系列化学反应过程。以石灰岩为例，其溶蚀与淀积作用的化学过程分别是：

$\text{CO}_2 + \text{H}_2\text{O} + \text{CaCO}_3 \rightleftharpoons \text{Ca}(\text{HCO}_3)_2$ (溶洞的形成过程)

$\text{Ca}(\text{HCO}_3)_2 \rightleftharpoons \text{CO}_2 + \text{H}_2\text{O} + \text{CaCO}_3$ (石钟乳、石笋的形成过程)

- (2)我国最早较全面地揭示该地形景观各种特征的著作是 ()
- A.《山海经》 B.《水经注》
C.《梦溪笔谈》 D.《徐霞客游记》
- (3)该地形景观在我国四大高原中有广泛分布的是_____高原。
- (4)写出你所知道的如图中景观的著名旅游景点名称两个:_____、_____。
- (5)用人地关系协调发展的观点,简述人类如何趋利避害地开发利用这种地形景观资源。

思维导图




- 答案** (1)A (2)D (3)云贵
- (4)桂林山水、云南石林、瑶琳仙境、宜兴溶洞
- (5)充分合理利用其在旅游、仓储、疗养、生物培育等方面的资源价值。注意避免地基塌陷、环境污染、破坏性开发等超越环境承载量的不良现象。

【练习2】 阅读下列材料,完成(1)~(2)题。

材料一 “江北第一溶洞——沂水地下画廊”是山东省内著名的旅游景点,该景区以百万年绘就的天然地下画廊,沂蒙生态第一谷闻名省内外。溶洞自然天成的“北国风光”“宇宙奇观”“南国风情”“海底世界”四幅各具特色的巨幅画卷,令人惊叹,被誉为“天然地下画廊,岩溶梦幻世界”。

材料二 下面是在溶洞内拍摄的图片。



- (1)根据上述材料推测,形成该溶洞的岩石为 ()
- A.花岗岩 B.玄武岩
C.石英砂岩 D.石灰岩
- (2)在溶洞中欣赏“仙人指”时,为达到最佳的观赏效果,最应 ()
- A.贴近景观近看
B.把握好观赏的时机
C.在适当的距离选择特定位置观赏
D.品味文化内涵

(4)在我国的分布
长城以南、青藏高原以东,溶洞分布广、数量多,其中不少溶洞具有很高的旅游价值。

归纳总结:喀斯特作用的基本特征总结
根据上面介绍的喀斯特作用的化学过程可以看出,喀斯特作用的主要特征是:以地下水为主,以地表水为辅;以化学过程(溶蚀与淀积)为主,以机械过程(流水侵蚀和沉积、重力崩塌和堆积)为辅;以溶蚀为主,以淀积为辅。

2. 喀斯特地貌的形态

喀斯特地貌可分为地表喀斯特地貌和地下喀斯特地貌。其代表形态及其成因如下表所示:

类型	形态	成因
地表喀斯特地貌	石芽→石林→峰林、峰丛→孤峰→残峰	溶蚀
	溶沟→溶蚀洼地→溶蚀谷地	
	落水洞	
地下喀斯特地貌	溶洞、地下河	溶蚀
	石钟乳、石笋、石柱	

【思维拓展】 钟乳石是指碳酸盐岩地区洞穴内在漫长地质历史中和特定地质条件下形成的石钟乳、石笋、石柱等不同形态碳酸钙沉淀物的总称。

石钟乳:流水渗流入洞顶后因温度、压力的变化、二氧化碳逸去,水中碳酸钙过饱和,沉淀形成。开始以小突起附在洞顶,以后逐渐向下增长,具有同心圆状结构,形如钟乳而得名。

石笋:由溶洞底部向上生长的碳酸钙沉积物,形如笋状而得名。洞顶下滴的渗流水在洞底发生溅击作用,经水的蒸发,二氧化碳逸去,碳酸钙发生沉淀作用,形成由洞底自下而上生长的石笋。

石柱:由石钟乳和石笋彼此连接形成的柱状堆积体。

探究点3 中国的园林

中国的园林艺术是人类文明的重要遗产。它被举世公认为世界园林之母、世界艺术之奇观。其造园手法已被西方国家所推崇和模仿,在西方国家掀起了一股“中国园林热”。中国的造园艺术,以追求自然精神境界为最终和最高目的,从而达到“虽由人作,宛自天开”的审美旨趣。它深浸着中国文化的内蕴,是中国五千年文化史造就的艺术珍品,是一个民族内在精神品格的生动写照,是我们今天需要继承与发展的瑰丽事业。

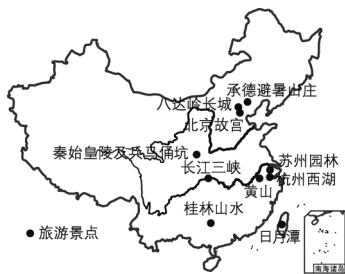
探究导引

根据以上材料,分析探究:

1.北方园林和南方园林有什么不同?

2.怎样欣赏园林景观?

【例证 3】▶ 读我国部分旅游胜地分布图,回答下列问题。



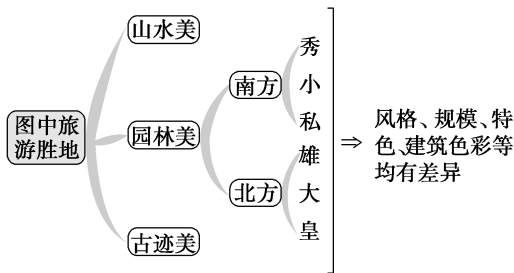
(1)图中旅游胜地中,属北方园林的是_____、_____,属南方园林的是_____。北方皇家园林规模_____,南方私家园林规模_____。

(2)北方园林建筑色彩浓重,以红、黄色为主色调,而南方园林建筑色彩素淡,以黑、白为主色调。请结合其人文和自然环境特征说明它们的合理性。

(3)苏州古典园林位于_____省,属于世界文化遗产。其中,_____,狮子林、_____,留园号称苏州四大古园。

(4)与苏州园林位于同一个省的另一处世界文化遗产是_____。

思维导图



答案 (1)承德避暑山庄 北京故宫 苏州古典园林 宏大 较小

(2)北方园林以红、黄色为主色调,既显示出皇权的尊荣富贵,又与宽阔整齐的地形、多蓝天白云的气候特点相辉映;南方园林以黑、白为主色调,既迎合园主追求闲适宁静的心理需要,又与水乡风光、湿润的气候特点融为一体。都体现了人文景观与自然的和谐。

(3)江苏 沧浪亭 拙政园 (4)南京的明孝陵

【练习 3】▶ 读下面两幅图,回答问题。



甲



乙

探究之源

1. 南方、北方园林的比较

北方园林和南方园林,“北雄南秀”,其区别如下表所示

比较项目	北方园林	南方园林	
园林建筑特点	风格	粗犷	清雅恬淡
	规模	宏大	较小
	特色	金碧辉煌有余,幽雅婉丽不足	秀水奇石,院树庭花,布局精巧
建筑色彩	浓重,红黄色调为主	素淡,黑白色调为主	
园主的追求	多为皇家园林,显示皇权的尊荣富贵	多为官、商、文人的私园,追求闲适宁静的心理需要	
园林共同特点	自然景观与人文景观融为一体,体现和谐美		

【思维拓展】北京颐和园和苏州园林对比

比较项目	北京颐和园	苏州园林
位置	北京城区西北	太湖东岸苏州市
历史	皇家园林,始建于乾隆年间	宋、元、明、清园林均有
规模	宏大	比较小
风格	雄伟开阔	明媚秀丽,玲珑素雅
园主的追求	显示皇权的尊荣富贵,分万寿山和昆明湖。从空中看,山形如蝙蝠,湖状似寿桃,取“福山寿海”之意	多为私家园林,以巧、雅、古、奇为特色,以沧浪亭、狮子林、拙政园、留园、虎丘园、网师园为代表

2. 怎样欣赏园林景观?

抓住景观特点,熟悉园林的构景手法,否则,进入园林如坠入云雾中,理不清头绪。

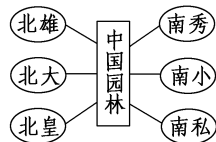
首先,园林设计如同讲故事,为顺应观赏者的心理需求,有序幕、发展、高潮和结束。这主要是通过主景和配景的有机结合并用游览线路的合理串联来实现的。主景的鲜明突出是园林整体效果成功的关键;配景是为主景“服务”的,起烘托作用。

其次,利用障景和隔景的方法增加层次性,以有限空间,造无限风景。障景一般出现在园林或园林相对独立的景区入口处,常利用假山、屏风、竹林等来实现。避免一入园便对整个园景一览无遗,以达到“山重水复、曲径通幽”的意境。隔景常利用墙、廊、树篱、殿堂来实现。不同层次的景区,由旅游线路贯通,形成系列景观。

- (1)两幅图中,属于皇家园林的代号是_____,属于江南园林的代号是_____。
- (2)北方的皇家园林规模_____,江南私家园林规模_____。
- (3)北方皇家园林建筑色彩_____,多以_____为主色调;南方私家园林色彩_____,多以_____为主色调。
- (4)南北方园林在色调上的巨大反差,其用意不同原因是什么?
- (5)我国北方园林和江南园林的不同建筑风格,反映了_____与_____和谐的思想。

再次,利用框景和借景手法,可以使园林景观增色不少。框景是用门框、窗框、洞框作为取景的画框,把景观框限在从框中所看到的范围之内。框景是园林中的局部特写,犹如精致小品。借景是借园外的风景来衬托本园的景色。借景的关键是使所借之景与园中之景和谐统一。

【方法技巧】概括法总结记忆南北方园林的特点




五分钟小练习

练习,课堂及时巩固提升

一、选择题

清明节假期期间,上海某公司职员组团到云南西双版纳游玩,当地少数民族的各种民俗风情,使旅游团成员大开眼界……据此回答1~2题。

- 1.该旅游团成员在云南西双版纳参加的傣族泼水节活动,属于人文旅游资源中的 ()
 - A.风土民情
 - B.文物古迹
 - C.建筑遗址
 - D.旅游商品
 - 2.旅游团成员看到的下列景观,充分反映出人文旅游资源与自然旅游资源有机结合的是 ()
 - A.傣族的竹楼掩映在热带丛林中
 - B.溶洞中石钟乳垂天而下
 - C.现代化的旅游宾馆突兀在丛林中
 - D.夜晚的篝火晚会上跳起现代歌舞
- 读图,回答3~4题。



- 3.上图反映了哪种景观 ()
 - A.峰林景观
 - B.丹霞地貌景观
 - C.溶洞景观
 - D.石窟景观
- 4.下列不属于溶洞地貌形态的是 ()
 - A.石柱
 - B.峰丛
 - C.石笋
 - D.石幔
- 5.下列人工景物中,使游人“不出城郭,而享山林之美”的是 ()
 - A.古典园林
 - B.古建筑和古遗迹
 - C.民俗风情
 - D.书画艺术

二、综合题

6.敦煌位于甘肃、青海、新疆三省(区)的交界处,古丝绸之路在这里经过。敦煌属温带大陆性气候,年降雨量只有39.9毫米,而蒸发量却高达2400毫米,气候极端干旱,冬冷夏热。敦煌旅游业发展较快,敦煌莫高窟、鸣沙山、月牙泉、雅丹地貌、玉门关、阳关被誉为敦煌六景,其中素有“沙漠奇观”之称的鸣沙山、月牙泉和敦煌莫高窟更是敦煌旅游的两颗明珠。读敦煌地理位置简图,回答下列问题。



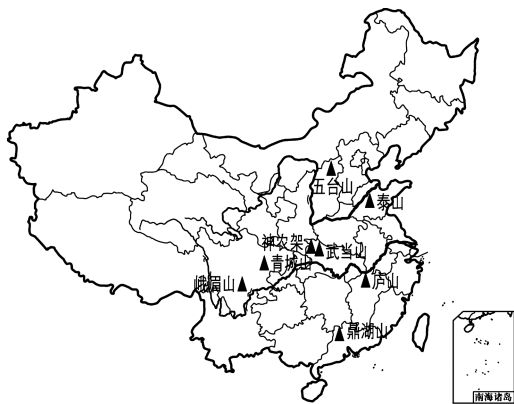
- (1)敦煌石窟是现存世界上最大的_____艺术宝库,反映了我国5—14世纪的部分社会生活及历代_____艺术的发展。
- (2)列举三个我国著名的石窟_____、_____、_____。
- (3)某旅行社将“丝绸之路”的“沙漠之路”规划为旅游活动线路,但发现该线路旅游时间并不是全年都适宜的,5~10月是最佳旅游时间,试说明原因。

教材活动指导

指导, 解答活动思维过程

教材 P₃₆ 活动

提示: 1. 该活动是为了培养学生主动查阅资料的能力, 答案可参见下图。



2. 完成该活动课需要首先确定调查对象, 设计问卷调查内容, 然后分组调查。

调查人群可设定为刚旅游名山归来的游客, 可根据他们的年龄、学历、性别分成不同情况加以研究。同学们可发挥集体的力量, 分组进行调查, 然后把调查问卷集中讨论, 分析对名山看法的差异及成因。

名山的自然美虽然是自然景观的美, 但它只因人而存在。人类和自然本来是统一的, 人是自然的一部分, 人是自然的产物。在早期生产力极不发达的情况下, 自然只能是人类顶礼膜拜的对象, 而不是审美对象。随着人类的进步和文明的发展, 自然界被“人化”: ①它被深深地打上人类的烙印, 有的被改造(如动植物), 有的被征服(如高山)。

②自然对于人来说, 不再是相对立的事物, 而是人类生活的有机组成部分。正是在自然“人化”的过程中, 产生了自然美, 产生了人与自然的审美关系。对于自然美的观赏, 随着观赏者的性情、阅历、境遇、年龄以及需求等因素, 而产生相同或不同的感受。不管何种美的感受, 都需要观赏者的“投入”, 需要观赏者“化入”对象, 也需要对象“化入”观赏者的心灵, 达到物我同一、物我两忘的境界。有了这种境界, 才会有审美的心境, 才能进入审美状态, 才能获得充分的审美享受。

名山的人文景观蕴含着丰富的历史文化知识, 需要具备一定的知识阅历才能领悟其奥妙。学历不同、年龄不同、爱好不同, 感受便不一样。

3. 通过调查不同游客群体对我国名山的看法, 根据名山的特色和游客的认同情况, 写出进一步开发的设想。答案可以参照黄山景观的开发设想。

黄山景观的开发设想

黄山景观的开发设想应根据自然景观和人文景观不同做出不同的开发规划和安排。

一、景观的开发

1. 创造出一个以黄山山体和黄山四绝鲜明特色的景观形象, 以齐云山丹霞地貌和“一江一湖”水系景观烘托的旅游空间环境开发中应贯彻“因景制宜”的原则, 以黄山山体景

区为主, 开发出齐云山丹霞地貌景观, 牯牛降、清凉峰自然生态保护区等各具特色的景观和景点。在景观设计和建设中要严格控制人口建设量, 防止城市化倾向。以山水、草木、云烟、古迹为主体, 附属建筑和设施处于从属地位, 充分体现“宜小不宜大、宜低不宜高、宜散不宜聚、宜藏不宜露”的特点。

2. 对古遗址、遗迹、古文化及徽派古建筑群景观开发。由于这些古遗址、遗迹以及古民居、古亭、牌坊群、古寺等徽派建筑群具有遗产属性, 极为珍贵, 一旦破坏则不能恢复, 所以在开发其艺术鉴赏价值和效益价值的同时, 更多地体现保护为主的原则。

二、开发的形式

1. 对古遗址、古迹以及黄山、齐云山风景名胜区的遗产型景观的开发应着重体现保护的特点, 即对这些景观完整地绝对地予以保护, 而不允许直接改造和开发。

2. 对于“一江一湖”等其他景观的开发可以采取强化景观的方式, 即采取人工强化手段烘托优化原有景观的景物, 以创造出一个新的风景环境和景观空间。如太平湖的岛上娱乐馆、水上龙舟以及冲浪岛等强化烘托形式的开发利用。

3. 对于徽砚、徽墨、徽菜、徽剧、篆刻、石碑、盆景等文物和微型景观则采用创造型和修饰型的开发形式, 即通过建造文物馆、博物馆以及文房四宝堂、墨斋、砚斋等, 另塑景观形象, 通过人工手段加以修饰和点缀, 使徽文化的气氛更浓, 意境更深, 韵味更足, 开发出真正的艺术内涵和旅游价值。

三、对景观游览路线的规划和开发

景观游览开发十分重要, 按其功效不同主要由两部分构成, 一个是游赏空间, 另一个是过渡空间。

对游览路线来说, 关键在于组景。对于具体的景区来说, 即将黄山风景空间以动态的流动链相互连接, 使各景点浑然一体, 而对不同景区则应构成游览区域和网络化, 使每个景区独立成为网络的一个联结点, 每个联结点又各具特色, 从而使游客能产生一种“百看不厌”“横看成岭侧成峰”的观感。

在过渡空间的设计开发中, 应缩短其距离, 仅能起到使游客休息转换的作用, 开发中还要注意引景和疏林绿化等配置手法的运用。

四、开发建议

1. 黄山、池州、宣城、安庆可以联合起来, 打造以黄山、九华山、天柱山、敬亭山为中心的皖南都市旅游圈。通过各自的定位和优势互补合作, 来定位发展有特色的旅游。

2. 黄山旅游区门票收费太高, 作为世界级的名山的黄山是否要跟杭州西湖学习? 降低门票价格或者取消门票, 以刺激更多的海内外游客来黄山旅游, 以带动黄山的第三产业如服务业、餐饮业、住宿业、当地土特产业等兴旺发展起来。相对来说, 政府的税收也可大大提高。

3. 山体景区观赏适合以步游为主, 是否也要为老年、少年设置有代步工具?

4.是否可以适当扩大景区附近的游客容量,既方便游客食宿,又能拉动服务业等?

教材 P₄₃ 活动

提示:该活动把中国主要石窟艺术集中在一起,让同学们自主地查阅资料进行研究性学习。资料来源可以是图书资料,也可以上网搜索。

参考答案如下:

序号	名称	始建时代和主要特色	所在省级行政单位
1	云冈石窟	开凿于北魏,既继承汉代传统,又吸收外来文化	山西
2	莫高窟	始建于366年,众多文物、壁画,世界最大的佛教艺术宝库	甘肃
3	榆林窟	始建于中唐时期,风格与敦煌莫高窟相似,壁画最著名	甘肃
4	龙门石窟	始建于北魏,以唐宋时期的雕塑艺术风格为主的佛教石窟寺	河南
5	麦积山石窟	十六国时的后秦始建,多为泥塑,四大石窟之一,风景秀丽	甘肃
6	炳灵寺石窟	始凿于西秦建弘年间(420年),以石雕著名	甘肃
7	克孜尔千佛洞	开凿于唐末五代或元代,龟兹石窟艺术的发祥地,石窟建筑、雕像、壁画艺术为特色	新疆

续表

8	广元千佛崖摩崖造像	始建于南北朝,崖壁上有佛像近万尊,数量众多,规模宏大	四川
9	宝顶山摩崖造像	雕刻精美,以佛教为主,也有道教和儒教内容,生活气息浓厚	重庆

教材 P₄₆ 活动

提示:本活动可设计一个研究性课题“分析与评价某旅游景观”。

研究性学习是为了培养学生研究分析问题的能力,提倡自主学习、探究学习、合作学习。完成该课题的研究过程如下图所示:

选定课题:某景区旅游资源的特色和开发评价
(根据自己的兴趣选取)

根据所选课题不同,划分研究小组,每个小组确定2~3个研究个案

制订研究方案

上网查询,查阅图书,走访学者,搜集资料

把所选景区的位置标注在图上,集体讨论提出开发保护见解

撰写关于旅游资源开发保护的小论文

成果展示:以壁报、板报、辩论会等多种形式交流

提示 课后完成《课时作业》第93页

第三节 国外名景欣赏

情景导入



情趣阅读 探源知新

国外名景众多,去法国与浪漫相约,去动感之都的香港不错过与物质的热恋,去希腊体会爱情海的点点风情。无论是自助游,还是随团游,只要有一颗游玩的心,都可以找到你最想要的……

尝试探究:如果条件允许,让你出境旅游,说出你心中梦想已久的国外名景五处。

提示:印度泰姬陵、东非大裂谷、埃及金字塔、希腊阿波罗神庙、美国科罗拉多大峡谷……(合理即可)。

目标导航

了解

世界遗产的分类。

掌握

各大洲旅游资源丰富的原因及代表景观。

应用

运用所学知识判断景观分布、分析景观成因。

课前自主学习

自主, 新课标理念的精髓

|| 基础梳理 ||

一、世界遗产

1. **遗产保护:** 20世纪70年代, 联合国教科文组织成立了_____委员会, 开始有计划地保护列入《_____》的人类遗产。
2. **世界遗产分类:** _____、自然遗产、_____、_____、人类口头和非物质遗产代表作。
3. **概况:** 截至2004年7月, 经联合国教科文组织批准, 全世界共有_____项世界遗产。其中自然遗产_____项, 文化遗产611项, 自然和文化双重遗产_____项。

二、世界各大洲的名景

大洲	概况	主要名景
亚洲	存在巨大的_____、景观多样性、众多的_____、复杂的_____以及悠久的_____、深厚的_____等因素为旅游业的发展奠定了坚实基础	印度的_____、柬埔寨的_____、土耳其的_____等
非洲	高原辽阔, 有世界上面积最大的_____, 众多的草食和肉食动物, 构成了迷人的_____。特殊的地质构造、灿烂的_____, 使得自然旅游景观和文化旅游景观异常壮观而丰富	_____山、_____大裂谷带, 埃及的_____和狮身人面像, _____国家公园等
欧洲	拥有丰富的旅游资源, 是世界上_____的旅游区。历史旅游资源以_____, _____最为集中, 而文化旅游资源则遍及_____, 法国以_____旅游资源丰富而享誉全球	南欧的_____海岸, 中部的_____, 希腊的_____, 欧洲西南部的比利牛斯—珀杜山等
美洲和大洋洲	美洲特殊的_____和大洋洲的_____, 形成了丰富的旅游资源	美国的_____, 大峡谷国家公园及_____国家公园、厄瓜多尔的_____群岛、智利的_____国家公园、澳大利亚的_____等

|| 图表解读 ||

1. 教材 P₄₈ 图 2-32“泰姬陵”

提示: 泰姬陵是印度知名度最高的古迹之一, 在今印度距新德里 200 多千米外的北方邦的阿格拉(Agra)城内, 亚穆纳河的右侧。它是莫卧儿王朝第 5 代皇帝沙贾汗为了纪念他的爱妃蒙泰姬, 于 1632—1654 年在阿格拉建立的陵墓, 被誉为“完美建筑”。它由殿堂、钟楼、尖塔、水池等构成, 全部用纯白色大理石建筑, 用玻璃、玛瑙镶嵌, 绚丽夺目, 美丽无比。它有极高的艺术价值, 是伊斯兰教建筑中的代表作。2007 年 7 月 7 日, 被评为世界八大奇迹之一。

2. 教材 P₅₁ 图 2-36“狮身人面像”

提示: 公元前 2610 年, 法老胡夫来这里巡视自己快要竣工的陵墓—金字塔。胡夫发现采石场上还留下一块巨石。胡夫当即命令石匠们, 按照他的脸型, 雕一座狮身人面像。石工们冒着酷暑, 一年又一年, 精雕细刻, 终于完成了它。像高 20 米, 长 57 米, 脸长 5 米, 头戴“奈姆斯”皇冠, 额上刻着“库伯拉”(即 Cobra; 眼镜蛇) 圣蛇浮雕, 下颌有帝王的标志——下垂的长须。一只耳朵, 有 2 米多长。不过比较可惜的是, 狮身人面像的鼻子由于自然风化破碎了。有人曾想过修缮, 但由于技术和修缮后的效果都不敢保证, 所以才是现在的样子。

3. 教材 P₅₁ 图“2-37 肯尼亚山国家公园”

提示: 肯尼亚山国家公园和自然森林位于肯尼亚东部, 距离首都内罗毕东北 193 千米处, 它横跨赤道, 距肯尼亚海岸 480 千米。包括肯尼亚山国家公园 71 500 公顷, 肯尼亚山自然森林 70 520 公顷。1949 年, 建立国家公园。1978 年 4 月, 成为联合国教科文组织人与生物圈规划的一个生态保护区, 从此得到国际公认。它在成立国家公园前已经是森林保护区。1997 年被列入《世界遗产名录》。

4. 教材 P₅₃ 图 2-40“科罗拉多大峡谷”

提示: 科罗拉多大峡谷是一处举世闻名的自然奇观, 位于美国西部亚利桑那州西北部的凯巴布高原上。由于科罗拉多河穿流其中, 故又名科罗拉多大峡谷。它是联合国教科文组织选为受保护的天然遗产之一。这种地形是由于侵蚀作用(下切和剥离)形成的。在侵蚀期间, 高原中比较坚硬的岩层构成河谷之间地区的保护帽, 而河谷里侵蚀作用活跃。这种结果造成了平台型大山或堡垒状小山。

课堂合作探究

探究, 解读重疑难点知识

探究点1 世界遗产

2016年7月17日,第40届联合国教科文组织世界遗产委员会会议在土耳其伊斯坦布尔闭幕,会议共审议通过了21处新增的世界遗产地。其中中国广西左江花山岩画艺术文化景观和湖北神农架获准列入世界遗产名录。截至目前,世界遗产地总数达1 052处,遍布世界165个国家。中国拥有的世界遗产项目达到50处。

|| 探究导引 ||

根据以上材料,分析探究:

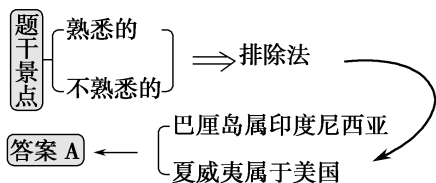
- 1.世界遗产可分为哪些类别?
- 2.列举世界一些国家和地区的著名旅游景观。

【例证1】巴厘岛、夏威夷群岛、大堡礁、加拉帕戈斯群岛等都是

世界著名的景点,它们所属的国家分别是 ()

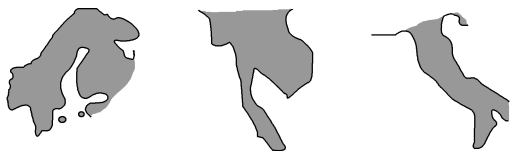
- A.印度尼西亚、美国、澳大利亚、厄瓜多尔
- B.印度尼西亚、澳大利亚、美国、厄瓜多尔
- C.澳大利亚、美国、印度尼西亚、厄瓜多尔
- D.澳大利亚、美国、厄瓜多尔、印度尼西亚

思维导图



答案 A

【练习1】读世界著名半岛示意图,三个半岛都有一些著名的旅游资源,依次排序正确的是 ()



- A.泰姬陵 仰光大金塔 古斗兽场
- B.观午夜太阳 麦加朝圣 乘“刚朵拉”游水城
- C.游峡湾 宗教建筑吴哥窟 维苏威火山
- D.狮身人面像 围海造田工程 科罗拉多大峡谷

探究点2 亚洲名景

亚洲是世界七大洲中面积最大的洲。跨越经纬度十分广,东西时差达11个小时。面积为4 400万平方千米。亚洲地跨寒、温、热三带,气候的基本特征是大陆性气候强烈,季风性气候典型,气候类型复杂。三大人类文明发祥地:亚洲的黄河—长江中下游地区、印度河流域和美索不达米亚平原,因其适宜的温带或热带气候,丰富的水源,肥沃的土地,分别成为人类文明的发祥地。这样一块神奇而古老的土地,旅游资源是极其丰富的。不要再等了,快背上行囊,踏上你的亚洲之旅吧!

|| 探究之源 ||

■ 世界遗产分类举例

分 类	世界(举例)	中国(举例)
文化遗产	孟菲斯及其墓地和金字塔(埃及)	敦煌莫高窟
自然遗产	美国科罗拉多大峡谷国家公园	云南三江并流
文化和自然遗产	比利牛斯—珀杜山(法国、西班牙)	泰山
文化景观遗产	阿波罗神庙(希腊)	庐山
人类口头和非物质文化遗产代表作	伯利兹:加利佛那语言	昆曲和古琴

【误区点拨】误认为世界遗产就是指世界自然遗产和世界文化遗产

这种看法不全面。世界遗产共分为五类,不仅有世界自然遗产和世界文化遗产,还有世界自然与文化双重遗产和文化景观遗产以及人类口头和非物质文化遗产代表作。

【特别提醒】为什么要保护世界遗产

- (1)世界遗产属于自然旅游资源和人文旅游资源中的顶级品牌,为旅游业的发展提供了极其珍贵的资源。
- (2)世界遗产中任何一种被毁坏、灭绝或者消失,都无法再造,不容替代。
- (3)随着社会的发展,人们越来越觉得各种珍贵遗产如果不加以保护,任其毁灭,将是人类无法挽回的重大损失。

探究导引

根据以上材料,分析探究:

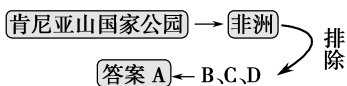
1.亚洲旅游资源丰富的原因有哪些?

2.亚洲景观的典型代表有哪些?

【例证 2】下列旅游景点中位于亚洲的是 ()


- ①马尔代夫 ②吴哥窟 ③富士山 ④肯尼亚山国家公园
 A.①②③ B.①②④
 C.①③④ D.②③④

思维导图



答案 A

【练习 2】读图甲和图乙,图甲中著名的古代建筑由白色大理石筑成。据此回答(1)~(2)题。



图甲



图乙

(1)大理石 ()

- A.由变质作用而形成 B.按成因属于岩浆岩
 C.因外力作用而形成 D.形成于地壳的硅镁层

(2)该建筑位于图乙中的 ()

- A.① B.② C.③ D.④

探究点 3 非洲名景

非洲大草原上无数种或凶猛或艳丽的动物吸引了世界各地热爱探险、热爱自然的人们。四大文明古国之一的埃及坐落于北部,拥有神秘的埃及金字塔和一望无垠的沙漠,从金字塔、法老王、沙漠中的骆驼商队,体验交织成的神秘风情;还有埃及的母亲河尼罗河,可徜徉其中观赏两岸风光。

探究导引

根据以上材料,分析探究:

1.非洲景观的典型代表有哪些?

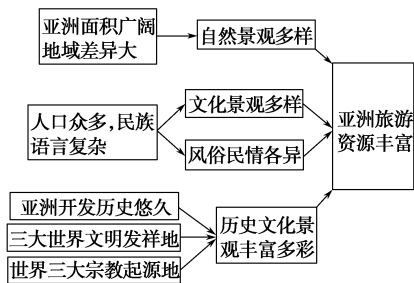
2.非洲名景特色鲜明的成因是什么?

【例证 3】下列有关非洲名胜的叙述,正确的是 ()

- A.非洲的热带草原面积仅次于南美洲,有迷人的自然生态景观
 B.“非洲之巅”乞力马扎罗山位于赤道附近,山顶有永久冰川,像顶着美丽的雪冠
 C.孟菲斯遗址位于尼罗河口,是世界文化遗产
 D.金字塔为罗马帝国军队侵占埃及时所建

探究之源

1.亚洲旅游资源丰富的成因可用下图归纳



2.亚洲旅游资源的典型代表(中国除外)

泰姬陵:印度首都新德里东南阿格拉城

吴哥窟:柬埔寨北部

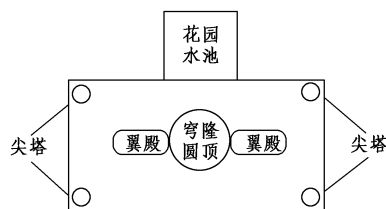
特洛伊考古遗址:土耳其恰纳莱南部,北临达达尼尔海峡

【方法技巧】

1.亚洲名景可用诗歌总结

三大宗教三古国,旅游资源特别多。
 泰姬陵墓清真寺,印度建筑真叫绝。
 吴哥古迹柬埔寨,庙宇恢宏没得说。
 特洛伊城土耳其,木马故事策略活。
 亚洲名景类型多,世界遗产多网罗。

2.转绘成平面图记忆泰姬陵的组成



探究之源

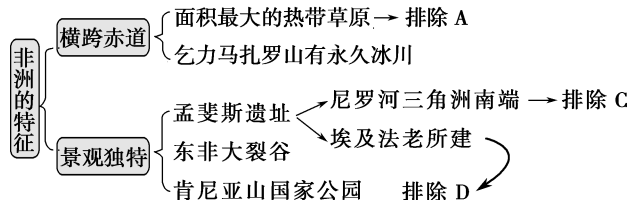
1.非洲景观的典型代表

东非大裂谷:从赞比西河口向北经东非高原、埃塞俄比亚高原、红海,直至死海、约旦河谷。

金字塔:尼罗河三角洲南端,今开罗南 25 千米的孟菲斯附近。

肯尼亚山国家公园:内罗毕东北 193 千米处,横跨赤道。

思维导图



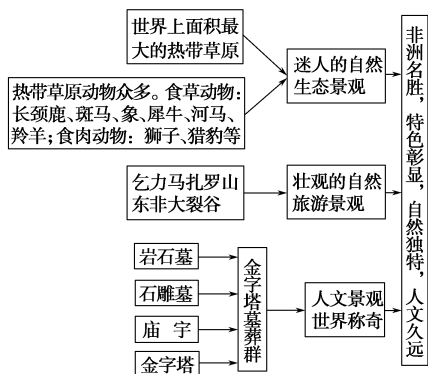
答案 B

【练习3】▶ 金字塔是埃及的象征,也是人类建筑史上的奇迹之一。埃及已发现的金字塔,大大小小有七八十座,它们是古代埃及帝王存放尸体的陵墓。读右图,完成下列问题。



- (1) 金字塔和狮身人面像位于尼罗河三角洲南端_____ (城市) 的周围,属于_____ (类型) 旅游资源。其作为旅游资源的突出特性是_____,判断理由是_____。
- (2) 金字塔的科学造型、巨大的石块工程,反映了古埃及人民伟大的_____ 文化;古陵墓的气势、风格、雕塑的造型和技艺,体现了古埃及人民灿烂的_____ 文化。
- (3) 狮身人面像已破损严重,面目全非,这主要是受地质作用中_____ (外力) 的影响,这种现象形成的自然原因是_____。

2. 非洲名胜,特色明显,可用下图归纳



【思维拓展】金字塔作为旅游景观所具有的特点

- ① 金字塔作为角锥体形状直接表示出对太阳的崇拜,象征的是刺向青天的太阳光芒。
- ② 埃及最有名的金字塔分布在首都开罗南面的吉萨地区,其余的分布在南面的尼罗河谷地。
- ③ 吉萨地区的三大金字塔,即胡夫金字塔、哈夫拉金字塔、门卡拉金字塔,是祖孙三代法老的陵墓。它们与周围的一系列小金字塔,组成了一个金字塔群。其中,胡夫金字塔最大,建造历史最悠久;哈夫拉金字塔比胡夫金字塔小;门卡拉金字塔是三大金字塔中最小的一个。

探究点4 欧洲旅游景区

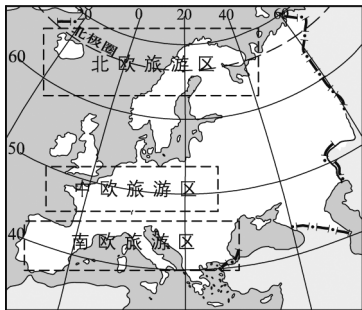
欧罗巴风情,妖娆多姿。欧洲人文荟萃,景色千姿百态。法国花都香醉痴迷的夜景,德国如入仙境的古堡和黑森林,地中海美女如云的蔚蓝海岸,意大利壮观雄伟的古斗兽场和威尼斯贡多拉上的歌声,荷兰港口灯红酒绿的花花世界,西班牙巴塞罗那令人惊叹的世界文化遗产建筑;阳光、海滩和情人的希腊爱琴海,音乐国度奥地利蓝色的多瑙河,阿尔卑斯山亮丽雪景照耀下的瑞士,古典和现代融合的大不列颠英伦风情……都是欧洲之行的看点。

探究导引

根据以上材料,分析探究:

欧洲的旅游资源主要分布在哪里?

【例证4】▶ 欧洲拥有丰富的旅游资源,是世界上最活跃的旅游地区之一,按自然旅游风光,大致可分为三大旅游区,即北欧、中欧和南欧旅游区。结合下图,回答问题。

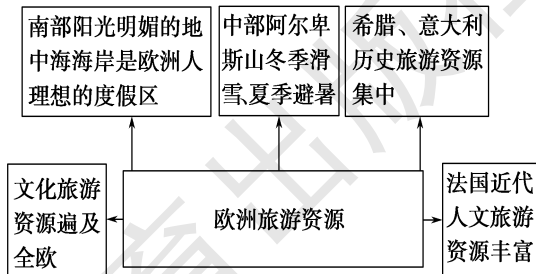


- (1) 在欧洲范围内,欧洲人理想的度假区是哪里? 为什么?
- (2) 如果游客想欣赏古文化景观,应主要去_____ 旅游区。

探究之源

欧洲旅游资源的种类及分布

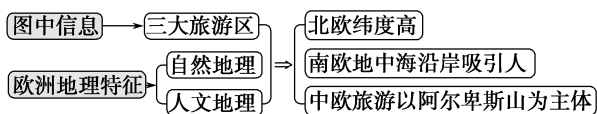
欧洲有丰富的旅游资源,是世界上最活跃的旅游区。欧洲旅游资源的种类及分布可用下图表示:



【思维拓展】结合气候类型分析自然旅游资源

- 南欧→地中海气候→夏季阳光明媚→对欧洲旅游者吸引力大。
阿尔卑斯山→年轻高大的褶皱山系→山地气候→冰川地貌广布→自然风光迷人。
北欧北极圈以北→极地气候→自然风光独特→吸引探险旅游。

思维导图



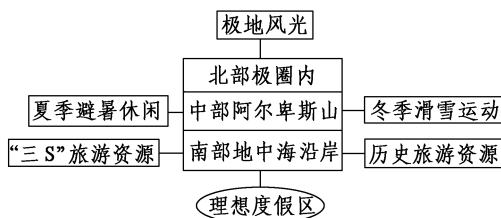
答案 (1)南欧旅游区中的地中海海岸。因为这里是地中海气候,夏季降水少,晴天多,阳光明媚,加之又有广阔的沙滩,以及设施齐全的旅游接待服务,因此成为欧洲人理想的度假区。(2)中欧和南欧

【练习4】巴黎的古建筑多沿塞纳河两岸分布,原因是 ()

- ①交通运输便利,有利于获得建筑材料
- ②沿河建设古建筑,欣赏价值高
- ③使人文景观临河分布,达到自然与人文的和谐统一
- ④当时历史条件下的交通运输主要是水运

A.①② B.②③ C.①④ D.③④

【方法技巧】运用图示法记忆欧洲旅游资源的特点和分布



【特别提醒】欧洲是世界上最活跃的旅游区的原因

- (1)欧洲人口众多,经济发达,人均收入水平高,形成世界最大的旅游客源地。
- (2)欧洲拥有丰富的旅游资源。
- (3)欧洲地形障碍少,交通发达。

五分钟小练习

练习,课堂及时巩固提升

一、选择题

读下列四幅景观图,回答1~3题。



①



②



③



④

1.四幅景观图中,属于非洲大陆的是 ()

- A.①② B.②③
- C.①④ D.②④

2.下列关于景观图③的说法,正确的是 ()

- A.它位于法国境内
- B.是欧洲著名的文化景观旅游资源
- C.是世界著名的自然遗产
- D.该石柱是由花岗岩雕成的

3.下列关于景观图④的说法,正确的是 ()

- A.该景观位于南美大陆上
- B.该景观所在的岛屿位于大西洋中

- C.该景观所在的岛屿是一个火山岛
 - D.该景观所在的岛屿是一个大陆岛
- 4.不属于亚洲历史文化景观丰富多彩的原因是 ()
- A.亚洲开发历史悠久 B.三大世界文明发祥地
 - C.亚洲面积广阔 D.世界三大宗教的发源地
- 5.下列有关澳大利亚大堡礁的说法,不正确的是 ()
- A.大堡礁地处热带季风气候区,高温多雨的气候为珊瑚虫生存提供了良好的气候条件
 - B.海水较浅,阳光充足,饵料丰富,有利于珊瑚虫生长
 - C.珊瑚礁的大量堆积与当地不断下沉的地质条件有关
 - D.热带风光、白沙碧水、土著部落更提高了大堡礁的游览价值

二、综合题

6.读图,回答下列问题。

- (1)该国的首都是_____ , 其有“世界花都”之称。
- (2)该国首都的兴起与发展与_____ 河密切相关,该国人把这条河称作“母亲河”。



- (3)下面三幅图为该国首都的著名景点,①是_____ , ②是_____ , ③是_____ 。



①



②



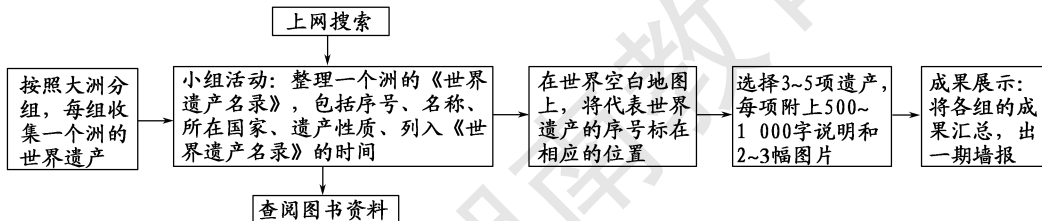
③

教材活动指导

指导,解答活动思维过程

教材 P₅₇ 活动

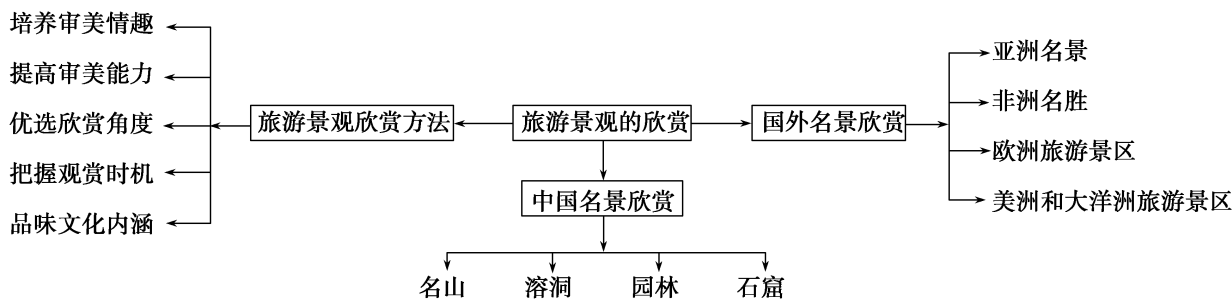
提示:该活动是一个研究性学习课题,完成的步骤如下图所示:



提示 课后完成《课时作业》第 95 页

本章归纳整合

知识构建

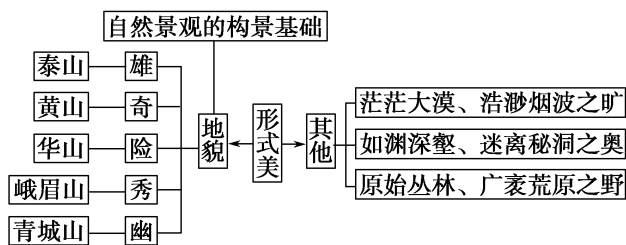


专题整合

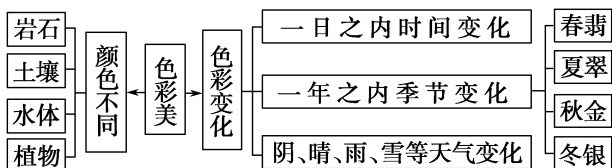
专题1 旅游景观的审美形态分析

1. 自然美的表现

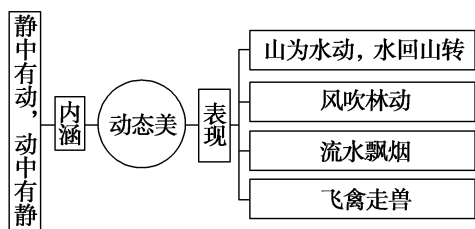
(1) 形象美



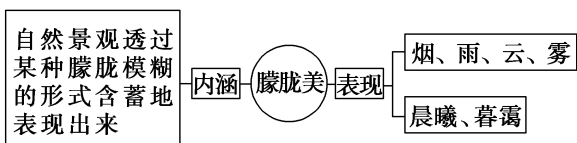
(2) 色彩美



(3) 动态美



(4) 朦胧美



【特点提醒】 地貌景观在自然景观美的形成中处于重要地位,大多数自然景观美都离不开地貌构景的作用,地貌景观决定了自然界的总体形态和空间形式。

2. 人工美的主要类型

类型	美感形成
古典园林美	园林是建筑和古遗迹与艺术的结合,它追求的是诗情画意的美感
古建筑和古遗迹美	通过立体和平面结构图,运用线、面、体在空间展开运动的过程,给人以视觉影响而获得的美感
民俗风情美	不同的国家和地区,由于历史条件、地理环境的不同,所表现出来的观念、文化、民俗和风情也是迥然不同的
雕塑艺术美	雕塑表现出纪念性、象征性、立体性等关系特征

【例1】专家认为,欣赏旅游景观,尤其需要的是提升感受力和理解力。据此回答(1)~(2)题。

“马穿山径菊初黄,信马悠悠野兴长。万壑有声含晚籁,数峰无语立斜阳。棠梨叶落胭脂色,荞麦花开白雪香。何事吟余忽惆怅,村桥原树似吾乡。”这是宋朝诗人王禹偁谪居陕西时,描述山村风景的《村行》。

(1)下面是四位同学对《村行》诗的评论,哪些同学的说法是正确的 ()

甲:“马穿山径菊初黄”中的“菊初黄”同时包含了由视觉、听觉感受到的景象;乙:“万壑有声含晚籁”中的“万壑”指的是遍布的黄土沟壑;丙:“荞麦花开白雪香”指的由视觉、嗅觉感受到的春天景象;丁:“村桥原树似吾乡”是由视觉看到的景物,引发的移情想象欣赏。

A.甲和乙 B.甲和丙 C.乙和丁 D.丙和丁

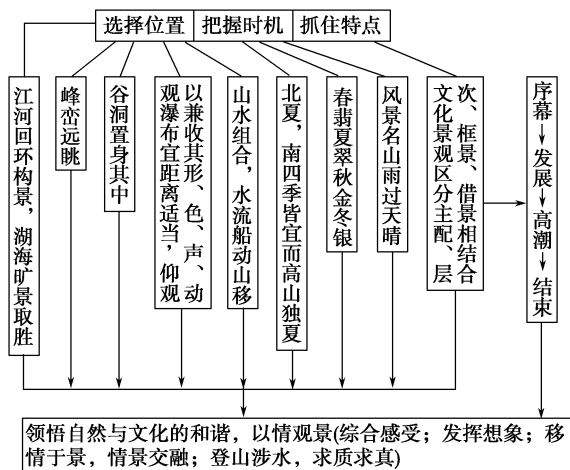
(2)下列对地貌旅游资源所构成的岩石类型的表述,正确的是 ()

- A.火山地貌景观的岩石构成是花岗岩
B.丹霞地貌景观的岩石构成是流纹岩
C.岩溶地貌景观的岩石构成是可溶性的沉积岩
D.球状风化形成的山石景观的岩石构成是砂岩


解析 (1)本题是对黄土高原地貌、旅游景观欣赏及季节判断的考查。甲项“菊初黄”只包含了视觉,没有包含听觉感受,故该项错误;诗人谪居的陕西位于黄土高原,其地表因流水侵蚀而呈千沟万壑的形态,故乙项正确;丙项“荞麦花开白雪香”,包含视觉和嗅觉感受,但结合“马穿山径菊初黄”可判断,菊花开在秋季,故丙项“荞麦花开白雪香”应为秋季景象而非春季景色,丙项错误;丁项“村桥原树似吾乡”由看而想,该项正确。故本题选C。(2)本题是对地貌及岩石的考查。火山地貌的岩石构成主要是喷出岩,故A项错误;丹霞地貌是红色砂岩经流水侵蚀而成的,而流纹岩属于岩浆岩,故B项错误;岩溶地貌是可溶性的沉积岩——石灰岩经过流水作用而形成的,故C项正确;花岗岩常被风化成球状,故D项错误。

答案 (1)C (2)C


专题2 运用综合思维研究旅游景观的欣赏过程



【例2】读下面一组图片,回答问题。



A. 庐山瀑布



B. 女神司春



C. 苏州园林的太湖石



D. 黄山云海

(1)为了达到最佳欣赏效果,欣赏庐山瀑布时,需要_____,以兼听其形、声、色、动等美感。苏东坡观庐山时曾写下了千古名句:“_____,_____。”

(2)要取得最佳欣赏效果,在游览“女神司春”景观时,如何才能欣赏到这些岩石、地貌的酷似造型?形成“女神司春”地貌景观的外力作用主要是_____。

(3)苏州园林中的太湖石是一种多孔而玲珑剔透的石灰岩,“乃太湖石骨,浪击波涤,年久孔穴自生”。写出太湖石受“浪击波涤”的方程式_____。“太湖石置于园林中,犹如三山五岳,百洞千壑”,表明欣赏太湖石宜采用_____的观赏方法。

(4)要想观赏到黄山的云海,最佳的观赏季节为_____,最佳的观赏天气是_____。

答案 (1)在适当距离仰视 横看成岭侧成峰 远近高低各不同

(2)选择特定的观赏位置。风化、侵蚀

(3) $\text{CaCO}_3 + \text{H}_2\text{O} + \text{CO}_2 = \text{Ca}(\text{HCO}_3)_2$ 发挥想象

(4)夏季 雨过天晴

提示 课后完成《自主检测》第 97 页



第三章 旅游规划

第一节 旅游规划概述

情景导入



情趣阅读 探源知新

人民网北京 2016 年 3 月 23 日电 据国家旅游局网站消息,经国务院同意,“十三五”全国旅游业发展规划纳入国家“十三五”重点专项规划,这在我国旅游业发展历史上尚属首次。国家旅游局将把编制好“十三五”旅游业发展规划作为当前的重点任务,使“十三五”旅游业发展规划成为既有前瞻性、指导性又有可操作性的规划。努力建成全面小康型旅游大国,为世界旅游强国建设奠定坚实基础。

尝试探究:制定旅游规划的重要目的是什么?

提示:制定旅游规划的重要目的,是在科学认识区域旅游资源的前提下,提出旅游景区的开发思路,合理安排建设项目,在发展旅游业的同时,协调处理好旅游开发与经济发展的关系。

目标导航

了解

旅游规划的作用和类型。

掌握

旅游业发展对社会经济发展、文化交流与繁荣等方面的重要促进作用。

应用

通过对图表资料的阅读、分析,认识旅游业发展对社会、经济、文化发展的促进作用;通过典型案例的分析,认识旅游规划的作用和类型。

课前自主学习

自主,新课标理念的精髓

基础梳理

一、发展旅游业的意义

- 1.增加外汇收入:旅游业的收入是_____收入的重要组成部分。
- 2.回笼_____,加速资金周转。
- 3.提供_____机会。
- 4.加速_____产业发展,改善区域产业结构。
- 5.促进区域文化交流:旅游是一定的_____的产物。
- 6.有利于_____。

二、旅游规划的作用

- 1.规划制订的作用
 - (1)能够对景区发展目标进行_____,合理安排各种建设项目。
 - (2)协调处理好旅游_____与_____保护的关系。
 - (3)协调景区内部各建设项目之间的关系。
- 2.规划实施的作用
 - (1)有助于提升旅游区域的_____。
 - (2)有利于景观资源的保护和旅游景区的_____发展。

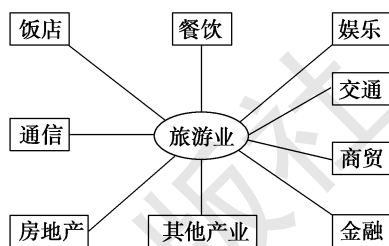
三、旅游规划的类型

1.旅游发展规划

- (1)概念:指以行政地域或特定区域为规划对象的_____规划或旅游_____规划。
- (2)主要内容:_____,发展目标、空间布局、_____,开发思路、产业政策、重点项目、开发时序等。

图表解读

旅游相关的产业



【点睛之笔】旅游规划应坚持哪些原则

(1)以人为本的原则:旅游是以满足人的精神和文化需求为目标,注重人的生活质量的提高,旅游规划应“以人为本”。

(2)形象制胜原则:旅游规划区要突出规划区的旅游特色,在规划布局中强化各个旅游景区的特殊性,达到“人无我有,人有我优”的效果。

(3)类型:_____规划、近期规划、_____规划、重点旅游区域发展规划等。

(4)一般规划年限:5年以上。

2.旅游开发建设规划

(1)概念:指具体_____ (如旅游度假区、风景旅游区等)的开发建设规划。

(2)类型:概念性规划、_____、控制性和修建性详细规划。

(3)时间跨度:一般为_____,也有10年或15年的中长期规划。

(3)综合效益原则:旅游规划在注重经济效益的同时,还必须注重社会、环境效益,实现社会、经济、环境三方面可持续发展,才能确保达到整个地区的发展目标。

课堂合作探究

探究, 解读重疑难点知识

探究点 1 发展旅游业的意义

2016年3月28日,湖南省人民政府正式印发《湖南省旅游业“十三五”发展规划纲要》(简称《规划》)。根据《规划》,到2020年,湖南将实现旅游业总收入9000亿元,力争突破1万亿元,全省接待游客达到9亿人次;全省旅游业对GDP的综合贡献率达到12%以上;旅游直接就业人数达到200万人以上,带动就业人数达到600万人以上;旅游脱贫人数达到100万人;新改建旅游通景公路2000千米,新改建旅游厕所5000个,省—市—县—点四级游客咨询服务站点达到500个以上。

探究导引

根据以上材料,分析探究:

发展旅游业的意义体现在哪些方面?

【例证 1】▶ 2015年红色旅游综合收入达到2611.74亿元,取得了显著的社会效益和经济效益。2016年是“十三五”开局之年。红色旅游将进一步释放教育功能、社会效益、促进消费、产业关联等综合效益,力争到2020年全国红色旅游年接待人数突破15亿人次。据此回答下列问题。

(1)请将下列主题形象的序号填入表中相应的位置。

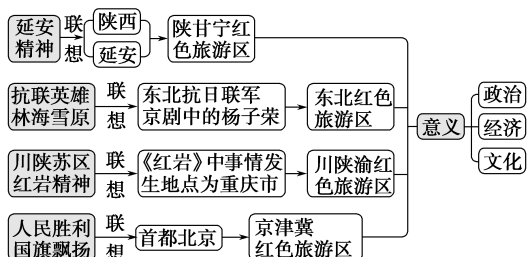
①延安精神,革命圣地 ②抗联英雄,林海雪原 ③川陕苏区,红岩精神 ④人民胜利,国旗飘扬

红色旅游 区名称	京津冀红色旅游区	陕甘宁红色旅游区	大别山红色旅游区	川陕渝红色旅游区	东北红色旅游区
主题形象			千里跃进,将军故乡		

(2)红色旅游不同于一般的观光旅游,具有重要的政治、经济和文化意义。请在下表中作简要表述。

政治意义	
经济意义	
文化意义	

思维导图



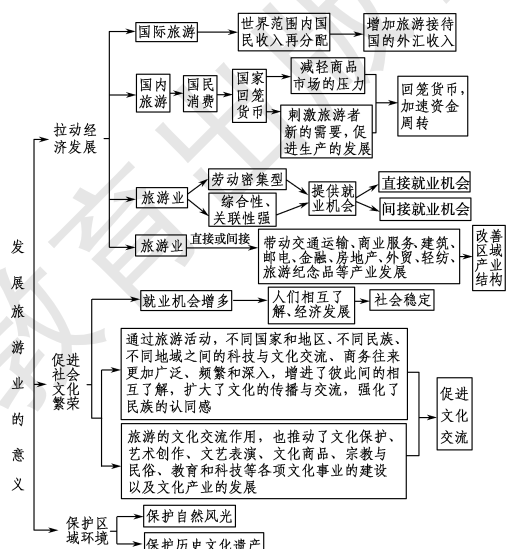
答案 (1)④ ① ③ ② (2)使旅游者接受爱国主义和革命传统教育 带动旅游业及相关产业发展,增加当地人民的经济收入 促进各地对革命遗迹、遗址和文物的保护,推动地方的文化建设

探究之源

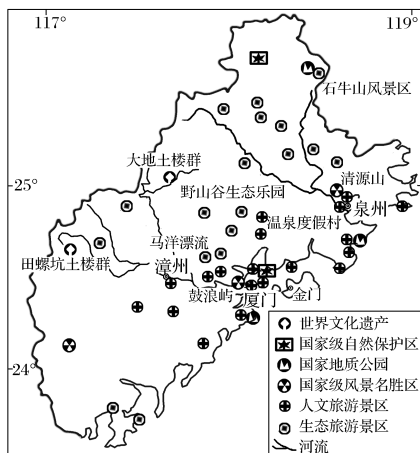
发展旅游业的意义

意义	原因
增加外汇收入	旅游活动是一项消费活动
回笼货币,加速资金周转	
提供就业机会	旅游业基本上是劳动密集型的服务业
加速第三产业发展,改善区域产业结构	旅游业对生态环境的破坏比较小
促进区域文化交流	旅游活动是异地性的物质文化生活
有利于社会稳定	扩大就业、增进了解

【方法技巧】运用关联图理解发展旅游业的意义

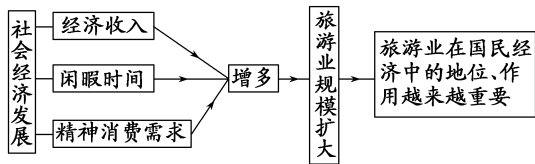


【练习1】▶下图是我国厦—漳—泉(厦门、漳州、泉州)区域旅游景区与重要旅游资源分布示意图。现有旅游线路L1(厦门—马洋漂流—温泉度假村—野山谷生态乐园—厦门)和旅游线路L2(厦门—鼓浪屿—清源山—大地土楼群—厦门)。回答下列问题。



厦—漳—泉西部土楼群发展旅游的意义是_____、_____、_____。

【思维拓展】旅游业与社会经济发展的关系



探究点2 旅游规划的作用与类型

随着国家“一带一路”战略的实施,丝绸之路旅游迎来更大的生机。新疆作为丝路旅游的一个重要节点,要让丝绸之路沿线旅游发展成为中国旅游业新的增长极……新疆旅游要在做好《丝绸之路经济带旅游集散中心规划》《新疆丝绸之路文化和民族风情旅游目的地规划》和《自治区旅游业“十三五”发展规划》编制工作的同时,制定丝路旅游品牌推广和国际营销合作策略,运用微信、微博等现代网络媒体,加强国际旅游宣传促销。

探究导引

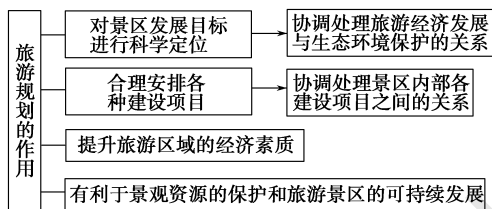
根据以上材料,分析探究:

1. 旅游规划的作用有哪些?

2. 旅游规划包括哪些类型?

探究之源

1. 旅游规划的作用



【误区警示】旅游规划的目的是为了加快旅游资源开发,促进旅游业的迅速发展。

这种观点是错误的。人们制订不同类型的旅游规划,目的在于确定旅游区的发展目标,合理安排各种旅游项目,改善旅游区的服务质量,提高旅游区的文化品位,保护旅游区的生态环境,并协调旅游开发与区域社会经济发展的关系。

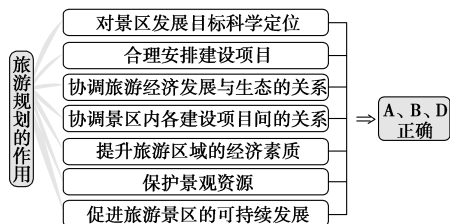
2. 旅游规划的类型

类型	旅游开发规划	旅游开发建设规划
规划对象	行政区域或特定区域	具体旅游区(如旅游度假区、风景旅游区等)
规划内容	产业和经济发展	开发建设规划
分类	概念性规划、近期规划、中长期规划、重点旅游区发展规划	概念性规划、总体规划、控制性和修建性详细规划

【例证2】▶下列关于旅游规划作用的叙述中,错误的是()

- A. 对旅游地的建设和发展有重要意义
- B. 使旅游业发展的方向和目标更加明确
- C. 可以有效引导旅游发展,但使投资风险增大
- D. 旅游要发展,规划要先行

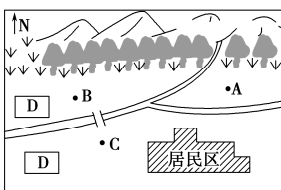
思维导图



答案 C

【练习2】读图，回答下列问题。

某城镇位于河边，该河上游水深流急，北有高山，森林茂密。D为工业区，当地盛行东北风。



(1)该城镇要建一个大型园林公园，A、B、C三处中，你认为选址在哪处较好？_____处。理由是_____。

(2)修建园林时，在河边修建亭、台、榭等的目的是_____。

【方法技巧】如何区别旅游发展规划和旅游开发建设规划

旅游发展规划是旅游业发展的纲领和蓝图，是促进旅游业健康发展的重要条件。旅游开发建设规划是对旅游发展规划的进一步落实与细化，规划更为具体，实践性和操作性也更强。

项目	旅游发展规划	旅游开发建设规划
对象	行政地域或特定区域	具体旅游区(如旅游度假区、风景旅游区等)
目的	针对区域旅游的产业定位、发展目标、空间布局、市场培育、开发思路、产业政策、重点项目、开发时序等重大问题，提出战略性、系统性、前瞻性和科学性的发展规划	对具体旅游区的开发建设进行具体的安排和设计
规划年限	一般为5年以上	一般为3~5年
差别	旅游开发建设规划更为具体，实践性和可操作性也更强	

五分钟小练习

练习，课堂及时巩固提升

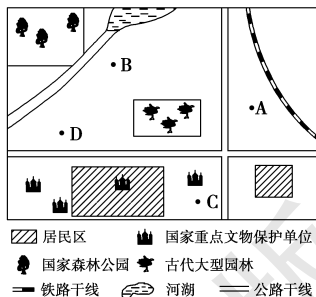
一、选择题

- 关于旅游业经济职能的正确叙述是 ()
 - 旅游业在国民经济中发挥着主导地位和作用
 - 有了旅游业的发展，才有国民经济其他部门的发展
 - 有利于国家间、地区间的文化交流
 - 旅游业的发展能带动酒店、餐饮、交通运输等第三产业的发展
- “旅游一动百业兴”体现旅游活动的作用是 ()
 - 满足人类的需求
 - 促进经济的发展
 - 扩大交流
 - 保护环境
- 旅游规划的作用包括 ()
 - 保持旅游可持续发展，使旅游业不仅造福当代人也造福子孙后代
 - 寻找发展旅游业的各种机会及途径
 - 为了进一步适应人们旅游愿望扩大的要求
 - 有助于一个地区的形象定位，保持该地区的优势，创造该地区的标志物
 - 避免旅游业的消极影响
 - ①②⑤
 - ①②③④⑤
 - ①②④
 - ①⑤
- 有关旅游发展规划的叙述，正确的是 ()
 - 是指具体旅游区的开发建设规划
 - 是具有战略性、系统性、前瞻性和科学性的发展规划
 - 是旅游开发建设规划的具体落实
 - 规划年限一般为3~5年
- 旅游景区规划是对旅游规划的进一步落实与细化，下列景区规划步骤合理的是 ()
 - 对旅游六要素进行具体安排→对旅游资源进行评估分析→对景区发展总体定位
 - 对景区发展总体定位→对旅游六要素具体安排→对旅游开发条件总体评价

- 对景区发展总体定位→对旅游开发条件总体评价→对旅游六要素进行具体安排
- 对旅游开发条件总体评估分析→对景区发展总体定位→对旅游六要素具体安排

二、综合题

6. 读华北平原某城市平面图，回答下列问题。



(1)该城市吸引游客的旅游资源有哪些?

(2)发展旅游业对该城市的经济发展有哪些作用?

(3)为进一步促进旅游业发展,该城市制订了旅游发展3年规划,该旅游规划属于什么类型?有什么特点?

(4)该城市拟建一处疗养院,你认为A、B、C、D四处中最适宜建疗养院的是何处?为什么?

教材活动指导

指导,解答活动思维过程

教材 P₆₂ 活动

提示:1.材料中所叙述的观点是成立的。例如,在促进经济发展方面,可通过下表进行分析。

国家	国际旅游收入与国内生产总值之比/%	国际旅游收入与出口总额之比/%	国际旅游业就业人数与就业总人数之比/%
西班牙	4.2	29.8	10.0
意大利	2.0	12.6	2.8
希腊	4.9	40.0	5.6
瑞士	2.9	11.5	7.2
奥地利	6.7	29.4	8.9
英国	1.4	7.4	2.4
法国	1.9	10.9	2.9
泰国	3.6	16.3	8.0

(1)从表中数字可以看出,国际旅游收入占国内生产总值的比重,最高的是奥地利(6.7%),最低的是英国(1.4%);国际旅游收入占出口总额的比重,最高的是希腊(40.0%),最低的是英国(7.4%);国际旅游业就业人数占就业总人数的比重,最高的是西班牙(10.0%),最低的是英国(2.4%)。

(2)上述表格反映出这样一个事实:仅国际旅游业(未包括国内旅游业)就已经成为一些国家重要的经济支柱。事实上,在1987年时,旅游业就已成为世界上最大的产业。

旅游业的发展造成的不利影响,可通过旅游开发对世界遗产造成的破坏加以说明。

《濒危世界遗产目录》中列出了8条濒危原因,其中的第三条就是“城市或旅游业迅速发展计划造成的消失危险”。耶路撒冷古城及其城墙第一个被列入《濒危世界遗产名录》,这个犹太教、基督教和伊斯兰教三大宗教的圣城弥足珍贵,但是,无度的城市发展和观光旅游,导致城市古建筑不断受到侵扰和破坏。

目前,我国的长城在旅游开发过程中也存在着利用不当的问题。例如,某些地方对长城的修缮是修旧如新,拆除原有的砖石墙体,用水泥和石块另修一段新的长城;更有甚者,有的地方擅自扒开长城的豁口,随意丢弃拆下的城砖、碑刻、石炮、石雷等重要文物,在豁口两端重修“长城”。

2.本活动为开放式题目,回答时,要结合自身了解的景区分析其发展旅游业的成功做法。下面以浙江省上虞市英台故里——祝家庄风情旅游区的发展为例加以说明。

英台故里——祝家庄风情旅游区项目位于上虞市郊洪山湖畔,距市区2.5千米。东起凤亭山山脊至山脚,南到大顶尖山山脊至凤亭山山脚,西到大顶尖山山脊至小顶尖山山脚,北至百丰公路,景区控制面积近333.3公顷。开发建设区域面积约163.3公顷,其中湖面约为16.7公顷。

经过多次现场调研,多层面的访谈,规划文本以建设浙江生态大省、文化大省和旅游大省的战略部署为重点,以上虞市委、市政府有关发展旅游业的指示精神为依据,以有效整合上虞旅游资源为中心,力求实现“抓同样的梁祝主题,做不一样的英台故里文章”的规划目标。

未来的英台故里将弘扬“梁祝”精神,以文化为灵魂,把民俗民风提升到人类共同的理想追求;把现有自然生态融合为高品位、高起点的人文生态;把单一的民间故事主题展现为多样性、综合性的文化休闲旅游产品,使之成为宁绍平原乃至长江三角洲的区域文化中心和休闲度假旅游目的地。

风情旅游区内的项目设置以“爱情”和“自由”为主题,以“英台故里”为表现形式,以江南水乡特色为主要建筑风格,力求建设成为自然、古朴、优雅,而不失现代动感的休闲空间;通过“梁祝”唯美爱情故事的演绎,成为一个洋溢着美好爱情喜庆氛围的休闲旅游区。

本景区的总体的形象定位:“东方爱情圣地——英台故里祝家庄”。

旅游区总体形象口号:“百世流芳的经典,永恒爱情的见证”“寻访祝家庄,畅游爱河中”。

提示 课后完成《课时作业》第101页

第二节 旅游资源评价

情景导入

情趣阅读 探源知新

首次环巢湖旅游资源普查发现,环巢湖地区旅游资源具有以下特点:

(1)总量可观,品种丰富,类型齐全,产品组合性强。现拥有旅游资源 159 个,其中自然旅游资源 49 个,人文与旅游资源 68 个,文化节庆及民俗活动 27 个,主要旅游商品 15 个,是安徽省旅游资源最丰富的地区之一。(2)规格高、品质优。8 个特品级旅游资源,80 个优良级旅游资源。(3)空间分布相对均衡,东、西、南、北各具特色,具备资源互补、联动开发的条件。

尝试探究:上述材料体现了旅游资源评价的哪几方面内容?

提示:①对旅游资源进行全面分析和综合评价;

②评价资源的旅游价值和环境价值;

③旅游资源开发条件评价。

目标导航

了解

旅游资源评价的基本内容。

掌握

旅游活动对地理环境的影响及旅游环境保护。

应用

结合实例,全面分析、综合评价旅游资源,并说出旅游与景区建设对地理环境及旅游开发过程中的环境保护措施。

课前自主学习

自主,新课标理念的精髓

基础梳理

一、旅游活动对地理环境的影响

- 1.水资源_____受到破坏:水资源_____和_____是发展旅游业时必须重视的问题。
- 2._____加重:_____是造成景区大气污染的重要原因。
- 3._____的污染:主要是由于_____和_____的随意丢弃。
- 4.珍贵_____面临威胁:我国有许多宝贵的_____和_____正面临着旅游业的_____破坏。
- 5.良性_____受到破坏。
- 6._____遭到毁损。

二、旅游资源评价

- 1.对旅游资源进行全面分析和_____。
 - (1)前提:正确认识_____。
 - (2)关键:对旅游资源的_____进行评价。
 - (3)内容
 - ①分析其_____状况和由_____组合而成的综合状况。
 - ②确定_____与_____因素。
 - ③对景区开发进行_____。
- 2.评价资源的_____和_____。
旅游资源的价值包括:经济价值、_____和_____。
- 3.旅游资源_____评价。
- 4.客源市场评估
 - (1)客源主体与旅游资源的_____。
 - (2)旅游资源对客源市场的_____。
 - (3)旅游_____与客源规模的关系。
 - (4)旅游区承载能力与客源_____的关系。
 - (5)交通运输能力及景点_____与客源规模的关系等。

图表解读

1.教材 P₆₅图 3-1“苏州周庄”

提示:周庄是中国江南一个具有 900 多年历史的水乡古镇,而正式定名为周庄镇,却是在清康熙初年。若要在我国选一个最具代表性的水乡古镇,毫无疑问,她就是“中国第一水乡”周庄。千年历史沧桑和浓郁吴地文化孕育的周庄,以其灵秀的水乡风貌、独特的人文景观、质朴的民俗风情,成为东方文化的瑰宝。作为中国优秀传统文化杰出代表的周庄,它成为吴地文化的摇篮和江南水乡的典范。

2.教材 P₆₆图 3-2“某景区固体废弃物污染”

提示:固体废弃物就是一般所说的垃圾,是人类新陈代谢的排泄物和消费品消费后的废弃物品。目前,旅游景区居民与游客的生活垃圾和管理中产生的垃圾,以及景区施工生产排出的固体废弃物,数量急剧增加,成分日益复杂。垃圾若不及时清除,必然污染空气,对土壤、水体都会造成严重污染,从而导致蚊蝇滋生、细菌繁殖,使疾病迅速传播,危害人体健康,影响景区游人游览的质量。

3.教材 P₆₈图 3-3“河北省雾灵山远眺”

提示:河北雾灵山国家级自然保护区位于河北省兴隆县北部,主峰雾灵山海拔 2 118 米,被称为“京东第一高峰”。该保护区森林覆盖率高达 83%,属温带大陆季风型山地气候,具有雨热同季、冬长夏短、四季分明、夏季凉爽、昼夜温差大的特征。地形地貌的复杂性,决定了气候的多样性。“山下飘桃花,山上飞雪花。”“山下阴雨连绵,山上阳光明媚。”“素有三里不同天,一山有三季”之称。年平均温度 7.6℃,最热月平均气温 17.6℃,是华北“热海”中的“避暑凉岛”。该保护区以森林景观为主体,以苍山奇峰为骨架,以清溪碧潭为脉络,人文古迹点缀其中,构成了一幅静态景观和动态景观相协调、自然景观与人文景观浑然一体、风格独特的山水画卷,成为护卫京、津的绿色屏障和重要的水源供给地。

课堂合作探究

探究, 解读重疑难点知识

探究点 1 旅游活动对地理环境的影响

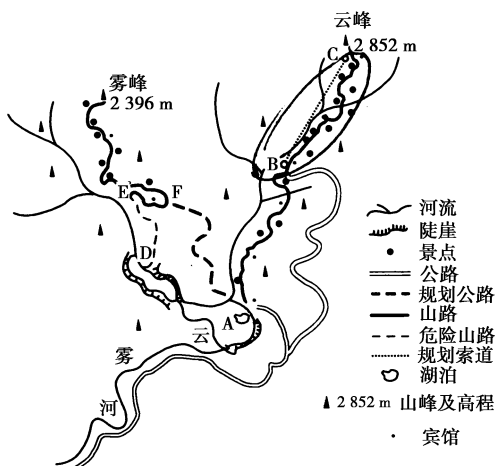
2015年4月19日,山东滨州泰皇河畔荷兰风情村内百余万株各色郁金香陆续绽放,大片的郁金香花田、原汁原味的荷兰风车,令人仿佛置身于荷兰小镇,浓浓的异域风情惹人迷醉。但令人大煞风景的是,上百名“踩花大盗”不顾公园警示牌的提醒,成群结队,跨越护栏,涌进郁金香种植带内,游玩拍照,大肆践踏花草。景区道路、绿化带成了游客乱抛垃圾的“重灾区”,喝完的饮料瓶、用过的手纸、吃剩下的食品包装袋,都让公园的美丽大打折扣。

探究导引

根据以上材料,分析探究:

旅游活动对地理环境的影响有哪些?

【例证 1】 云雾山为亚热带丘陵地区一座佛教名山,山清水秀,云雾缭绕,是著名的旅游胜地。下图为其景区示意图。读图,回答问题。



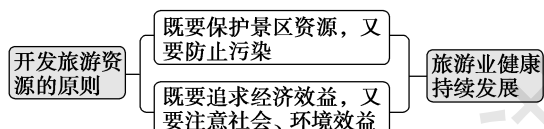
(1) 景区管理处欲在 A 处填湖造地, 修建一个大型野味餐馆, 突出山林地区的饮食特色。你对此的意见及理由是_____。

(2) 景区管理处欲在云峰主要景点上空即 B、C 两地建一条索道, 以方便游客。你对此的意见及理由是_____。

(3) 由于雾峰景区交通不便, 又有 D、E 之间一段危险山路, 游人一直稀少。景点管理处规划了一条 A、F 之间的盘山公路, 为此需要砍伐大批千年古树, 你对此的意见及理由是_____。你对解决雾峰景区交通问题的更好建议是_____。

(4) 旅游旺季, 云峰景区山路上游人络绎不绝, 早已超过了其环境承载量, 从管理角度谈谈你的建议。_____。

思维导图



探究之源

旅游活动对地理环境的影响

影响	原因(或污染源)	后果(或危害)
水资源良性平衡受到破坏	旅游业大量用水, 废水过量排放	水资源不足和水体污染
大气污染加重	旅游交通、大量游客的呼吸、餐饮烹饪的废气排放	景区植被、野生动物和文物古迹受到不利影响
固体废弃物污染	生活用品、食品包装的随意丢弃	旅游环境和景区形象受损
珍贵自然遗产面临威胁	过多的开发活动和人为干预	地理景观和文物古迹面临着旅游业的开发性破坏
良性生态平衡受到破坏	大规模的旅游开发和高强度的旅游活动	原始生态平衡被打破, 危及旅游业的可持续发展
文物古迹遭到毁损	过度侵扰和不文明的旅游行为	文物古迹受损

【方法技巧】图表法记忆旅游活动对地理环境的影响

旅游环境问题	成因	危害	
环境污染	水质污染	旅游设施排放污水、水上交通工具产生油污染、废电池和杀虫剂等污染	危害旅游地居民和旅游者自身, 破坏当地自然环境
	大气污染	旅游交通的发展和能源的使用, 建设不当, 空气中的尘土、寺庙等的香火烟雾	
	固体废弃物污染	旅游者乱扔垃圾	
	噪声污染	旅游者和旅游车辆产生噪声, 游乐设施产生噪声	
	视觉污染	旅游设施规划布局不当或设计、建设不合理	

续表

旅游环境问题		成因	危害
环境破坏	良性生态平衡受到破坏	旅游景区的开发、高强度的旅游活动,破坏了当地的生态系统和生态平衡	景区环境和生态平衡的破坏危及旅游业的持续发展
	珍贵自然遗产面临威胁	过多的旅游开发活动和人为干预,破坏了一些自然遗产赖以存在的基础	
	文物古迹遭到毁损	不文明的旅游行为、针对某些历史文物的大规模文化活动,造成对文物古迹的过度侵扰	
对正常社会秩序的冲击		大量旅游者的到来和缺乏有效的管理	交通堵塞,占据当地居民的生活空间,分享当地的公共设施

答案 (1)不行。一些国家保护的动植物遭到破坏
 (2)不行。建索道有可能造成对背景环境的破坏。同时,旅游者为了观赏沿线景点而不愿乘坐缆车,导致投资效益降低。
 (3)不行。因为千年古树是重要的旅游资源 应该在 A、F 之间修建索道,这样既保护了古树,又方便了游客
 (4)对游客进行限量,可以通过调节门票价格限制游客数量,即旺季提高门票价格,淡季降低门票价格

【练习 1】 阅读下列材料,回答问题。

面积为 39 平方千米的张家界自然保护区,由于美丽的湖泊和瀑布、丰富的植被和富有特色的砂质地貌被列为世界自然遗产。1992 年被联合国教科文组织列为人类自然遗产的中国张家界自然保护区,因旅游人数众多而导致环境污染严重。在自然保护区内,现在建有 400 家旅馆、53 家旅行社和 40 多家娱乐中心。

(1)上面的材料说明了旅游活动的规模应与旅游区的 _____ 相适应,如果超出 _____,就会对旅游区的资源和背景环境造成破坏,使旅游环境恶化。
 (2)旅游活动中出现的环境污染主要有哪些?

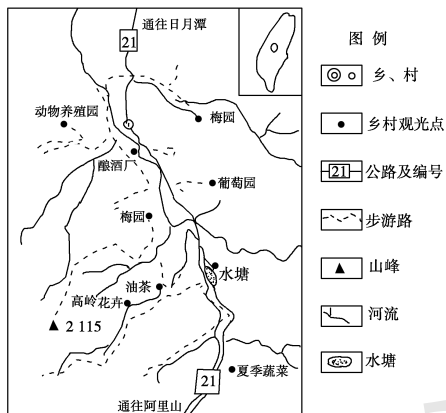
探究点 2 旅游资源评价

两千多年前的圣人孔老夫子也许想不到,那一句“有朋自远方来,不亦乐乎”,如今会成为山东人最为鲜明的性格烙印;而今天的山东人把这层意思凝练为“好客山东休闲汇”,并将其叫响大江南北甚至世界各地。山东人的豪爽热情、朴实敦厚,被这四个字彰显得淋漓尽致,精准而灵动。对此旅游资源的开发,山东旅游规划设计院院长陈国忠给予了高度评价。他说:休闲汇已经超越了旅游本身,它整合社会资源方面,联动 17 个市、32 个部门,是政府科学管理社会的重要体现。在此基础上,休闲产业的融合能力比旅游产业更强,产业功能的放大,将使社会的资源得到充分利用。比如蒙阴农家乐的收入已经超过了农业的收入,休闲产业成了主流。

探究导引

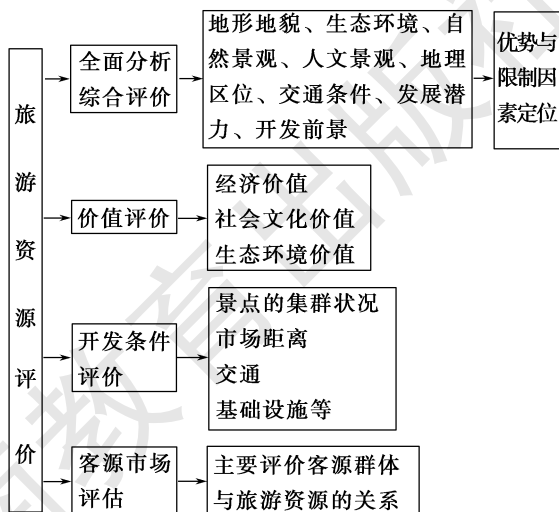
根据以上材料,分析探究:
 如何进行旅游资源评价?

【例证 2】 下图为台湾中部山区某乡村旅游区示意图。读图,回答下列问题。



探究之源

旅游资源评价

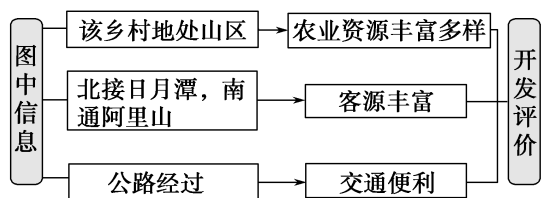


【特别提醒】 旅游资源的旅游价值和环境价值评价

在进行旅游规划和旅游资源开发时,必须对旅游资源的经济价值和环境价值进行评价,对旅游业发展

- (1)分析该地发展乡村旅游的有利条件。
 (2)根据图中所示乡村观光点,你认为在旅游区内可以开展哪些参与性的旅游活动?

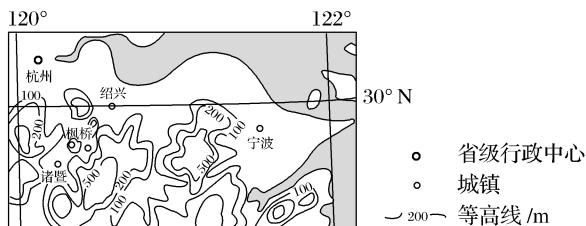
思维导图



结合农业资源类型开展参与性的旅游活动。

答案 (1)亚热带山地农业旅游资源类型多样;位于阿里山和日月潭两大著名景区之间,客源较稳定;交通方便,通达性好。
 (2)茶、果蔬等的采摘;插花;垂钓;酿酒;动物饲喂等。

【练习2】 (2016·课标全国Ⅲ)香榧是一种名贵干果,因其原产区和主产区在浙江诸暨东北部的枫桥地区(位置见下图),又称枫桥香榧,这里打造香榧森林公园,每年夏季以举办“香榧节”为契机,吸引杭州、绍兴、宁波等城市的游客。



分析枫桥地区借香榧发展旅游业,把客源地定位在周边城市的主要原因。

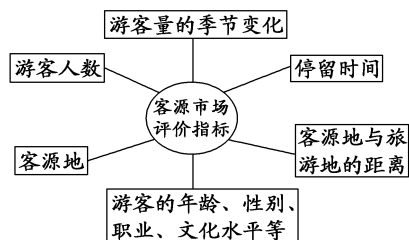
可能造成的环境问题进行评估,努力减少旅游活动对资源环境价值的不良影响,实现旅游业的可持续发展。

【巧学速记】 1.对旅游资源的开发条件进行评价和对客源市场进行评估时,应分别从以下几个方面重点考虑:

(1)开发条件评价

- ①游览价值:包括旅游资源的质量、资源的集群状况和景观的地域组合状况。凡是旅游资源的质量越高,资源的集群规模越大,地域组合类型越丰富,则其游览价值越大。
- ②市场距离:即旅游资源与旅游消费市场的距离,此距离越小,对游客的吸引力越大。
- ③交通位置及其通达性:其直接影响旅游资源的开发价值,交通越便捷,资源开发条件越好。
- ④地区接待能力:制约着游客的规模。
- ⑤旅游环境承载量:旅游活动规模要与其环境承载量相适应。

(2)市场评价的指标



2.旅游价值和开发利用价值的区别与联系

价值	区别		联系
	含义	制约因素	
游览价值	旅游资源本身的美学价值、历史文化价值的高低及其组合状况与地域组合状况	资源的质量(即美学价值或历史文化价值)	旅游资源的游览价值是影响旅游资源开发价值的重要因素,没有游览价值就不会有开发利用价值。但是,游览价值高的旅游资源并不意味着它的开发利用价值就高,因为旅游资源的开发利用价值还受到其他因素的制约
		资源的组合状况	
		景观的地域组合状况	
开发利用价值	指的是旅游资源的经济价值,即在旅游市场上能获得的经济利益	游览价值	
		客源市场	
		地理位置及交通	
		基础设施	

五分钟小练习

练习, 课堂及时巩固提升

一、选择题

旅游者在旅游活动中带来很多环境问题,对旅游资源造成不同程度的破坏。据此回答 1~2 题。

1. 读下面的漫画,图中反映了旅游活动中的 ()



- A. 旅游环境污染
B. 旅游活动对动植物的破坏
C. 旅游活动对文物古迹的破坏
D. 对正常社会秩序的冲击
2. 在旅游活动中,旅游者表现出的不文明行为和对环境的破坏主要表现为 ()

①乱丢废弃物,造成对环境的污染 ②在文物古迹上乱刻、乱画,造成对文物古迹的直接破坏 ③在有草地的地方,绕过草地继续观光 ④遵守旅游规则,有秩序地旅游观光

A. ①② B. ③④ C. ②③ D. ①④

旅游资源的开发,能产生巨大的经济效益。目前,旅游业已发展成为世界上重要的产业之一。据此回答 3~5 题。

3. “人无我有,人有我优”是指旅游资源的 ()

A. 科学价值 B. 经济价值
C. 游览价值 D. 社会价值

4. 某旅游点要具备较高的游览价值所必需的条件是 ()

①具备较高的审美价值或历史文化价值 ②在一定地区范围内孤立存在 ③具备较突出的个性,即“人无我有,人有我优” ④在一定地区范围内能与其他不同景观特征的旅游点协同存在

A. ①②③ B. ①②④

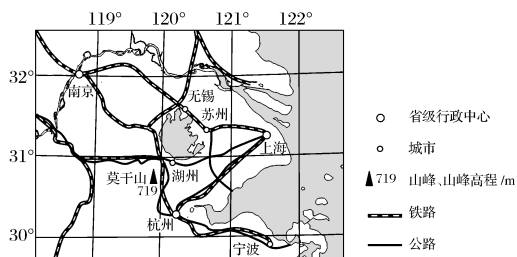
C. ①③④ D. ②③④

5. 旅游资源的游览价值取决于 ()

A. 旅游资源的审美价值或历史文化价值的高低
B. 旅游区与消费市场的距离
C. 旅游区的交通位置及其通达性
D. 基础设施条件

二、综合题

6. (2016·课标全国 I)莫干山近年以“民宿”开发而蜚声中外,“民宿”是指利用农民空闲房屋,为消费者提供配套乡野休闲、养生的新型酒店模式。莫干山民宿旅游起步于 2007 年,受政府政策鼓励,逐步形成了以吸引高消费人群为主体的旅游目的地。某民宿经营者说:“目前来乡里居住及游玩的多数来自大城市,以家庭及情侣为主,他们不仅来吃农家饭,还喜欢和我们聊天,喜欢下田上山体验农活。”2015 年,莫干山已有民宿 200 多家,年营业收入达 1.7 亿元,下图示意莫干山的位置。



分析莫干山“民宿”旅游快速发展的原因。

教材活动指导

指导, 解答活动思维过程

教材 P₆₅ 活动

提示:1. 游客数量越多,游客对文物古迹的破坏越严重,越不利于文物古迹的保护。

2. 从敦煌莫高窟的实地监测结果说明,在旅游活动中,游客规模越大,游客对文物的不利影响就越大。因此,为了保护文物古迹,在旅游活动中,要将游客的规模控制在旅游环境承载力之内,以保护文物古迹,实现旅游业的可持续发展。

教材 P₆₇ 活动

提示:美国政府黄石国家公园基本上未采取人为干预的措施,任凭大自然本身逐渐地恢复其原有的生态平衡。这种管理措施有利于保持自然界的良性生态平衡。而非洲的野生动物园由于人为干预作用大,大象种群数量急剧增加,为此不得不进行捕杀,以维持当地的良性生态平衡,这种管理措施往往会产生负面影响。

教材 P₆₇ 活动

提示:从保护旅游资源的角度出发,桂林市大量修建高层建筑的做法是错误的。因为这些高层建筑的修建会导致背景环境的破坏,不利于对周围“名山”的保护。

解决游客数量与接待能力之间的矛盾,一方面,可以采取限制游客数量来解决;另一方面,可以适当建设部分宾馆,但不要修建高层宾馆,以提高旅游接待能力,并保护好当地的旅游资源。

教材 P₆₉ 活动

提示:本次活动开放性较强。活动设计的目的是了解客源市场调查的一般方法,熟悉一定的服务对象,为模拟景区规划打下基础。由于进行调查的工作量较大,建议分小组进行,最后进行调查结果汇总和分析。

提示 课后完成《课时作业》第 103 页

第三节 旅游规划

情景导入



情趣阅读 探源知新

浙江省温州市洞头区大门镇观音礁村周边奇峰怪石多且形象逼真,如观音岩、仙人脚印等;月亮湾沙滩宛如一弯新月,坡缓、水清,沙子质地柔软;还有一个明末抗清名将郑成功的练兵跑马场;4个无人自然村依旧保持着20世纪石屋房样貌,旅游资源非常丰富。根据大门镇政府规划,大门岛东片将开发成休闲旅游区。遗憾的是,这些景点零星分布,犹如一盘散沙。诚挚期盼“智囊团”为旅游规划出谋划策。

尝试探究:旅游规划的目标是什么?

提示:确保旅游资源的持续利用;保护和营造旅游资源的个性;加强法制建设,提高管理水平。

目标导航

了解

旅游规划的主要内容。

掌握

旅游规划的目标和组成要素。

应用

结合实例,会分析旅游规划的组成要素,会对景区的景点、交通和服务设施进行规划设计。

课前自主学习

自主,新课标理念的精髓

基础梳理

一、旅游规划的目标

1. 确保旅游资源的持续利用

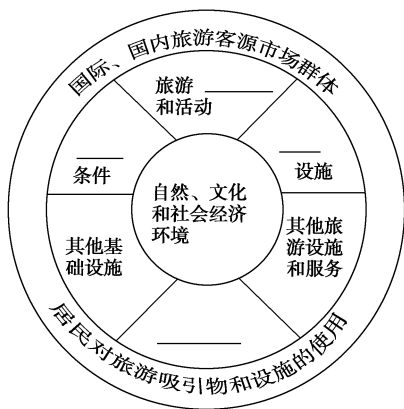
- (1)要严格保护旅游资源,协调_____与_____之间的关系。
- (2)要保证旅游资源有足够的生存空间,以保持良性_____。

2. 保护和营造旅游资源的个性

- (1)研究旅游区的_____格局,以扬长避短、彰显特色。
- (2)设计保护_____和地方特色的可行性方案。
- (3)营建高雅的_____。

3. 加强_____,提高管理水平。

二、旅游规划的组成要素

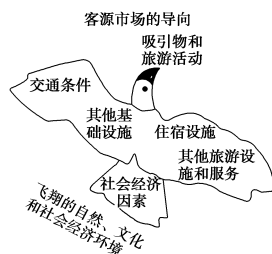


三、旅游规划的主要内容

旅游区划、_____建设、市场策划、_____要素、支持系统和_____体系。

图表解读

利用“规划之鹰”形象地记忆旅游规划的组成要素和影响因素。



提示:该图形象直观地表现了旅游规划的组成要素和影响因素。它把旅游目的地的起飞视如雄鹰之飞翔,鹰头是旅游资源对旅游者具有吸引力的活动;鹰要飞翔,要靠左右两只翅膀,左翼是交通条件和其他基础设施;右翼是住宿设施、其他旅游设施和服务;当地的社会经济因素相当于鹰尾,影响着它的飞翔速度和方向。在鹰的前方是客源市场,鹰会朝着那个方向飞翔。最后,在鹰的上下左右围绕着它的大气是旅游目的地发展需要的自然、文化和社会经济环境。

课堂合作探究

探究, 解读重疑难点知识

探究点 1 旅游规划的目标

乡村旅游规划,是旅游规划的一种。从资源的角度而言,是以村落、郊野、田园等环境为依托,通过对资源的分析和对比,形成一种具有特色的发展方向。近期,乡村旅游往往和新农村建设联系在一起。社会主义新农村建设和乡村旅游开发策划、规划与设计经验,对行业动态和相关政策法规,对乡村旅游产业发展模式、乡村特色休闲及景观建筑设计、乡村游乐项目策划、农家乐升级、民俗村度假开发、古村落文化休闲开发、农业生态园打造等方面进行了深入研究,休闲农业园区策划、特色农业观光主题园区、休闲农业博览园、特色采摘度假区、新农村整体规划设计、新农村风貌设计、乡村旅游景区规划、乡村主题度假区规划、乡村会所、温室建筑设计等。

|| 探究导引 ||

根据以上材料,分析探究:
旅游规划的目标有哪些?

【例证 1】▶ 阅读以下材料,回答问题。

平遥古城是我国境内保存最完好的明清时期的古代县城,有 2 700 余年的建城史。明洪武三年(1370 年)已建成现今的规模,城市基本格局已有 600 余年未作改动。该城古城墙完整,古建筑排列有序,共有 4 000 余处民居,有 10% 保存完好。古街巷犹如“龟背”上的寿纹。街道两旁保存有 17—19 世纪建造的商业店铺。

平遥是中国近代金融的发展源地,一度成为全国的金融中心。票号是中国金融发展史上汇兑开始的里程碑,在平遥古城发展兴衰的百余年中,这里集中了全国最大的票号富商,经济基础雄厚,带动了城市建设的发展。城市建筑质量也领先多年,在县级城市中实为罕见。

平遥是山西省的文物大县,县级以上文物保护单位近百处,其中双林寺——“东方彩塑艺术宝库”、镇国寺万佛殿——建于五代北汉年间的国内现存最古老的木结构建筑之一、清虚观龙虎殿——“悬梁吊柱”,以及 20 尊木雕、26 箱“纱阁戏人”位列其中……充分展现了平遥古城作为汉民族历史文化载体的地位和人文生态环境的特征。

平遥古城内的民居是山西民居的典型代表,基本上保持了明清时期晋中民居的风貌,它同皖南民居齐名,建筑以“凿土为窑”的理念贯彻其中,体现了窑洞式结构,又凝聚了乡土文化的“标志符”——砖砌窑洞外加木廊外檐,饰以精美的木雕、砖雕、石雕及彩画,特色鲜明夺目。

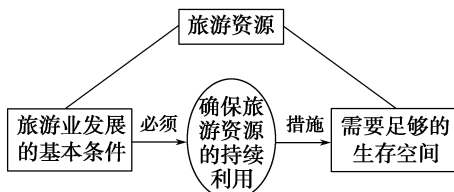
- (1) 开发平遥古城旅游的优势资源有哪些? 这些资源有什么价值?
- (2) 平遥古城作为旅游资源的突出个性是什么? 在进行旅游规划时,如何保护和进一步营造这一个性?
- (3) 开发平遥古城旅游资源的过程中,如何协调经济发展与环境保护的关系?

|| 探究之源 ||

旅游规划的目标

1. 确保旅游资源的持续利用

旅游资源是旅游业发展的基本条件,旅游业的持续发展必须建立在对旅游资源保护的基础之上。因此,旅游规划的主要目标之一,就是要严格保护旅游资源,协调经济发展与环境保护之间的关系。



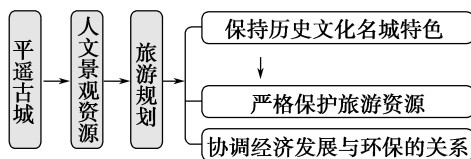
2. 保护和营造旅游资源的个性

旅游资源的个性,是其魅力长存的关键所在。因此,在进行旅游规划时,必须注意保护和营造旅游资源的个性。

在进行旅游景区规划时,主要做好以下几个方面的工作:

采取措施	所起作用
研究旅游区的历史文化格局	为扬长避短,彰显特色提供依据
设计保护民族特色和地方特色的可行性方案	具有强烈的异地吸引作用,能够丰富和提升景区景点的文化内涵

思维导图



答案 (1)主要是古城风貌及建筑文化景观,如街道及格局、店铺、民居、古物等。有审美价值,有古朴美、造型美、色彩美;有历史文化研究价值;有建筑科学的研究价值。

(2)历史文化名城。在保存古街道建筑的基础上,新建城市旅游设施仍要采用古城风貌,与原建筑保持风格上的统一,不建高层楼房。现代设施要做暗处理,各种装饰以仿古为主;恢复特色商品,开发新的具有地方特色的旅游用品;补栽树木,防止污染;修建一些仿古文物、楼台、书院、街景等。

(3)注重历史文化名城风貌的恢复与再现,注意进行城市规划并体现古建筑的特色,同时注意自然环境的利用与保护,重点发展无污染的第二、三产业部门。

【练习1】▶ 下列关于旅游规划目标的叙述,不正确的是 ()

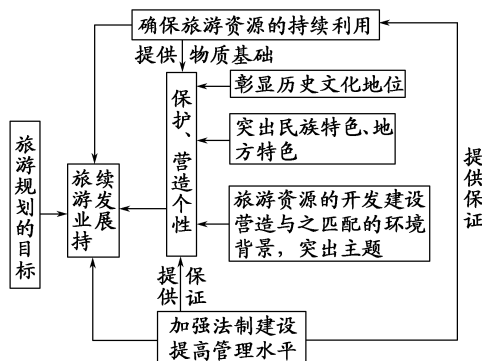
- 确保旅游资源的持续利用
- 确保旅游资源获得最大的经济效益
- 保护和营造旅游资源的个性
- 加强法制建设,提高管理水平

采取措施	所起作用
营建高雅的旅游环境	给游人以美的感受和愉悦的享受

3. 加强法制建设,提高管理水平

旅游开发中的环境立法和相关政策、法规的制订是旅游环境保护的重要措施。为了保护旅游资源,大多数国家进行了立法。我国已经做了大量的立法工作,相继颁布了一系列有关旅游资源和历史文物保护的法规与制度。

【巧学速记】 旅游规划的目标及其内在关联性具体表现如下:



探究点2 旅游规划的组成要素

三亚城市形象设计者认为,三亚的城市形象应该有以下六个方面的要素:①城市的建筑物,包括建筑风格 and 形式,建筑色彩的运用与三亚的自然环境相协调。比如“美丽之冠”文化会展中心、鹿回头雕塑、白排港国际游艇码头、喜来登度假酒店、博物馆、飞机场、火车站、大学城、音乐厅、体育中心等。②城市的街道,城市中的不同道路系统,形成不同的特色,比如迎宾大道、解放路、滨海大道、凤凰路等。③城市的独特或者说稀缺条件,比如三亚海湾(三亚湾、亚龙湾、大东海)。④城市的形态,指三亚在地域空间上的分布形式,比如由山、河、海、城有机组合而成的带状城市。⑤城市的自然条件,比如三亚独特的光热条件、一年四季在城市处处盛开的缤纷灿烂的鲜花,以及由千奇百怪的热带植物、热带水果形成的热带城市风貌,以及城市的绿化等。⑥城市的结构空间,比如凤凰广场、海月广场,各种出入口空间、各广场空间和各主要道路交叉口空间等。

|| 探究导引 ||

根据以上材料,分析探究:
旅游规划的组成要素有哪些?

|| 探究之源 ||

4. 旅游规划的组成要素

旅游是一项涉及多个行业的经济活动,旅游规划需综合考虑自然、社会、经济、文化等多种因素。这些因素之间是相互联系、相互影响的。

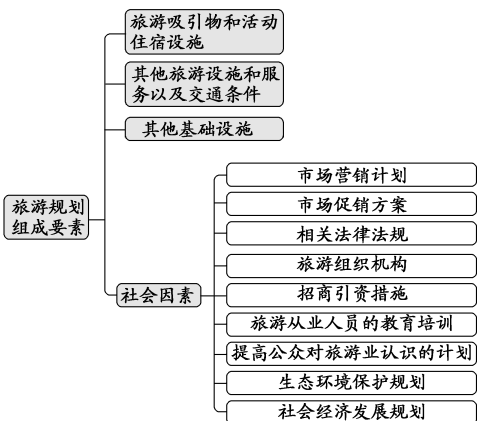
一般来说,旅游规划的基本组成要素包括6个方面(如下表所示)。

【例证 2】▶ 社会因素是旅游规划的基本组成要素之一。下列因素中,属于社会因素的是 ()

- ① 宾馆、饭店、汽车旅馆、野营地等
- ② 市场营销计划和促销方案
- ③ 与旅游相关的活动
- ④ 旅游区的生态环境保护规划

- A. ①② B. ②③ C. ②④ D. ③④

思维导图



答案 C

【练习 2】▶ 下列旅游规划组成要素对应正确的是 ()

- A. 旅游吸引物和活动——旅游从业人员的教育培训
- B. 住宿设施——宾馆、野营地
- C. 交通条件——通信网络
- D. 社会因素——医疗保健

组成要素	具体内容
旅游吸引物和活动	能吸引游客的一切自然、文化资源和与旅游相关的活动
住宿设施	宾馆、饭店、汽车旅馆、野营地等
其他旅游设施和服务	旅行社、旅游信息服务、餐馆、旅游纪念品商店、银行、医疗保健、公共安全、邮政服务等
交通条件	进出旅游区和旅游区内部的交通
其他基础设施	供水、供电、污水与垃圾处理、排水系统以及通信网络等
社会因素	市场营销计划和促销方案、相关的立法和法规、旅游组织机构、招商引资措施、旅游从业人员的教育培训、提高公众对旅游业认识的计划、生态环境保护规划和社会经济发展规划等

探究点 3 旅游规划的主要内容

2月27日,2017年全国旅游规划发展工作会议在京召开,会议任务是贯彻落实全国旅游工作会议精神,研究推进“十三五”旅游业发展规划落实和全域旅游发展,部署2017年旅游规划与产业发展工作。会上举行了新晋20家5A景区颁牌仪式等活动。会议提出,旅游产业面对巨大的发展机遇、广阔的发展空间,转型升级正当其时、正当其势。

探究导引

根据以上材料,分析探究:
旅游规划的主要内容包括哪些?

【例证 3】▶ 阅读下列图文信息,回答问题。

材料一 上海迪士尼乐园于2016年6月16日正式开门迎客。这座“原汁原味迪士尼,别具一格中国风”的主题乐园呈现了世界级的景点和卓越的玩家体验。

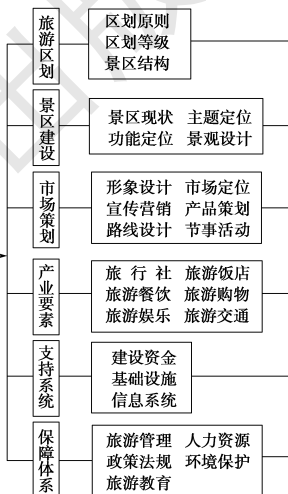
材料二 江苏旅游景点分布图。



探究之源

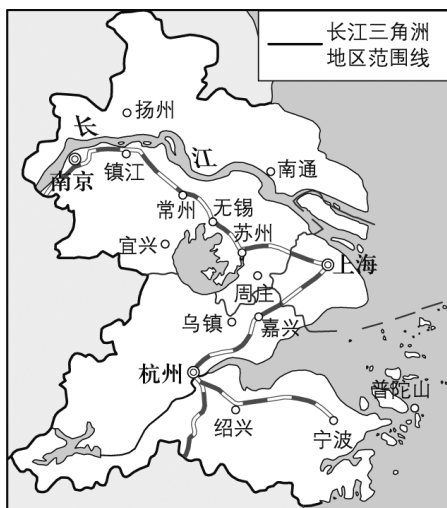
5. 旅游规划的主要内容

旅游规划的主要内容包括旅游区划、景区建设、市场策划、产业要素、支持系统和保障体系六个方面,具体内容见下图所示。



旅游规划的主要内容

材料三 长江三角洲地区主要旅游城市分布图。



(1) 迪士尼乐园开园后,将吸引国内外游客涌入长江三角洲地区。假如你是某旅行社的业务经理,请根据游客的需要,推荐几个相关旅游景点供选择。

“水乡古镇风情游”有_____ ;“佛教名胜游”有_____ ;“历史文化名城游”有_____ ;“现代化都市游”有_____ ;“滨海观潮游”有_____ 。

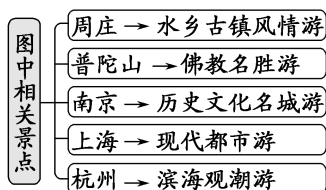
(2) 若游客想游览以上各具特色的景点,请帮助其设计一条合理的旅游线路。

(3) 为促进长江三角洲地区旅游业的快速发展,应该对区内的旅游资源进行整体规划。旅游规划的基本内容是_____、_____和_____。

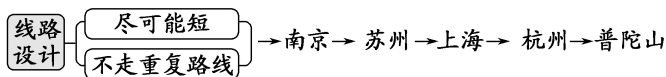
(4) 结合材料二,分析江苏省旅游业发展的优势条件。

思维导图

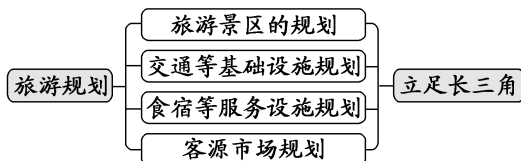
(1)



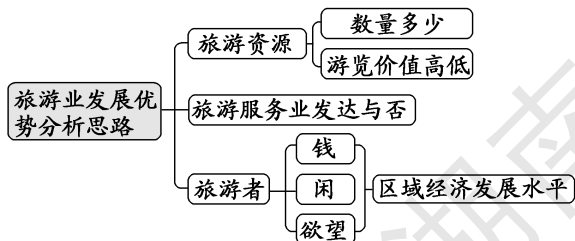
(2)



(3)



(4)



【思维拓展】长沙市橘子洲旅游规划

本阅读材料通过具体案例介绍了旅游规划的主要内容,通过学习,要学会如何进行旅游规划。

(1) 基本情况分析是进行旅游规划的前提和基础,主要包括景区的自然条件、社会经济条件、发展历史等内容。

(2) 旅游资源评价可以从旅游资源的数量、类型、品位、分布、组合等方面加以分析,分析景区旅游开发的优势和劣势,为制定规划提供依据。

(3) 指导思想和目标定位是对景区长期发展进行科学定位,有利于景区的可持续发展。

(4) 开发策略是针对景区旅游业发展的优势和劣势及存在问题,制订具体的开发利用措施,以扬长避短,降低开发风险。

(5) 规划目标是对不同时期的旅游活动确定发展目标。

(6) 防洪对策属于景区针对本地限制旅游业发展的因素提出的治理措施。

(7) 功能分区与开发项目是对景区提出的具体规划,需要综合考虑各种规划因素,提出适合景区发展的、有创新意义的规划方案。

(8) 绿化规划和生态环境保护规划是突出景区特色,有利于景区可持续发展的规划。

【思维拓展】长沙市橘子洲旅游规划

制订旅游规划的重要目的,是在科学认识区域旅游资源的前提下,提出旅游景区的开发思路,合理安排建设项目,在发展旅游业的同时,协调处理好旅游的开发与经济的关系。高水准的旅游规划能使旅游发展的方向和目标更加明确,旅游资源得以优化配置和合理开发利用,旅游竞争力得到提升。旅游规划可以有效地引导和控制旅游发展,避免旅游投资风险,遏制急功近利的不良行为,保障旅游业的可持续发展。

答案 (1)周庄 普陀山 南京 上海 杭州

(2)南京→苏州→上海→杭州→普陀山。

(3)旅游景区的规划 交通等基础设施的规划 食宿等旅游服务设施的规划 客源市场的规划

(4)旅游资源丰富,游览价值高;经济发达、市场距离短;交通便利,各景点的交通通达性好;经济发达,基础设施完善,地区接待能力强。

【练习3】▶下列属于旅游规划中景区建设方面的是 ()

①形象设计 ②景区现状 ③主题定位 ④功能定位 ⑤景观设计 ⑥路线设计

A.①②③④

B.③④⑤⑥

C.②③④⑤

D.①③⑤⑥

【特别提醒】对于度假村、疗养院、公园等休闲娱乐和观光旅游场所的选址,要考虑到以下几个方面的问题:

(1)环境要清洁,安静、盛行风的上风向、河流的上游、环境优美的地方。

(2)要有一定的自然或人文景观,如海滨风光、河湖森林、山脉、文物古迹和民族风情等。

(3)交通比较便捷,便于出行。

五分钟小练习

练习,课堂及时巩固提升

一、选择题

旅游规划目标的正确制订,对协调经济发展与环境保护之间的关系有重要意义。据此回答1~2题。

1.在进行旅游景区规划的过程中,保护和营造旅游资源个性的工作有 ()

①研究历史文化地位,以确保其历史文化格局优势

②设计保护民族特色的可行性方案

③淡化地方色彩,吸取优秀旅游景区的长处

④景区设计突出主题,彰显特色

A.①②③

B.②③④

C.①③④

D.①②④

2.下列属于旅游规划目标的是 ()

①确保旅游资源有足够的生存发展空间 ②保护和营造

旅游资源的个性 ③确保住宿设施的齐全、完备 ④确保

交通条件的畅通

A.①②

B.③④

C.①③

D.②④

3.下列叙述中,属于旅游规划基本组成要素中社会因素内容的是 ()

①市场营销计划和促销方案 ②旅游从业人员的教育培训

③生态环境保护计划 ④社会经济发展规划

A.①②③

B.①②④

C.①③④

D.①②③④

4.旅游资源个性的“灵魂”是 ()

A.历史文化格局

B.民族特色和地方特色

C.旅游环境

D.旅游景点规划

5.有关旅游规划主要内容的说法错误的是 ()

A.基础设施、信息系统属于支持系统内容

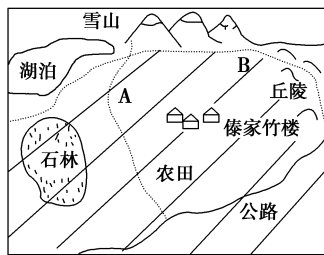
B.产业要素包括建设资金、产品策划等内容

C.各主要要素之间相互影响,相互制约

D.景区结构属于旅游区划

二、综合题

6.读我国某村镇示意图,回答下列问题。



(1)该地区可能是我国的_____地区 ()

A.东北

B.西南

C.西北

D.东南

(2)据图可知,该地区可以开发利用的旅游资源主要有哪些?(至少列举3个)

(3)据图分析,该地区发展旅游业的主要优势条件是_____

不利因素是_____。

(4)为发展当地的旅游业,该村镇计划修建一条公路,图中A和B两条线路各有利弊,试加以分析。

(5)若该村镇计划发展一些旅游规划项目,你觉得可发展哪些项目?

(6)该村镇在制订旅游开发建设规划时应注意什么问题?

教材活动指导

指导, 解答活动思维过程

教材 P_{73~74} 活动

提示:1.本活动为开放性题目,有很强的实践性。对你所在景区进行规划设计的步骤可依据活动要求逐一写,这非常简单。但一定要注意在对景点提出建设方案和改进措施时一定要使旅游规模与旅游环境承载量相适应,一定要能使旅游资源可持续发展。

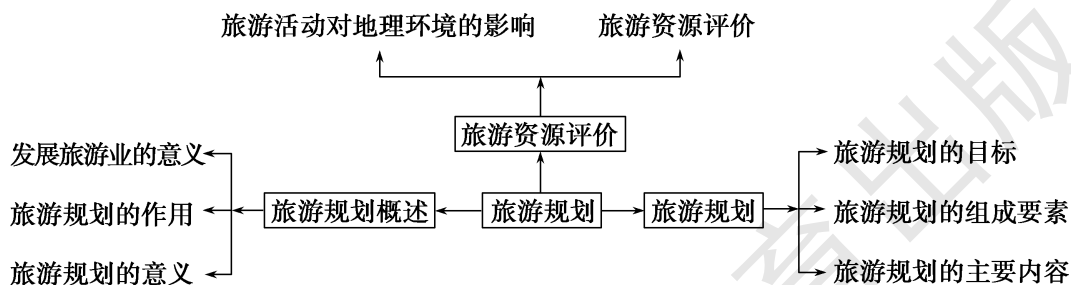
2.本活动要求对所在地区的旅游服务设施进行规划设计,属于旅游区详细规划。在进行规划设计时,其规划思路可如下所示:调查现有的和规划的旅游服务设施的配置情况→对现有的和规划的旅游服务设施进行评价→对旅游服务设施的现有规划方案提出改进措施。

提示

课后完成《课时作业》第 105 页

本章归纳整合

知识构建



专题整合

专题 1 旅游资源环境的评价

旅游资源环境的评价是对旅游资源所在地的环境容量状况、环境污染状况、社会经济环境等三个方面进行评价。

1. 环境容量状况

环境容量是指在单位时间内,在不破坏生态环境的前提下,旅游资源所在地容纳旅游者数量的能力。旅游资源所在地规模大、景象艺术特征高、内容丰富、游程长、布局合理、环境质量好,其环境容量就大。

环境容量还受旅游资源所在地的功能和自然要素(如地形、水源)的影响。例如,文化娱乐、节日庆典活动的供应地环境容量应大些;科学考察、游览欣赏、宗教活动、艺术创作等活动的供应地环境容量应小一些。陕西华山以险要著称,旅游价值高,但山高路窄,水源缺乏,所以环境容量较小。

2. 环境污染状况

旅游资源所在地是人们游览、观赏和休闲的场所,因此,安全、舒适、幽静、空气清新、水质洁净等条件是对旅游资源所在地环境质量的基本要求。旅游资源所在地的空气、水质等受到污染,噪声过大,会影响环境的质量。

3. 社会经济环境

社会经济环境是评价旅游资源特别是人文旅游资源的一项重要指标,主要指一个地区在社会、经济、文化等方面所具有的独特整体形象。有的旅游资源本身的旅游观赏价值并不高,但结合其所处的社会经济环境进行综合评价时,就可能得出很有旅游价值的结论。上海便是一个突出的例子。

【例 1】▶ 阅读下列材料,回答问题。

材料一 九寨沟是我国著名风景旅游胜地。是中国唯一拥有“世界自然遗产”和“世界生物圈保护区”两项国际桂冠的旅游胜地。九寨沟“水光浮翠,倒影林岚”,翠海、叠瀑、彩林、银峰以及特异的藏族风情相互交融,形成一个令人神往的“神话世界”和“人间仙境”。九寨沟 1984 年正式对外开放为生态旅游区,旅游者蜂拥而至。2 000 年以来,每年游客量都超过 100 万人次。“黄金周”里游客塞满九寨沟,车队排成了长龙;沟内平地起新楼,客栈、宾馆林立,城市化的设施遍布九寨沟;旅游业的兴旺使大量的饭店、商场、宾馆、旅行社等涌进沟内,污水垃圾遍地。九寨沟管理局的监测结果表明九寨沟的水体已经有富营养化的趋势,湖泊有沼泽化倾向。

材料二 世界银行环境部和生态旅游学会给生态旅游下的定义是:“有目的地前往自然地区去了解环境的文化和自然历史,它不会破坏自然,而且它会使当地社区从保护自然资源中得到经济收益。”

(1)九寨沟地处_____气候区,其发展旅游的条件是具有丰富的_____景观和独特的_____风情及他们的传统文化等。

(2)旅游旺季时,九寨沟景区人满为患,大大超过了其环境承载力。你认为如何解决这一问题?

(3)从旅游规划、环境容量及游客承载力三个方面分析,九寨沟应怎样开展生态旅游?

解析 第(1)题,九寨沟位于四川省西北部,因有九个藏族村寨而得名。第(2)题,人满为患的问题,只能通过限制游人数量的办法来解决。第(3)题,题目中已经作了条件的限制,从“旅游规划”“环境容量”和“游客承载力”三个方面分析“生态旅游”,在审题时一定要看清楚这些条件。

答案 (1)亚热带季风 自然 藏族 (2)对游客进行限量,可以通过调节门票价格限制游客数量,即旺季提高门票价格,淡季降低门票价格。(3)搞好核心区、实验区、缓冲区等功能区的规划,把旅游活动的线路、范围限定在核心区以外的地域;实行“限量旅游”,限制每天进沟的人数;“沟内游,沟外住”,在景区内大规模拆除经营性建筑等。

专题 2 旅游景区规划设计

1. 概念与意义

旅游景区规划是指对旅游地(包括旅游度假区、游览区等)的开发建设所做的规划。旅游景区规划是对旅游规划的进一步落实与细化。

旅游景区规划以旅游资源调查与评价为基础,以旅游者对旅游过程中的食、宿、行、游、购、娱的需要为导向,以旅游审美原理为指导,将旅游资源加工成旅游产品。旅游景区规划,对提升旅游景区的品位,扩大旅游景区的规模,提高旅游景区的效益,意义十分重大。

2. 方法与步骤

- (1)对旅游景区进行实地考察,收集大量的有关资料。
- (2)对旅游景区开发的外部条件加以调查和评估分析。
- (3)对旅游景区的发展进行总体定位,并根据总体定位对旅游的六要素进行具体的安排和设计。

3. 遵循四项原则

- (1)突出景观特色。特色是旅游景区存在的基础和生命。旅游景区有了特色,才会有生命力和竞争力,才能吸引更多的旅游者。
- (2)自然美与人工美的统一。要将人工建筑与旅游景区的地

理环境融为一体,使旅游者能够感受到风景和谐统一的意境,达到情景交融的效果。

(3)维护生态平衡。在开发旅游景区时要遵循维护生态平衡的原则,使青山常在,绿水长流。

(4)最佳综合效益。在开发观赏价值高、吸引力强、经济效益大的景点时,应注意充分发挥现有景点的利用率,并同其他事业结合起来,最大限度地发挥景点的综合使用价值。

4.对旅游景区内资源的开发条件进行评价

(1)游览价值:首先体现在旅游资源的质量,即是否具备较高的美学价值或较高的历史文化价值;其次要考虑旅游资源的组合状况,还要考虑景观的地域组合状况。

(2)地理位置及其交通的通达性:直接影响旅游资源的开发价值。

(3)客源市场:主要体现为与经济发达地区距离的远近,距离的长短在很大程度上决定了旅游地旅游资源经济价值的大小。

(4)基础设施:影响地区接待能力和服务质量,进而影响旅游资源的开发利用。

5.案例分析

德国汉诺威市中心区的游览标志线

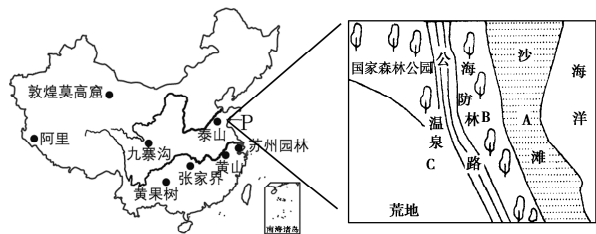
汉诺威是德国九大“梦幻旅游”城市之一。城市中古老的街区、广场、教堂、皇家花园、中心湖泊以及高新技术园区和颇具特色的现代建筑,每年都吸引着大量旅游者前去参观、游览。

为了使市民和旅游者在较短的时间内对城市的主要景点既有一个基本了解,又不过于劳累,政府设计了一条长约 2.5 千米,串联 14 个主要景点的游览标志线。

这条游览标志线直接用红色油漆画于街道上,将汉诺威

的新老市政厅、中央火车站、歌剧院、中心教堂、历史博物馆、滑铁卢纪念公园及啤酒广场等 14 个主要景点有机地联系在一起。

【例 2】▶ 读下图,回答下列问题。



(1)图中所示我国著名旅游景点中,属于世界自然与文化双遗产的是_____和_____。

(2)某开发商计划在 P 地建疗养院,应建在 A、B、C 中的_____区域。

(3)根据图中信息,评价 P 地发展旅游业的条件。

(4)应采取哪些措施进一步开发 P 地的旅游资源?

解析 第(1)题,图中所示的泰山和黄山属于世界自然与文化双遗产。第(2)题,读图可知,C 地临近温泉,荒地多;靠近公路,交通便利。B 地占用海防林。A 地位于海滩,易受海浪影响。第(3)题,评价旅游业的发展条件可从旅游资源的质量、集群状况、市场距离、交通、基础设施等方面分析。第(4)题,P 地位于海岸,只有一条公路,应进一步发展交通,提高地区接待能力,保护环境。

答案 (1)泰山 黄山

(2)C

(3)①位于东部沿海经济带,市场距离近;②有美丽的海滨和独特的温泉、国家森林公园等资源,集群性好,游览价值高;③交通便利。

(4)①进一步发展交通;②提高地区接待能力;③保护旅游区的资源和背景环境;④防止环境污染。

提示 课后完成《自主检测》第 107 页



第四章 文明旅游

第一节 做合格的旅游者

情景导入



情趣阅读 探源知新

国家旅游局日前通报了2016年清明小长假期间及近期查处的5起典型案例。其中,游客杨某参加旅行社组织的赴台湾旅游,因就餐时要求领队调换本桌两个团友的座位未得到满足,对领队实施了谩骂、吐痰、侮辱和殴打等行为,造成恶劣影响。依据《国家旅游局关于游客不文明行为记录管理暂行办法》第五条的规定,经专家委员会审核,将杨某的行为列入游客不文明行为记录,信息保存期限三年。据统计,截至目前,已有17名游客被列入这份“黑名单”。

尝试探究:列入“黑名单”的游客要成为合格的旅游者,还缺少什么条件?

提示:缺少“一定的文化素养”。

目标导航

了解

古代著名的旅游者。

掌握

当代旅游者的基本条件。

应用

运用所学知识,规范自己的旅游行为,做一名合格的旅游者。

课前自主学习

自主,新课标理念的精髓

|| 基础梳理 ||

一、当代旅游者的基本条件

- 1.一定的_____ :旅游是一种_____ 活动,它的娱乐性是通过满足旅游者的_____ 来实现的。
- 2.较雄厚的_____ :现代旅游是一种_____ 的消费行为。
- 3.必要的_____ :现代旅游不可缺少的基本条件。
- 4.适应出游的_____ :旅游日益成为人的一种_____ ,旅游服务业也为不同健康状况的人们提供服务。

二、中国古代著名旅游者

1.汉代张骞

(1)张骞于公元前_____ 年和公元前_____ 年,先后两次出使西域,最远到达_____ 之滨,为开通古老而伟大的洲际商路——_____ 奠定了坚实基础。

(2)美国人在《地理学思想史》中说,“地中海文明的发现,应归功于公元前139年的地理学家_____”。

2.北魏郦道元

他撰写的《_____》,开我国古代山水散文之先河,是我国古代研究_____ 的地理学巨著。

3.唐代玄奘

唐玄奘在南亚获得了“_____”的称号,代表作是《_____》。

|| 图表解读 ||

1.教材 P₇₇ 图 4-1“张骞出使西域路线示意”

提示:当时,正在伊犁河流域游牧的大月氏,是一个著名的“行国”,有40万人。他们曾居住在敦煌和祁连山之间,被匈奴一再打败后,刚迁到这里不久,但习惯了这里的生活,不愿意再次打仗了。匈奴人杀死月氏王,“以其头为饮器”。因此,大月氏与匈奴是“世敌”。汉朝日趋强盛后,计划积极地消除匈奴贵族对北方的威胁。汉武帝听到有关大月氏的传言,就想与大月氏建立联合关系,又考虑西行的必经道路——河西走廊还处在匈奴的控制之下,于是公开招募能担当出使重任的人才。建元三年,即公元前138年,张骞“以郎应募,使月氏”。“郎”,是皇帝的侍从官,没有固定职务,又随时可能被选授重任。

4.宋代沈括

他被英国李约瑟等科学史研究者推崇为_____的先驱,代表作是《_____》。
该书揭示了_____、_____等地质原理,以实地考察所得,验证了关于“沧海桑田”的设想。

5.明代郑和

15世纪,我国伟大的旅行家,地理大发现时代的_____。

6.明代徐霞客

他留给后人的宝贵财富《_____》是人类地理学史上_____的最早著作。

2.教材 P₇₈ 图 4-2“西安大雁塔公园玄奘雕像”

提示:玄奘(公元 602—664),名陈祜,洛州缑氏(今河南偃师市缑氏镇陈河村)人。唐代著名的三藏法师、佛教学者、旅行家,与鸠摩罗什、真谛并称为中国佛教三大翻译家,唯识宗的创始者之一。出家后,他遍访佛教名师,因感各派学说分歧,难得定论,便决心至天竺(印度)学习佛教。

课堂合作探究

探究, 解读重疑难点知识

探究点 1 当代旅游者的基本条件

今天的中国成了全球旅游业最重要的市场。中国游客超过美国和德国,成为海外消费最多的游客。但日益增长的游客却没有体现出日益增长的文明素质。有媒体称,外国人对中国人也是又爱又恨,爱的是中国人有钱乱花,恨的是中国人素质实在给当地造成困扰。在文物上刻字,在公共场所抽烟、喧哗,不守秩序乱插队……国人出境游的一些不文明行为不断引发热议。

探究导引

根据以上材料,分析探究:
当代旅游者应具备哪些条件?

探究之源

当代旅游者的基本条件

旅游活动的特点	产生要求	具备条件	结果
文化休闲活动	旅游者的文化素养高	一定的文化素养	文化素养越高,旅游审美情趣越浓
高雅消费行为	量力适度消费	较雄厚的经济基础	人们在旅游中普遍接受
耗时较长的活动	社会的工作制度和普遍休假制度	必要的闲暇时间	大多数人步入旅游者的行列
野外体力活动	人的生存权利	适宜出游的身体条件	为不同健康状况的人们提供服务

【例证 1】学生王文浩想利用“十一”假期外出旅游。读图,回答问题。



- (1)结合材料分析,要想成为一名旅游者,首先应具备的主观条件是_____。
- (2)当代合格旅游者的基本条件是_____

【方法技巧】判断一个合格的旅游者的标准

正确判断的标准是把旅游者和合格的旅游者区分清楚,合格的旅游者对文化素养和身体条件提出了更高的条件(比较如下表所示)。

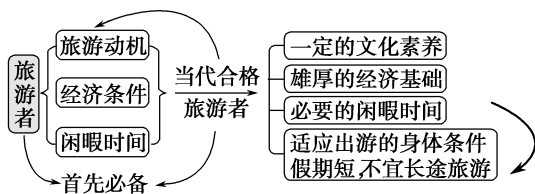
一般旅游者的条件	合格旅游者的条件
①具备起码的身体条件	①一定的文化素养
②具有一定的经济实力	②较雄厚的经济基础
③本身是旅游的爱好者	③必要的闲暇时间
	④适应出游的身体条件

(3)关于旅游动机的正确说法是 ()

- A.个人的兴趣和爱好完全决定旅游动机
B.人们的旅游动机就是为了娱乐
C.旅游动机是人们进行旅游活动的心理要求
D.同一个旅游者,其旅游动机不会变化

(4)王文浩“十一”放了3天假,手中仅有过年的压岁钱500元,他又不想再向父母和亲朋伸手。请问,他适宜长途旅游吗?为什么?

思维导图



答案 (1)旅游动机

(2)一定的文化素养、较雄厚的经济基础、必要的闲暇时间,适应出游的身体条件

(3)C

(4)不适宜。因为其经济能力差,且假期较短。

【练习1】▶ 下列关于旅游者的基本条件,叙述正确的是 ()

- A.旅游者的经济基础越雄厚,出游机会越多,在旅游中审美情趣越浓
B.必要的闲暇时间是现代旅游观念下必不可少的基本条件
C.现代旅游者只要具备金钱这一经济条件,就能成为旅游者
D.旅游是当代人最基本的需求

探究点2 中国古代著名旅游者

我国古代最早旅游可以追溯到传说中的女娲、共工时期,但有大量文字记载的旅游,都出现在周穆王后。古代旅游,大体分为5种:出使旅游,以汉代张骞出使西域和明代郑和七次下西洋为最著名;文人旅游,如李白、杜甫、柳宗元、苏东坡、欧阳修、陆游等,都是漫游类型的著名诗人,许多千古绝唱都是在漫游中写成的;宗教旅游,最著名的是玄奘西游和鉴真东渡;考察旅游,如孔子、司马迁、徐霞客等;帝王旅游,如西周的周穆王,他是我国最早有记载的帝王旅游家。

探究导引

根据以上材料,分析探究:

列举你所知道的中国古代旅游者。

【例证2】▶ 阅读下列材料,回答问题。

材料一 古丝绸之路是历史上中华民族和世界广泛接触与交流的见证。



材料二 美国普雷斯顿·詹姆斯在《地理学思想史》中说,“地中海文明的发现,应归功于公元前139年的地理学家张骞”。

【思维拓展】生态旅游与环境保护

(1)生态旅游主要包括三个要点:①以自然生态系统为旅游对象;②在保证自然生态系统不受损害的前提下开展旅游活动,把旅游与保护生态系统有机地结合起来;③对游客进行有关保护环境和维护自然生态系统平衡的教育,既能使游客受到有关环境保护和维护自然生态系统平衡的教育,又能维护旅游区的生态平衡,收到生态、经济、社会三个方面的良好收益。

(2)按照自然生态系统的不同,生态旅游可分为森林旅游、草原旅游、沙漠旅游、荒漠旅游、海洋旅游、湖泊旅游、湿地旅游等,但并非一切进入自然生态系统的旅游都属于生态旅游。生态旅游兴起于20世纪80年代初,是当今世界旅游业发展的一个新潮流,在我国正处于蓬勃发展的阶段。

(3)生态旅游的最大特点是“保护旅游对象”,也就是要保护生态环境。

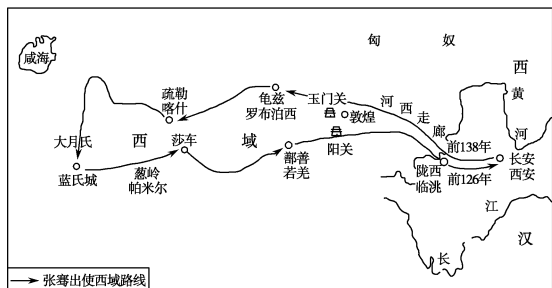
【易错警示】认为旅游的目的是为了增长知识,陶冶性情、锻炼身体

这种认识是片面的,它不符合现代意义上的旅游活动。现代旅游的目的除此之外,更多的是为了娱乐、消遣。这是因为:①旅游活动最突出的特点是娱乐性;②旅游活动是一种高雅的消费活动;③随着社会的发展和进步,旅游日益成为人的一种生存权利。

探究之源

中国古代旅游者

汉代张骞	公元前139年和公元前119年两次出使西域等地,为开通丝绸之路奠定了坚实基础
北魏郦道元	撰写的《水经注》是古代研究水文的地理学巨著
唐代玄奘	精通梵、汉两种语言,获得“三藏法师”的称号,写成名著《大唐西域记》
宋代沈括	其著作《梦溪笔谈》涉及的学科领域广,揭示了海陆变迁、流水侵蚀等地质原理
明代郑和	地理大发现时代真正的揭幕者,15世纪伟大的航海家
明代徐霞客	江苏江阴人,大量的旅游考察日记汇编而成《徐霞客游记》



张骞出使西域路线示意图

(1)以“天山飞雪韵,丝路舞风情”为主题的第十三届乌鲁木齐丝绸之路冰雪风情节于2016年1月10日举办,请写出与古代丝绸之路有关的两位杰出人物_____、_____。

(2)张骞_____次出使西域,到达了里海、_____之滨,为开通古老而伟大的洲际商路——_____奠定了坚实基础。

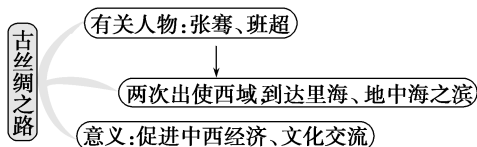
(3)丝绸之路形成于西汉。丝绸之路的开辟具有划时代的意义,主要是由于它 ()

- A.加强了西域与内地的联系
- B.使天山地区第一次与内地连成一体
- C.使中国与欧洲直接进行交流
- D.促进了中西经济、文化的交流

(4)丝绸之路沿线重要的旅游景点有_____。

(5)上海的吴刚计划进行丝绸之路旅游,他该如何走?(走铁路线)

思维导图



- 答案 (1)张骞 班超
 (2)两 地中海 丝绸之路
 (3)D
 (4)西安、敦煌
 (5)京沪线—陇海线—兰新线。

【练习2】我国古代水文地理学巨著《水经注》的撰写者是 ()

- A.汉代张骞
- B.北魏郦道元
- C.宋代沈括
- D.明代郑和

【拓展比较】

朝代	姓名	主要游行活动	评价	著作
汉代	张骞	两次出使西域,最远到达里海、地中海之滨	①地中海文明的发现;②为开通丝绸之路奠定坚实的基础	《出关志》没流传下来
北魏	郦道元	曾畅游长江三峡、四川、湖北,并多次往返于长城以南和秦岭以北的广大地区	其著作是我国古代研究水文的地理学巨著,并对唐宋文坛产生很大影响	《水经注》
唐代	玄奘	经西域各国至今克什米尔一带,并在南亚游历十数年	精通佛理,满腹经纶,“声誉之隆,千古一人”	《大唐西域记》
宋代	沈括	跟随父亲及自己为官后,到过许多地方	是我国古代文坛奇葩,被推崇为近代地质学的先驱	《梦溪笔谈》
明代	郑和	先后七次下西洋,到过南亚、西亚和非洲等地	是地理大发现的真正揭幕者	《郑和航海图》
明代	徐霞客	足迹遍布大半个中国,北至冀、晋,南达粤、桂、滇、黔	是历史上伟大的旅行家,其游记是人类地理学史上区域地理考察的最早著作	《徐霞客游记》

五分钟小练习

练习,课堂及时巩固提升

一、选择题

“桂林山水甲天下”,桂林仙境令多少人心驰神往,但又有几人能身临其境。歌词:“我想去桂林呀,我想去桂林,可是有时间的时候我却没有钱;我想去桂林呀,我想去桂林,可是有了钱的时候我却没时间。”这唱出了多少人的心声。据此回答1~3题。

- 1.下列诗句中,不是描写桂林山水的是 ()
- A.群峰倒影山浮水,无水无山不入神
 - B.千峰环野立,一水抱城流
 - C.江作青罗带,山如碧玉簪
 - D.水光潋滟晴方好,山色空蒙雨亦奇

2.山东省的小张计划去桂林旅游,为使计划成功并取得好的旅游效果,他应具备的条件是 ()

- ①足够的经济支付能力
 - ②充足的闲暇时间
 - ③找到情投意合的旅游伙伴
 - ④较高的文化素养
 - ⑤健康的身体状况
- A.①②③④ B.②③④⑤ C.①③④⑤ D.①②④⑤


3.去桂林旅游需重点解决的条件是 ()

- A.交通
- B.食宿
- C.游览
- D.娱乐

阅读下列材料,完成4~5题。

材料一 大雁塔(如图)建于唐代永徽三年(公元652年),是为玄奘收藏经典而修建,塔身七层,通高64.5米,被视为古都西安的象征,是西安市著名的旅游地。

材料二 唐代许多著名诗人登临大雁塔时,都留下传诵至今的佳句,如杜甫的“高标跨苍穹,烈风无时休”;章八元的“却怪鸟飞平地上,自惊人语半天中”等。当年,27岁的白居易成为进士,写下了“慈恩塔下题名处,十七人中最少年”的诗句。



4.欣赏大雁塔时,为获得“却怪鸟飞平地上,自惊人语半天中”的效果,最好 ()

- A.选择适当距离 B.优选观赏角度
C.登临塔顶 D.提高审美情趣

5.欣赏大雁塔这类历史文化景观时,更需要旅游者具备 ()

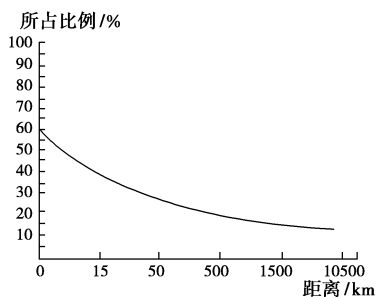
- A.较高的文化素养 B.更雄厚的经济基础
C.更多的休闲时间 D.更强壮的身体条件

二、综合题

6.读下表及图,回答问题。

北京市国内旅游者地区分布

地区	河北	辽宁	山东	江苏	湖北	河南	黑龙江	四川	吉林	山西	湖南	上海	内蒙古	陕西
所占比例/%	12.35	10.30	6.91	5.45	5.40	5.25	5.02	5.02	4.82	4.80	3.84	3.52	3.40	3.02



(1)北京国内旅游的最大客源地是_____省,形成这种情况的主要因素是_____。

(2)江苏省的人口少于河南省,与北京的距离长于河南省,而到北京旅游的人数却多于河南省,其形成原因是_____。

(3)我国城市居民出游距离为15千米的游客约占游览总人数的_____% ,出游距离为500千米的游客约占游览总人数的_____%。由此可知,旅游者与出游距离的关系是_____。

(4)北京市是我国吸引游客最多的城市,为什么?

教材活动指导

指导,解答活动思维过程

教材 P₈₁ 活动

提示:1.根据自己的理解和愿望回答。

2.对成为旅游者的想法,一方面可以以我国古代旅游者为楷模,结合自己的实际情况进行描述;另一方面,根据当代

合格旅游者的条件,想一想自己具备的是什么,欠缺的是什么,然后进行描述。

提示 课后完成《课时作业》第111页

第二节 出游前的准备

情景导入



情趣阅读 探源知新

2017年“五一”期间,家住山东威海的明明一家要到海南去旅游,林林一家要到哈尔滨旅游。临出行的头天晚上,明明和林林可犯愁了,带些什么东西去旅游呢?请你帮明明和林林准备一下应带的必需物品。

尝试探究:外出旅游时需要携带的必需物品一般有哪些?

提示:防雨防晒用具,药品或保健箱,水和必要少量的食品、笔记本、相机、火柴、水果刀、地图、旅游区相关资料,舒适的衣服和必要的现金(或信用卡),通信工具及联系方式(有条件的还可准备望远镜和便携式GPS等。)

目标导航

了解

出游前需要做的一些准备工作。

掌握

旅游线路的设计原则。

应用

根据实际材料及不同要求设计所需要的旅游线路。

课前自主学习

自主, 新课标理念的精髓

基础梳理

一、了解景观的主要特点

1. 外出旅游的准备, 一般分为_____的准备和对旅游目的地的_____两个方面。
2. 外出旅游, 要先了解旅游景观的基本特点, 收集有关的_____、_____以及_____方面的资料。

二、明确景观的文化定位

1. 旅游者从景观中得到审美享受的程度与每个人的_____和_____有关, 也与对旅游景观的_____内涵的了解不同有关。
2. 范仲淹的《岳阳楼记》和杜甫的“吴楚东南坼, 乾坤日夜浮”的诗句烘托了岳阳楼的_____之美。
3. 湖南的桃花源因_____的《桃花源记》而出名。

三、旅游路线的选择

旅游路线的选择根据旅游者的_____、旅游时间、_____和旅游跨越的空间范围来确定。

四、考虑和选择出游方案

1. 明确出游方式是选择旅游方案的_____。一般有两种选择: _____出游和_____出游。
2. 设计旅游活动方案一般包括: 可用的_____、共同策划_____、旅游经费预算和物质准备三个方面的内容。

图表解读

教材 P₈₂ 图 4-4 “避暑山庄的园中之园——文津阁”

提示: 承德避暑山庄曾是中国清朝皇帝的夏宫。距离北京 180 千米, 是由皇帝宫室、皇家园林和宏伟壮观的寺庙群所组成。避暑山庄位于承德市中心区以北, 武烈河西岸一带狭长的谷地上, 山庄的建筑布局大体可分为宫殿区和苑景区两大部分, 苑景区又可分成湖区、平原区和山区三部分。内有康熙、乾隆钦定的 72 景, 拥有殿、堂、楼、馆、亭、榭、阁、轩、斋、寺等建筑一百余处。它是中国三大古建筑群之一, 它的最大特色是山中有园, 园中有山。避暑山庄兴建后, 清帝每年都有大量时间在此处理军政要事, 接见外国使节和边疆少数民族政教首领。这里发生的一系列重要事件、重要遗迹和重要文物, 成为中国多民族统一国家最后形成的历史见证。

避暑山庄及周围寺庙是一个紧密关联的有机整体, 同时又具有不同风格的强烈对比, 避暑山庄朴素淡雅, 其周围寺庙金碧辉煌。旧版电视剧《还珠格格》第一、二、三部, 均在承德避暑山庄取景拍摄。

课堂合作探究

探究, 解读重疑难点知识

探究点 出游前的准备

随着现代生活水平的提高, 越来越多的人将外出旅游作为一种开阔视野、愉悦身心的美好生活方式。但是, 旅游者准备不充分, 对旅游常识和旅游线路等缺乏了解而贸然出行, 在旅游中往往会发生一些不愉快的事情, 甚至留下永久的遗憾。因此, 做好出游前的准备非常重要。当你花了很久的时间来筹划一次外出旅游的时候, 你当然不希望发生任何差错。如果你能提前做好相应的准备, 那么在你出门的那一刻就会从容不迫, 心中有数, 泰然自若了。

探究导引

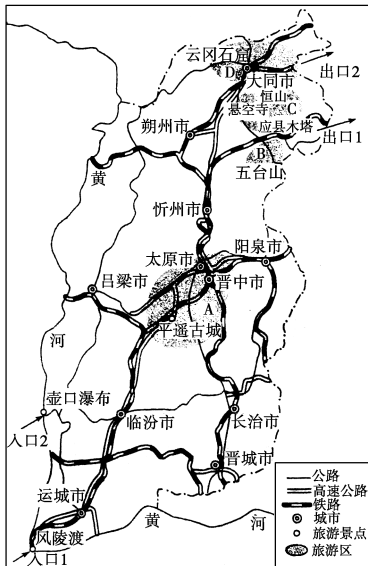
根据以上材料, 分析探究:
出游前需要做好哪些方面的准备?

探究之源

■ 出游前的准备

了解景观的主要特点	尽可能多地收集有关的自然地理、历史人文以及风土民情方面的资料
明确景观的文化定位	通过明确景观的文化定位, 提高自己的审美情趣

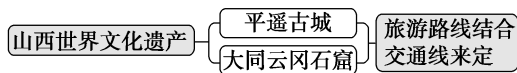
【例证】▶ 某个旅游团乘汽车或火车由陕西经山西去北京,途中欲在山西境内旅游。下图示意山西省部分旅游景点和旅游区。读图,回答下列问题。



(1) 山西省被列入《世界遗产名录》的世界文化遗产是_____、_____。

(2) 请设计一条既经济又便捷(不走重复路线)的旅游路线。要求由风陵渡或壶口进入山西并游览 A、B、C、D 四个旅游区,然后由出口 1 或出口 2 离开山西。

思维导图



答案 (1) 平遥古城 云冈石窟

(2) 路线 1: 由壶口瀑布→临汾→旅游区 A(平遥古城、太原等)→忻州→旅游区 B(五台山)→旅游区 C(恒山等)→旅游区 D(大同、云冈石窟等)→出口 2。
路线 2: 由风陵渡→运城→临汾→旅游区 A(平遥古城、太原等)→旅游区 D(大同、云冈石窟等)→旅游区 C(恒山等)→旅游区 B(五台山)→出口 1。

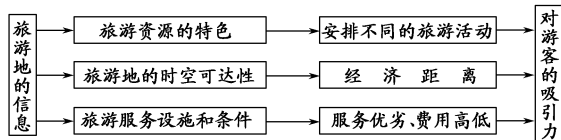
【练习】▶ 收集旅游信息,明确景观的文化定位是出游前必须做好的准备工作。据此回答(1)~(2)题。

- (1) 收集的旅游信息应包括下列选项中的 ()
- ① 旅游资源特色 ② 旅游地的时空可达性
③ 旅游服务设施和条件 ④ 大致的旅游费用
- A. ①③④ B. ①②③
C. ①②④ D. ①②③④

- (2) 北方风景区中的寺庙多建在山麓、山谷、山间小盆地的茂林之中,这是为了给游人一种 ()
- A. 挺拔高耸的感觉
B. 深山藏古寺的意境
C. 打破景观单调的感觉
D. 小巧素淡、闲情宁静的意境

旅游路线的选择	确定自己想去的地方,挑选所中意的旅游路线
考虑和选择出游方案	明确出游方式是选择旅游方案的前提。一般有两种选择:自主出游和跟团出游。如果是跟团出游,应根据出游目的选择旅行社和游览路线,并对旅行社的资质,尤其是接待能力和信誉进行认真考察

【拓展强化】 1. 旅游地的信息对旅游者旅游决策的影响。



2. 旅游线路的设计原则。

旅游线路设计必须考虑的基本因素有:旅游资源(旅游价值)、与旅游线路可达性密切相关的基础设施、旅游专用设施、旅游成本(费用、时间、距离)等。设计旅游线路时应遵循如下原则:

(1) 突出特色。

旅游线路设计是组织管理者的一种导向性安排,应该突出所设计线路的主题。旅游线路所串联的旅游区、景区或景点,既要各具特色,又要共同烘托一个主题。只有特色鲜明的旅游线路,才是一条成功的旅游线路。

(2) 讲究韵律。

旅游活动要有节奏感、韵律感。组织旅游活动既要使旅游者始终保持一定的兴奋度,又要做到有张有弛。

(3) “冷热”兼顾。

不同旅游者需要不同的旅游线路。设计旅游线路要从全局出发,做到“冷(不太知名、旅游者较少的点)热(著名、旅游者多的点)”兼顾。

(4) 发展创新。

旅游线路设计应体现创新精神,动态地反映旅游者的需求。旅游线路不是一成不变的,应该根据需要不断创新。

(5) 安全可靠。

旅游线路设计,一方面要保证旅游者的生命财产安全,使旅游者游得开心,玩得放心,走得舒心;另一方面要遵守旅游区的安全保护规定,避开军事禁区、保密设施等。

3. 出游前,了解旅游景观主要特点的方法

若了解一些著名旅游景观的主要特点,最好的办法是上网查询,快速方便。如黄山、泰山等景观。此外,平日多留心报纸杂志上的文章,多打听一些旅游者的亲身经历,将收集到的信息不断积累起来,然后概括归纳。

【误区警示】 认为外出旅游前,不用了解旅游地的景观特点,到达旅游地一看就知道了。

这种认识是不正确的。了解旅游地景观的主要特点是为了更好地安排旅游活动的过程,使旅游活动有条不紊、紧凑严密。此外,事先了解了旅游地景观的主要特点后,到达旅游地游览时得到印证,往往引起思想共鸣,得到深层次的享受。旅游者到达旅游地后,不可能长时间地停留在某处景观,也不可能到所有的景点游览,若不事先了解,可能导致漫无目的地游览,往往事倍功半。

五分钟小练习

练习,课堂及时巩固提升

一、选择题

“新疆地域辽阔,地大物博,山川壮丽,瀚海无垠,古迹遍地,民族众多,民俗奇异。在这广阔大地上,冰川雪岭与戈壁瀚海共生,高原山水景观蕴含在天山、阿尔泰山、昆仑山等世界名山之中,有着众多的雪域冰川、叠嶂雄峰、飞泉瀑布、珍奇异兽。天山南北,浩渺的河山瀚海,气势磅礴,变幻多姿。明镜般的高山湖泊映衬着一望无际的林海,沙漠边缘被戈壁割裂的绿洲,阡陌纵横,花果飘香,弦鼓传唱,充满诗情画意。”曲阜市的某同学深深地被网上的这段优美的描述所吸引。马上放暑假了,他打算去新疆旅游,且一定去爬天山。据此完成1~2题。

1.除了收集这个信息之外,该同学还需要收集的信息有 ()

- ①交通状况 ②景区特色 ③气候条件 ④旅游花费
A.①②③ B.②③④
C.①③④ D.①②④


2.该同学准备随身携带下列物品,你认为最不需要的是 ()

- A.足够的旅游费用 B.厚衣服
C.身份证 D.雨具

3.选择旅游路线时不需要考虑的是 ()

- A.尽可能选择最佳路径,以缩短旅途中花费的时间
B.尽可能避免重复路线
C.将沿途景点划分归类,尽量穿过不同性质的旅游景点
D.穿过尽量多的旅游景点

大连是一个依山傍海的城市,优美的海滨风光、独具特色的近现代建筑,吸引着成千上万的游客,旅游业已成为大连经济的支柱产业之一。据此回答4~5题。



美丽的大连

4.去大连旅游,要了解景观的主要特点为 ()

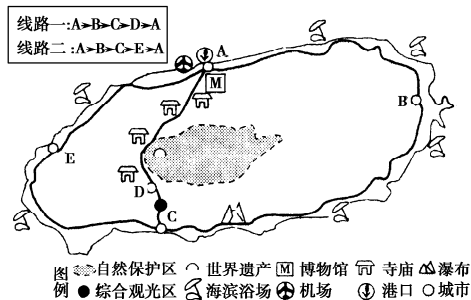
- ①夏季优越的自然条件 ②历史人文特点,如足球、时装等 ③风土、民俗特点 ④工程建设情况
A.①②③ B.②③④
C.①②④ D.①③④

5.关于大连的文化定位应突出 ()

- A.优美的时装文化
B.近现代建筑艺术
C.海滨城市“浪漫之都”
D.足球文化

二、综合题

6.位于亚热带季风区的某海岛是著名国际旅游目的地。岛上常住人口密集,大部分消费品需要依靠岛外补给,国际交通依赖航空,游客大多需要提前预订行程。下图为该岛的旅游景观分布示意图。读图,回答问题。



某国际旅游团到该岛进行一日游,在线路一和线路二中选择了线路一。运用旅游地理知识,分析线路一的优势。

教材活动指导

指导, 解答活动思维过程

教材 P₈₄ 活动

提示:(1)选择不同类别旅游路线的依据是旅游者的目的、旅游者的闲暇时间、旅游交通工具、旅游跨越的空间范围、旅游者的经济状况等。

(2)若从北京去四川广汉三星堆旅游,将会有多条路线供旅游者选择。如果直达,可选择乘飞机或火车去,由旅游者根据自己的闲暇时间多少来确定。如果途中或者游完三星堆后去其他地方游览,要根据旅游者的个人条件进行具体的选择。如若途中游览古城西安和成都杜甫草堂,要根据旅游者的个人条件进行具体的选择。如若途中游览古城西安和成都杜甫草堂,可选择北京—西安—成都的线路;游完三星堆后再去滇池,可选择北京—成都—昆明的路线。

(3)若旅游者本身在四川省,可选择你所喜欢的四川省内旅游路线,如“三国文化旅游路线:成都—广汉—德阳—绵阳—剑门蜀道”。当然,别忘了依据个人条件量力而行。

(4)到达旅游地后,还要选择具体的旅游路线。因为旅游地的旅游资源(或景点)不止一处。通常的做法是根据当地旅游部门提供的旅游资讯作出决定。

(5)假设你在上海市,去三星堆旅游,可以设计以下两条旅游路线供选择:上海—杭州—南昌—昆明—成都(含三星堆)或上海—武汉—重庆—成都(含三星堆)。

教材 P₈₅ 活动

提示:设计旅游活动方案,涉及许多方面。需要了解旅游者的个人情况,把握其兴趣、爱好及性格特点。此外,还要考虑出游者自身的经济承受能力和闲暇时间的限制。

(1)设计旅游活动方案,除了旅游者的经济、身体等条件外,可用的旅游时间是最现实的一个基础条件。一般而言,旅游者可以自由支配的时间越多,出游时间就越长,到达的旅游地就往往越远。因此,时间短的情况下在近处旅游,时间长的情况下到远处旅游。例如,北京人在元旦时可以选择游览故宫或八达岭长城,而在“十一”长假时可以选择游览泰山和华山等地。

(2)如果几个人利用假期结伴出游,不依靠旅行社,那么,就必须事先共同策划旅游计划,共同担当“领队、导游”的职责,并制订旅游活动的具体过程方案。

(3)经济条件的差异在很大程度上影响旅游者选择去什么地方旅游,以及旅游时间的长短和旅游过程中消费水平的高低。因此,在设计旅游活动方案时,要注意旅游经费预算和物质准备,要做到量力而“游”。

(4)若以7天假期为旅游活动时间设计活动方案,以汽车、火车为交通工具,那么,若出游者为济南人,则可以向东去青岛、烟台、威海一带旅游,观赏大海风光;向南可以去曲阜、泰安一带旅游,游览孔府、孔庙、孔林,登泰山观日出等。但若去西藏或新疆,南下广州,则不太合适,因为路途太远,来回乘车时间过长,完不成旅游计划。

提示 课后完成《课时作业》第 113 页

第三节 旅游常识和导游基础知识

情景导入



情趣阅读 探源知新

2016年3月28日下午,河南省新郑市公安局接到当地群众报警:青岗庙水库疑似有人溺水。千户寨派出所民警立即赶往现场,据目击者称,当天下午刮大风,有3个二三十岁的男青年结伴到水库游玩。其中一人下水后就不见了,其余两人等了一会儿仍不见人上来,便急忙收拾东西驾车离去。

尝试探究:此案例表明外出游玩应注意什么事项?

提示:结伴出游,要有团队精神;学会在野外活动中自我保护。

目标导航

了解

作为一个导游必备的基本条件。

掌握

外出旅游的基本常识。

应用

结合实例,综合考虑旅游地的地形、气候、水文条件与旅游安全的关系,并采取相应的安全防范措施。

课前自主学习

自主,新课标理念的精髓

基础梳理

一、旅游常识

- 1.结伴出游,要有_____,即甘苦与共、互谅互助。
- 2.学会在野外活动中_____
 - (1)野外活动中的自我保护主要涉及_____、气象、_____等方面。
 - (2)气象方面主要是防御_____、_____等。
- 3.要善于_____。

二、导游基础知识

- 1.了解景区,熟悉各方面的情况,包括地形、_____、环境、_____、历史、文化、_____等。
- 2.尊重_____,配合领队和“全陪”工作。导游的岗位和职责是为_____。
- 3.注意形象,以_____为主要原则。
- 4.一视同仁,凡事_____。
- 5.丰富_____,善解人意。
- 6.加强_____,善始善终。

图表解读

教材 P₈₇ 图 4-7“热带海滨”

旅游活动应有“地理眼”

提示:同样的景观,在不同的人眼中,看出不同的风景。作为地理学习者,图中的“热带海滨”,我们不仅要看到蓝天、白云和碧水,还要看到独具特色的热带植物景观、曲折多变海岸线、充满活力的海滩浴场(想象着赤脚漫步细沙,亲吻平潮清澈的海水……),再进一步还要看到海岸花岗岩体中怪石嶙峋、景观奇特的海蚀地貌……总之,我们要站在地理环境整体性的角度去欣赏与分析眼前的景观,用心去品味景区内地形、气候、水文、土壤及植被等自然地理要素之间的关联,感悟作为万物之灵的人类与自然的和谐统一的境界。

课堂合作探究

探究,解读重疑难点知识

探究点 1 旅游常识

出外旅游,有时难免会出现一些紧急情况,这时,不要慌张,只要掌握一些应急措施,可帮助你战胜困难。

乘船有时具有一定的危险性,因此,在乘船前要知道如何找到救生工具;如果你在野外被蛇或虫咬伤,要迅速用布条、手帕、领带等物将伤口上部扎紧,并迅速到附近的医院就医。

如果在登山或做一些运动项目时摔伤,首先不要随意搬动伤员,因为如果伤及脊椎或骨折,随意搬动很容易出现意外,这时应将伤员放在一副平坦而坚固的担架上固定,不让伤员的身子晃动,然后再送往医院。

|| 探究导引 ||

根据以上材料,分析探究:
外出旅游的基本常识有哪些?

【例证 1】▶ 阅读下列材料,回答问题。

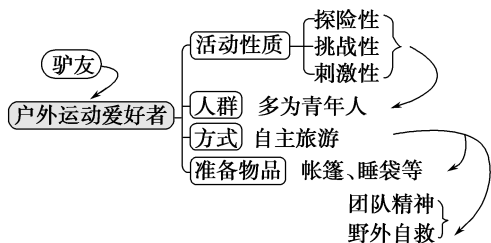
“驴友”的由来

“驴友”一词源自网络。“驴友”最初由新浪旅游论坛传出,是旅游的“旅”的谐音,泛指参加旅游自助游的朋友。但现在更多地是指背包客,就是那种背着背包,带着帐篷、睡袋,穿越、宿营的户外爱好者。简单地说,“驴友”就是户外运动的爱好者。

目前,在我国开展的主要户外运动包括远足、穿越、登山、攀岩、漂流、越野山地车等。这些属于“驴友”的运动中多数带有探险性,属于极限和亚极限运动,有很大的挑战性和刺激性。因为它可以拥抱自然,挑战自我,锻炼意志以及团队合作精神,提高野外生存能力,所以深受青年人的喜爱。

- (1)由材料可看出,“驴友”的成员多是_____人。从他们出游的方式来看,主要是_____出游,出游准备的物品主要是_____和_____等。
- (2)“驴友”出游应该具备哪些主要的旅游常识?
- (3)“驴友”的这种活动对“驴友”成员自身有哪些积极意义?
- (4)若“驴友”在野外迷路,应该如何辨别方向?

思维导图



- 答案 (1)青年 自主 帐篷 睡袋
- (2)要有团队精神,学会在野外活动中自我保护,要善于社会交往。
 - (3)能够拥抱自然,挑战自我,锻炼意志以及团队合作精神,提高野外生存能力。
 - (4)①可以找到一棵树桩观察其年轮,年轮宽面指示南方;
②找到一棵树,其南侧枝叶茂盛,北侧枝叶稀疏;
③观察蚂蚁的洞穴,洞口大都是朝南的;
④在岩石众多的地方,你也可以找一处块醒目的岩石来观察,岩石上布满青苔的一面是北侧,干燥光秃的一面为南侧;
⑤还可以利用手表来辨别方向:一般来说,在北半球中高纬度地区,把手表放平,让时针对准太阳,时针和表盘上 12 点之间夹角的平分线所指的方向,大致就是南方。

|| 探究之源 ||

1. 旅游常识

结伴出游,要有团队精神	甘苦与共、互谅互助。出游前,团队应该准备一些有用的工具,如通信工具、小药箱、指南针、旅游地图等
学会在野外活动中自我保护	登山行路:不要随意从没有道路的地方登山;遇到有活动石头的山路,前后人之间保持适当的距离,不要紧跟在正后面,以防滚石伤人
	气象:雷雨天气要避开孤立的山包、大树等易被雷击的地方;要尽快避开山洪可能经过的地方
要善于社会交往	生物:不随便品尝不认识的野果,不随意触摸不知属性的植物;在血吸虫疫区,应避免接触天然水体
	不轻信不熟悉的人,不随意接受别人送给的食品和饮料。对境外游人保持不卑不亢的态度,遇到难以解决的问题,要使用通信工具及时向有关部门反映和求助

【误区警示】认为单独旅游机动灵活,不受束缚,应大力提倡。

这种认识不正确。一般情况下,不提倡单独旅游。尽管单独旅游有机动灵活、随心所欲的优点,但一旦有危险,缺少别人照料和救助,难以做到旅游安全。而结伴旅游虽然“众口难调”,但可以发挥团队精神,在一个人遇到紧急危险的情况下,能够得到及时的救助,从而做到旅游安全。

【知识引申】海边旅游常识

要备好太阳镜、游泳衣、太阳帽、沙滩裤、T恤、拖鞋、凉鞋、防晒霜等物品。妥善保管个人物品和财物。贵重物品最好放置在酒店的保险箱,注意保管好收据。

下海游泳水温在 27℃ 时为最佳,一般 21℃ 以上即可下水。为确保安全,进入海水浴场区域后,不要进入深水区域,特别不要靠近鲨鱼网。不熟悉水性者,应在熟悉水性者的带领下游泳,切勿独自下水。携带儿童的游客,参加水上活动时应照顾好自己的孩子,不要让他们独自活动。

游泳结束一小时内最好不要饮用白酒、不食用海

【练习1】▶关于登山旅游时注意问题的叙述,不正确的是 ()

- A. 不要随意从没有道路的地方登山
- B. 遇到有活动石头的山路,后面的人与前面的人要保持适当的距离
- C. 遇到有活动石头的山路,后面的人要紧跟着前面的人
- D. 登山时不要穿高跟鞋

鲜等刺激性食物,应多吃水果、蔬菜,多喝水。在海边品尝海鲜大餐时应注意食品卫生,不吃不洁净食物。在食用海鲜时,应以蒜、姜汁、醋佐食,以起到杀菌消毒的作用;吃海鲜时,忌饮用冰镇啤酒、冰饮料。

探究点2 导游基础知识

为扩大安徽省霍山县导游队伍,提升导游服务质量,缓解县内导游人才匮乏的现状。2017年4月10—12日,由霍山县旅游局主办的2017年度导游培训班成功举办。本次培训采用理论知识讲解与现场观摩教学相结合的方式。邀请安徽省旅游学校骨干教师王屿、全国优秀导游员邬玲玲、县委党校副校长姜文峰分别就导游基础业务知识和规范、政务讲解礼仪规范和技巧、霍山旅游概况为学员们做了培训。培训结束后,县旅游局还组织了面试考核。

探究导引

根据以上材料,分析探究:

作为一个导游,必备的基本条件有哪些?

探究之源

2. 导游基础知识

- (1) 了解景区,熟悉各方面的情况。
- (2) 尊重游客,配合领队和“全陪”工作:尊重游客的意见和选择,做好为游客服务的工作。
- (3) 注意形象,以诚信为主要原则:待人诚信是做好导游工作的前提。热情周到是搞好服务的基本要求,办不到的事情不要轻易许诺。
- (4) 一视同仁,凡事讲究分寸。
- (5) 丰富自我,善解人意。
- (6) 加强联系,善始善终:与住宿点、购票处、车队和司机、旅游点接待部门等保持畅通的联系,以便为游客做好各种服务工作。

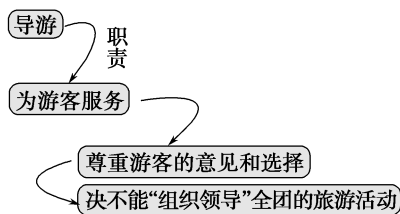
【例证2】▶下列关于导游基础知识的叙述,不正确的是 ()

- A. 导游应对景区的地形、区位环境、生态、历史、文化、风俗民情等娴熟于心
- B. 尊重游客,组织领导全团的旅游活动
- C. 注意形象,以诚信为主要原则
- D. 要学习一些心理学的常识,做到善解人意

【拓展延伸】导游应具备的技能

- (1) 与游客打交道的技能。善于交际、观察、照顾人,分析游客的消费心理,多给游客一些情感上的关怀,让游客的旅程更加轻松、愉快,获得身心的满足。
- (2) 组织和说服游客的技能。与游客建立伙伴关系,学会引导、说服游客。
- (3) 运用有声和无声语言的技能。和游客说话,要用柔性的语言,措辞委婉,语调柔和,语气亲切,面带微笑,这样往往能达到以柔克刚的效果。
- (4) 观察游客心理变化的技能。游客一开始的心理是求新、求异、求安全,这时候导游应该多组织些轻松愉快的参观游览活动,以满足游客的心理。随着旅游的进展,游客经常会提一些不友好的、挑衅性的问题,导游在这一阶段的工

思维导图



答案 B

【练习2】▶阅读下列材料,回答问题。

材料一 一个60人的旅游团队在当日游完北京最后一个景点天安门广场之后,次日准备飞往桂林。也许是天安门的英姿吸引了游客,晚上清点人数时发现有一位日本游客走失,这可急坏了团队的“全陪”。“全陪”让团队在长城饭店住下之后,迅速通知了饭店值班经理和旅行社经理,并与国际饭店团队联络,以期获得游客求助的信息。此时,该游客发现自己脱离队伍也急坏了,幸好找到一家贵宾楼饭店,饭店主管经理依据经验,与几家经常接待日本团队的酒店联系,

几经周折,终于有了音讯。该团队在得知游客的消息后,迅速前去迎接,并向游客深深地道歉,同时向积极提供帮助的人致以谢意。

材料二 陕西“青旅”每年暑假都要搞一次青少年夏令营,参加者均为在校中小學生。2013年暑假期间,陕西“青旅”接待了一个成都团,共86人,组织西安—延安六日游。按照行程安排,在延安停留两天,主要活动包括听老红军作报告,参观王家坪、杨家岭等革命纪念地。第一天早上,参观延安革命纪念馆,并举行开营仪式,为时3个半小时。回驻地后清查人数,人们发现少了一个小男生,老师及“地陪”全慌了,大家分头去找。结果当地一位好心的老太太把孩子收留了近两小时,最后被“地陪”找到,小孩并未有人身损伤或不正常现象,但回驻地后却不吭声,此后小孩心理状态不佳。在结账时,成都“青旅”就此事提出索赔,理由是该事故对小孩造成了负面影响及心理负担。因为该事故属延安当地导游的失职,陕西“青旅”赔偿人民币258元,即免去了小男生在延安的一切费用。

(1)据材料一、二,说出团队旅游往往容易出现的一大事故是_____。因此,团队出游就要有_____的团队精神。

(2)材料一中,由于导游人员处理合理,给游客留下了美好的印象。这里的“全陪”及导游人员成功的秘诀在于_____。

(3)材料二中的“小男生”与材料一中“走失的日本游客”有区别,这种区别主要是_____。

(4)材料二中导游和领队老师在“小男生”出现心理异常时,需要做好_____等工作。

作最为艰巨,应根据游客的心理变化做好心理疏导工作。

(5)激发游客游兴的技能。旅游,一定要有游兴才会觉得有所收获,导游在服务中一定要学会激发游客的游兴,让游客有不虚此行的感觉。

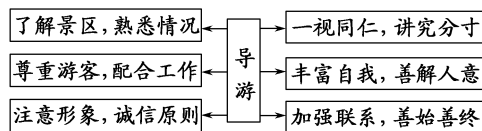
【巧学速记】1.如何了解景区的基本情况?

景区内的基本情况包括地形、区位、环境、生态、历史、文化、民俗风情等,地形、区位、环境、生态这些自然方面的情况要亲临其境地去了解,这是第一手材料;历史、文化、民俗风情要借助于有关介绍当地情况的书籍来了解。此外,也可向当地旅游部门询问或上网查询。总之,要通过多种渠道全面了解,并熟记于心。

利用框图法记忆导游工作的基础:



2.利用八字句巧记导游基础知识



五分钟小练习

练习,课堂及时巩固提升

一、选择题

现在外出旅游已经成为一种文化休闲活动和时尚。据此回答1~2题。

1.结伴出游时团队应准备的物品有 ()

- ①通信工具 ②应对重大事故的医疗器械 ③指南针
④旅游地图

A.①②③ B.①③④

C.②③④ D.①②④

2.随着青藏铁路的通车,“进藏游”已渐渐兴起,进藏旅游的人应带的必要的安全防范物品有 ()

- ①防缺氧的氧气袋 ②防高原反应的药品 ③防强紫外线的太阳幅、墨镜 ④防暴雨的雨衣

A.①②③ B.①②④

C.②③④ D.①③④

3.关于“地陪”,下列说法不正确的是 ()

- A.“地陪”是指旅游地的导游和旅游陪同人员
B.“地陪”的职责是为游客服务,尊重游客的意见和选择
C.“地陪”只能扮演领队的角色

D.“地陪”只能扮演“参谋”的角色

结合所学知识,完成4~5题。

4.导游要充分把握的景区的基本情况有 ()

- ①地形 ②区位 ③环境 ④生态 ⑤历史 ⑥文化
⑦风俗民情 ⑧行政区划

A.①②③④⑤⑥⑦ B.①②③④⑧

C.④⑤⑥⑦⑧ D.①②⑤⑦⑧

5.作为导游,岗位职责是 ()

- A.游客的领队 B.为游客服务
C.游客的全陪 D.以上均不对

二、综合题

6.阅读材料,完成下列问题。

材料 一位多次去过西藏的朋友介绍他的旅游经验:最好的季节是每年的8—10月;携带物品的原则是轻便、实用,如墨镜、遮阳帽和防晒霜等小而必备的物品;衣物中,最好带上鸭绒服和防水服等;心、肺、脑和血液系统疾病患者不宜进入高原;最好携带吸氧用具等。

(1)西藏旅游的国内客源主要来自北京、上海和广州等大城市,试分析其原因。

帽和防晒霜等小而必备的物品;衣物中,最好带上鸭绒服和防水服等”。针对这两项建议,试分析其地理背景。

(2)材料中说“携带物品的原则是轻便、实用,如墨镜、遮阳

教材活动指导

指导,解答活动思维过程

教材 P₈₈ 活动

提示:本活动的题目是“模拟做一次小导游”,即制订出导游活动的方案。按题目要求,该导游为“一日游”导游,要设计“一日游”的两条路线,一条为主路线,一条为备用路线。设计备用路线的目的是一旦主路线因故不通,便可启用备用路线,以免耽误游客旅游。

①旅游路线的设计:首先向游客介绍景区内的主要景点,然后征求游客的意见,确定游客将要游览的景点。再按“一日游”的时间要求,设计出行之有效的主路线和备用路线。注意路线的近距离原则,但又不能漏掉主要景点。何处步行、何处乘车(或船)、何处借助于索道,都要考虑到。

②导游提纲的准备:提纲内容包括游览的主要景点,各主要景点的讲解内容,参加的活动(如民俗活动)等,要切实突出地方特色,并且具有丰富的历史文化内涵和知识内涵。

③实施计划的撰写:即在导游提纲的基础上,按设计的旅游路线,由先到后地写出详细周密的实施过程计划。一定要注意行之有效、切实可行。每处景点逗留的时间长短、讲解的内容多少等都要计算严密,以确保在一日内完成旅游活动。

④开列出可能遇到的特殊情况及其应对措施的准备:根据旅游地的具体情况进行开列。假若夏季在我国南方的山区旅游,可开列下列情况:突遇暴雨怎么办?在山谷中遇雨后如何避开泥石流?汽车在旅行中抛锚怎么办?有人晕车很厉害怎么办?有人得了急性痢疾怎么办?有人被滚石砸伤怎么办?有人失足落水怎么办?……

提示 课后完成《课时作业》第 115 页

第四节 旅游安全

情景导入



情趣阅读 探源知新

央广网海口 2017 年 4 月 28 日消息 “五一”假期将至,4 月 28 日下午,海口市举办 2017 旅行社和景区行业旅游安全管理培训。培训现场主要围绕海口市各旅行社、景区安全生产、风险防范,以及接待老年游客注意事项,旅游标准化在旅行社景区安全工作中的应用等议题进行专项培训。

尝试探究:从景区管理者的角度去分析,如何加强旅游安全防护?

提示:实施景点安全生产责任制,建立节日应急预案,设立安全警示标志设施,加强防护栏安全性等。

目标导航

了解

影响旅游安全的因素。

掌握

旅游安全的防范措施。

应用

运用所学知识,达到野外生存、自救与他人救的基本要求。

课前自主学习

自主, 新课标理念的精髓

基础梳理

一、影响旅游安全的因素

- _____与旅游安全:旅游过程中应注意山路上的_____,低洼地的_____,地质灾害中的_____,滑坡等。
- _____与旅游安全。
- _____与旅游安全:旅行中不搭乘_____的车辆和_____车辆。
- _____与旅游安全。
- _____与旅游安全:关注旅行社的_____与_____。

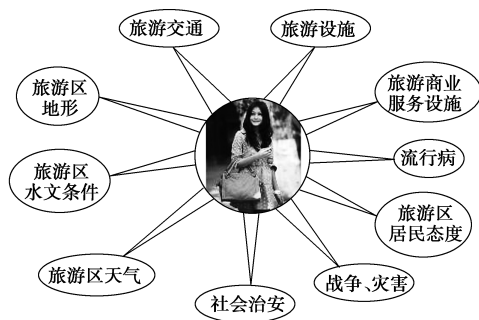
二、旅游安全防范措施

- 注意_____、食品卫生安全和当地_____。
 - 努力提高_____,设法免除游客的后顾之忧。
 - 加强_____和_____,杜绝各种事故的发生。
- 外出旅游_____

旅游保险大致分三类:

 - 旅游救助保障。
 - _____。
 - 财物损失保障。
- 加强自我_____和_____。
 - 了解所到地区的卫生条件和_____。
 - 考虑旅游时的_____。
 - 考虑旅游时的_____和_____。
 - 根据自己和团队成员的身体状况准备_____。

图表解读



此图形象地表示了影响旅游安全的主要因素。在旅游活动开始之前就必须对旅游安全有充分的把握与考虑,做到防患于未然。旅游安全是保证旅游目的实现的重要因素。

利用顺口溜巧记旅游中的自我医保环境不同病不同,预防药物放包中。北方游客到南方,要防肠道传染病。南方游客到北方,要防呼吸道疾病。夏季出游要防暑,更要预防肠道病。冬季出游要保暖,预防感冒和头痛。久乘飞机与车船,预防晕车不放松。有病史者要当心,对症下药去旅游。

课堂合作探究

探究, 解读重疑难点知识

探究点 1 影响旅游安全的因素

2017年3月3日人民网报道 一女孩在重庆游乐园游玩时被甩出座椅致死;丽江束河古镇茶马古道惊马事故致游客重伤。近期,旅游安全事故频繁出现在新闻报道中,旅游安全问题成为人们关注的热点话题。旅游安全无小事。旅游安全事故是社会事故在旅游行业一部分,它具有特殊性和一般性。要确保旅游安全,需要追根溯源,探究旅游安全事故发生的深层原因。

探究导引

根据以上材料,分析探究:
影响旅游安全的因素有哪些?

探究之源

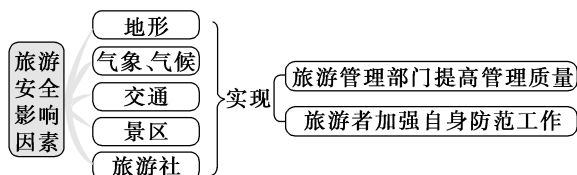
1. 影响旅游安全的因素

地形	在山路上行走时,必须注意滚石、陡坎。在雨季遇到低洼地时,则应查明当地是否有沼泽地,绝不能涉险。还要特别注意到地形与地质灾害的关系
气象、气候	天气不仅能够引发地质灾害,而且恶劣天气本身也会直接影响旅游活动的进行,甚至导致人身伤害事件

【例证 1】随着社会的发展,人们外出旅游的机会不断增多,但同时旅游安全问题也更加突出。结合所学知识,回答(1)~(3)题。

- (1)下列有关旅游安全的说法,正确的是 ()
- A.旅游安全就是保证旅游者在旅游过程中的人身和财产安全
B.旅游安全问题主要是旅游者的责任
C.旅游安全事故产生的原因主要是旅游者无意识的行为
D.旅游过程中偶发性的疾病不属于旅游安全问题
- (2)以下说法中,属于影响旅游安全的重要因素有 ()
- ①交通事故 ②爆炸事件 ③自然灾害 ④水土不服 ⑤战争
- A.①②③④ B.②③④⑤
C.①②④⑤ D.①②③④⑤
- (3)旅游安全事故产生的原因不包括 ()
- A.对旅游环境的不安全因素缺乏认识
B.旅游者自身的不安全行为
C.社会文化背景对旅游环境的影响
D.旅游者自身的安全意识强烈

思维导图



答案 (1)A (2)D (3)D

【练习 1】旅游安全是影响旅游活动的重要因素。据此回答(1)~(2)题。

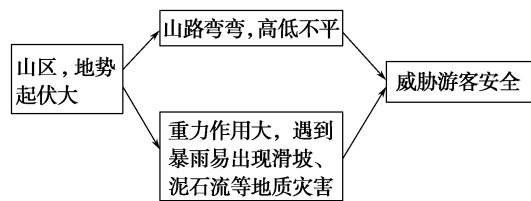
- (1)在旅游中常常遇到旅游安全的问题,影响旅游安全的因素有 ()
- A.旅游地的地形、气候、水文等自然环境条件
B.旅游硬件设施情况
C.社会文化环境
D.以上都包括
- (2)关于旅游安全的叙述,正确的有 ()
- ①旅游安全是保证旅游目的实现的重要因素 ②在旅游活动过后,对旅游安全进行总结 ③在旅游过程中,不需要考虑旅游安全 ④在旅游活动开始之前,需要考虑旅游安全问题,做到防患于未然
- A.①② B.②③
C.①③ D.①④

续表

交通	交通安全对于旅游过程的顺利完成具有举足轻重的作用。出行中不要搭乘不合格的车辆和超载车辆
景区	景区的旅游安全问题主要是管理者的责任,但旅游者也不应该忽视。旅游景区安全包括景点和饭店的消防、安全、卫生,对索道、景点护栏、旅游通道以及娱乐设施的检查与维护,旅游景区商业网点及个体摊位的市场秩序整治,特别是各类公共突发事件的应对措施等
旅行社	在选择旅行社时,必须特别关注旅行社的资质与服务质量

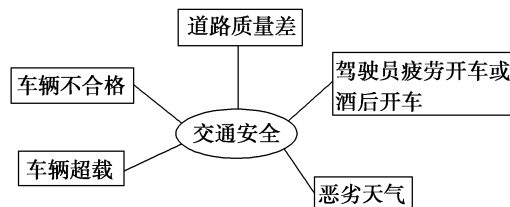
【方法技巧】 1.地形与旅游安全

我国的地形复杂多样,山区面积广大,一方面为旅游者提供了丰富多样的旅游资源,另一方面也影响着旅游者的旅游安全。



2.交通与旅游安全

影响旅游交通安全的因素:



3.分析影响旅游安全因素的技巧

旅游业是服务性行业,具有综合性特点。因此,影响旅游活动的因素很多,这些因素都不同程度地影响着旅游安全。分析影响旅游活动的安全因素,应从自然环境因素(地形、气候、河流、水文等)和社会环境因素(交通、治安、政治形势、设施等)两大方面来考虑。

探究点 2 旅游安全防范措施

为进一步加强 2017 年春节假期旅游各项工作,确保省内外游客在福建度过一个欢乐祥和的新春佳节,乐享“清新福建”,福建省旅游产业发展工作联席会议于 2017 年 1 月 17 日至 20 日牵头组织省旅游局、公安厅、工商局、安监局、食药局和物价局等部门,对旅游企业安全生产、地质灾害隐患整改、旅游应急疏散分流预案编制、旅游安全教育培训、企业旅游安全评估、旅游标准化创建,以及消防安全、食品安全、景区收费落实情况等进行了督查。

II 探究导引 II

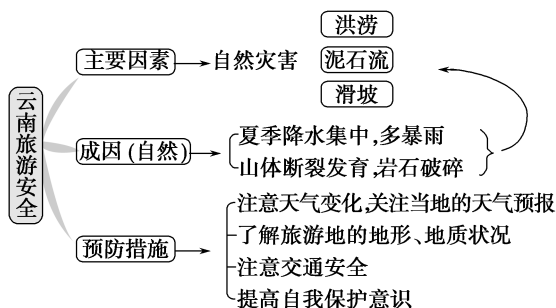
根据以上材料,分析探究:
旅游安全防范措施有哪些?

【例证 2】▶ 云南位于我国的西南边疆,是我国少数民族最多的省份,成为民俗风情的大观园。境内地势高低悬殊,气候类型多样,山川河谷相间,形成许多著名的旅游景观,如路南石林、西双版纳的热带风光、湖面广阔的滇池等。读图,回答下列问题。



- (1)在雨季,云南有可能会发生哪些旅游安全问题?
- (2)引发旅游安全问题的自然原因有哪些?
- (3)如果你准备在暑期去云南旅游,你会采取哪些措施来预防这些问题的发生?

思维导图



答案 (1)洪涝、滑坡、泥石流等灾害引发交通安全、游客的人身安全和财产损失等。

- (2)夏季,降水集中且多暴雨;山体多断裂发育,造成岩石破碎,风化严重。
- (3)留意天气变化,注意当地的天气预报;了解旅游地的地形、地质状况;注意交通安全;提高自我保护意识。

【练习 2】▶ 阅读下列材料,回答问题。

材料一 在某旅行社组织王某等 10 人去华山游览的过程中,王某认为旅行社避险就安,一些好景点没有看上,便主动提出终止与旅行社的合作,自行

II 探究之源 II

■ 旅游安全防范措施

注意交通安全、食品卫生安全和当地治安安全	努力提高服务水平,设法免除游客的后顾之忧;加强行业管理和综合治理,杜绝各种事故的发生
外出旅游购买保险	出门在外,多种风险显著增加,难免碰上意外
加强自我医疗保护和防范意识	了解所到地区的卫生条件和环境特点,考虑旅游时的季节,考虑旅游时的交通工具和旅行方式,根据自己 and 团队成员的身体状况准备药品

【思维拓展】 旅游中应注意的一些安全细节问题

- (1)搭乘飞机时,应注意飞行安全,扣好安全带,不带危险品或易燃品,不在飞机升降期间使用移动电话等相关电子用品。
- (2)贵重物品要放在酒店的保险箱内,如随身携带,要注意保管,切勿离手。
- (3)出入酒店房间要随手关门,勿在床上抽烟,听到火警铃响,要由紧急出口迅速离开,切勿搭乘电梯。
- (4)搭乘快艇、漂流木筏时,要按规定穿好救生衣,并遵照工作人员的指导。
- (5)海边戏水,不要超越安全警戒线,不熟悉水性者,切勿独自下水。
- (6)行程中或自由活动若看到有刺激性活动项目,身体状况不佳者尽量不要参加。患有心脏病、肺病、哮喘病、高血压者切忌从事水上、高空运动。
- (7)搭车时不要任意更换座位,头、手勿伸出窗外,上下车时要注意来车方向,以免发生危险。

登山游览。后来,王某因不慎跌入山谷摔伤,便找旅行社帮助解决意外保险索赔(游览前旅行社已给旅游者投保),但旅行社声称已不负责任。

材料二 某旅游团坐着汽车公司的大客车行驶在崎岖不平的山路上,当行驶至一处急弯时,司机并未放慢速度,导致转弯时车碰到崖壁上,靠在窗口的一位游客头部撞伤,因医治无效,致使右脸面部神经麻痹。据查,在山路行驶时,路况极差,车体抖动厉害,车上导游人员并未有任何警示言语和采取必要的措施(如让司机减慢行车速度)。事后,该游客向旅行社索赔,旅行社只付部分保险金,认为该伤害主要由司机引起,旅行社不承担责任。该游客于是向质监所投诉,要求用质量保证金进行赔偿。同时,该游客又向司机所属的汽车公司进行索赔。

(1)材料一中提及“旅行社声称已不负责任”,你认为旅行社的这种做法对吗?请说明理由。

(2)材料二中,导游人员在工作中存在哪些失误?

(3)材料二中,受伤游客向司机所在的单位和旅行社提出索赔要求,你认为合理吗?

(8)搭乘缆车时,要依顺序上下,听从工作人员指挥。

(9)在雪地、陡峭山路行走,要小心谨慎。

(10)团体旅行时不可擅自离队,必要时要求征得导游同意,并随身携带所住宿饭店的地址、电话,以免发生意外。

(11)抵达景区游览前,要牢记导游交代的集中地点、时间、所乘游览巴士的车号。万一脱团,要在集中地点等候导游返回寻找。

(12)外出旅行,要注意身体健康,切勿吃生食、生海鲜,要多喝开水,多吃蔬菜和水果,少抽烟,少喝酒。

(13)夜间或自由活动时间自行外出,要告知导游或团友,应特别注意安全。

(14)切勿在公共场所露财,购物时也勿当众数钞票。

(15)每次退房前,要检查所携带的行李物品,特别要注意证件和贵重财物。

五分钟小练习

练习,课堂及时巩固提升

一、选择题

1.野外活动自我保护的正确做法有 ()

- ①在山上遇雨时赶紧打开雨伞 ②到大树下躲避风雨
③不随便品尝野菜 ④结伴旅游,在登山时保持适当的距离

- A.①② B.③④
C.①③ D.②④

2.关于旅游安全的正确说法是 ()

- A.首先是旅游过程中的交通安全
B.夏季在山地旅游时,必须提高对地震、火山爆发等自然灾害的防范意识
C.住宿地不会发生安全问题
D.外出旅游不要带衣服及用品,以免旅途劳累

2014年10月14日,一场多年不遇的暴风雪袭击了喜马拉雅山地区,12小时内积雪厚度达1.8米。暴风雪引发雪崩,导致43名登山客和向导遇难,另有数十人失踪。据此回答3~4题。

3.造成此次登山探险安全事故的主要因素是 ()

- A.交通事故 B.疾病
C.自然灾害 D.社会动荡

4.此次事故,提醒我们确保旅游安全的关键是 ()

- A.增强安全意识 B.加强预防和管理
C.做好自我防范 D.快速处理旅游安全事故

5.在旅游过程中可能会出现一些意外事故,对此我们要采取一些应急措施。如出现食物中毒现象,我们应该采取的措施是 ()

- A.利用身体自身的免疫力,任其自然
B.多喝些饮料或盐水
C.多吃食物,降低毒性
D.尽量少运动,降低血液循环

二、综合题

6.由于许多外地游客不熟悉钱江湖的脾气,每年都有潮水“吃”人的事故发生。因此,需要再三提醒的是,大家千万不要贸然下江堤,尤其是夜潮不易察觉,危险性更大。一般来说,遇难者大都是外地人。游客一定要注意安全。阅读下图,回答问题。



(1) 钱塘潮被称为“天下第一潮”，试分析其形成原因。

(3) 从安全的角度考虑，欣赏钱塘江大潮适宜 ()

A. 选择合适的位置

B. 选择观察时机

C. 抓住景观特点

D. 以情观景

(4) 你认为当地政府应该采取什么措施来防止类似事件的发生？

(2) 影响旅游安全的主要因素有哪些？钱塘江潮水卷人事件主要是受哪个因素的影响？

教材活动指导

指导，解答活动思维过程

教材 P₉₁ 活动

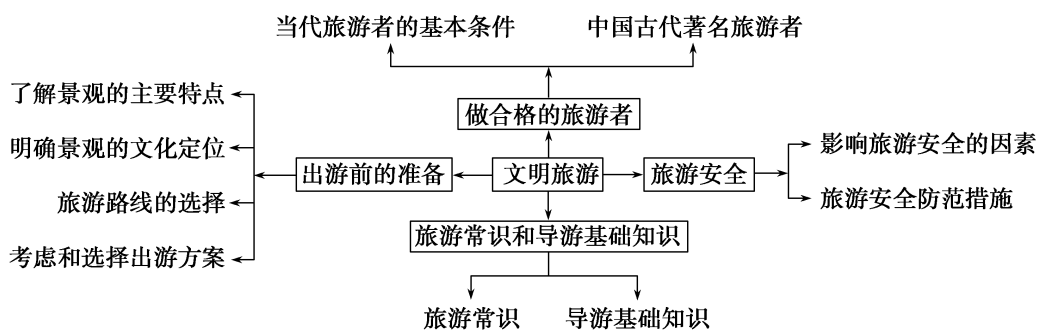
提示：本活动提供的“影响旅游安全的主要因素”图中仅列出了“气候、地形、交通、水文”四个因素。除了这四个主要

因素外，影响旅游安全的主要因素还有：旅游设施状况、景区社会安全状况、旅游地居民态度、战争、流行病（如禽流感）、旅游商业服务设施状况等。

提示 课后完成《课时作业》第 117 页

本章归纳整合

知识构建



专题整合

专题 ■ 生态旅游

1. 生态旅游的特点及功能

生态旅游以认识自然、保护生态环境为特点,具有观光、度假、休闲、科考、探险和科普教育等多种功能。

2. 生态旅游的内涵

生态旅游作为一种专项旅游形式,是以生态学观点和可持续发展思想为指导,以自然生态环境和相关文化区域为场所,为体验、了解、欣赏、研究自然和文化而开展的一种对环境负有真正保护责任的旅游活动。

生态旅游的内涵强调的是对自然景观的保护,是可持续发展的旅游。生态旅游不应以牺牲环境为代价,应与自然和谐发展,并且必须使当代人享受旅游的自然景观与文化景观的机会与后代人平等。

3. 做一个生态旅游者

生态旅游的对象不仅包括自然景观,而且包括与自然和谐的文化景观。只要以了解当地的文化与自然知识为旅游目的,并能够自觉地保护和珍视旅游资源与环境,每个人都可以成为生态旅游者。


表解对文明旅游者的要求

要求	文明行为	要求理由
遵守法律法规	在遵守现有的法律法规的前提下,在途经地区和旅游地进行旅游活动,不得有任何违法行为	遵纪守法是公民应尽的责任和义务
爱护旅游资源,维护旅游环境	以高度的责任心,自觉地保护旅游资源与环境。不乱刻乱画,不攀折花草树木,不乱丢垃圾等	旅游资源和环境是人类宝贵的财富,只有精心保护,才能促进旅游的可持续发展
尊重旅游地的文化习俗	充分理解、尊重当地的宗教信仰和民俗习惯,体验并维护当地的文化特色,不得有任何伤害当地人民感情、贬低和破坏当地文化的言行	旅游是一种探求感受异地文化的过程

续表

要求	文明行为	要求理由
讲究文明礼貌, 注意旅游安全	尊重同行的其他旅游者及旅游接待服务人员, 要有旅游安全防范意识, 注意维护自身的消费权益, 保障自己与他人的的人身、财产安全	做文明公民、人人平等

【例】▶ 读下面的旅游漫画, 回答问题。



(1) 四幅漫画各揭示了旅游中的哪些不良行为?

① _____; ② _____; ③ _____; ④ _____。

(2) 旅游者应遵守的旅游要求有哪些?

(3) 下列有关文明旅游的叙述中, 不正确的是 ()

- A. 文明旅游应贯穿于旅游的全过程
 B. 旅游时尊重地方习俗也属于文明礼貌的要求
 C. 文明旅游不仅要注意个人礼貌, 还要注意旅游安全
 D. 文明旅游可有可无, 只要尽兴就好

解析 本题考查不合理的旅游行为的表现及危害。

第(1)题, 读图并分析各图中的不文明行为。

第(2)题, 结合教材内容及实际旅游活动回答。

第(3)题, 文明旅游十分必要, 既可获得愉悦的收益, 又可保护旅游资源和环境, 促进社会经济发展。

答案 (1) 破坏文物 不讲文明礼貌和公共道德 破坏宾馆设施 随地乱扔果皮

(2) 遵守法律法规, 爱护旅游资源, 维护旅游环境, 尊重旅游地的文化习俗, 讲究文明礼貌, 注意旅游安全。

(3) D

提示 课后完成《自主检测》第 119 页

